



صوب الهدف

معاً نتعلم لأجل الإمارات

دوران الأرض حول نفسها هو


المحور



الدوران المحوري



المدار



السؤال
التالي

سبب تعاقب الليل والنهار

دوران الأرض حول الشمس



ميل محور الأرض



دوران الأرض حول محورها



السؤال
التالي

خط حقيقي أو وهمي يدور حوله الجسم

المحور



المدار



الدوران



السؤال
التالي

الظل يكون أقصر ما يمكن وقت

الصباح الباكر



الظهيرة



الغروب



السؤال
التالي

المدة التي تستغرقها الأرض للدوران حول محورها هي



يوم 365



ساعة 24



السؤال
التالي

يبدأ فصل الصيف في النصف الشمالي للكرة الأرضية في

مارس 21

سبتمبر 21

السؤال
التالي

في النصف الشمالي من الكرة الأرضية في الصيف

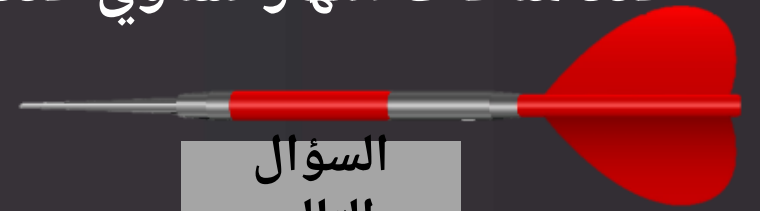
عدد ساعات الليل ~~أطول~~ من عدد ساعات
النهار



عدد ساعات النهار أطول من عدد ساعات
الليل



عدد ساعات النهار تساوي عدد ساعات
الليل



السؤال
التالي

سبب تغير فصول السنة هو

دوران الأرض حول الشمس



ميل محور الأرض



ميل محور الأرض ودورانها حول
الشمس



السؤال
التالي

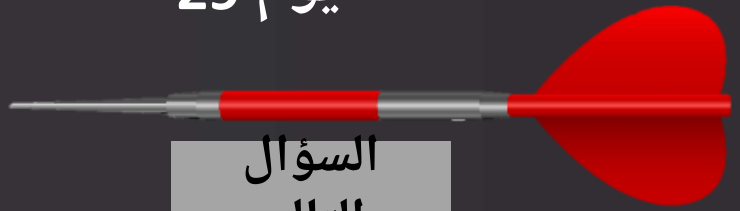
المدة التي تستغرقها الأرض للدوران حول الشمس هي



يوم 365



يوم 29



السؤال
التالي

المسار الظاهري للشمس في الشتاء يكون

مرتفع في السماء



في منتصف السماء



منخفض في السماء



السؤال
التالي

الطريقة التي يظهر بها الشيء وكأنه يتحرك هي

الحركة الظاهرية



الدوران المحوري



المدار



النهاية



ملاحظة للعب: اضغط على السهم المجاور للإجابة المراد اختيارها

هذا العمل مجاني ولا يمكن بيعه

للمزيد من الألعاب

اضغط على رابط قناة التلغرام

<https://t.me/joinchat/AAAAAEhunMg7L7FnnGhcLw>