



## Grade12files

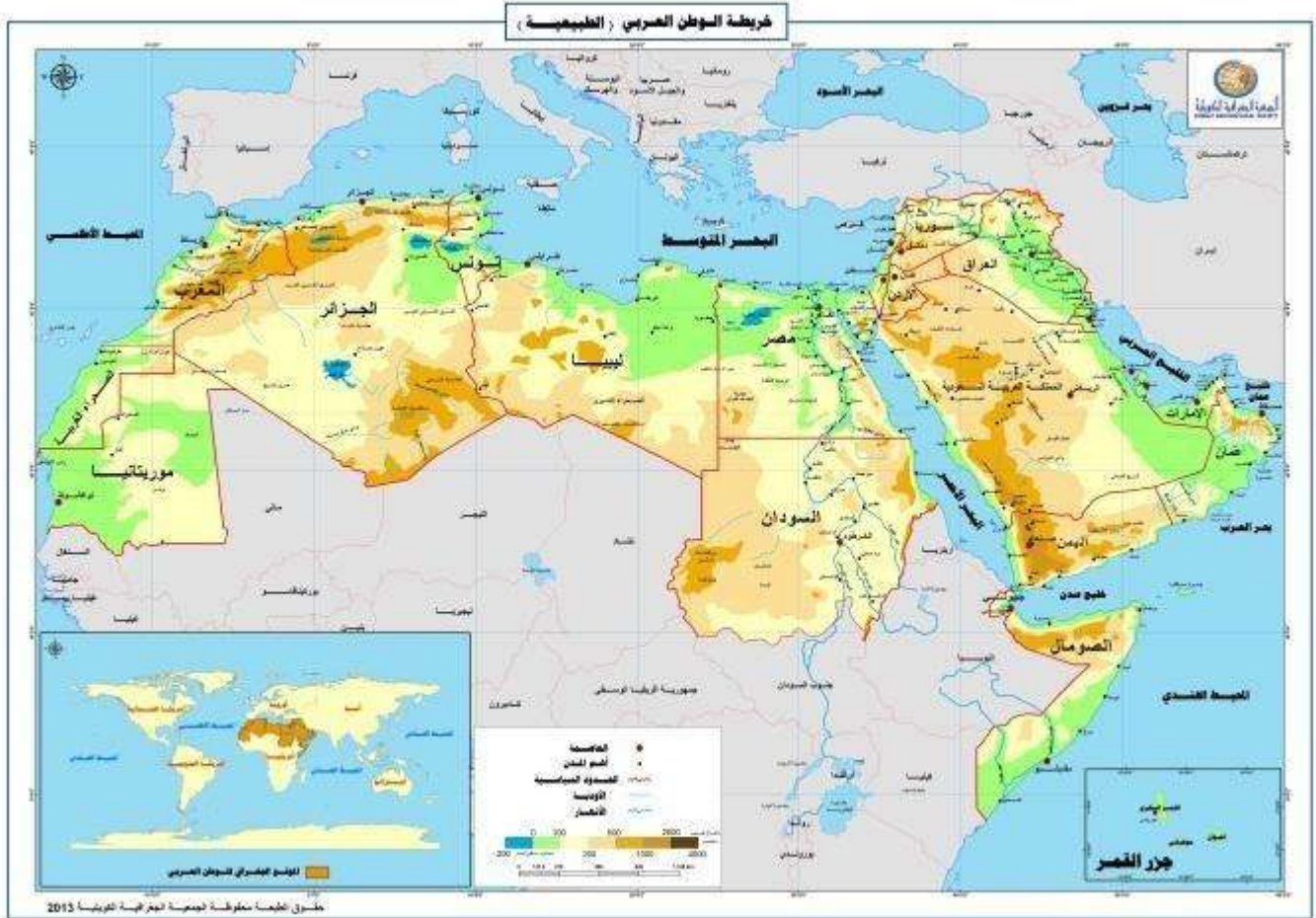
مراجعة عامة إثرائية للخرائط الطبيعية للوطن العربي.  
**للحقة الثالثة لمادة الدراسات الإجتماعية**  
**للعام الدراسي 2018 - 2017**

مديرة المدرسة :

**سحر إمام عزب**

## أولاً: الوطن العربي ( الموقع والمساحة)

**التمرين الأول : أجب على الأسئلة التالية مستعيناً بالخريطة التالية للوطن العربي :**



- \* يتوسط الوطن العربي قارت العالم الثالث : .....
- \* تقطع الوطن العربي دائرتي عرض رئيسيتين هما ..... و..... وخط طول رئيسي هو.....
- \* يطل الوطن العربي من ناحية الغرب على المحيط..... وناحية الشمال على البحر.....
- \* من الدول الإسلامية التي تجاور الوطن العربي من ناحية الشمال الشرقي هي.....
- \* جزر من ضمن الوطن العربي ولكن لا تقع ضمن إقليمه هي جزر.....
- \* أكبر الدول العربية مساحة بعد انقسام السودان هي..... : بينما أصغر دولة فهي.....
- \* من الممرات الهامة التي يتحكم بها الوطن العربي ..... و..... و.....
- \* المحيط الذي يقع ناحية الجنوب الشرقي للوطن العربي .....

\* يضم الوطن العربي ..... دولة في الجناح الأفريقي و ..... دولة في الجناح الآسيوي.

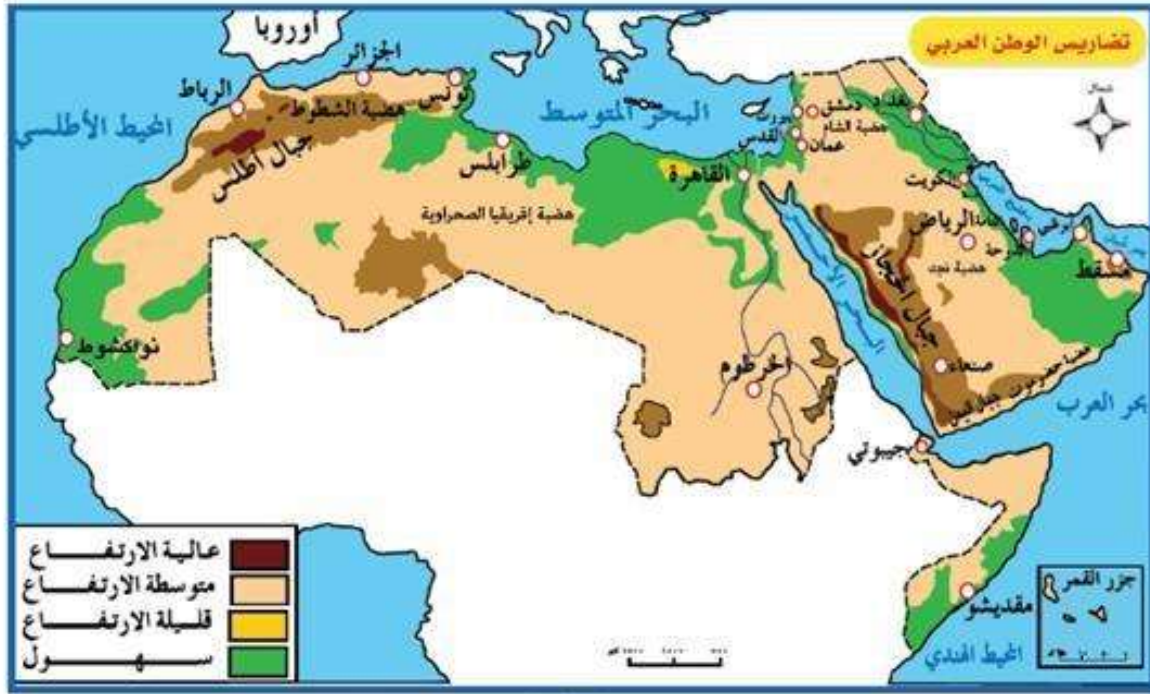
\* البحر الذي يفصل الدول العربية في القسم الآسيوي عن الدول في القسم الأفريقي إلى قسمين هو .....

\* دولة إسلامية تقع في شمال سوريا والعراق .....

ثانياً : الوطن العربي ( التضاريس )

التمرين

**الثاني : اجب على الأسئلة التالية مستعيناً بالخريطة التالية للوطن العربي:**

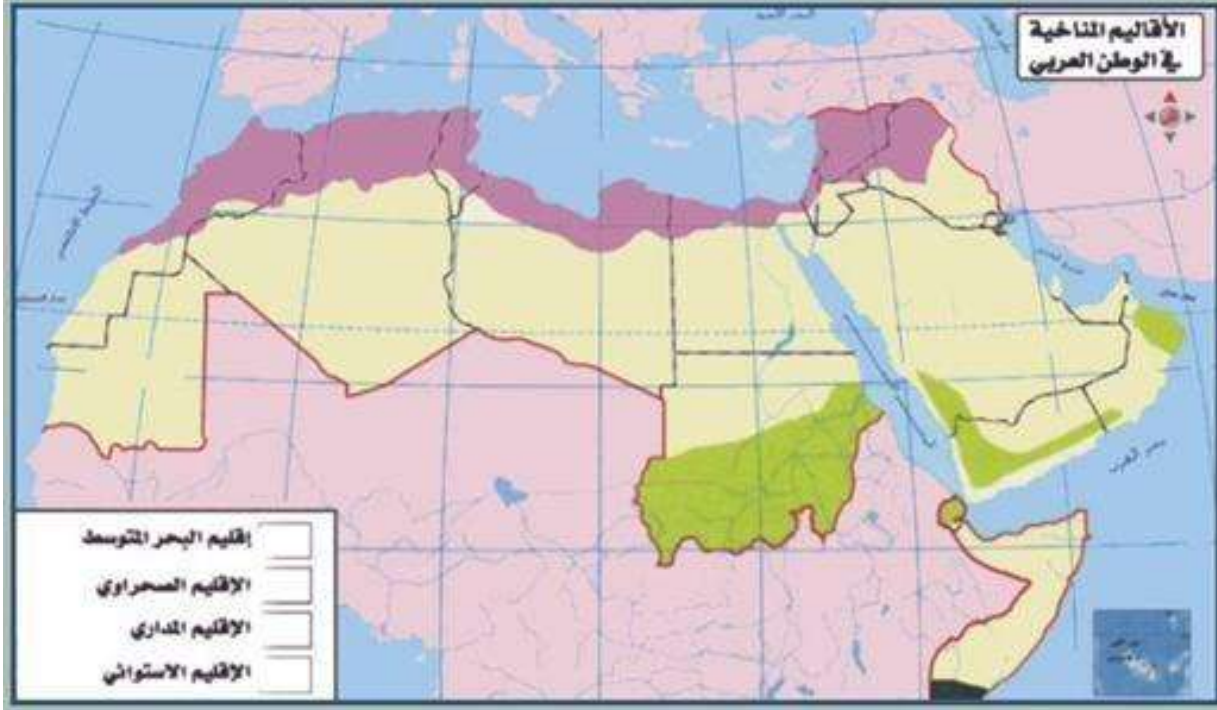


- \* تنقسم الجبال في الوطن العربي حسب التكوين إلى جبال ..... و جبال.....
- \* من أهم الجبال الإلتوائية في الوطن العربي جبال ..... و.....
- \* من أهم الجبال الإنكسارية في الوطن العربي جبال ..... و.....
- \* أكبر صحراء الوطن العربي هي.....
- \* هضبة الشطوط تقع في جمهورية ..... أما هضبة نجد تقع في.....  
وهضبة حضرموت تقع في.....
- \* جبال دارفور تقع في جمهورية ..... أما جبال الحجاز في جمهورية.....
- \* أعلى قمة في الوطن العربي هي قمة..... في دولة.....
- \* من السهول الفيضية سهول ..... و سهول .....
- \* أشهر صحراء في الجناح الآسيوي هي صحراء.....
- \* أطول نهر في العالم هو نهر..... ويخترق دولتين عربيتين هما ..... و.....
- \* من السهول الساحلية في المملكة العربية السعودية سهل.....



## ثالثاً الوطن العربي ( المناخ والنبات الطبيعي )

### التمرين الثالث: استخدم الخريطة في استنتاج الأسئلة التالية:



- \* يقع معظم الوطن العربي في المنطقة .....
- \* يسود الإقليم المداري في الجهات ..... أما في الشمال يسود .....
- \* يطلق على الإقليم الذي يسود في جنوب اليمن وسلطنة عمان بالإقليم .....
- \* يتمثل الإقليم الإستوائي فقط في جنوب .....
- \* من الرياح التي تهب في فصل الشتاء الرياح ..... القادمة من المحيط الأطلنطي والتي تتسبب في سقوط الأمطار الشتوية على كل من .....
- \* من الرياح الصيفية التي تهب من جهة ..... وتتسبب في سقوط الأمطار على جنوب اليمن.
- \* رياح تهب طوال العام على الوطن العربي تسمى رياح ..... وهي مثيرة للغبار والأتربة.
- \* أيهما أدفأ في فصل الشتاء ( الماء / اليابس ) ولماذا ؟ .....
- .....
- \* تقل درجة الحرارة كلما ارتفعنا ..... متر عن سطح البحر.
- \* تنتشر في الإقليم المداري حشائش .....
- ..... أما في إقليم البحر المتوسط أشجار .....
- \* تنتشر شجرة الصمغ العربي في جمهورية .....
- \* من النبات الطبيعي الذي يسود الإقليم الصحراوي .....

### التمرين الرابع : من خلال الخريطة التالية استنتج ما يلي:

