

العد بمقدار 1 فلس



فلساً \_\_\_\_\_

العد بمقدار 5 فلس



فلساً \_\_\_\_\_

العد بمقدار 10 فلس



فلساً \_\_\_\_\_

العد بمقدار 25 فلس



فلساً أوتساوي \_\_\_\_\_ درهم و \_\_\_\_\_ فلس

العد بمقدار 100 فلس



فلساً أوتساوي \_\_\_\_\_ درهم

أوجد مجموع



فلساً \_\_\_\_\_









أوجد مجموع













فلساً أوتساوي \_\_\_\_\_ درهم و \_\_\_\_\_ فلس

أكمل الفراغ

فلساً _____	=	1 
فلساً _____	=	5 
فلساً _____	=	10 
درهم _____ فلساً أوتساوي _____	=	20 

_____ فلساً	=	1 
_____ فلساً	=	2 
_____ فلساً	=	3 
_____ فلساً أو تساوي _____ درهم	=	4 
_____ فلساً أو تساوي _____ درهم و _____ فلس	=	5 
_____ فلساً أو تساوي _____ درهم و _____ فلس	=	6 
_____ فلساً أو تساوي _____ درهم و _____ فلس	=	7 
_____ فلساً أو تساوي _____ درهم و _____ فلس	=	8 

<p>فلساً _____</p> <p>أوتساوي =</p> <p>درهم _____</p>	<p>10</p> 	<p>فلس _____ =</p> 
<ul style="list-style-type: none"> <li>• كل 4 قطع معدنية من فئة _____ فلس تكوّن AED 1.00 أو 100 فلس</li> <li>• كل 20 قطعة معدنية من فئة _____ فلس تكوّن AED 1.00 أو 100 فلس</li> <li>• كل 10 قطع معدنية من فئة _____ فلس تكون AED 1.00 أو 100 فلس</li> <li>• كل 100 قطعة معدنية من فئة _____ فلس تكوّن AED 1.00 أو 100 فلس</li> </ul>	<p>فلس _____ =</p> 	<p>3</p> 
	<p>فلس _____ =</p> 	<p>5</p> 
	<p>فلس _____ =</p> 	<p>7</p> 
	<p>فلس _____ =</p> 	<p>9</p> 

حل المسائل:

1. لدى يارا 5 عملات معدنية من فئة 10 فلسات و 5 عملات معدنية من فئة 5 فلسات، وقد فقدت 2 من كل منهما. فكم كان لديها وكم فقدت وكم بقي معها؟  
كان معها \_\_\_\_\_ فلساً، فقدت \_\_\_\_\_ فلساً، بقي معها \_\_\_\_\_ فلساً.
2. تريد يارا شراء ورق بتكلفة 90 فلس لترسم عليه ورود، فإذا كان لديها عملتان معدنيان من فئة 25 فلس، وثلاث عملات معدنية من فئة 10 فلسات، و3 عملات معدنية من فئة 5 فلسات، و5 عملات معدنية من فئة 1 فلس. فهل يوجد لديها نقود كافية لشراء الورق، وكم يتبقى لديها بعد شراء الورق؟  
يوجد معها \_\_\_\_\_ فلساً، يتبقى معها \_\_\_\_\_ فلساً.
3. تريد يارا شراء دمية بتكلفة درهم واحد، فإذا كان لديها 5 عملات معدنية من فئة 10 فلسات، فكم يلزمها من عملات معدنية من فئة 25 فلس لشراء الدمية؟  
يلزمها \_\_\_\_\_ قطعة معدنية من فئة 25 فلس.
4. تريد يارا شراء كتاب بتكلفة 100 فلس، فإذا كان لديها 10 عملات معدنية من فئة 5 فلسات، فكم يلزمها من عملات معدنية من فئة 25 فلس لشراء الكتاب؟  
يلزمها \_\_\_\_\_ قطعة معدنية من فئة 25 فلس.
5. تريد يارا شراء قلم بتكلفة 50 فلس، فإذا كان لديها 25 عملة معدنية من فئة 1 فلس، فكم يلزمها من عملات معدنية من فئة 25 فلس لشراء القلم؟  
يلزمها \_\_\_\_\_ قطعة معدنية من فئة 25 فلس.
6. تريد يارا شراء قلم بتكلفة 50 فلس، فإذا كان لديها 5 عملات معدنية من فئة 5 فلسات، فكم يلزمها من عملات معدنية من فئة 25 فلس لشراء القلم؟  
يلزمها \_\_\_\_\_ قطعة معدنية من فئة 25 فلس.
7. تريد يارا شراء قلم بتكلفة 40 فلس، فإذا كان لديها 4 عملات معدنية من فئة 5 فلسات، فكم يلزمها من عملات معدنية من فئة 10 فلسات لشراء القلم؟  
يلزمها \_\_\_\_\_ قطعة معدنية من فئة 10 فلسات.
8. تريد يارا شراء لعبة بتكلفة 60 فلس، فإذا كان لديها 4 عملات معدنية من فئة 5 فلسات، فكم يلزمها من عملات معدنية من فئة 10 فلسات لشراء اللعبة؟  
يلزمها \_\_\_\_\_ قطعة معدنية من فئة 10 فلسات.
9. تريد يارا شراء قصة بتكلفة 75 فلس، فإذا كان لديها 5 عملات معدنية من فئة 1 فلس، فكم يلزمها من عملات معدنية من فئة 10 فلسات لشراء القصة؟  
يلزمها \_\_\_\_\_ قطعة معدنية من فئة 10 فلسات.



10. لدى يارا بعض العملات المعدنية من فئة 25 فلس، وقد أعطت تميم 3 عملات معدنية من فئة 25 فلس، وأعطت آدم عملة معدنية واحدة من فئة 25 فلس، وتبقى لديها 100 فلس. فكم كان معها قبل أن تعطي تميم وآدم؟ كان معها \_\_\_\_\_ فلس.

11. لدى يارا بعض العملات المعدنية من فئة 10 فلسات، وقد أعطهاها تميم 4 عملات معدنية من فئة 10 فلس، وأعطهاها آدم عملة معدنية واحدة من فئة 10 فلسات، فأصبح مجموع ما معها من نقود 80 فلس. فكم كان معها؟ كان معها \_\_\_\_\_ فلس.

12. لدى يارا بعض العملات المعدنية من فئة 5 فلسات، وقد منحت تميم 5 عملات معدنية من فئة 5 فلس، ومنحت آدم عملة معدنية واحدة من فئة 5 فلسات، فما المبلغ الذي أعطته يارا لتميم وآدم؟ فلساً \_\_\_\_\_.

13. وجدت يارا 5 عملات معدنية من فئة 1 فلس، و3 عملات معدنية من فئة 10 فلس، وعملة معدنية واحدة من فئة 25 فلس. فأخبرت تميم وجدت 100 فلس. فهل هذا صحيح أم خطأ وإذا كان خطأ إذكرني كم معها من الفلسات؟

---

---

---

14. لدى يارا مبلغ 75 فلس، ولدى تميم 5 عملات معدنية من فئة 5 فلس، كم عدد العملات من فئة 5 فلسات يحتاجها تميم ليصبح لديه نفس المبلغ الذي تملكه يارا؟ يحتاج \_\_\_\_\_ قطع معدنية من فئة 5 فلسات.

15. لدى يارا مبلغ 80 فلس، ولدى آدم 6 عملات معدنية من فئة 10 فلس، كم عدد العملات من فئة 5 فلس يحتاجها آدم ليصبح لديه نفس المبلغ الذي تملكه يارا؟ يحتاج \_\_\_\_\_ قطع معدنية من فئة 5 فلسات.

16. لدى يارا مبلغ 100 فلس، ولدى آدم 3 عملات معدنية من فئة 10 فلس، كم عدد العملات من فئة 10 فلس يحتاجها آدم ليصبح لديه نفس المبلغ الذي تملكه يارا؟ يحتاج \_\_\_\_\_ قطع معدنية من فئة 10 فلسات.

17. لدى يارا مبلغ 1 درهم، ولدى تميم 10 عملات معدنية من فئة 5 فلس، كم عدد العملات من فئة 25 فلس يحتاجها تميم ليصبح لديه نفس المبلغ الذي تملكه يارا؟ يحتاج \_\_\_\_\_ قطعة معدنية من فئة 25 فلس.

18. كم عدد العملات المعدنية من فئة 25 فلس تحتاجها يارا لشراء دفتر ثمنه 75 فلس؟ \_\_\_\_\_ 25 فلساً.

19. كم عدد العملات المعدنية من فئة 25 فلس تحتاجها يارا لشراء كتاب ثمنه 100 فلس؟ \_\_\_\_\_ 25 فلساً.

20. كم عدد العملات المعدنية من فئة 25 فلس تحتاجها يارا لشراء قلم ثمنه 50 فلس؟ \_\_\_\_\_ 25 فلساً.

21. كم عدد العملات المعدنية من فئة 5 فلس تحتاجها يارا لشراء قلم ثمنه 25 فلس؟ \_\_\_\_\_ 5 فلس.

22. كم عدد العملات المعدنية من فئة 10 فلس تحتاجها يارا لشراء قلم ثمنه 30 فلس؟ \_\_\_\_\_ 10 فلس.

23. لدى يارا 60 فلس مقسمة في عملات معدنية من فئة 10 فلسات، وتريد شراء أقلام، وتكلفة كل قلم 20 فلس، فكم الأقلام التي تستطيع شراءها؟ \_\_\_\_\_.

24. لدى يارا 100 فلس مقسمة في عملات معدنية من فئة 25 فلس، وتريد شراء أساور، وتكلفة كل أساور 25 فلس، فكم الأساور التي تستطيع شراءها؟ \_\_\_\_\_.

25. لدى يارا 25 فلس مقسمة في عملات معدنية من فئة 5 فلسات، وتريد شراء أقلام شبرات، وتكلفة كل شبرة 5 فلس، فكم الشبرات التي تستطيع شراءها؟ \_\_\_\_\_.



26. لدى يارا مبلغ 100 فلس، ولدى آدم 3 عملات معدنية من فئة 10 فلس، كم عدد العملات من فئة 10 فلس يحتاجها آدم ليصبح لديه نفس المبلغ الذي تملكه يارا؟ يحتاج \_\_\_\_\_ قطع معدنية من فئة 10 فلسات.

27. وجدت يارا عملة من فئة 25 فلس، وعملتان من فئة 10 فلس و3 عملات من فئة 5 فلس تحت الأريكة، وأعطتها والدتها 50 فلس آخرين. فهل لديها من المال ما يكفي لشراء دفتر ثمنه 75 فلس وقلم ثمنه 15 فلس؟

---

---

---

28. لدى يارا عملتان من فئة 100 فلس، وثلاث عملات من فئة 25 فلس وأعطاهما والدها 4 عملات من فئة 25 فلس آخرين. فهل لديها من المال ما يكفي لشراء وجبة طعام ثمنها 250 فلس؟

---

---

---

29. لدى يارا عملة من فئة 10 فلسات، و3 عملات من فئة 5 فلسات و4 عملات من فئة فلس هل لديها ما يكفي من المال لشراء كعكة بقيمة 30 فلس؟ وكم تحتاج من المال الإضافي لشراء الكعكة؟

---

---

---

30. لدى يارا عملات لشراء دفتر رسم من المكتبة، وتبلغ قيمته 85 فلساً، ولديها 2 عملة من فئة 25 فلس، وعملة من فئة 5 فلس، ما العملتان اللتان لا تزال تحتاجهما؟

---

---

---

31. لدى تميم 1 عملة من فئة 10 فلسات و2 عملة من فئة 5 فلسات. كم يحتاج من مال إضافي لشراء سيارة تكلفتها 50 فلس؟

---

---

---



32. لدى يارا 1 عملة من فئة 10 فلسات و 2 عملة من فئة 25 فلسات، و عملة من فئة 25 فلس، ولدى تميم 3 عملات من فئة

5 فلسات. كم يحتاجان من الفلسات ليكون لديهم 90 فلس؟

---

---

33. مجموع ما تملك يارا 75 فلس، مقسمة كالآتي 2 عملة من فئة 25 فلس و عملة من فئة 10 فلسات، فإذا كانت بقية ما لديها

من عملات هي من فئة 5 فلسات، فكم لديها من عملات من فئة 5 فلسات؟

---

---

---

34. قلم تكلفته 60 فلس. ما هي العملات الثلاث التي يمكن إستخدامها لشراء القلم؟

---

35. قلم تكلفته 25 فلس. ما هي العملات الثلاث التي يمكن إستخدامها لشراء القلم؟

---

36. تريد يارا التبرع بمبلغ 100 فلس الى صندوق الزكاة، كم عدد الأرباع التي ستكون المبلغ؟

37. تريد يارا التبرع بمبلغ 75 فلس الى صندوق الزكاة، كم عدد الأرباع التي ستكون المبلغ؟

38. تريد يارا التبرع بمبلغ 50 فلس الى صندوق الزكاة، كم عدد الأرباع التي ستكون المبلغ؟

39. تريد يارا التبرع بمبلغ 25 فلس الى صندوق الزكاة، كم عدد الأرباع التي ستكون المبلغ؟

40. لدى يارا 1 عملة من فئة 25 فلس، و 2 عملة من فئة 10 فلسات، و عملة من فئة 50 فلس، و 3 عملات من فئة 1 فلس. ما مقدار ما تحتاجه من مال إضافي ليكون لديها 100 فلس؟

---

---

---





41. لدى يارا 3 عملات من فئة 25 فلس، و 1 عملة من فئة 10 فلسات، ما مقدار ما تحتاجه من مال إضافي ليكون لديها درهماً واحداً؟

---

---

---

42. لدى يارا 2 عملة من فئة 5 فلس، و 3 عملة من فئة 10 فلسات، وعملة من فئة 25 فلس، ما مقدار ما تحتاجه من مال إضافي ليكون لديها 100 فلس؟

---

---

43. لدى يارا 3 عملات من فئة 25 فلس، و 1 عملة من فئة 10 فلسات، ما مقدار ما تحتاجه من مال إضافي ليكون لديها درهماً واحداً؟

---

---

---

ضعي إشارة ✓ على الإجابة الصحيحة:

1. لدى تميم مبلغ 100 فلس، ولدى آدم 4 عملات معدنية من فئة 25 فلس، كم عدد العملات من فئة 10 فلس يحتاجها تميم

ليصبح لديه نفس المبلغ الذي يملكه يارا؟

6 عملات معدنية من فئة 10 فلس

4 عملات معدنية من فئة 10 فلس

0 عملة معدنية من فئة 10 فلس

3 عملات معدنية من فئة 10 فلس

2. لدى يارا مبلغ 150 فلس، ولدى آدم 4 عملات معدنية من فئة 25 فلس، كم عدد العملات من فئة 5 فلسات يحتاجها آدم

ليصبح لديه نفس المبلغ الذي يملكه يارا؟

10 عملات معدنية من فئة 5 فلس

5 عملات معدنية من فئة 5 فلس

9 عملات معدنية من فئة 5 فلس

4 عملات معدنية من فئة 5 فلس

3. تريد يارا أن تشتري ملابس لدميتها بقيمة 25 فلس. ولديها خمس عملات من فئة فلس، وعملة من فئة 10 فلس وعملتان من

فئة 5 فلسات، فهل تمتلك يارا مالاً كافياً لشراء ملابس لدميتها؟

4.  نعم  لا

5. لدى يارا 2 عملة من فئة 25 فلساً، وواحد عملة من فئة 10 فلسات، وواحد عملة من فئة 5 فلس، هل لديها المال الكافي لشراء لعبة ثمنها 65 فلس.

نعم  لا

6. تريد يارا شراء 3 خواتم، وتكلفة كل خاتم 20 فلس، ولديها عملة من فئة 25 فلس، و2 عملة من فئة 10 فلسات، و5 عملات من فئة 5 فلسات، فهل لديها ما يكفي من المال لشراء الخواتم.

نعم  لا

7. تحتاج يارا إلى 65 فلس لشراء علبة من الفوشارة، فما العملات التي ينبغي عليها استخدامها؟

25 فلس، 25 فلس، 10 فلس، 10 فلس، 5 فلس  25 فلس، 10 فلس، 10 فلس، 10 فلس، 5 فلس

25 فلس، 10 فلس، 10 فلس، 10 فلس، 5 فلس  25 فلس، 10 فلس، 10 فلس، 10 فلس، 5 فلس

8. تحتاج يارا إلى 86 فلس لشراء وجبة طعام، فما العملات التي ينبغي عليها استخدامها؟

25 فلس، 25 فلس، 5 فلس، 1 فلس  25 فلس، 25 فلس، 10 فلس، 10 فلس، 1 فلس

25 فلس، 25 فلس، 10 فلس، 10 فلس، 1 فلس  25 فلس، 25 فلس، 10 فلس، 10 فلس، 1 فلس

9. لدى يارا 3 عملات من فئة 10 فلسات، و2 عملة من فئة 5 فلسات. هل لديها ما يكفي من المال لشراء مجموعة ملصقات التي تكلف 50 فلس؟

نعم  لا

10. وجدت يارا 2 ربع درهم و1 عملة من فئة 5 فلسات وكان لديها 20 فلس. ولدى تميم 90 فلس. كم من مال إضافي لدى تميم؟

5 فلسات  10 فلسات  15 فلس  20 فلس

11. مع تميم 3 ربع درهم و1 عملة من فئة 5 فلسات وكان لديها 20 فلس. ولدى آدم 85 فلس. كم من مال إضافي لدى آدم؟

5 فلسات  10 فلسات  15 فلس  20 فلس