

45

ضع دائرة على رمز الإجابة الصحيحة لكل معاني (أ، ب، ج):

1. ما الذي تصفه الصورة المجاورة؟

أ. الوزن

ب. القوة

ج. الموقع



2. أي من التالية يستخدم لقياس السرعة؟



ج



ب



أ

3. أي حركة تدل على الصعود والهبوط؟



ج



ب



أ

امتحان نهاية الفصل الدراسي الثالث - العام الدراسي 2019/2018 - مادة العلوم - الصف الثاني

4. ما الذي يجعل سرعة الكرة بطيئة ثم يوقفها؟



- أ. الاحتكاك
- ب. الشكل
- ج. الحجم

5. كيف تسيح السمكة حتى تصل إلى سطح الماء؟



- أ. ضد الجاذبية
- ب. مع الجاذبية
- ج. بدون جاذبية

6. أي مما يلي سطح مائل؟




ج

ب

أ

امتحان نهاية الفصل الدراسي الثالث - العام الدراسي 2019/2018 - مادة العلوم - الصف الثاني

7. ما الجسم الذي لا يجذبه المغناطيس؟



8. ما القوة التي يستخدمها الطفل في الصورة أدناه لإغلاق الباب؟



- أ. الدفع
- ب. الشد
- ج. الجاذبية

أي مما يلي يستخدم الطاقة الكهربائية للحصول على حرارة؟



ج



ب



ا

امتحان نهاية الفصل الدراسي الثالث - العام الدراسي 2019/2018 - مادة العلوم - الصف الثاني

10. أي مما يلي يُغير المادة إلى أخرى ؟

- أ. الحرق
- ب. الطبخ
- ج. التمزيق

11. أي العناصر التالية مخلول ؟



ج



ب



أ

12. ما المصدر الرئيس للحرارة على الأرض ؟



ج



ب



أ

امتحان نهاية الفصل الدراسي الثالث- العام الدراسي 2019/2018 -مادة العلوم - الصف الثاني

13. يمكننا سماع الصوت عن طريق.....



14. أي جزء يُنتج الطاقة الكهربائية في الدارة التالية؟

أ. الأسلاك

ب. المفتاح

ج. البطارية



ب. مما يلي هو انكسار للضوء؟



ج



ب.

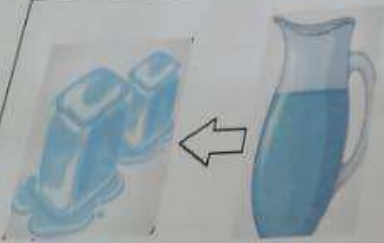


ا

16. صل بخط بين الجملة والصورة:



غاز إلى سائل



سائل إلى غاز




سائل إلى مادة صلبة



مادة صلبة إلى سائل

17. اكتب اسم الآلة أسفل كل صورة في المخطط التالي:
الآلات بسيطة



18. اكتب أسفل كل صورة مما يلي نوع التغير (فيزيائي أم كيميائي)



19. أقرأ الجمل التالية ثم ضع كلمة (صح) أو (خطأ) بين القوسين

19. () يقيس الميزان ذو الكفتين الوزن

20. () كلما ابتعد المغناطيس عن الجسم قلت قوة جذب المغناطيس

21. () أكبر قوة شد المغناطيس عند الأقطاب

22. () تغير حجم وشكل المادة هو تغير فيزيائي

23. () تختلف الأصوات في الحدة.

24. () يصدر معظم الضوء على الأرض من القمر

25. () يُعد البرق كهرباء ساكنة

26. () أداة قياس درجة الحرارة هي مقياس الحرارة (الثيرموميتر).

امتحان نهاية الفصل الدراسي الثالث - العام الدراسي 2019/2018 - مادة العلوم - الصف الثاني

استخدم كل كلمة معارفي - مرة واحدة - لملء الفراغات

الاحتكاك	الوقود	التبخير	يُعكس	المغناطيس	تهتز	الجاذبية
----------	--------	---------	-------	-----------	------	----------

27. يصدر الصوت عندما الأجسام.
28. يمكننا رؤية الأجسام بسبب الضوء الذي
29. تسقط الأجسام على الأرض بواسطة قوة تسمى
30. القوة التي تبطيء الأجسام المتحركة هي
31. يمكن فصل برادة الحديد عن الرمل باستخدام
32. يمكن فصل الملح عن الماء عن طريق
33. مادة تطلق حرارة عندما يتم حرقها

انتهت الأسئلة