



النموذج التدريبي لمادة الرياضيات الفصل الدراسي الثالث الصف الثاني

إدارة التقييم والامتحانات

2021
٢٠١٨



الهدف

تهيئة الطلاب لتطبيق الامتحانات



إرشادات

1. الاطلاع على النماذج التدريبية مسبقاً .
2. إمكانية توليد نماذج تدريبية على نمط النماذج المرفقة .
3. توظيف جهاز العرض في التدريب .
4. تنفيذ المفردات التدريبية بصورة فردية أو جماعية .
5. إنجاز التدريب ضمن الوقت المخصص قبل بداية الامتحان .



المفردات التدريبية:



(1) اكتب الوقت الظاهر في

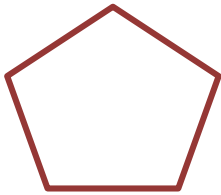


(2) حدد وقت نوم عائشة

☀ 9 : 40 AM

☀ 8 : 15 AM

☀ 8 : 15 PM



(3) اكتب اسم الشكل أدناه . وعدد الأضلاع والزوايا .



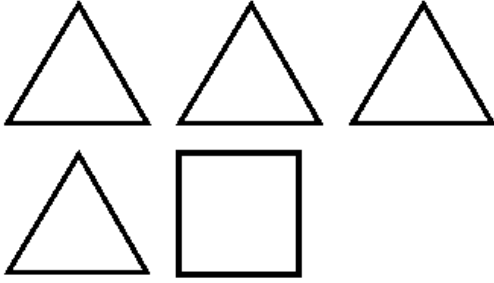
(4) صف الأجزاء المتساوية في الشكل



تابع المفردات التدريبية:



(5) كم عدد المربعات التي تكون المستطيل؟



(6) حدد الشكل الذي تكوّنه الأوجه



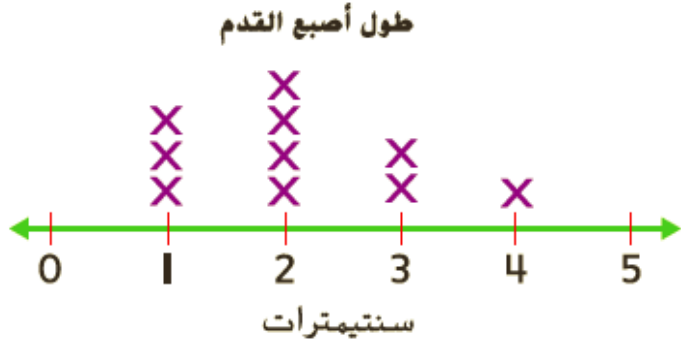
(7) 25 سنتيمترًا + 75 سنتيمترًا =

متراً



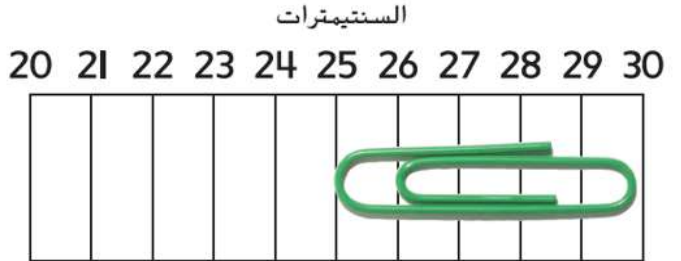
تابع المفردات التدريبية:

(8) كم يبلغ طول معظم أصابع الأقدام في التمثيل البياني بالنقاط المجمعة أدناه ؟



_____ طول معظم أصابع الأقدام

(9) كم يبلغ طول المشبك بالسنتيمترات ؟



_____ طول المشبك

(10) عدّ لإيجاد قيمة العملات.






_____ فلسات، _____ فلسًا، _____ فلسًا، _____ فلسًا، _____ فلسًا، _____ فلسًا = _____ فلسًا

انتهى التدريب

بالتوفيق والنجاح



إجابة المفردات التدريبية:

الإجابة	رقم المفردة
	1
8:15 PM	2
خماسي الأضلاع. 5 أضلاع، 5 زوايا	3
أثلاث	4
12 مربع	5
	6
1 مترًا	7
2 سنتيمتر	8
5 سنتيمترات	9
 10 فلسات، 15 فلسات، 20 فلسات، 21 فلسات، 22 فلسات، 23 فلسات = 23 فلسات	10

انتهت الإجابة