

## السؤال الأول

51

ضع دائرة حول رمز الإجابة الصحيحة فيما يأتي :



(1) ما أفضل تقدير لكتلة ؟

a) 10 kg

b) 5 g

c) 1 g

d) 1 kg



(2) ما أفضل تقدير لقياس سعة ؟

a) 50 mL

b) 50L

c) 5 L

d) 1 mL



(3) ما الوقت الذي تشير إليه الساعة ؟

a) 10:30

b) 9:30

c) 9:28

d) 10:28

يساوي 5 كعكات .



(4) يوضح مفتاح الرسم التصويري أن كل رمز

كم رمزاً يساوي 20 كعكة ؟

a) 5

b) 10

c) 4

d) 6

5) وفقاً لمخطط الإحصاء ، كم عدد الطلاب الذين شاركوا في الإستطلاع ؟

وسائل السفر المفضلة	
علامات الإحصاء	وسائل السفر
	طائرة
	سيارة

a) 15

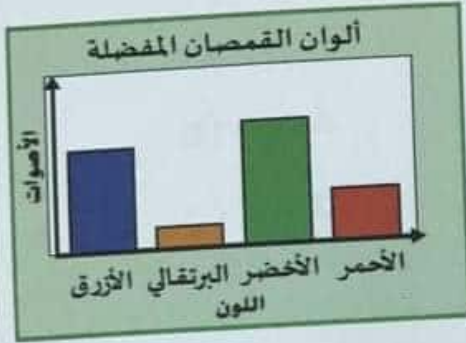
b) 17

c) 20

d) 14

6) يوضح التمثيل البياني بالأعمدة ألوان القمصان التي يفضلها عدد من الأشخاص .

ما اللون الذي يفضله معظم الأشخاص ؟




a) الأخضر

b) الأحمر

c) الأزرق

d) البرتقالي

7) أوجد محيط الشكل المظلل .



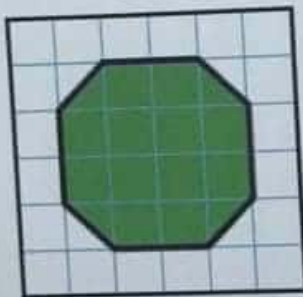
a) 6

b) 14

c) 12

d) 10

8) أوجد مساحة الشكل المظلل بالوحدات المربعة .



a) 10

b) 14

c) 13

d) 11

أي معادلة يمكن استخدامها لإيجاد مساحة المستطيل ؟

6 cm




2 cm

a)  $6 + 2 = 8$

b)  $6 \div 2 = 3$

c)  $6 - 2 = 4$

d)  $6 \times 2 = 12$

10) ما عدد أضلاع الشكل ؟ 

a) 7

b) 5

c) 6

d) 4

11) حدد اسم الشكل 

a) شعاع

b) مستقيم


c) نقطة

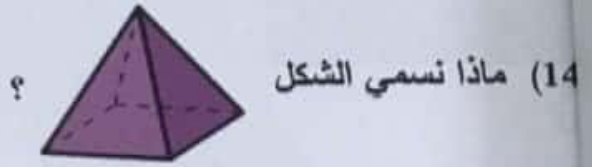
d) قطعة مستقيمة

12) حدد الشكل الذي يدل على مثلث قائم ؟



13) أي من هذه الأشكال ليس متوازي أضلاع ؟





- a) مخروط  
b) كرة  
c) هرم مربع  
d) أسطوانة

15) أي شكل من الأشكال له رأس فقط ؟



- a) 10  
b) 17  
c) 16  
d) 12




17) أوجد قيمة العملات المعدنية

- a) AED 2.10  
b) AED 2.25  
c) AED 2.50  
d) AED 2.30

أولاً:

49

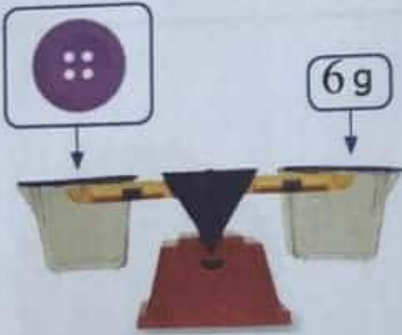
18) أوجد السعة الإجمالية للسائل في الأوعية المجاورة .



19) ارسم العقربين على الساعة لتبين الفترة الزمنية .



20) اكتب معادلة بها حرف يمثل المجهول . ثم حلها .  
ما كتلة 5 أزرار ؟



ثانياً:

21) تشتري هند دمية محشوة . وتدفع بورقة نقدية من فئة 5 دراهم إمارتية .  
كم مبلغ باقي الصرافة الذي يجب أن تحصل عليه .

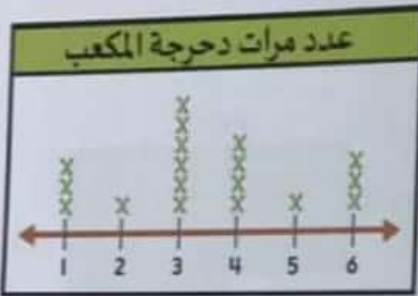
AED 3.45



أكمل التمثيل البياني المصور ذا المقياس باستخدام البيانات من التمثيل البياني بالأعمدة .  
تمثيل بياني بالأعمدة

تمثيل بياني ذو مقياس

أنشطة العطلة الصيفية	
	الصيد
	المشي
	السباحة
المفتاح: ♥ = صوتان	



(23) وفقاً لمخطط النقاط المجمع كم مرة تم دحرجة المكعب ؟

.....  
.....

رابعاً :



(24) يرغب محمد في تقسيم الفطيرة إلى 8 قطع متساوية .  
اكتب الكسر الذي ستمثله كل قطعة من مساحة الفطيرة ؟

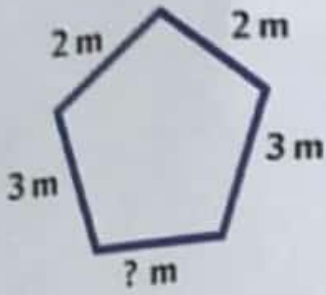
.....  
.....

(25) اكتب اسم الشكل ثلاثي الأبعاد الذي ليس له أوجه ولا حواف ولا رؤوس .



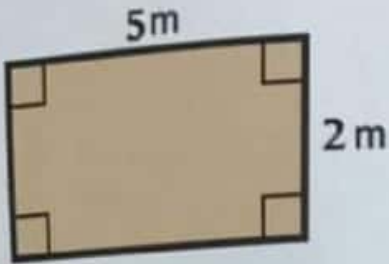
خامسًا :

(26) أوجد طول الضلع المجهول في الشكل المجاور إذا كان محيطه 12 مترًا .



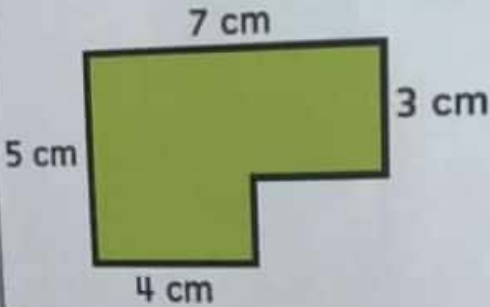
.....  
.....  
.....

(27) أوجد محيط المستطيل الموضح في الشكل .




.....  
.....  
.....

(28) أوجد مساحة الشكل المركب .



.....  
.....  
.....

(29) ارسم مستطيلًا مساحته 3 وحدات مربعة ومحيطه 8 وحدات .



انتهت الأسئلة  
بالتوفيق والنجاح