

# المعين في الاجتماعيات

## الصف الثامن – جزء 3

### المحتوى

ملاحظات	الدرس	
	1- النباتات الطبيعية	الوحدة 1
محذوف	2- أمريكا اللاتينية	
	3- الدولة والحكومة	
	1- النهضة الأوروبية	الوحدة 2
	2- استكشاف البحار	
	3- الثورة الصناعية الرابعة	

اعداد

خليل ابراهيم الشواخ

## الوحدة الأولى

### الدرس الأول : النباتات الطبيعية في دولة الإمارات العربية المتحدة

أولاً - ما المقصود بالنبات الطبيعي :

هي النباتات التي تنمو من تلقاء ذاتها دون ان يتدخل الانسان فيها

ثانياً - تقسم النباتات الطبيعية في دولة الإمارات العربية المتحدة الى قسمين :

نباتات ساحلية

نباتات جبلية

ثالثاً - من أبرز النباتات الطبيعية الساحلية :

الهرم	العكرش	النجم	القرم- المانغروف
-------	--------	-------	------------------

رابعاً - من أبرز النباتات الطبيعية الجبلية :

السمر	الشوع	العسيج
-------	-------	--------

خامساً - اختر الاجابة الصحيحة من بين الأقواس :

- 1- من النباتات الساحلية ( نبات القرم - نبات الهرم - نبات النجم - كل ماسبق )
- 2- من النباتات الجبلية ( السمر - الشوع - العسيج - كل ماسبق )
- 3- تنمو شجرة السمر على امتداد ( التلال السفحية - اسفل المرتفعات - السهول الحصوية - كل ماسبق )
- 4- من أهم مناطق انتشار شجرة السمر ( العين - سويحان - الذيد - كل ماسبق )
- 5- يستفاد من نبات العسيج ( في اسقف المنازل - علاج الجروح - غذاء للحيوانات - كل ماسبق )
- 6- من ميزات شجرة السمر :

ا- تعد من أشجار الظل ب- لها القدرة على انتاج الاوكسجين

ج- تتحمل الجفاف والملوحة د- حاضنة للأسماك والروبيان

7- ينمو نبات القرم ( المانغروف ) عند :

أ- المناطق الصحراوية ب- المناطق المرتفعة ج- سفوح التلال د- السواحل الغربية والشرقية

## 8- من ميزات شجرة القرم

أ- تعتمد على نفسها في الحصول على الماء والغذاء

ب- تعد من اشجار الظل

ج- خضراء على مدار السنة

د- تسهم في انتاج الأوكسجين

9- من ميزات نبات النجم ( أ- غذاء للإنسان ب- يتحمل الملوحة ج- يكثر بالمناطق الصحراوية د- كل ماسبق )

10- ينتشر نبات العكرش ( أ- المناطق الحصوية ب- المناطق الصحراوية ج- قمم الجبال د- المناطق الملحية الرطبة

11- يمتاز نبات الهرم :

أ- أوراقه بيضوية سميكة منتفخة خازنة للماء

ب- أوراقه بيضوية رقيقة

ج- أوراقه دائرية رقيقه

د- أوراقه دائرية سميكة منتفخة خازنة للماء

12- يستفاد من نبات الهرم ( أ- علاج للابل ب- غذاء للابل ج- يحمي فسيل النخيل من الدود د- كل ماسبق )

13- - تمتلك أبو ظبي من أشجار القرم حوالي ( 75 % 80 % 85 % 90 % )

14- تقدر مساحة الأراضي المزروعة في أبو ظبي من أشجار القرم :

( أ- 120 كم مربع ب- 130 كم مربع ج- 140 كم مربع د- 110 كم مربع )

15- تمتد النباتات الجبلية بشكل شريط يبدأ من :

أ- من شعم ودبا الى حتا والعين

ب- من شعم ودبا الى الشارقة

ج- من شعم ودبا الى رأس مسندم شرقاً

د- شعم ودبا فقط

16- صدرت أوامر بزراعة نباتات الغاف والسدر وكذلك بعدم التعرض لشجرة السمر عند تنفيذ المشاريع من قبل الشيخ :

أ- محمد بن راشد حفظه الله

ب- زايد رحمه الله

ج- محمد بن زايد حفظه الله

د- نهيان بن مبارك حفظه الله

17 - يطلق على شجرة السمر أسماء مختلفة مثل :

أ- شجرة الرضوان ب- شجرة الزعفران ج- شجرة الريحان د- شجرة الجنان )

18 - من مجالات استخدام النباتات الطبيعية :

ا- تحضير الأدوية ب- انتاج الزيوت ج- تصنيع المبيدات الحشرية لقتل الحشرات د- كل ماسبق

19- اجراءات الدولة للحفاظ على النباتات الطبيعية ( العبارة الغير متوافقة )

ا- اصدار القوانين وفرض العقوبات والرسوم

ب- السجن لمدة سنة

ج- قيام البلديات بأسبوع التشجير

د- الاحتفال بيوم البيئة

## سادساً - مميزات وفوائد شجرة السمر

فوائد شجرة السمر	مميزات شجرة السمر
1- يستفاد من الازهار رحيق للنحل	1- تتحمل الجفاف والملوحة
2- تحد من زحف الصحراء	2- تمتد جذورها بالترربة الرملية مايقارب 17 متر
3- جمال ومنظر طبيعي	3- تعرف بشجرة المظلة الشائكة

## سابعاً - مميزات وفوائد شجرة الشوع

فوائد شجرة الشوع	مميزات شجرة الشوع
1- غذاء للاغنام والماعز والابل	1- تعتمد على ذاتها بتوفير الماء والغذاء
2- ثمارها وازهارها دواء للإنسان	2- تنمو بدرجات حرارة مرتفعة
3- تكافح التصحر وتطف الجو	3- تقاوم الآفات في الجو وتنتج الاوكسجين

## ثامناً - مميزات وفوائد نبات القرم ( المانغروف )

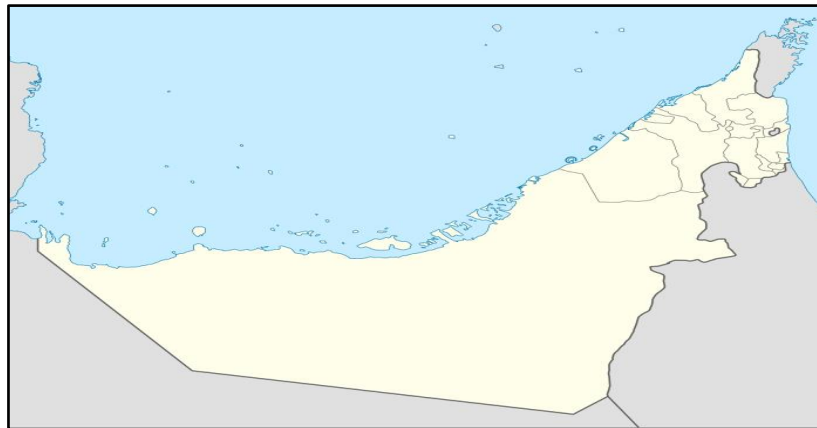
فوائد شجرة القرم	مميزات شجرة القرم
1- حاضنة للأسماك والروبيان	1- خضراء طول العام
2- حامية للشواطئ من الانجراف	2- تقاوم الملوحة الزائدة
3- حماية السواحل من التعرية بفعل الامواج والاعاصير	3- تنمو بالحد الفاصل بين البحار واليابسة

## تاسعاً - ما لإجراءات المتبعة في دولة الإمارات العربية المتحدة للحفاظ على النباتات الطبيعية

1- وضع القوانين
2- انشاء هيئة البيئة للحفاظ على البيئة
3- اهتمام البلديات باسبوع التشجير
4- الاحتفال السنوي بيوم البيئة

عاشراً - على خريطة دولة الإمارات العربية المتحدة الصماء حدد النباتات الآتية :

( شجرة القرم - شجرة السمر - شجرة الشوع - شجرة النخيل )



## الوحدة الأولى

### الدرس الثالث : الدولة والحكومة

أولاً - ضع المفهوم المناسب :

( الدولة - الحكومة - الأمة - الحدود السياسية - الحدود الهندسية - المياه الإقليمية - الدول البسيطة - الدول المركبة المندمجة - الدول المركبة المتحدة - المجال الجوي - الدول المفتوحة - الدول الحبيسة ( المغلقة )

1- الدول المغلقة ( الحبيسة )	دول تحيطها اليابسة من جميع الجهات
2- الحدود الهندسية	عبارة خطوط وهمية تفصل بين الدول موجودة فقط على الخرائط
3- المياه الإقليمية	مياه تجاور شواطئ الدولة حيث تمارس عليها سيادتها الأمنية والاقتصادية
4- دول مركبة	اندماج بعض الدول أو الإمارات أو الولايات في دولة واحدة
5- الدول المفتوحة	هي الدول التي تشرف على جبهة بحرية أو أكثر من جبهة
6- الحدود الهندسية	حدود سياسية تماشى مع خطوط الطول ودوائر العرض
7- دول متحدة مركبة	عبارة عن اتحاد بين الدول بناءً على رغبتهم ومحدد ضمن اتفاقيات تخدم مصالح تلك البلاد
8- دول بسيطة	الدولة التي تتكون من حكومة واحدة
9- الدولة	مجموعة منظمة من الأفراد تعيش على مساحة محددة من الأرض تجمعها سلطة حاكمة
10- الأمة	مجموعة من الشعوب الواحدة التي تتفق من حيث العادات والتقاليد واللغة والدين - العرب مثلاً
11- الحكومة	من يشرع القوانين ويحمي البلاد ويؤمّن مصالح الشعوب ويوفر لهم الأمن والدفاع عنهم والخدمات اللازمة
12- المجال الجوي	مساحة من الفضاء الجوي خاصة بدولة ما

ثانياً - اذكر أمثلة على نفس النمط من خلال الجدول الآتي ( بالإمكان الاعتماد على الخريطة المرفقة ) ص 7

مثال 2	مثال 1	
العراق - الأردن - قطر - البحرين	لبنان	1- الدول البسيطة
سويسرا - بارغواي -	تشاد	2- دول مغلقة ( حبيسة )
مصر وليبيا - كندا والولايات المتحدة	حدود بين مصر والسودان	3- حدود تساير خطوط الطول والعرض
السنغال وموريتانيا	حدود جبلية بين العراق وإيران	4- حدود تساير ظواهر طبيعية
الإمارات العربية المتحدة	استراليا	5- دول مركبة ( مندمجة )
مصر وسوريا -	مصر واليمن	6- دول مركبة ( متحدة )

ثالثاً - بين النتائج المترتبة على :

أ- عدم مراعاة اللغة والدين والعرق اثناء الفصل ورسم الحدود بين الشعوب

قيام نزاعات بين الشعوب وصراعات مستمرة تطالب بالانفصال

ب- عدم التزام بعض الدول بحدود المياه الإقليمية المحددة عالمياً

يعود ذلك الى قوتها وحاجتها الى مياه اقليمية اكبر من التي حددتها الأمم المتحدة

ج- وجود دولة بدون حكومة

فوضى ودمار ونهب وسلب

رابعاً - اختر الاجابة الصحيحة من بين الأقواس :

1- تختلف الدول فيما بينها بجوانب عدة :

أ- الموقع والمساحة ب- الامكانات الطبيعية والبشرية ج- النظام السياسي د- كل ماسبق (

2- من اسس قيام الدولة ( أ- الموقع والمساحة ب- الشعب ج- الموارد الاقتصادية د- التضاريس )

3- من الدول الكبيرة المساحة في العالم ( أ- البحرين ب- جيبوتي ج- لبنان د- الصين )

4- من الدول صغيرة المساحة ( أ- الولايات المتحدة ب- كندا ج- قطر د- الهند )

5- دولة عربية تشرف على واجهتين بحريتين هي : ( ممكن الاستناد على خريطة العالم المرفقة ) في هذه الملزمة

( أ- الجزائر ب- الامارات العربية المتحدة ج- فلسطين د- العراق )

6- عدد الدول العربية الحبيسة ( المغلقة ) :

( أ- دولتان ب- 3 دول ج- 4 دول د- لا توجد دول حبيسة مغلقة - جميعها مفتوحة )

7- من الدول الحبيسة في العالم ( الدول المغلقة ) :

( أ- سويسرة ب- تشاد ج- بارجواي د- كل ماسبق )

8- من الدول العربية المفتوحة ( المطلة على البحار أو المحيطات ) :

( أ- فلسطين ب- لبنان ج- الجزائر د- كل ماسبق )

9- يطلق على المياه التي تشرف عليها دولة الامارات العربية المتحدة بالمياه :

( أ - المجاورة ب- الشاطئية ج- الاقليمية د- الساحلية )

10 - من أبرز الظواهر التي يستند اليها في تعيين الحدود ورسومها :

( أ- التركيب اللغوي ب- التركيب العرقي ج- المذهب والدين د- كل ماسبق )

11- من أهم الدول التي اتخذت الجبال أساساً في تخطيط حدودها السياسية :

أ- مصر والسودان ب- مصر وليبيا ج- العراق وإيران د- السعودية والإمارات

12- الحدود الهندسية هي :

أ- حدود تتماشى مع خطوط الطول ب- حدود تتماشى مع دوائر العرض

ج- حدود تتماشى مع خطوط الطول ودوائر العرض د- حدود ليس لها علاقة بخطوط الطول والعرض

13- من الدول البسيطة ذات الحكومة الواحدة :

أ- مصر وسوريا ب- الامارات العربية المتحدة ج- الولايات المتحدة الامريكية د- تونس

- 14- من الدول المركبة المندمجة ( أ- الصين ب- الامارات ج- تركيا د- سوريا )  
 15- من الدول المركبة المتحدة ( أ- مصر وسوريا ب- مصر والسودان ج- مصر والعراق د- مصر فقط )  
 16- زيادة حجم عدد السكان في أي دولة ينجم عنه :

أ- زيادة بعدد القوى العاملة ب- زيادة بعدد أفراد الجيش ج- زيادة الخبرات والمهارات د- كل ماسبق

17 - الجهة المعنية في تأمين الخدمات للسكان والدفاع عنهم وحمايتهم هي :

أ- الحكومة ب- الرئيس ج- وزارة البيئة د- وزارة الداخلية

18- يطلق على الدول العربية مفهوم : ( أ- الشعب العربي ب- الأمة العربية ج- العرب د - العريان )

19- تأسست مدينة مصدر عام ( أ- 2005 ب - 2006 ج- 2007 د- 2008 )

20- تقع مدينة مصدر بالقرب من مطار : ( أ- دبي ب- الفجيرة ج- أبوظبي د- الشارقة )

21- من ميزات الدول المركبة - المتحدة :

أ- العلم واحد ب- القانون واحد ج- الدستور واحد د- العملة مختلفة

خامساً - من عوامل قيام الدول :

العوامل البشرية

العوامل الطبيعية

سادساً - من العوامل الطبيعية لقيام الدول :

الموقع الجغرافي	المساحة	التضاريس	المناخ	النبات الطبيعي
-----------------	---------	----------	--------	----------------

سابعاً - من العوامل البشرية لقيام الدول :

السكان	الموارد الاقتصادية
--------	--------------------

ثامناً - من اسس قيام الدولة

السلطة	الشعب	الأرض
--------	-------	-------

تاسعاً - من وظائف الحدود السياسية

1- ضبط عمليات التسلل والتهرب
2- تنظيم انتقال السلع والبضائع
3- حماية الدولة من الامراض والأوبئة
4- تحديد سيادة الدولة





## الوحدة الثانية

### الدرس الأول : النهضة الأوروبية

أولاً - ضع المفهوم المناسب :

( الهرطقة - الانسانيون - محمد الثاني - عصر النهضة - كوبر نيكوس - مكيا فيلي- ليوناردو دافينشي - دانتي الجيبري - ارسموس الروترdami - مايكل انجلو- جون كالفن - فاطمة الزعابي - فاطمة المنصوري

1- محمد الثاني	-سلطان عثماني كان له أثر كبير في فتح مدينة القسطنطينية عام 1453 م
2- الهرطقة	-البدعة أو الخروج عن المألوف وعن العقيدة المعترف بها من قبل الكنيسة
3- مايكل انجلو	-رسام ونحات ومهندس ايطالي له لوحة تعرف بلوحة يوم القيامة
4- مكيا فيلي	- رائد أوربي ايطالي له كتاب يسمى ( الأمير )
5- ارسموس الروترdami	- مفكر أوربي هولندي ولد في مدينة امستردام وله كتاب يسمى ( مدح الجنون )
6- كوبر نيكوس	- مفكر أوربي هولندي له نظرية حول دوران الارض حول الشمس
7- ليوناردو دافينشي	- رسام عالمي أوربي اشتهر برسم لوحة الموناليزا أو الجيوكندة
8- دانتي الجيبري	- رائد ايطالي له كتاب يدعى بالكوميديا الالهية
9- جون كالفن	- مفكر اوربي فرنسي وضع كتب ( تأسيس الديانة المسيحية )
10- فاطمة الزعابي	- مهندسة امارايتة وضعت برنامج لتطوير الباور بوينت في تصميم القصور هندسياً
11- الانسانيون	-مجموعة من المفكرون الأوروبيون اهتموا بدراسة الانسان من كل جوانبه الأدبية والفنية والعلمية
12- عصر النهضة	- مفهوم أطلق على الفترة الممتدة ما بين العصور الوسطى والعصور الحديثة

ثانياً - ما لسبب الرئيسي في قيام النهضة في ايطاليا قبل غيرها من الدود الأوروبية الأخرى

1- الاتصال الحضاري مع المسلمين
2- ثراء المدن الايطالية
3- الموقع الجغرافي المتميز
4- وجود البابوية في روما

ثالثاً- من عوامل قيام النهضة في أوربا قبل غيرها من العالم

1- ظهور المدن الكبرى
2- الاختراعات
3- فتح القسطنطينية
4- حركة احياء العلوم والآداب

رابعاً- من أبرز الاختراعات التي ظهرت في أوربا خلال عصر النهضة

البوصلة	العدسات	المنظار	الطباعة وصناعة الورق
---------	---------	---------	----------------------

خامساً- أجب عن جميع الأسئلة الآتية :

أ- ما سبب هجرة العلماء من مدينة القسطنطينية الى اليونان خلال عصر النهضة

بسبب الحروب التي تعرضت اليها مدينة القسطنطينية

ب- مالعوامل التي أدت الى جعل اماره الشارقة مركزاً وعاصمة للثقافة الاسلاميه لسنة 2014

جهود الامارة في تشجيع القراءة ونشر الثقافة وقيام المعارض والمهرجانات الثقافية

سادساً - اختر الاجابة الصحيحة من بين الآقواس :

1- يطلق مفهوم ( عصر النهضة الأوروبية ) على الفترة الممتدة من :

أ- من العصور الوسطى الى العصور الحديثة

ب- من العصور الحجرية الى العصور الوسطى

ج- العصر الحديث

د- كل ماسبق

2- يقصد بالهرطقة :

أ- البدعة والخروج عن معتقدات الكنيسة

ب- الالتزام بمعتقدات الكنيسة وعدم الخروج عنها

ج- انقسام المجتمع الاوربي الى عدة طبقات

د- كل ماسبق

3- يطلق مفهوم الانسانيون على :

أ- كل مايتعلق بحياة الانسان الأدبية

ب- كل مايتعلق بحياة الانسان العلمية

ج- كل ما يتعلق بحياة الانسان الفنية

د- كل ماسبق

4- ظهرت المدن في أوروبا وتوسعت وكان ذلك بفضل :

أ- ازدهار التجارة

ب- ازدهار الصناعة

ج- ازدهار الزراعة

د- كل ماسبق

5- تقع مدينة القسطنطينية في :

أ- ايطاليا

ب- تركيا

ج- اليونان

د- فلسطين

6- فتحت مدينة القسطنطينية عام 1453 على يد السلطان :

أ- محمد الثاني

ب- محمد الثالث

ج- سليم الأول

د- سليمان القانوني

7- من أبرز الاختراعات في عصر النهضة :

أ- الطباعة

ب- صناعة الورق

ج- العدسات

د- كل ماسبق

8- تعود جنسية فاطمة الزعابي المهندسة في تصميم القصور هندسيا عبر الباور بوينت الى :

أ- الإمارات العربية المتحدة

ب- البحرين

ج- السعودية

د - الكويت

9- من عوامل قيام النهضة في ايطاليا قبل غيرها من الدول الأوربية

أ- ثراء المدن الايطالية

ب- الاتصال الحضاري مع المسلمين

ج- وجود البابوية في روما

د- كل ماسبق

10- من أبرز مؤلفات راند النهضة أراسموس الروترdami :

أ- الكوميديا الالهية

ب- لوحة الموناليزا

ج- الأمير

د- مدح الجنون

11- يعود اصل اراسموس الروترdami الى :

أ- هولندا

ب- بولندا

ج- إيرلندا

د- اسبانيا

12- رسام ونحات ومهندس وشاعر ايطالي :

أ- مكيافيلي

ب- مايكل انجلو

ج- جون كالفن

د- ليوناردو دافينشي

13- عالم بولندي وضع نظرية مخالفاً اليوناني بطليموس حول دوران الارض حول الشمس هو :

أ- جون كالفن

ب- اراسموس الروترdami

ج- فرديناند ماجلان

د- كوبرنيكوس

14- تتبع جزيرة السعديات الى أمانة :

أ- أبو ظبي

ب- امانة الشارقة

ج- أمانة الفجيرة

د- امانة أم القيوين

15- تقع البابوية ( مركز البابا ) الفاتيكان حالياً في :

أ- روما

ب- مدريد

ج- لندن

د- برلين

سابعاً : ما لعوامل التي أدت الى قيام النهضة في أوروبا

1- ظهور المدن

2- فتح  
القسطنطينية

3- الاختراعات











4- حركة احياء  
العلوم والاداب

انتهى الدرس بالتوفيق والنجاح

## الوحدة الثانية

### الدرس الثاني : استكشاف البحار

أولاً - صل بين الصورة ومايناسبها

	
مضيق ماجلان ( أمريكا الجنوبية )	كريستوفر كولومبس
	
أمريكا الشمالية	فرديناند ماجلان
	
راس الرجاء الصالح	فاسكو دي جاما
	
أمريكا الجنوبية	بارثلميو دياز
	
ساحل ملبار - الهند	أمريكو فيسبو تيشي

ثانياً - صنف دوافع الكشوف الجغرافية حسب الجدول :

( نشر الدين المسيحي - تطويق العالم الاسلامي - تقدم المعرفة الجغرافية - نهب الثروات - التوسع والهيمنة )

( - تطوير صناعة السفن - البحث عن التنقيب )

دوافع اقتصادية	دوافع علمية	دوافع سياسية
نهب الثروات	تقدم المعرفة الجغرافية	التوسع والهيمنة
تطوير صناعة السفن - البحث عن التنقيب	-----	تطويق العالم الاسلامي

ثالثاً - حدد على خريطة العالم الصماء الآتية كلاً مما يلي :

(1- جزر البهاما 2 - مضيق ماجلان 3- راس الرجاء الصالح 4- ساحل ملبار

5- دولة الامارات العربية المتحدة 6- البرتغال )



رابعاً - من نتائج الكشوفات الجغرافية السياسية :

أ- أفرزت الكشوفات الجغرافية مفهومي الاستعمار والاستيطان

ب- بناء الاساطيل الضخمة الحديثة

ج- ظهور قوميات ودول جديدة مثل الولايات المتحدة الامريكية و استراليا

السؤال :

----- -----	1- اذكر أياً من النتائج السابقة يعد الأكثر أهمية من وجهة نظرك
----- -----	2- بين مبررات اختيارك

خامساً - أن ظاهرة الاتجار بالبشر تعد جريمة كبرى يعاقب عليها القانون , وهناك الكثير من الدول تتساهل حول تلك الظاهرة لما لها من مخاطر كبيرة على الأطفال والنساء والشباب , بين ماذا فعلت دولة الامارات حول هذه الظاهرة .



سادساً - قدم 3 من الخدمات التي يمكن أن يقدمه مشروع الإمارات لاستكشاف المريخ - لتحقيق التقدم والازدهار للمجتمع الاماراتي والعالمي .



سابعاً - اذكر 2 فقط لكل مما يلي : ( من نتائج الكشوفات الجغرافية )

النتائج العلمية	النتائج الدينية	النتائج الاقتصادية

ثامناً : اختر الاجابة الصحيحة من بين الأقواس :

1- من المستكشفين والرحالة الإسبان :

أ- بارثلميو دياز ب- فاسكو دي جاما ج- أمريكي فيسبوتشي د- كريستوفر كولومبس

2- الرحالة الذي أثبت كروية الأرض :

أ- فاسكو دي جاما ب- فرديناند ماجلان ج- جيمس كوك د- جان كارتية

3- يعود الفضل في اكتشاف قارة استراليا الى الرحالة والبحار :

أ- جيمس كوك ب- كريستوفر كولومبس ج- جان كارتية د- بارثلميو دياز

4- تم اكتشاف رأس الرجاء الصالح على يد البحار البرتغالي :

أ- أمريكو فيسبوتشي      ب- فاسكو دي جاما      ج- جان كارتيه      د- جيمس كوك

5- وصل الرحالة البرتغالي فاسكو دي جاما الى :

أ- سواحل الهند ( ملبار )      ب- شواطئ كندا      ج- استراليا      د- جزر البهاما

6- أطلق مفهوم رأس العواصف من قبل البرتغالي :

أ فاسكو دي جاما      ب - كريستوفر كولومبس      ج- بارثلميو دياز      د- لأحد منهم

7- من اشهر البحارة العربي والملقب بأسد البحار :

أ- المسعودي      ب- ابن بطوطة      ج- شهاب الدين أحمد بن ماجد      د- الإدريسي

8- يعود الفضل الأول في اكتشاف البحار الى :

أ- البرتغال واسبانيا      ب- اسبانيا      ج- البرتغال      د- ايطاليا

9- من النتائج العلمية لحركة الكشوف الجغرافية :

أ- اثبات كروية الارض      ب- نشر الدين المسيحي الكاثوليكي  
ج- انتشار تجارة الرقيق      ج- زيادة كمية المعادن الثمينة

10- أكثر دولة يطلق عليها مفهوم الاستعمار والاستيطان هي :

أ- البرتغال      ب- اسبانيا      ج- ايطاليا      د - إسرائيل

11- أكثر الدول العربية التي اهتمت بمكافحة تجارة البشر هي :

أ- السعودية      ب- الجزائر      ج- الامارات      د - الكويت

انتهى الدرس

## الوحدة الثانية





### الدرس الثالث : الثورة الصناعية الرابعة

أولاً - ضع المفهوم المناسب :

( الثورة الصناعية الرابعة - الذكاء الاصطناعي - الروبوت - مجلس الثورة الصناعية - برنامج الثورة الصناعية اكس ( x ) )

1- الروبوت	- آلة تتحرك أو توماتيكياً بأوامر بشرية لتنفيذ مهمة معينة
2- الثورة الصناعية الرابعة	جمع تكنولوجيا الجيل القادم والتقاء العالم الحسي بالعالم الرقمي , تقودها محركات اساسية مثل الذكاء الاصطناعي والروبوت والطابعات ثلاثية الابعاد و .....
3- برنامج الثورة الصناعية الرابعة اكس ( x )	- برنامج تدريبي تعليمي يستثمر في تطوير قدرات ومهارات النخبة من الطلاب الاماراتيين المتميزين في المجالات العلمية
4- الذكاء الاصطناعي	- سلوك وخصائص معينة تتسم بها البرامج الحاسوبية تجعلها تحاكي القدرات الذهنية البشرية وأنماط عملها .
5- مجلس الثورة الصناعية الرابعة	- مجلس أنشأته دولة الامارات لتصبح أول مختبر عالمي مفتوح لتطبيق تكنولوجيا الثورة الصناعية الرابعة .

ثانياً - صل بين الصورة ومايناسبها :

أواخر القرن التاسع عشر	
أواخر القرن الثامن عشر	
الثورة الصناعية الرابعة	
أواخر القرن العشرين	

ثالثاً - أكمل الجدول الآتي : الثورة الصناعية الرابعة

السلبيات	الإيجابيات
1- انتشار البطالة	1- ارتفاع معدلات التنمية الاقتصادية
2- سيطرة الشركات الكبرى على الصغرى والمتوسطة	2- انخفاض التكاليف



رابعاً- أهداف مجلس الامارات للثورة الصناعية الرابعة :



خامساً - ما لغرض من وضع اشارة ( x ) للثورة الصناعية الرابعة - ص 91

كرمز للدلالة على استدامته ومواكبته للتطورات المرتبطة بالثورات الصناعية القادمة

سادساً- كيف لدولة الامارات ان ترفع من مهارة العاملين لديها - ص 92

من خلال التدريب المهني والفني

سابعاً- ماهي المحاور الستة التي تبنتها تكنولوجيا الثورة الصناعية الرابعة في الامارات - ص 88

أ- تأسيس أول مجلس للثورة الصناعية الرابعة على مستوى العالم

ب- اطلاق برنامج خاص لضم حكومات المنطقة الى مجلس المستقبل

ج - تأسيس مجلس الثورة الصناعية الرابعة لدعم صناع القرار حول العالم

ثامناً : اختر الاجابة الصحيحة من بين الأقواس

1- ظهرت الثورة الصناعية الثانية في أواخر القرن :

أ - 17      ب- 18      ج- 19      د- 20

2- يقصد بالثورة الصناعية الرابعة :

أ- التوصل الى استخدام الطاقة الكهربائية

ب- اختراع الحاسب الالى

ج- استخدام الطاقة البخارية

د- التقاء العالم الحسي بالعالم الرقمي

3- من مميزات الثورة الصناعية الرابعة :

أ- السرعة ومستوى التنفيذ

ب- التأثير الممتد والشامل لجميع نواحي الحياة

ج- تعددية النظام

د- كل ماسبق

4- من ايجابيات الثورة الصناعية الرابعة

أ- انتشار البطالة بشكل واسع

ب- اتساع الفجوة بين الفقراء والأغنياء

ج- تخفيض تكاليف الانتاج

د - كل ماسبق

5- من سلبيات الثورة الصناعية الرابعة :

- أ- تأمين وسائل النقل والمواصلات بثمن أقل  
ب- اختصار للوقت  
ج- هيمنة الشركات الكبرى على الانتاج  
د- كل ماسبق

6- أولى الدول العربية في تأسيس مجلس الثورة الصناعية الرابعة :

- أ- مصر  
ب- الامارات العربية المتحدة  
ج- السعودية  
د- الكويت

7- ترأس الشيخ حمدان بن محمد بن راشد آل مكتوم وفد الإمارات الى المنتدى الاقتصادي العالمي في سويسرة عام :

- أ- 2017  
ب- 2018  
ج- 2019  
د- 2020

\*\*\*\*\* بالتوفيق والنجاح \*\*\*\*\*

مدرس المادة

خليل ابراهيم الشواخ