

المادة : رياضيات  
التاريخ : 2018 / 5 / 7

الموضوع : المساحة  
ورقة عمل رقم (3)  
المعلمة : نها قلعه جي



دولة الإمارات العربية المتحدة

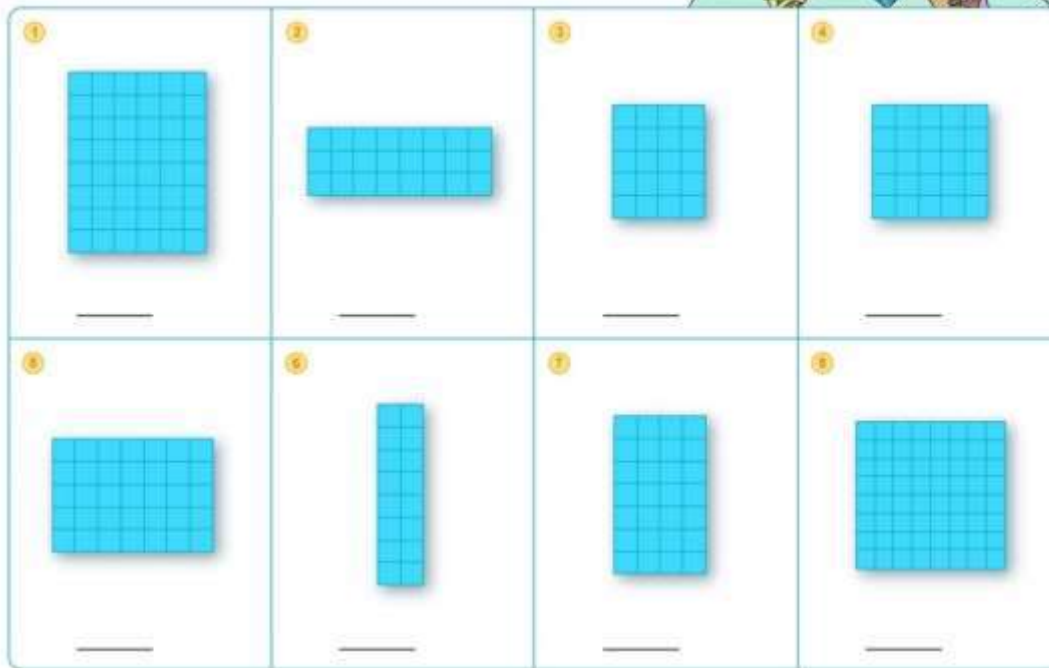
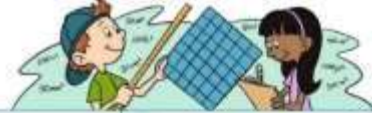
دائرة التعليم والمعرفة

الإسم : .....  
الصف: الثاني، الشعبة: .....

العام الدراسي 2017-2018  
الفصل الدراسي الثالث

**مؤشرات الأداء :** أن يعد المربعات لوصف المساحة .

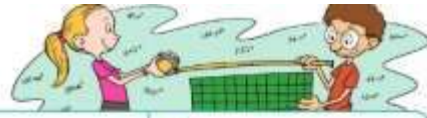
**السؤال الأول :** أعد المربعات لوصف المساحة :



**السؤال الثاني :** أحوط الأجزاء المتساوية :



**السؤال الثالث: أقسم الأشكال لإيجاد المساحة :**



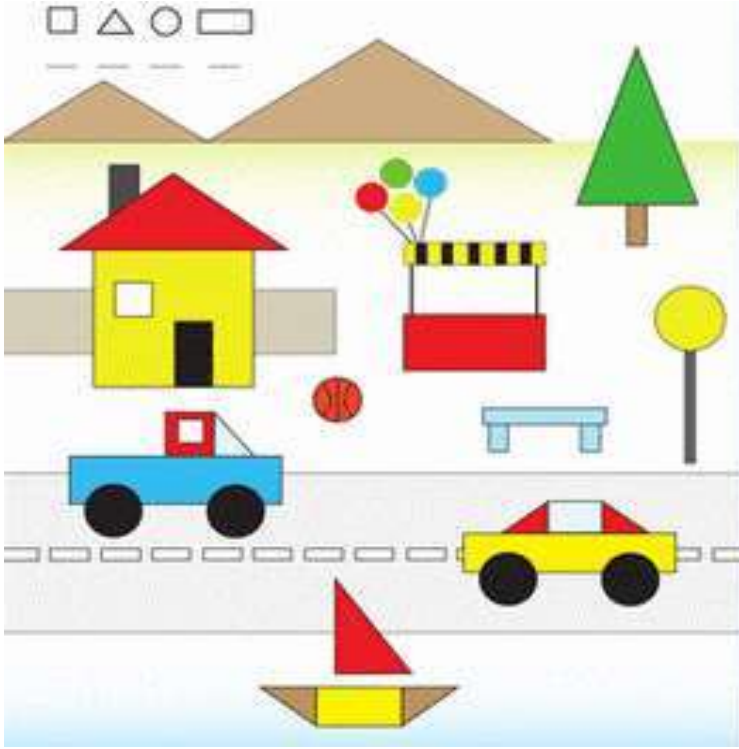
1 3 2 _____	2 5 5 = _____	3 3 9 = _____	4 8 2 = _____
5 6 3 _____	6 4 6 = _____	7 10 10 = _____	8 10 5 = _____

**السؤال الرابع: أصف الأجزاء المتساوية :**

1 	2 	3 
4 	5 	6 
7 	8 	9 

**السؤال الخامس : أقسم الأشكال إلى أجزاء متساوية :**

**السؤال السادس: أكتشف عدد المستطيلات والدوائر والمثلثات والمربعات**



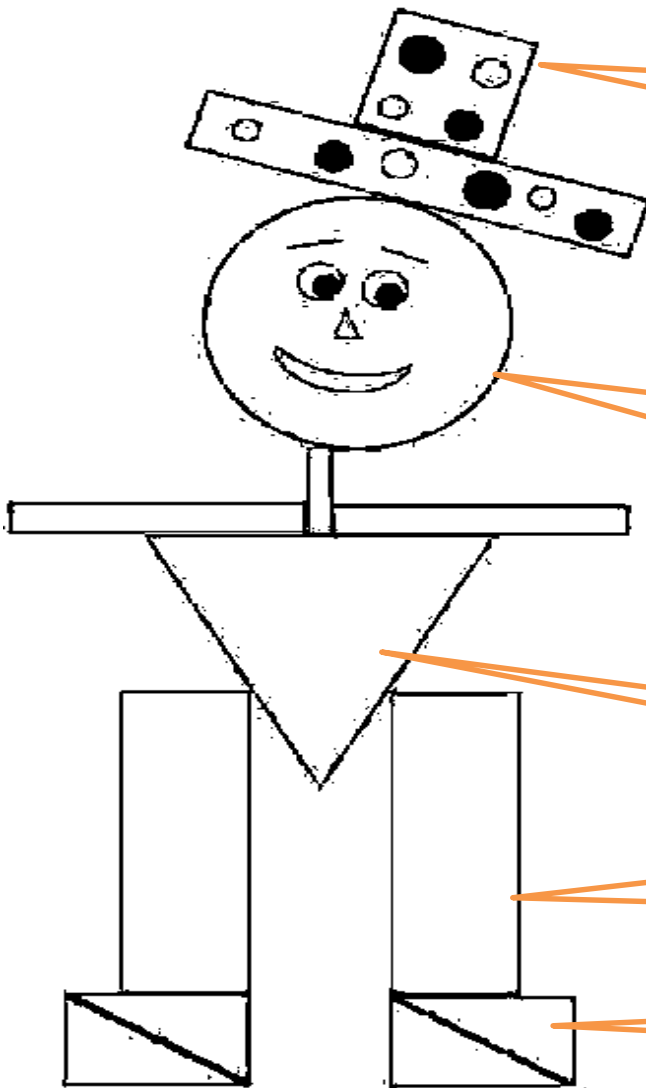
.....

.....

.....

.....

**السؤال السابع:**



قبعتي فيها  
دوائر.....  
مستطيلات.....  
مربعات.....

وجهي فيه  
دوائر.....  
مستطيلات.....  
مربعات.....  
مثلثات.....

جسمي  
فيه.....

أرجلي  
فيها.....

أقدامي فيها.....