

الاسم : الصف الثاني : (.....)

استكمل البطاقة التعريفية التالية ،

الماء - الكائنات الحية - الأخضر - كروي - الكرة الأرضية

أنا

شكلي

لون اليابس هو اللون

تعيش على سطحي

لون الأزرق هو اللون



الاسم : الصف الثاني : (.....)

استكمل البطاقة التعريفية التالية ،

الماء - الكائنات الحية - الأخضر - كروي - الكرة الأرضية

أنا

شكلي

لون اليابس هو اللون

تعيش على سطحي

لون الأزرق هو اللون



الاسم : الصف الثاني : (.....)

استكمل البطاقة التعريفية التالية ،

الماء - الكائنات الحية - الأخضر - كروي - الكرة الأرضية

أنا

شكلي

لون اليابس هو اللون

تعيش على سطحي

لون الأزرق هو اللون



الاسم : الصف الثاني : (.....)

استكمل البطاقة التعريفية التالية ،

الماء - الكائنات الحية - الأخضر - كروي - الكرة الأرضية

أنا

شكلي

لون اليابس هو اللون

تعيش على سطحي

لون الأزرق هو اللون




أكله و لون



اسم: الصف الثاني: >



من يعيش على سطحي



.....



اختر

يسمى كوكب الأرض بالكوكب
الأخضر - الأحمر - الأزرق

من أنا؟

ما هو شكلي؟

ما لون اليابس؟

.....

ما لون الماء؟

.....

مما يتكون كوكب الأرض؟



ويحيط به





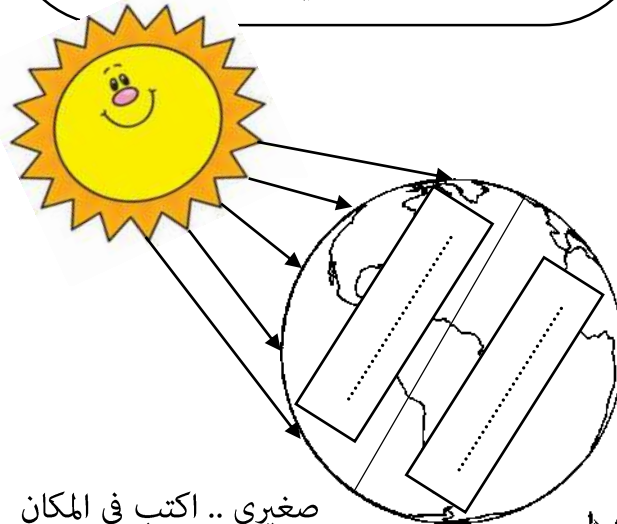
اختار الإجابة الصحيحة فيما يلي :

- الكرة التي نعيش عليها هي كرة :
(صغيرة - كبيرة جدا - صغيرة جدا)
- يستغرق دوران الأرض حول نفسها :
(20 ساعة - 12 ساعة - 24 ساعة)
- عمر النهار :
(12 ساعة - 10 ساعة - 5 ساعة)
- كم قمر للأرض :
(() - () - ())
- تمد الأرض بالضوء والحرارة :
(الشمس - القمر - الكواكب)

ثانيا « الحركة اليومية للأرض »

أضع علامة (✓) أمام العبارة الصحيحة
وعلمة (✗) أمام العبارة غير الصحيحة
فيما يلي :

- تظهر الشمس بالنهار ()
- يبدأ النهار بغروب الشمس ()
- القمر ينير الأرض نهارا ()
- الناس ينامون في الليل ()
- أذهب للمدرسة في النهار ()



صغيري .. اكتب في المكان
المناسب على الكرة الأرضية الليل
والنهار ؟



دَوْرَانُ الْأَرْضِ حَوْلَ نَفْسِهَا تَسْمَى
(الْحَرَكََةُ)



النتيجة

تعاقب
و.....



اختار الإجابة الصحيحة فيما يلي :

1. تدور الأرض حول الشمس من :

. الشرق إلى الغرب .

. الجنوب إلى شمال .

. الغرب إلى الشرق .

2. يستغرق دوران الأرض حول الشمس :

(سنة - ثلاث سنوات - سنتان)

3. أذهب إلى البحر في فصل :

(الخريف - الربيع - الصيف)

4. تتساقط أوراق الأشجار في فصل :

(الخريف - الشتاء - الصيف)

5. تغزر الأمطار في فصل :

(الربيع - الصيف - الشتاء)

التا > الحركة السنوية للأرض >>

صغيري .. اكتب اسم كل فصل من الفصول الأربعة في مكانها المناسب




.....

.....




.....

.....



دوران الأرض حول الشمس تسمى (الحركة)

النتيجة



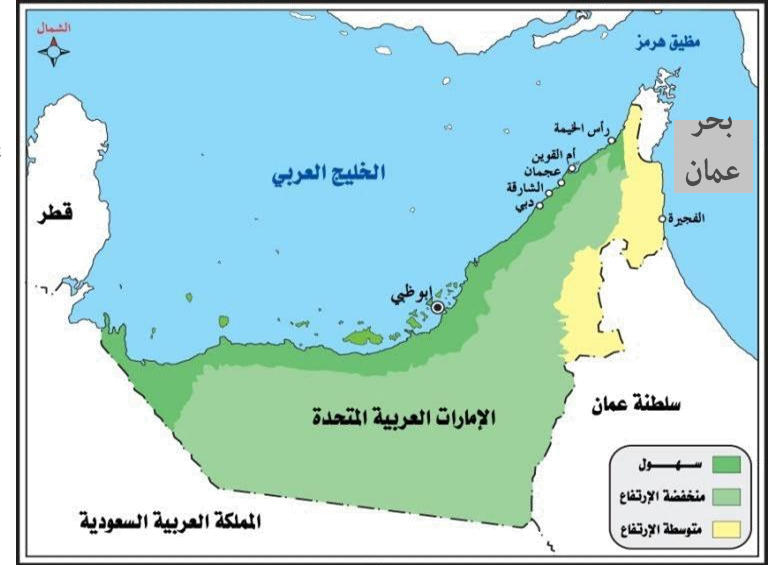
حدوث





أستكمل الجدول بالكلمات التالية:
(الخليج - المحيطات - المضيق - البحر)

الحقائق	
أكثر عمقا
أصغر مساحة
عددتها 5
تصل الخليج بالمحيط عبر فتحات ضيقة
تحيط به اليابسة من ثلاث جهات



صغيري ، من خلال الخريطة التي أمامك حوط البحر والخليج الذي تطل عليها دولة الإمارات ثم اكتبها:

- الخليج
- بحر


صغيري بأناملك الصغيرة ارسم دائرة حول المضيق الموجود في الخريطة.

رتب المحيطات من الأكبر إلى الأصغر بكتابة الأرقام بين القوسين:


- () المحيط المتجمد الجنوبي
- () المحيط المتجمد الشمالي
- () المحيط الهادي
- (2) المحيط الأطلسي
- () المحيط الهندي

صغيري الهدع .. ارسم كما هو مطلوب

ارسم وسيلة نقل في البحار والمحيطات



ارسم كائن يعيش في البحار والمحيطات



رتب المحيطات من الأكبر إلى الأصغر بكتابة
الأرقام بين القوسين :

() المحيط المتجمد الجنوبي

() المحيط المتجمد الشمالي

() المحيط الهادي

(2) المحيط الأطلسي

() المحيط الهندي

رتب المحيطات من الأكبر إلى الأصغر بكتابة
الأرقام بين القوسين :

() المحيط المتجمد الجنوبي

() المحيط المتجمد الشمالي

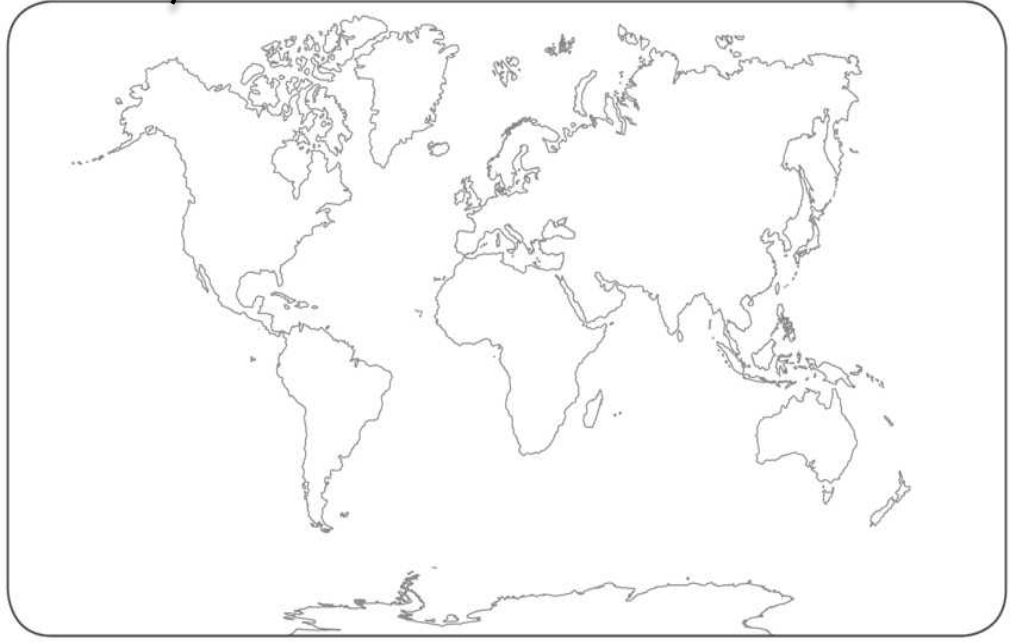
() المحيط الهادي

(2) المحيط الأطلسي

() المحيط الهندي



لون القارة التي تقع فيها دولة الإمارات :



رتب القارات من الأكبر إلى الأصغر بكتابة الأرقام بين القوسين :



- () قارة أوروبا
- () قارة أمريكا الجنوبية
- () قارة أفريقيا
- () قارة أستراليا
- (3) قارة أمريكا الشمالية
- () قارة آسيا
- () القارة القطبية الجنوبية

اختر الإجابة الصحيحة فيما يلي :

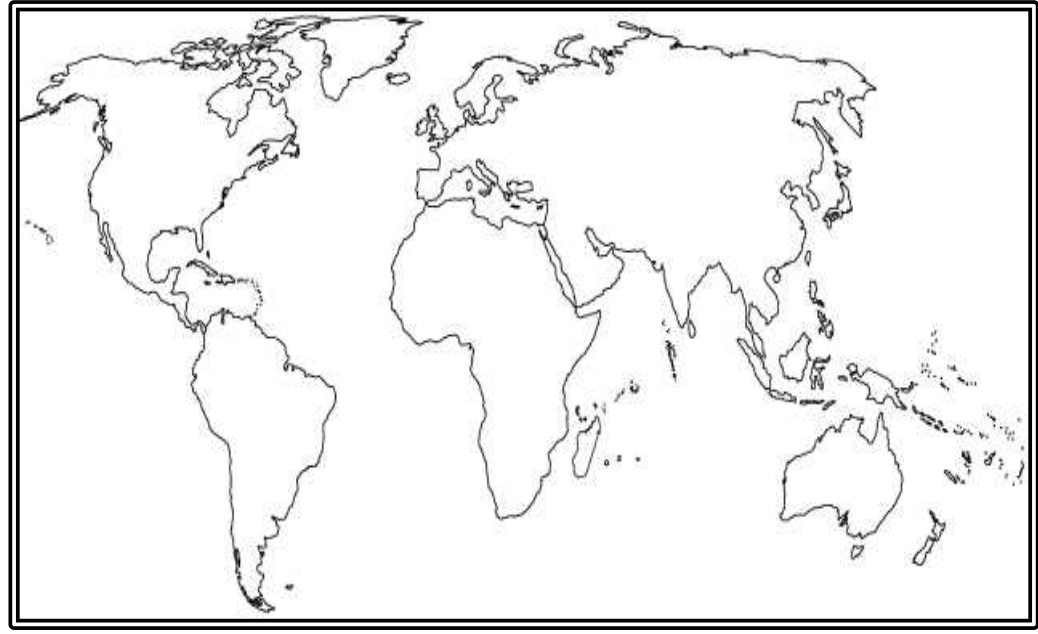
- أكبر قارة في العالم هي قارة :
(أفريقيا - أوروبا - آسيا)
- قارة تحيط بها المياه من جميع الجهات وتعتبر أصغر قارة :
(أستراليا - أمريكا الشمالية - أفريقيا)
- عدد قارات العالم هو :
(12 - 7 - 5)
- قارة توجد بها جبال الألب :
(القطبية الجنوبية - آسيا - أوروبا)
- قارة باردة جدا ولا يوجد بها سكان :
(أستراليا - أمريكا الشمالية - القطبية الجنوبية)

أنا أعلى قمة في العالم .. أقع في قارة آسيا..

فمن أنا ؟؟



جبال

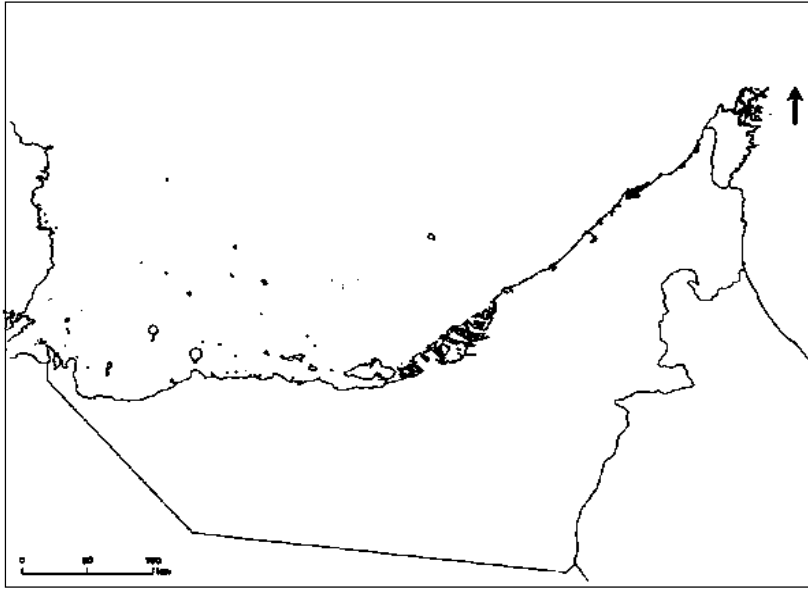


اقرأ الخريطة ثم أستكمل الآتي

تقع دولة الإمارات في الوطن العربي
لون دولة الإمارات على الخريطة.

اقرأ الخريطة ثم أستكمل الآتي

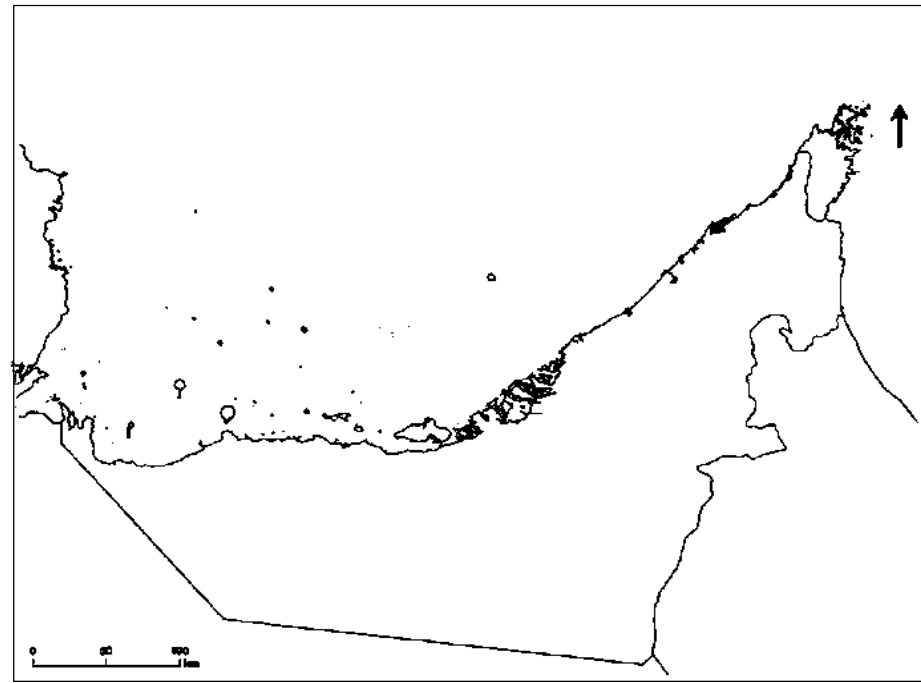
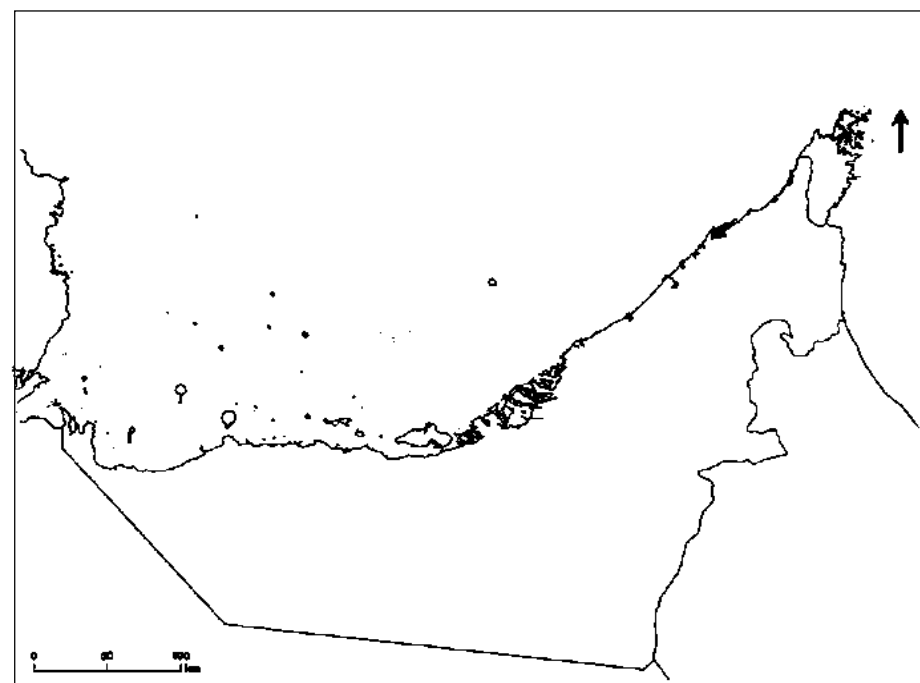
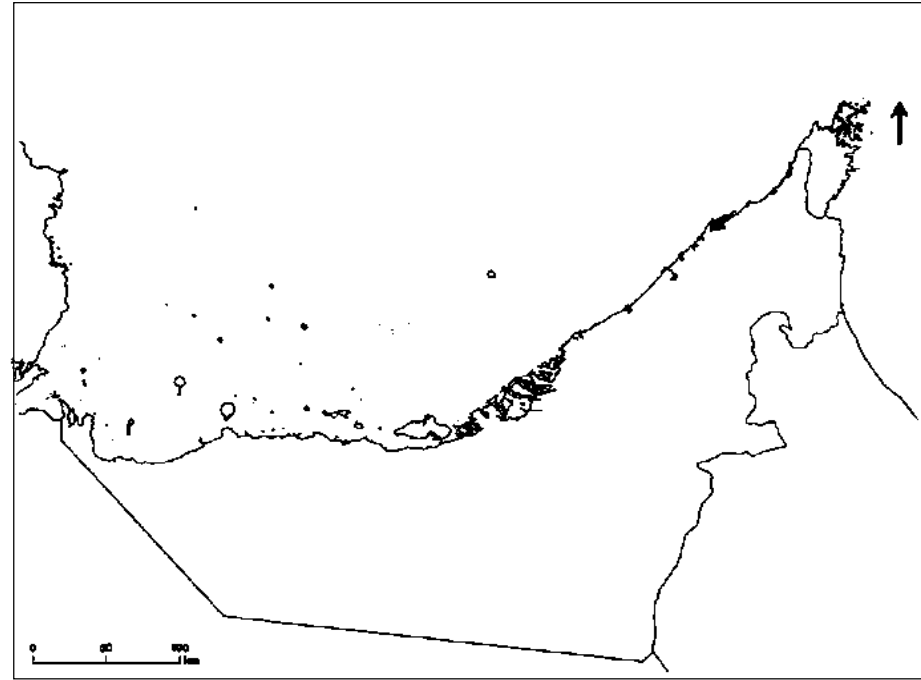
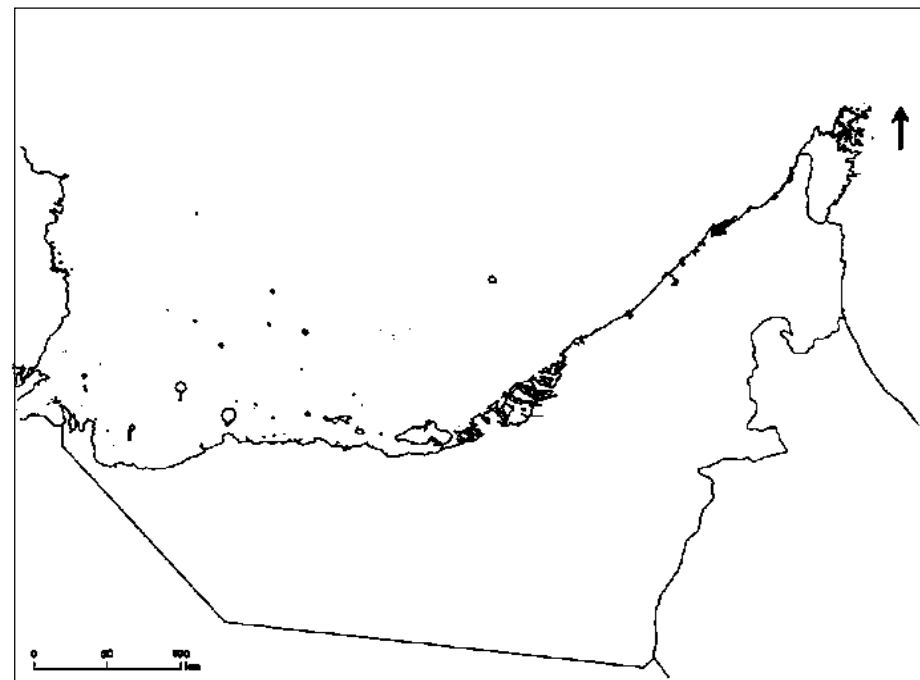
- تقع دولة الإمارات في العالم القديم.
- قارات العالم القديم هي و و
- اكتب قارات العالم القديم على الخريطة .
- حوط دولة الإمارات على الخريطة

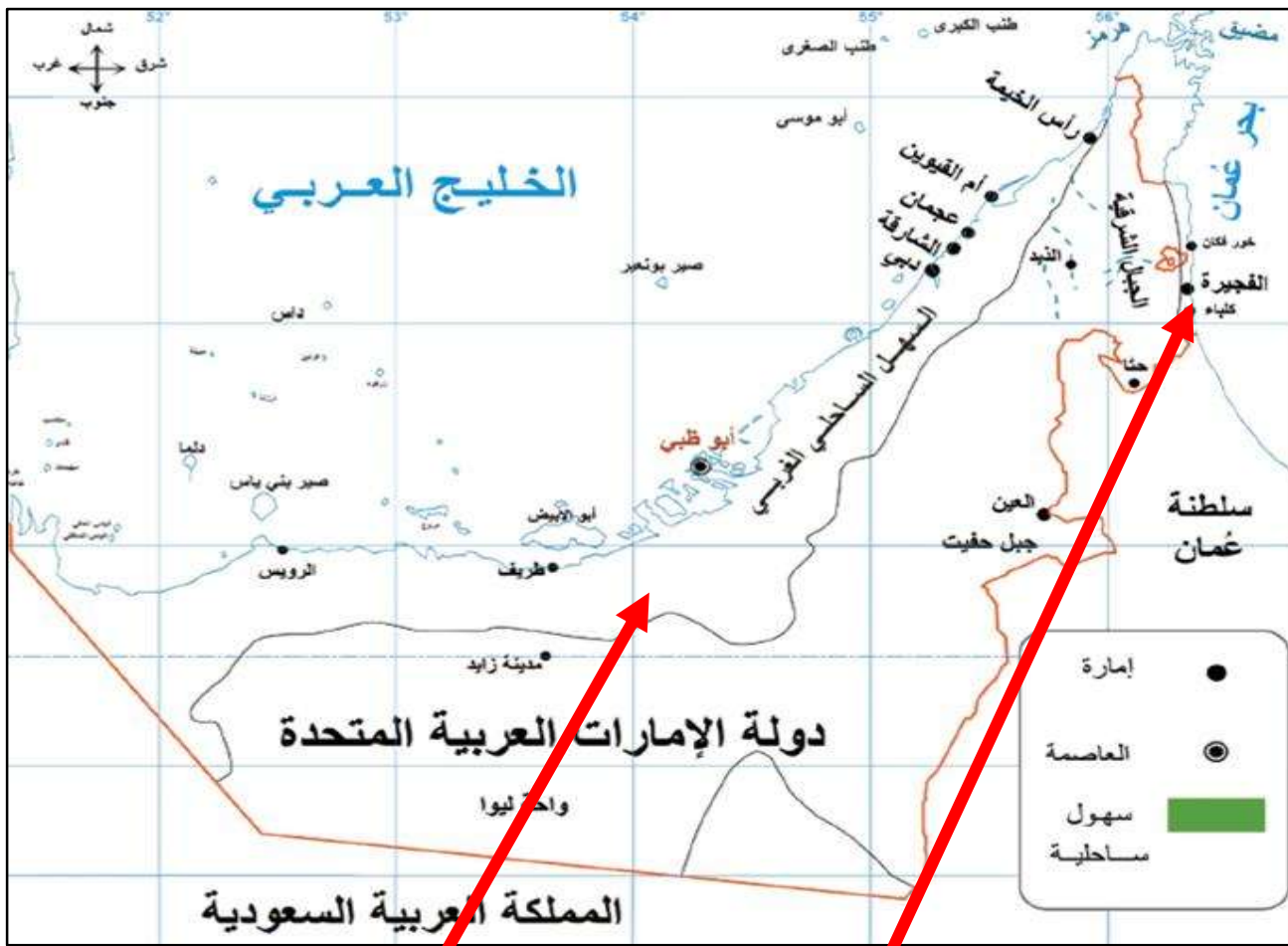


الكلمات المساعدة :
الخليج العربي - عمان -
السعودية - بحر عمان

أعز وأهدر







أكمل
الجدول
أسفل
الخريطة
ولون المياه
التي تطل
عليها دولة
الإمارات

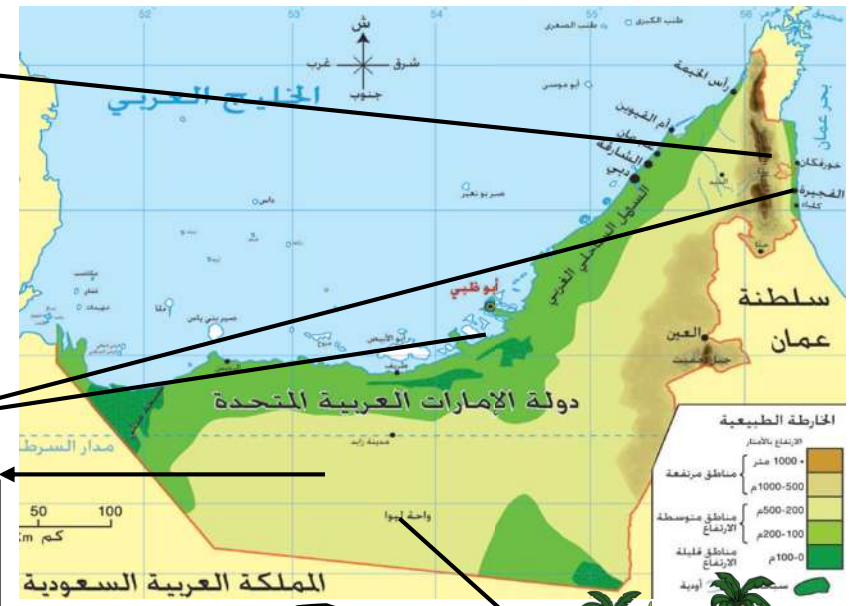
أنا السهل الساحلي	أنا السهل الساحلي	أوجه المقارنه
على الخريطة	على الخريطة	لون
قصير - طويل	قصير - طويل	حوط الاجابة الصح
واسع - ضيق	واسع - ضيق	حوط الاجابة الصح

ثانياً <المظاهر الطبيعية في بلادي>

اقرأ الخريطة ثم أستكمل الآتي




..... هي أرض مرتفعة ولعا قمة
 تقع الجبال في دولة الإمارات في جهة
 أعلى جبل في دولة الإمارات قمة جبل
 ومن أشهر الجبال في الإمارات أيضا جبل



..... هي أرض منخفضة مستوية تمتد بالقرب من البحار

أوجه المقارنه	
أنا السهل الساحلي	أنا السهل الساحلي
.....
على الخريطة	على الخريطة
لون	لون
يطل على	يطل على
الخليج.....	بحر.....
قصر - طويل	قصر - طويل
اختار الاجابة الصحيحة	اختار الاجابة الصحيحة
واسع - ضيق	واسع - ضيق
اختار الاجابة الصحيحة	اختار الاجابة الصحيحة
من أشهر المدن	من أشهر المدن
.....و.....و.....
.....و.....و.....

أرض منخفضة وسط الصحراء تكثر فيها المياه العذبة والزراعة فمن أنا
 مثل واحة




كثبان رملية صفراء اللون فمن أنا
 طقسى و



صل الصورة بالكلية فيما يلي :

اختر الإجابة الصحيحة فيما يلي :

1. عاصمة دولة الإمارات هي :
(دبي - أبوظبي - الشارقة)
2. سوق الجمعة من أكبر الأسواق التقليدية يقع في إمارة:
(رأس الخيمة - عجمان - الفجيرة)
3. عاصمة الثقافة والفن هي إمارة :
(الشارقة - عجمان - دبي)
4. المدينة الاقتصادية وثاني أكبر إمارة في الإمارات هي:
(عجمان - دبي - أم القيوين)
5. أصغر إمارة واشتهرت بصناعة القوارب التقليدية :
(رأس الخيمة - الشارقة - عجمان)
6. أكبر إمارة ويقع فيها جامع الشيخ زايد :
(أبوظبي - الشارقة - عجمان)



أبوظبي



عجمان



دبي



رأس الخيمة



الشارقة



الفجيرة



أم القيوين



بلاري قبل الاتحار

الوعدة الثانية: قصة وطن

أولاً «المتجمع قديماً» و ثانياً «التعليم في الماضي»

الاسم: الصف الثاني: >

حوظ المطلوب فيما يلي:

حوظ من كان يعلم البنات قديماً؟



المطوعة



المطوع

حوظ المكان الذي كان يتعلم به الأولاد قديماً؟



الكتاتيب



المدرسة



1

صناعة

اختر الإجابة:

الأداة المستخدمة في صناعة التلي تسمى:

(الرحي - الكاجوجة - مكينة)

2

صناعة

اختر الإجابة:

المادة المستخدمة في صناعة الخوص تسمى:

(خوص النخيل - خيوط - خشب)

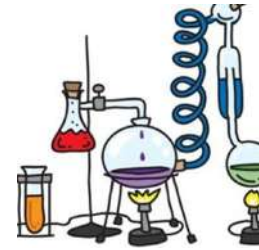
3

اختر الإجابة:

الأداة المستخدمة في طحن القمح تسمى:

(الكاجوجة - الرحي - مكينة)

حوظ المواد التي تدرس في الكتاتيب قبل الاتحاد؟



أكل

هي حفلة في الماضي يُقام الأطفال
الأولاد أو البنات الذين أمموا ختم
القرآن الكريم كاملاً

.....

..... : الاسم :

الصف الثاني : (.....)



متى أعلن قيام دولة الإمارات؟؟
.....
من الذي أسس دولة الإمارات؟
.....

..... : الاسم :

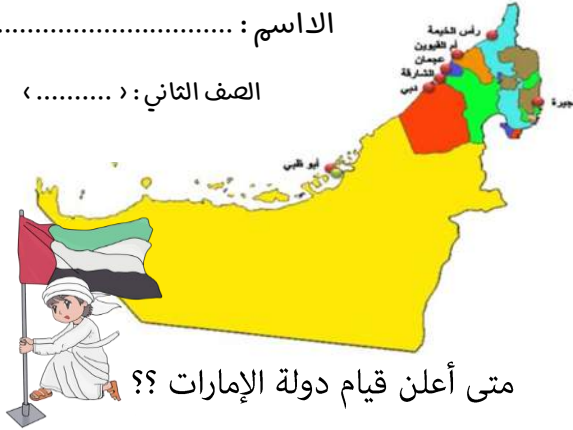
الصف الثاني : (.....)



متى أعلن قيام دولة الإمارات؟؟
.....
من الذي أسس دولة الإمارات؟
.....

..... : الاسم :

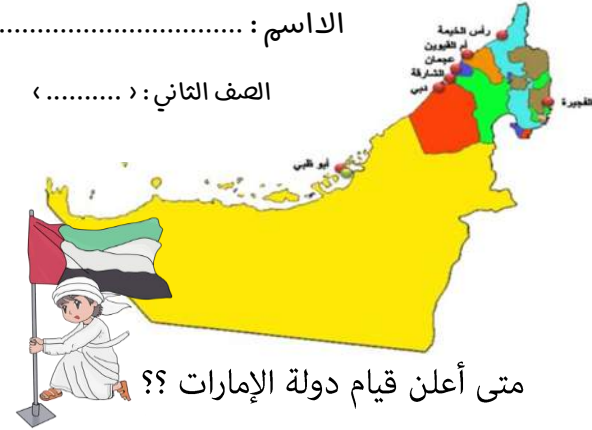
الصف الثاني : (.....)



متى أعلن قيام دولة الإمارات؟؟
.....
من الذي أسس دولة الإمارات؟
.....

..... : الاسم :

الصف الثاني : (.....)



متى أعلن قيام دولة الإمارات؟؟
.....
من الذي أسس دولة الإمارات؟
.....



هيا يا بطل صل بين الكلمة والصورة المناسبة لها :

هيا يا بطل صل بين المهنة التي مارسها أجدادنا والبيئة المناسبة لها :



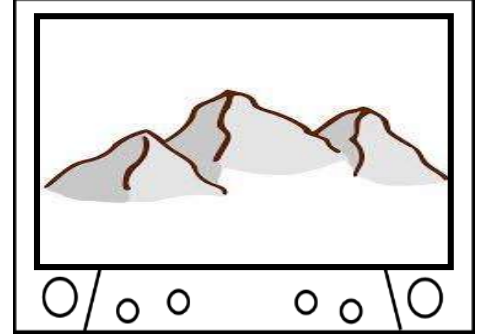
صيد السمك

صناعة الفخار

الرعي

الزراعة

الغوص على اللؤلؤ



مع الإجابات

الاسم : الصف الثاني : (.....)

استكمل البطاقة التعريفية التالية ،

الماء - الكائنات الحية - الأخضر - كروي - الكرة الأرضية

أنا

شكلي

لون اليابس هو اللون

تعيش على سطحي

لون الأزرق هو اللون



الاسم : الصف الثاني : (.....)

استكمل البطاقة التعريفية التالية ،

الماء - الكائنات الحية - الأخضر - كروي - الكرة الأرضية

أنا **الكرة الأرضية**

شكلي **كروي**

لون اليابس هو اللون **الأخضر**

تعيش على سطحي **الكائنات الحية**

لون الأزرق هو اللون **الماء**



الاسم : الصف الثاني : (.....)

استكمل البطاقة التعريفية التالية ،

الماء - الكائنات الحية - الأخضر - كروي - الكرة الأرضية

أنا

شكلي

لون اليابس هو اللون

تعيش على سطحي

لون الأزرق هو اللون



الاسم : الصف الثاني : (.....)

استكمل البطاقة التعريفية التالية ،

الماء - الكائنات الحية - الأخضر - كروي - الكرة الأرضية

أنا

شكلي

لون اليابس هو اللون

تعيش على سطحي

لون الأزرق هو اللون



بداية الأولى: كوكبنا الأرض كوكب الأرض

أولاً > كوكب الأرض


أكله و لونه



اسم: الصف الثاني: >



من يعيش على سطحي



الكائنات الحية



اختر

يسمى كوكب الأرض بالكوكب
الأخضر - الأحمر - الأزرق

من أنا؟
الكرة الأرضية
ما هو شكلي؟
كروي



ما لون اليابس؟

الأخضر

ما لون الماء؟

الأزرق

مما يتكون كوكب الأرض؟



ويحيط به



الهواء

الماء

اليابس



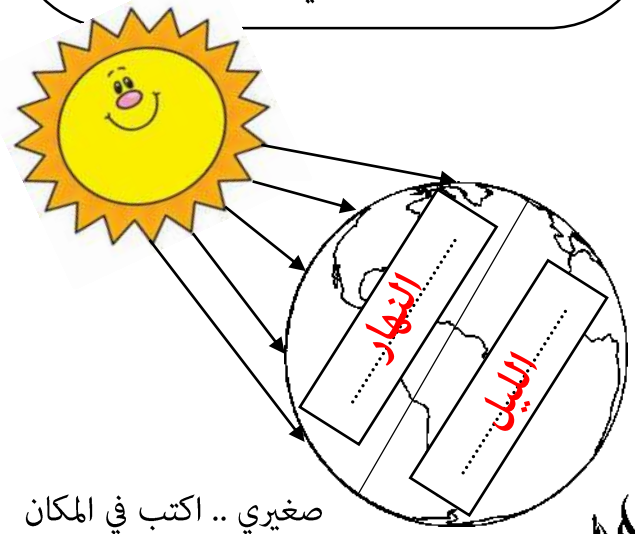
اختار الإجابة الصحيحة فيما يلي :

- الكرة التي نعيش عليها هي كرة :
(صغيرة - كبيرة جدا - صغيرة جدا)
- يستغرق دوران الأرض حول نفسها :
(20 ساعة - 12 ساعة - 24 ساعة)
- عمر النهار :
(12 ساعة - 10 ساعة - 5 ساعة)
- كم قمر للأرض :
(() - () - ())
- تمد الأرض بالضوء والحرارة :
(الشمس - القمر - الكواكب)

ثانيا « الحركة اليومية للأرض »

أضع علامة (✓) أمام العبارة الصحيحة
وعلمة (✗) أمام العبارة غير الصحيحة
فيما يلي :

- تظهر الشمس بالنهار (✓)
- يبدأ النهار بغروب الشمس (✗)
- القمر ينير الأرض نهارا (✗)
- الناس ينامون في الليل (✓)
- أذهب للمدرسة في النهار (✓)



صغيري .. اكتب في المكان
المناسب على الكرة الأرضية الليل
والنهار ؟



الاسم : الصف الثاني : >



دوران الأرض حول نفسها تسمى
(الحركة اليومية)



النتيجة

تعاقب الليل
و..... النهار



اختر الإجابة الصحيحة فيما يلي :

1. تدور الأرض حول الشمس من :

الشرق إلى الغرب .

الجنوب إلى شمال .

الغرب إلى الشرق .

2. يستغرق دوران الأرض حول الشمس :

(سنة - ثلاث سنوات - سنتان)

3. أذهب إلى البحر في فصل :

(الخريف - الربيع - الصيف)

4. تتساقط أوراق الأشجار في فصل :

(الخريف - الشتاء - الصيف)

5. تغزر الأمطار في فصل :

(الربيع - الصيف - الشتاء)

التا > الحركة السنوية للأرض >>

صغيري .. اكتب اسم كل فصل من الفصول الأربعة في مكانها المناسب



الخريف




الشتاء



الصيف




الربيع



دوران الأرض حول الشمس تسمى (الحركة السنوية)

النتيجة



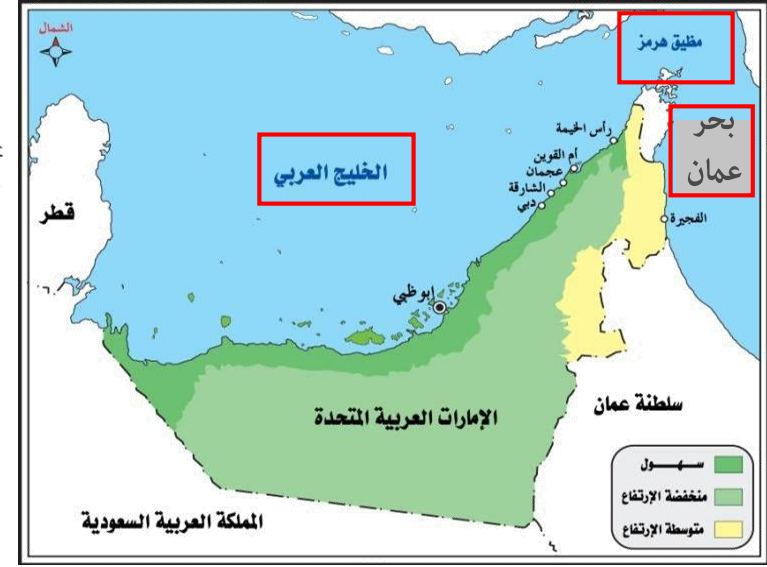
الفصول الأربعة

حدوث



أستكمل الجدول بالكلمات التالية:

(الخليج - المحيطات - المضيق - البحر)



صغيري ، من خلال الخريطة التي أمامك حوط البحر والخليج الذي تطل عليها دولة الإمارات ثم اكتبها:

- الخليج**العربي**
- بحر**عمان**

صغيري بأناملك الصغيرة ارسم دائرة حول المضيق الموجود في الخريطة.

رتب المحيطات من الأكبر إلى الأصغر بكتابة الأرقام بين القوسين:

- (5) المحيط المتجمد الجنوبي
- (4) المحيط المتجمد الشمالي
- (1) المحيط الهادي
- (2) المحيط الأطلسي
- (3) المحيط الهندي

الحقائق	
أكثر عمقا المحيطات
أصغر مساحة البحر
عددها 5 المحيطات
تصل الخليج بالمحيط عبر فتحات ضيقة المضيق
تحيط به اليابسة من ثلاث جهات الخليج

صغيري الهدع .. ارسم كما هو مطلوب

ارسم كائن يعيش في البحار والمحيطات

ارسم وسيلة نقل في البحار والمحيطات

يرسم أسماك

يرسم سفينة أو قارب

رتب المحيطات من الأكبر إلى الأصغر بكتابة
الأرقام بين القوسين :

() المحيط المتجمد الجنوبي

() المحيط المتجمد الشمالي

() المحيط الهادي

(2) المحيط الأطلسي

() المحيط الهندي

رتب المحيطات من الأكبر إلى الأصغر بكتابة
الأرقام بين القوسين :

() المحيط المتجمد الجنوبي

() المحيط المتجمد الشمالي

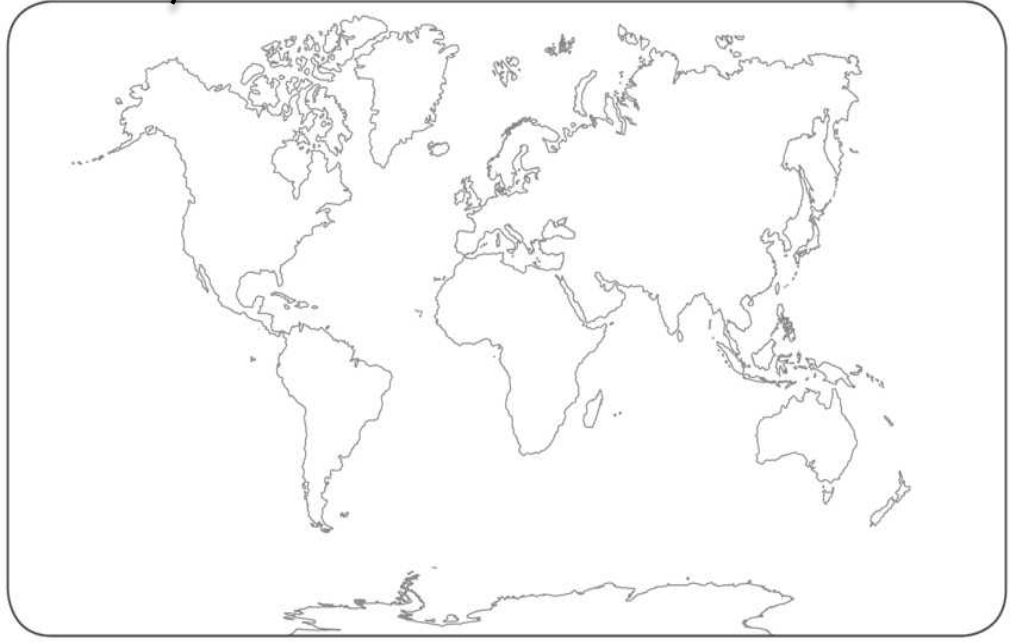
() المحيط الهادي

(2) المحيط الأطلسي

() المحيط الهندي



لون القارة التي تقع فيها دولة الإمارات :



رتب القارات من الأكبر إلى الأصغر بكتابة الأرقام بين القوسين :



- (6) قارة أوروبا
- (4) قارة أمريكا الجنوبية
- (2) قارة أفريقيا
- (7) قارة أستراليا
- (3) قارة أمريكا الشمالية
- (1) قارة آسيا
- (5) القارة القطبية الجنوبية

اختر الإجابة الصحيحة فيما يلي :

- أكبر قارة في العالم هي قارة :
(أفريقيا - أوروبا - **آسيا**)
- قارة تحيط بها المياه من جميع الجهات وتعتبر أصغر قارة :
(أستراليا - أمريكا الشمالية - أفريقيا)
- عدد قارات العالم هو :
(12 - **7** - 5)
- قارة توجد بها جبال الألب :
(القطبية الجنوبية - آسيا - **أوروبا**)
- قارة باردة جدا ولا يوجد بها سكان :
(أستراليا - أمريكا الشمالية - **القطبية الجنوبية**)

أنا أعلى قمة في العالم .. أقع في قارة آسيا..

فمن أنا ؟؟



جبال **إفرست**

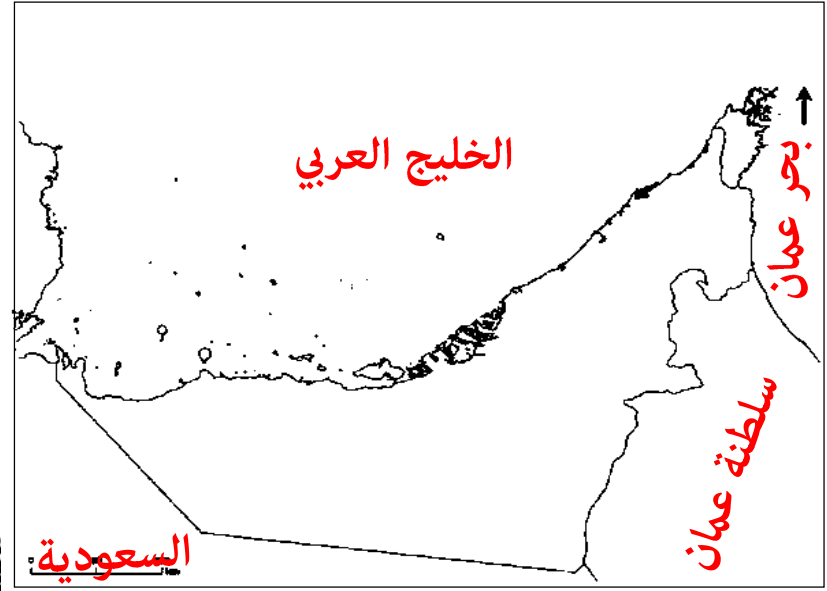


اقرأ الخريطة ثم أستكمل الآتي

تقع دولة الإمارات في **شرق** الوطن العربي
لون دولة الإمارات على الخريطة.

اقرأ الخريطة ثم أستكمل الآتي

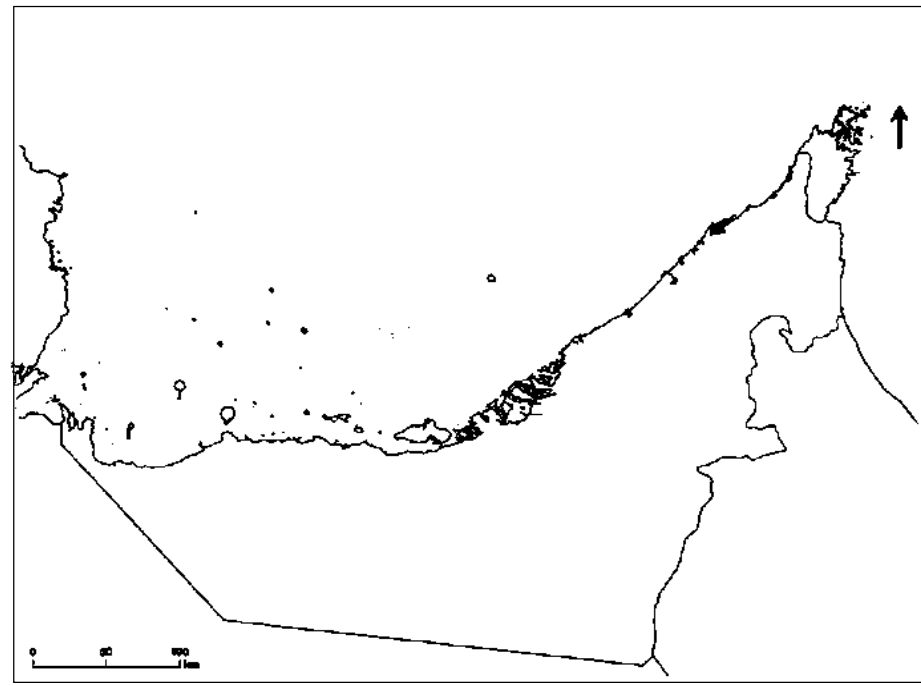
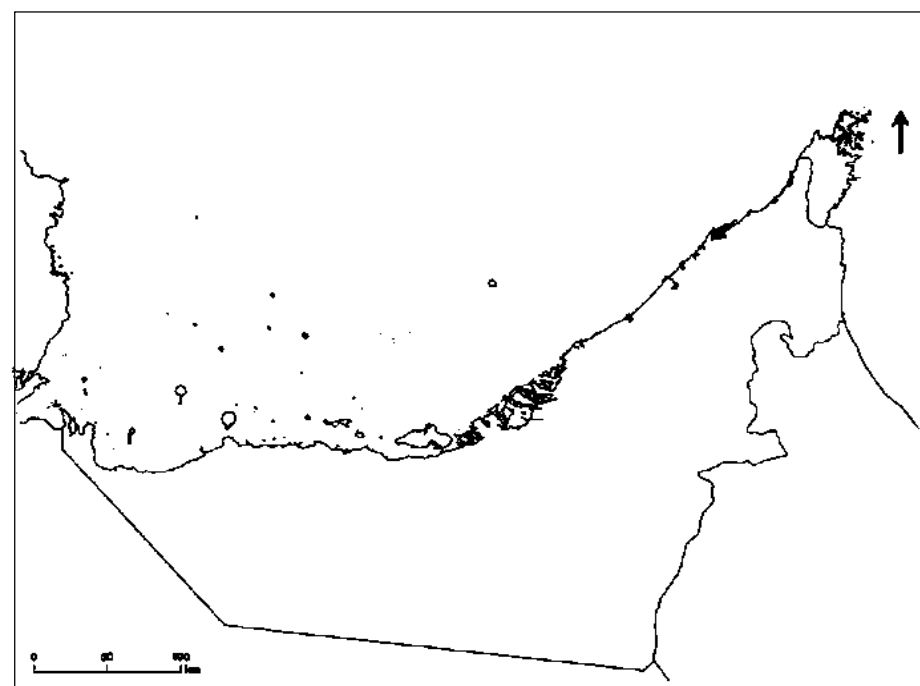
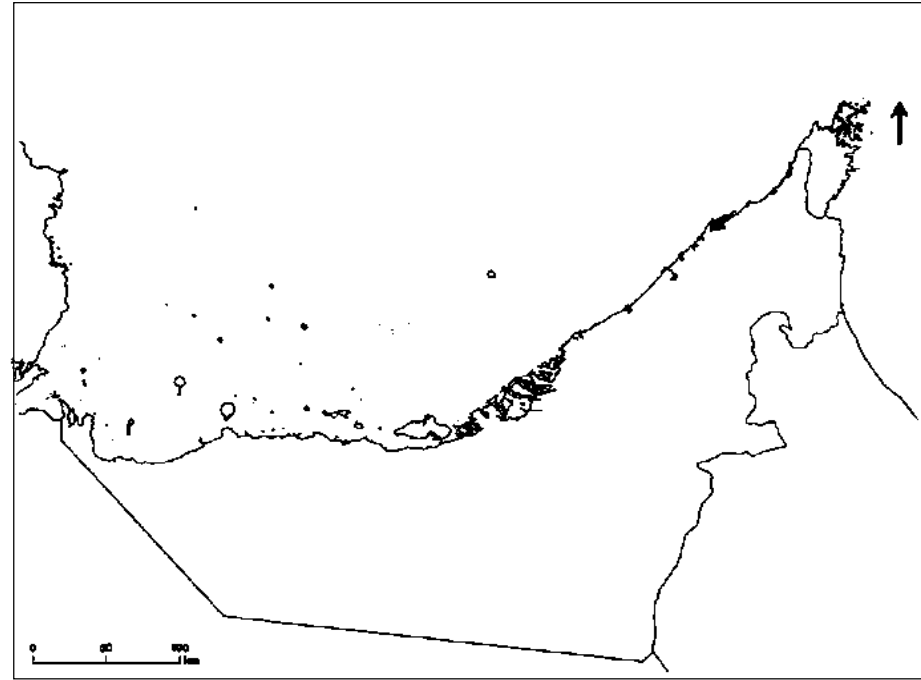
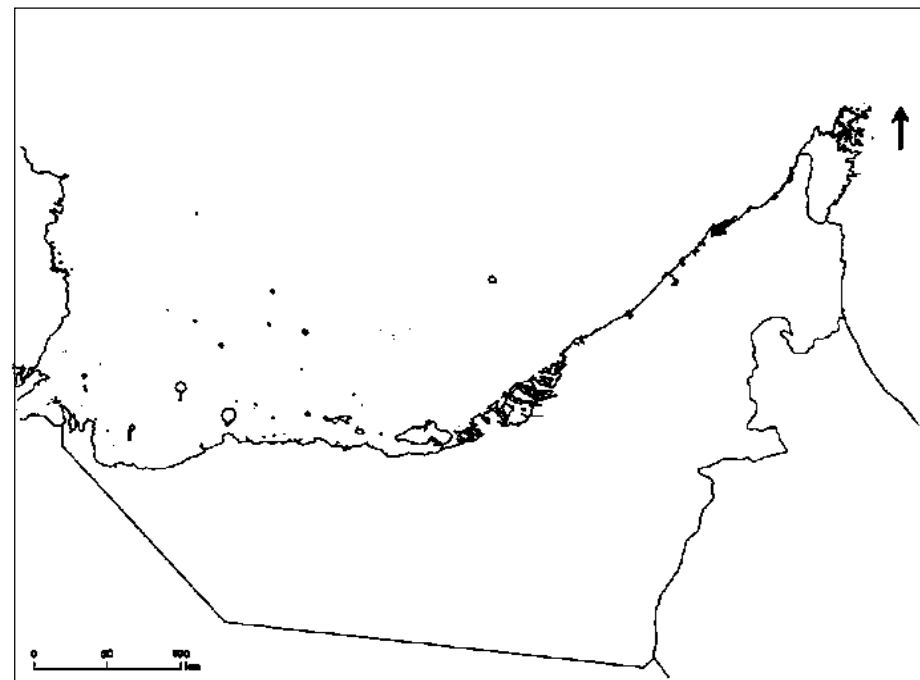
- تقع دولة الإمارات في **قلب أو وسط** القديم.
- قارات العالم القديم هي **آسيا** و **أفريقيا** و **أوروبا**
- اكتب قارات العالم القديم على الخريطة .
- حوط دولة الإمارات على الخريطة

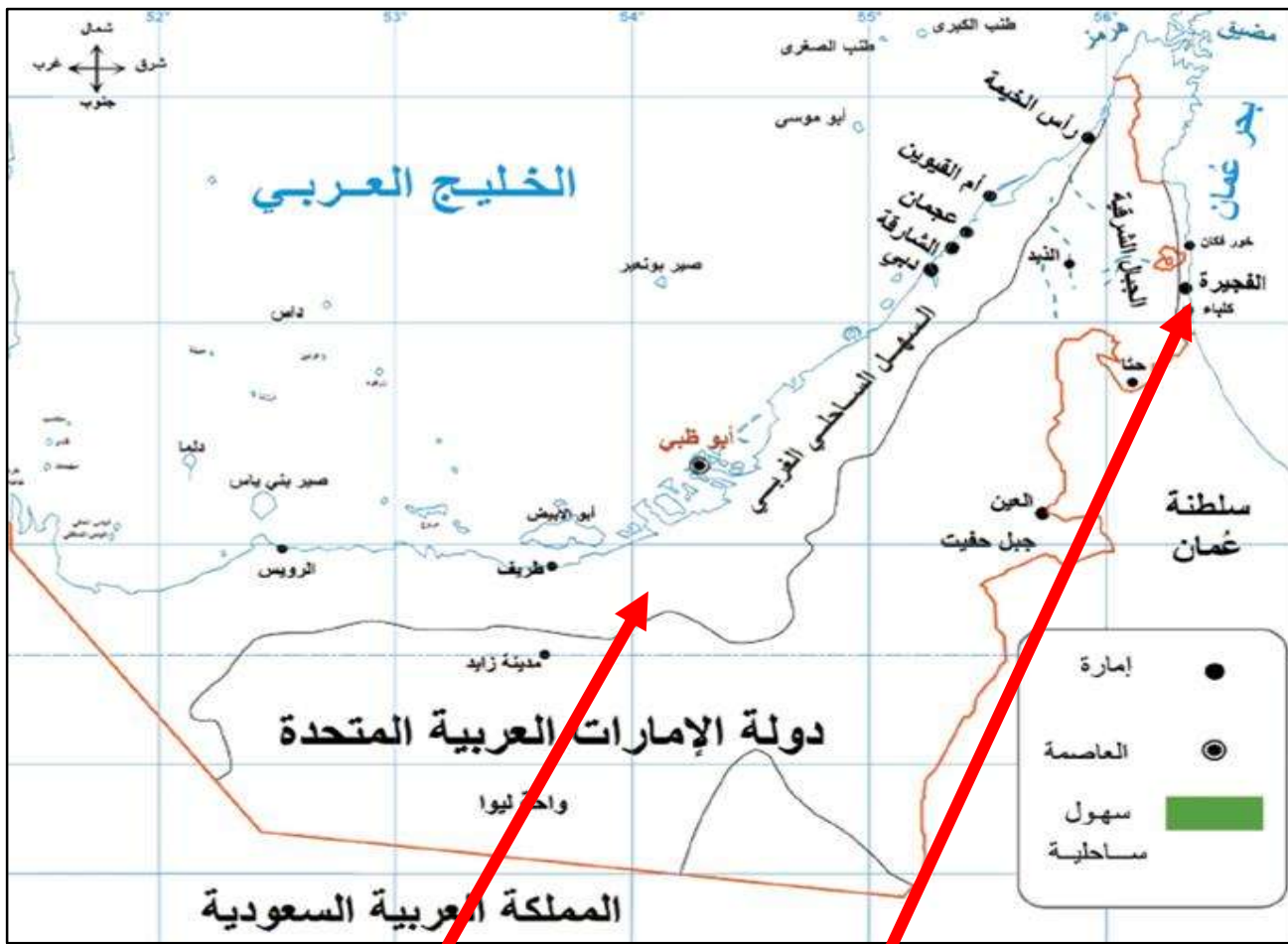


الكلمات المساعدة :
الخليج العربي - عمان -
السعودية - بحر عمان

أعز وأهدر







أكمل
الجدول
أسفل
الخريطة
ولون المياه
التي تطل
عليها دولة
الإمارات

أنا السهل الساحلي الغربي	أنا السهل الساحلي الشرقي	أوجه المقارنه
على الخريطة	على الخريطة	لون
قصير - طويل	طويل - قصير	حوط الاجابة الصح
واسع - ضيق	واسع - ضيق	حوط الاجابة الصح

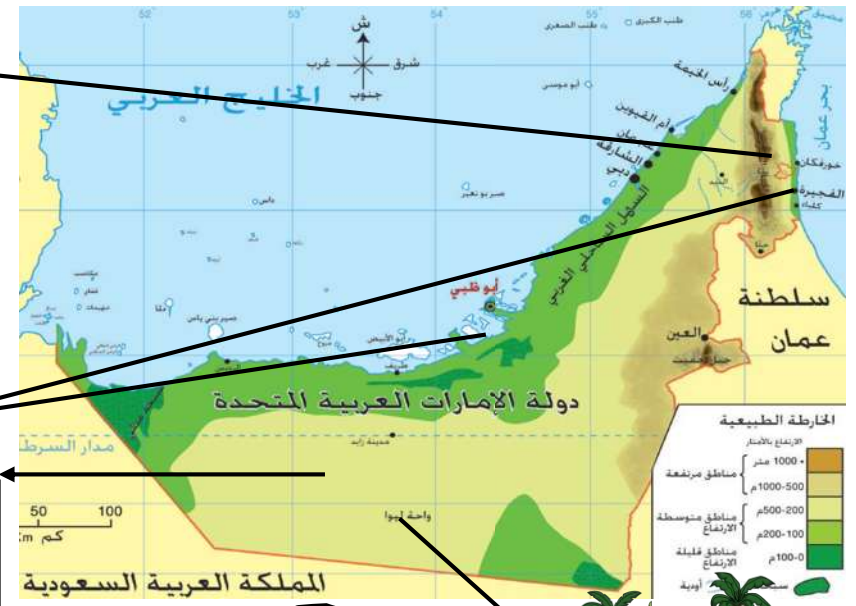
تانيا <المظاهر الطبيعية في بلادي>

اقرأ الخريطة ثم أستكمل الآتي



الجبل..... هي أرض مرتفعة ولها قمة
تقع الجبال في دولة الإمارات في جهة.....**الشرقية**
أعلى جبل في دولة الإمارات قمة جبل.....**جيس**
ومن أشهر الجبال في الإمارات أيضا جبل.....**حفيت**

السهول..... هي أرض منخفضة مستوية تمتد بالقرب من البحار



أوجه المقارنه	
أنا السهل الساحلي العربي	أنا السهل الساحلي الشرقي
على الخريطة	على الخريطة
لون	لون
يطل على	يطل على
الخليج..... العربي	بحر..... عمان
اختار الاجابة الصحيحة	اختار الاجابة الصحيحة
قصير - طويل	قصير - طويل
اختار الاجابة الصحيحة	اختار الاجابة الصحيحة
واسع - ضيق	واسع - ضيق
من أشهر المدن	من أشهر المدن
عجمان و الشارقة و دبي	الفجيرة و دبا

أرض منخفضة وسط الصحراء تكثر فيها المياه
العذبة والزراعة فمن أنا.....**الواحة**.....
مثل واحة.....**ليوا**.....



كثبان رملية صفراء اللون فمن أنا
.....**الصحراء**.....
طقسي.....**حار**..... و.....**جاف**.....



صل الصورة بالكلية فيما يلي :

اختر الإجابة الصحيحة فيما يلي :

1. عاصمة دولة الإمارات هي :
(دبي - أبوظبي - الشارقة)
2. سوق الجمعة من أكبر الأسواق التقليدية يقع في إمارة:
(رأس الخيمة - عجمان - الفجيرة)
3. عاصمة الثقافة والفن هي إمارة :
(الشارقة - عجمان - دبي)
4. المدينة الاقتصادية وثاني أكبر إمارة في الإمارات هي:
(عجمان - دبي - أم القيوين)
5. أصغر إمارة واشتهرت بصناعة القوارب التقليدية :
(رأس الخيمة - الشارقة - عجمان)
6. أكبر إمارة ويقع فيها جامع الشيخ زايد :
(أبوظبي - الشارقة - عجمان)



أبوظبي

عجمان

دبي

رأس الخيمة

الشارقة

الفجيرة

أم القيوين

بلاري قبل الاتحار

الوحدة الثانية : قصة وطن

أولاً «الاجتمع قديماً» و ثانياً «التعليم في الماضي» الاسم : الصف الثاني : >

حوظ المطلوب فيما يلي :

حوظ من كان يعلم البنات قديماً ؟



المطوعة



المطوع

حوظ المكان الذي كان يتعلم به الأولاد قديماً ؟



الكتاتيب



المدرسة



1


صناعة **التلي**

اختر الإجابة :


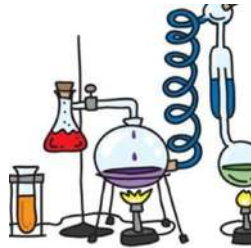
الأداة المستخدمة في صناعة التلي تسمى :

(الرحي - الكاجوجة - مكينة)

حوظ المواد التي تدرس في الكتاتيب قبل الاتحاد ؟



ABCDEFGHIJ
KLMNOPQR
STUVWXYZ



2

صناعة **الخوص**

اختر الإجابة :

المادة المستخدمة في صناعة الخوص تسمى :

(سعف النخيل - خيوط - خشب)



3

اختر الإجابة :

الأداة المستخدمة في طحن القمح تسمى :

(الكاجوجة - الرحي - مكينة)



أكل

هي حفلة في الماضي يُقام الأطفال
الأولاد أو البنات الذين أمموا ختم
القرآن الكريم كاملاً

.....**التحميدة...أو...التومينة**

..... : الاسم :

الصف الثاني : (.....)



متى أعلن قيام دولة الإمارات؟؟
.....
من الذي أسس دولة الإمارات؟
.....

..... : الاسم :

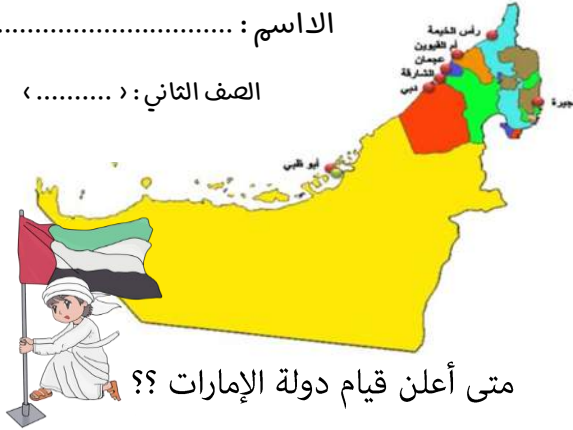
الصف الثاني : (.....)



متى أعلن قيام دولة الإمارات؟؟
.....
من الذي أسس دولة الإمارات؟
.....
الشيخ زايد بن سلطان آل نهيان..

..... : الاسم :

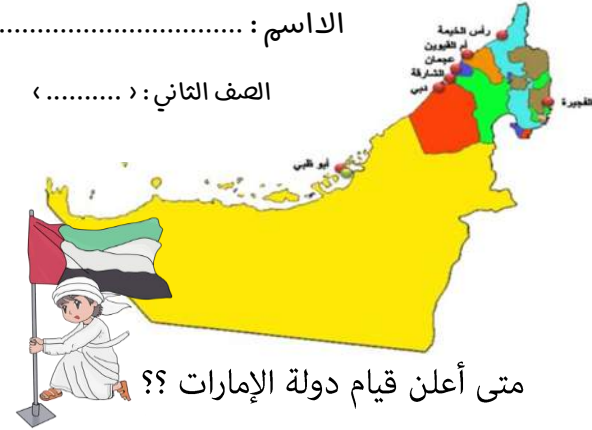
الصف الثاني : (.....)



متى أعلن قيام دولة الإمارات؟؟
.....
من الذي أسس دولة الإمارات؟
.....

..... : الاسم :

الصف الثاني : (.....)



متى أعلن قيام دولة الإمارات؟؟
.....
من الذي أسس دولة الإمارات؟
.....

بلادي قبل الاتحار

تالما «صهن أجدادي»

الاسم : الصف الثاني : >



هيا يا بطل صل بين الكلمة والصورة المناسبة لها :

هيا يا بطل صل بين المهنة التي مارسها أجدادنا والبيئة المناسبة لها :


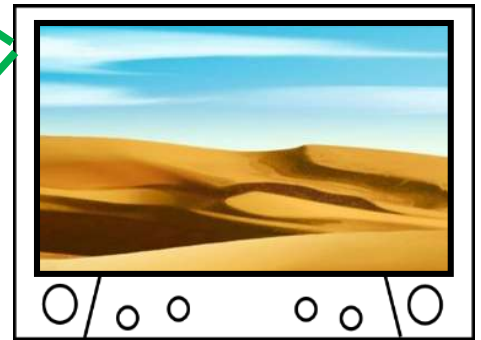
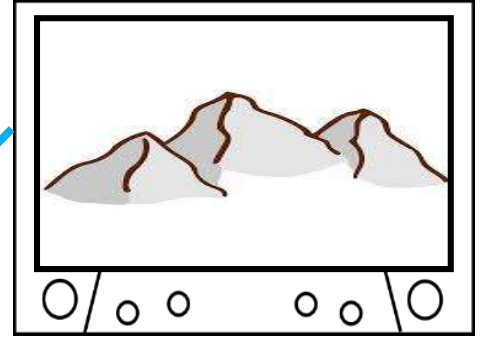
صيد السمك

صناعة الفخار

الرعي

الزراعة

الغوص على اللؤلؤ



○ / ○ ○ ○ ○ / ○

○ / ○ ○ ○ ○ / ○

○ / ○ ○ ○ ○ / ○