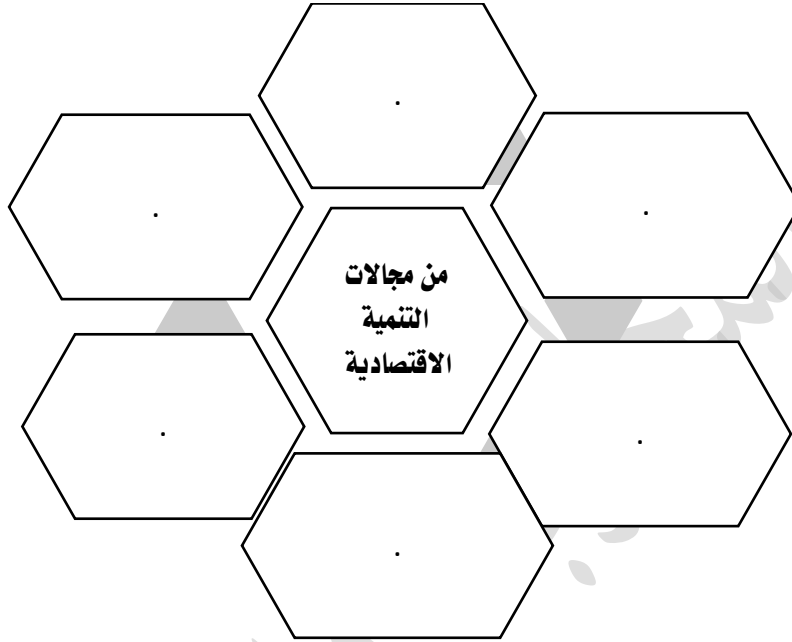
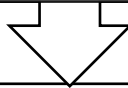


اكمل المخططات الذهنية التالية :



مؤشرات التنمية البشرية

اكتب المحددات الثلاث للمؤشر



.....	
.....

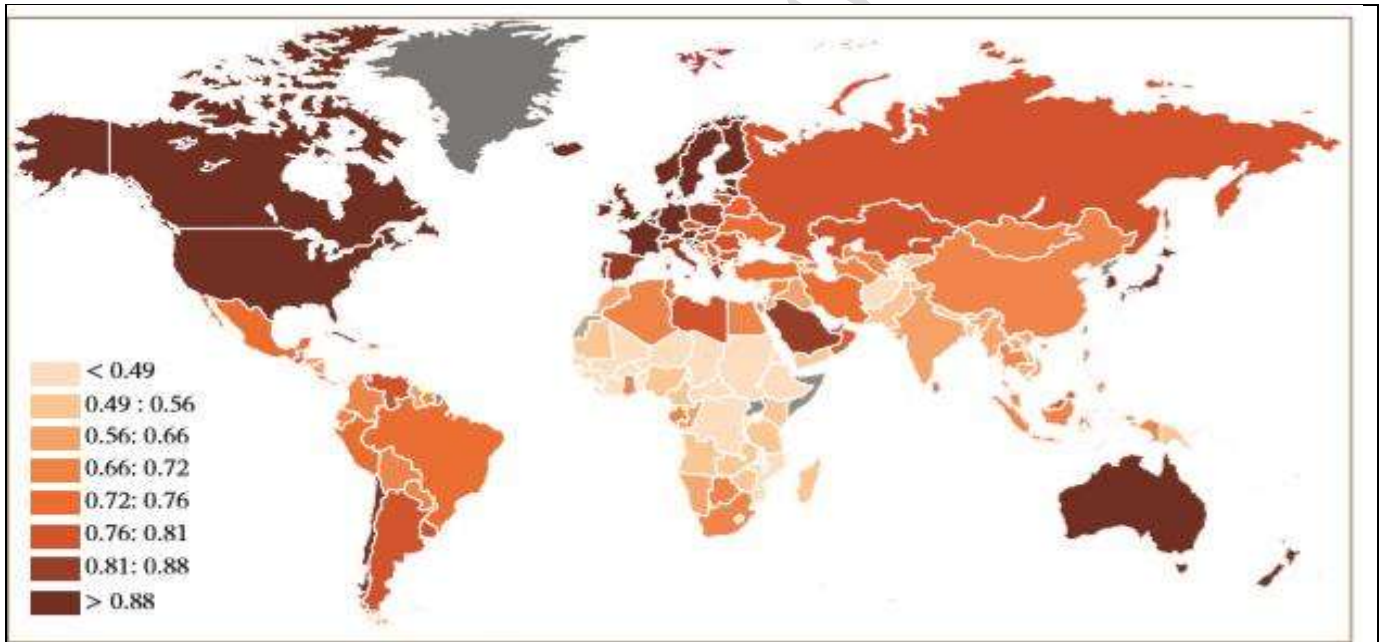
المشكلات التي تعيق التنمية البشرية

المشكلات	امثلة عليها
السياسية	الحروب والنزاعات الأهلية
الاقتصادية	
التعليمية	
الاجتماعية	
الصحية	

أوظف مهارة حلّ المُشكلات وأحلل المشكلة الآتية، ثمّ أجب:

لم تقتصر الأضرار التي تعرّض لها الطلّبة السوريّون منذ سنواتٍ عديدةٍ على فقدانهم منازلهم، وتشردهم في بلدان اللّجوء، بلّ وتجاوزتها إلى حرمانهم من التّعليم وابتعادهم عن مقاعد الدّراسة في بلادهم أوّلاً، وفي بلدان لم تعدّ قادرةً على استيعاب عددٍ أكبر من الطّلبة اللاجئيين، أو في مخيّمات باتت تغصّ بقاطنيها، وبدأت مدارسها تعجز عن حمل الأعداد الكبيرة للطلّبة السوريّين، وغالبًا ما ينتظرون دورهم في تحصيل العلم بشغفٍ.

م	البيان	الإجابة
أ	أحدّ المشكلة التي تتحدّث عنها الفقرة السابقة.	
ب	استنتج النتائج المترتبة على هذه المشكلة.	
ج	اقترح حلًا مناسبًا لهذه المشكلة.	



م	البيان	الإجابة
1	أسمي اثنتين من الدّول الشّابقة في مجال التّنمية البشريّة.	.1
2	أحدّد الدّول العربيّة المصنّفة ضمن الشّريحة المرتفعة جدًّا.	.2
3	أحدّد موقع دولة الإمارات العربيّة المتّحدة من التّصنيف العالميّ لمؤشر قياس التّنمية البشريّة.	.3
4	أحدّد دلالات المركز المتقدّم الذي حقّقته دولتنا في حساب معدّلات التّنمية البشريّة.	.4