

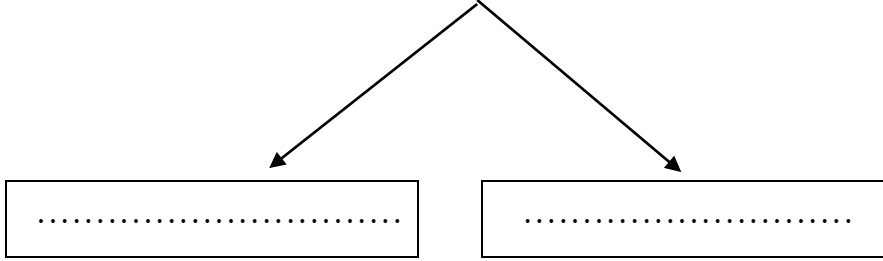


Baraem alain Private School\baniyas

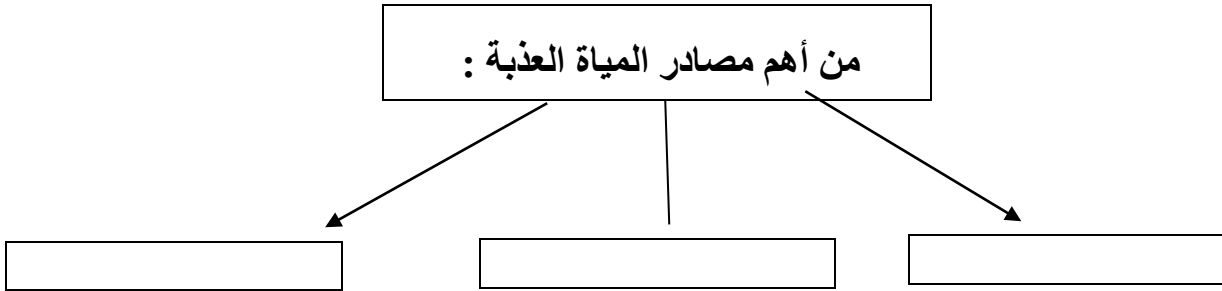
الفصل الدراسي الأول للعام الدراسي 2018 / 2019 م

السؤال الأول: أكمل المخططات الآتية:-

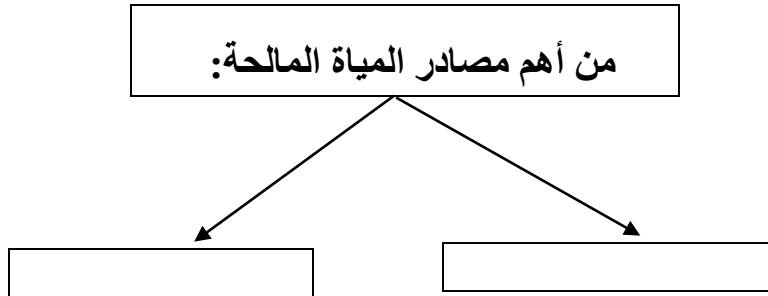
تصنف المياه على سطح الأرض إلى نوعين رئيسيين هما :



من أهم مصادر المياه العذبة :



من أهم مصادر المياه المالحة:



ماهي الإجراءات التي تتبعها دولة الإمارات العربية المتحدة لتأمين المياه للسكان؟



.....
.....

ماهي السدود الموجودة في دولة الإمارات العربية المتحدة؟



.....
.....

السؤال الثاني: ضع الكلمات التالية في مكانها المناسب:

دوران الأرض / مسبار الأمل / النظام البيئي / الأفلاج / الأوزون / التنمية المستدامة

	مشروع مستقبلي لدولة الإمارات لإكتشاف المريخ
	جزء من الغلاف الجوي لكوكب الأرض يعمل على حماية الأرض من الأشعاعات الضارة
	تفاعل المخلوقات مع بعضها ومع العوامل الغير حية
	ترشيد استهلاك الموارد الطبيعية وتوفيرها للأجيال القادمة
	هي الحركة التي تقوم بها الأرض حول محورها وفي نفس الوقت تدور حول الشمس
	قناه تحفر علي سطح الأرض لتجميع المياه الجوفية للزراعة
	كل ما يحيط بالانسان من كائنات حية وكائنات غير حية

السؤال الثالث:

أكمل الفراغات التالية:

تدور الأرض حول نفسها كل.....ساعة وتسمى حركة.....وينتج عنها.....و.....أما دوران الأرض حول الشمس تستغرق.....يوم وتسمى حركة.....وينتج عنها.....

السؤال الرابع: أسجل اسفل كل صورة مصدر التلوث:-



سؤال الخامس: إكمال البطاقة التعريفية بخط جميل:



	الإسم
	اسم الأب
	اسم الأم
	مكان الميلاد
	صفاته
	منصبه الحالي



رؤية المدرسة: شخصية قيادية مبدعة لجيل واعى يسمو لتطوير ذاته ووطنه وأمته
رسالة المدرسة: مدرسة براعم العين الخاصة تهدف إلى تعليم متميز لإعداد جيل واع يستفيد من قدراته ويواجه تحديات العصر طبقاً للمنظومة التربوية والتعليمية بدولة الإمارات العربية المتحدة