

مراجعة عامة للصف الرابع التقويم الدراسي الأول

اسم الطالبة : الصف الرابع ()

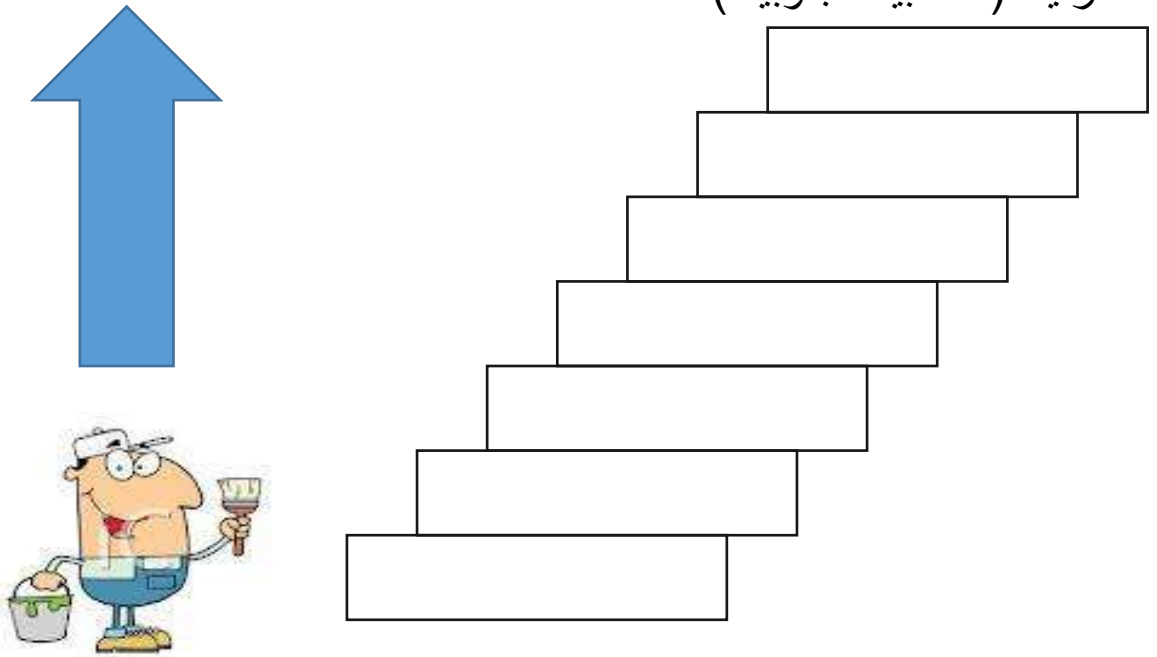
أكمل العبارات بما يناسبها من الكلمات :

الأرض - خط جرينتش - استراليا - المحيط الشمالي - آسيا - خط الاستواء -
المحيط الهندي - منغوليا

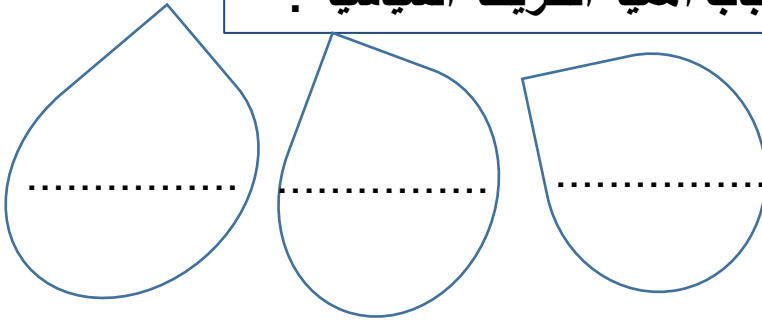
- 1) أصغر القارات مساحة
- 2) خط الطول الرئيسي
- 3) تجاور الصين من جهة الشمال
- 4) أكبر القارات مساحة
- 5) تطل الهند من جهة الجنوب على
- 6) دائرة العرض الرئيسية
- 7) أصغر المحيطات مساحة
- 8) نعيش على كوكب يسمى

رتب القارات ترتيبا تصاعديا من الأصغر للأكبر مساحة :

آسيا - أوروبا - استراليا - أمريكا الشمالية - أمريكا الجنوبية - أفريقيا
انترتيكا (القطبية الجنوبية) -



أسباب أهمية الخريطة السياسية :



قارن بين خطوط الطول ودوائر العرض :

دوائر العرض	خطوط الطول	وجه المقارنة
		التعريف
		العدد
		الخط الرئيسي
		الاتجاه
/	/	أسباب الأهمية

تحديد الزمن

صل بين الفائدة الصحيحة وما يناسبها :

خطوط الطول

تحديد الموقع

دوائر العرض

تحديد المناخ
والحرارة

أكمل بما يناسب :

1. يبلغ عدد خطوط الطول خط طول / منها خط طول شرقا و خط طول
2. يبلغ عدد دوائر العرض دائرة عرض منها دائرة شمال خط الاستواء و دائرة جنوبه
3. يقسم خط غرينتش الأرض لقسمين شرقي و
4. يقسم خط الاستواء الأرض لقسمين شمالي

اكتب المفهوم أمام التعريف الذي يناسبه من الجدول :
خطوط الطول - خط جرينتش - دوائر العرض - خط الاستواء - الموقع
الفلكي

المفهوم	التعريف
1-	خطوط وهمية ترسم على نموذج الأرض تبدو على شكل دوائر
2-	خط الطول الرئيسي ودرجته صفر
3-	موقع المكان بالنسبة لخطوط الطول ودوائر العرض
4-	خطوط وهمية طولية يوازي بعضها بعض على شكل أنصاف دوائر
5-	دائرة العرض الرئيسية

أكتب تعريف ما يلي :

الموقع الجغرافي

.....

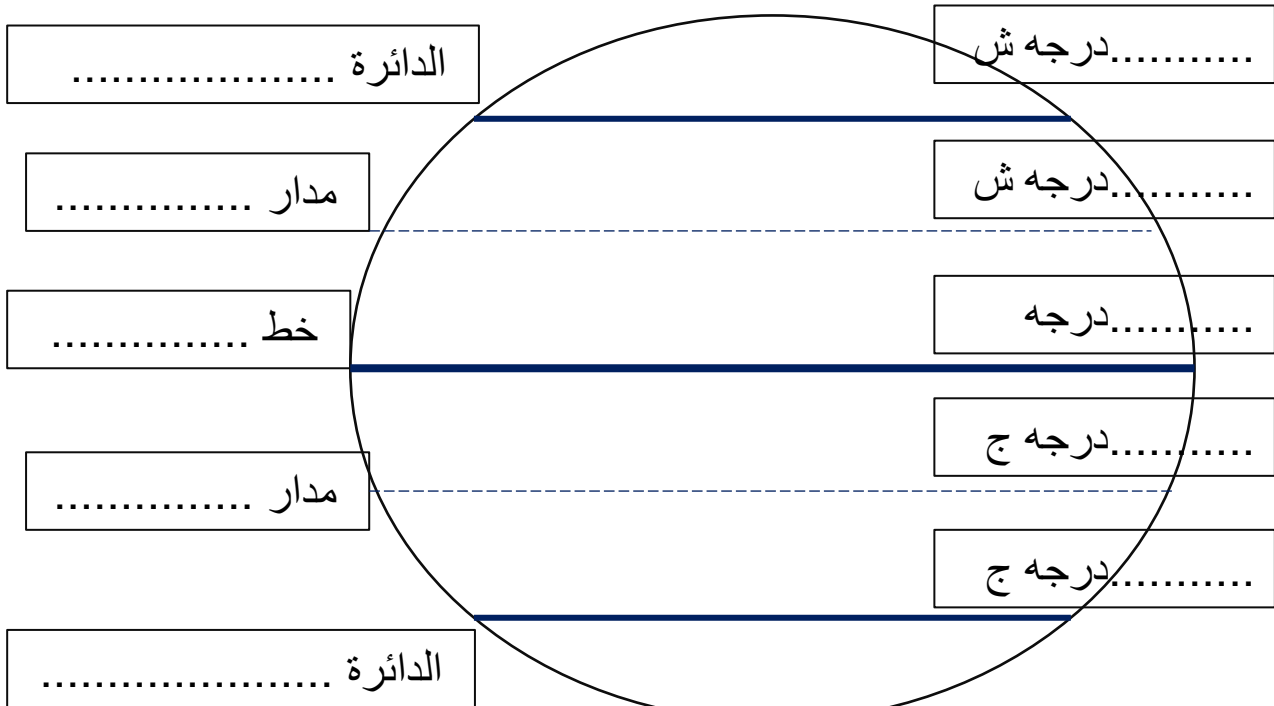
.....

الموقع النسبي

.....

.....

دوائر العرض الرئيسية



أكتب علامة صح أمام العبارة الصحيحة :

- () يقع مدار السرطان جنوب الكرة الأرضية
- () خط الطول الرئيسي يسمى خط الاستواء
- () مجموع دوائر العرض 180 دائرة
- () درجة خط الاستواء صفر درجة
- () الموقع النسبي موقع المكان بالنسبة لليابس والماء

لون القيم الحسنة من بين الكلمات :

السلام

الحرب

الاعتزاز

العمل

الكسل

حسن الجوار

ايداء الجوار

بذل الجهد

البطالة

أكمل بما يناسب :

رئيسها

.....



مساحتها

.....

الإمارات

لغتها

.....

عملتها

.....

تاريخ
تأسيها

.....

العام الدراسي الحالي اختارت حكومتنا أن يكون :

عام

.....

الخير

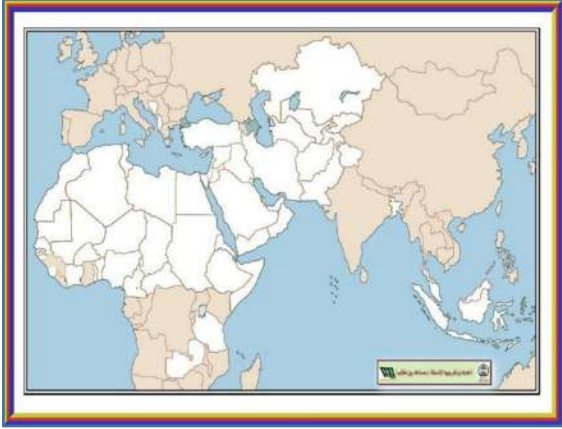
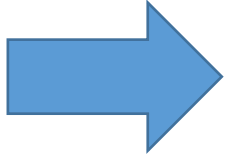




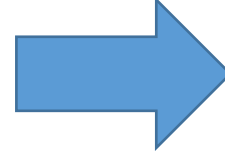
اكتب اسم المضيق الصحيح المناسب لكل عبارة :
مضيق هرمز - مضيق باب المندب يصل بين الخليج العربي وبحر عمان
..... يصل بين البحر الأحمر وبحر العرب

اكتب الجهة الصحيحة للعبارة :

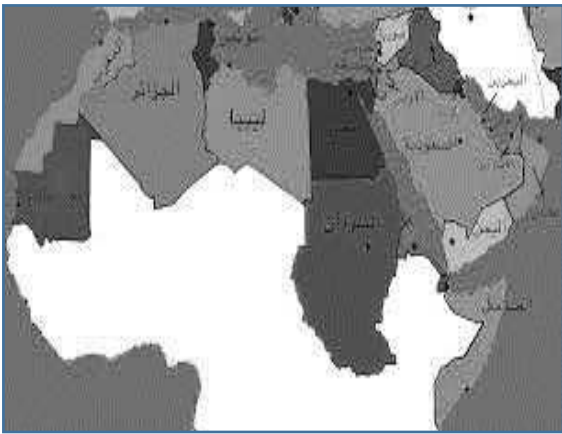
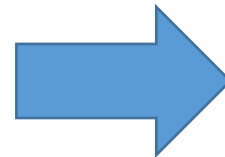
تقع الإمارات بالنسبة لآسيا في جهة
.....
.....



تقع الإمارات بالنسبة لشبه الجزيرة العربية
.....
.....



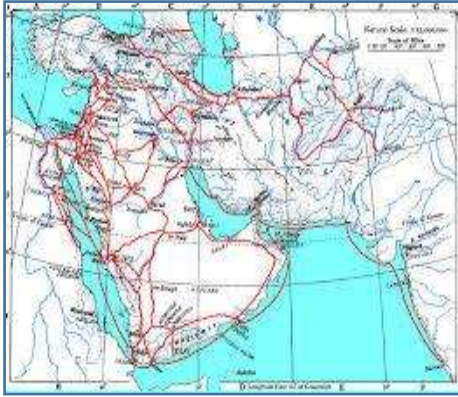
تقع الإمارات بالنسبة للوطن العربي
.....
.....



اكتب اسم المفهوم أمام التعريف المناسب :
الجزيرة - الخليج - شبه الجزيرة - الحدود السياسية - الحضارة
الترانزيت - الجبال

- (.....) أرض تحيط بها المياه من ثلاث جهات
(.....) كتل ضخمة من الصخور مرتفعة ذات قمم عالية
(.....) كل جهد قام به الإنسان لتحسين ظروفه
(.....) لسان كبير من الماء محاط باليابس من ثلاث جهات
(.....) خطوط حددها الإنسان ورسمت حتى تفصل بين حدود الدول
(.....) يابسة تحيط بها المياه من جميع الجهات

الأهمية الاقتصادية لموقع دولتنا



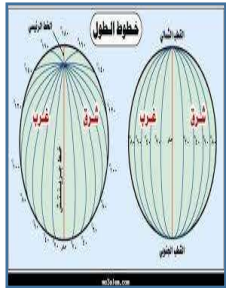
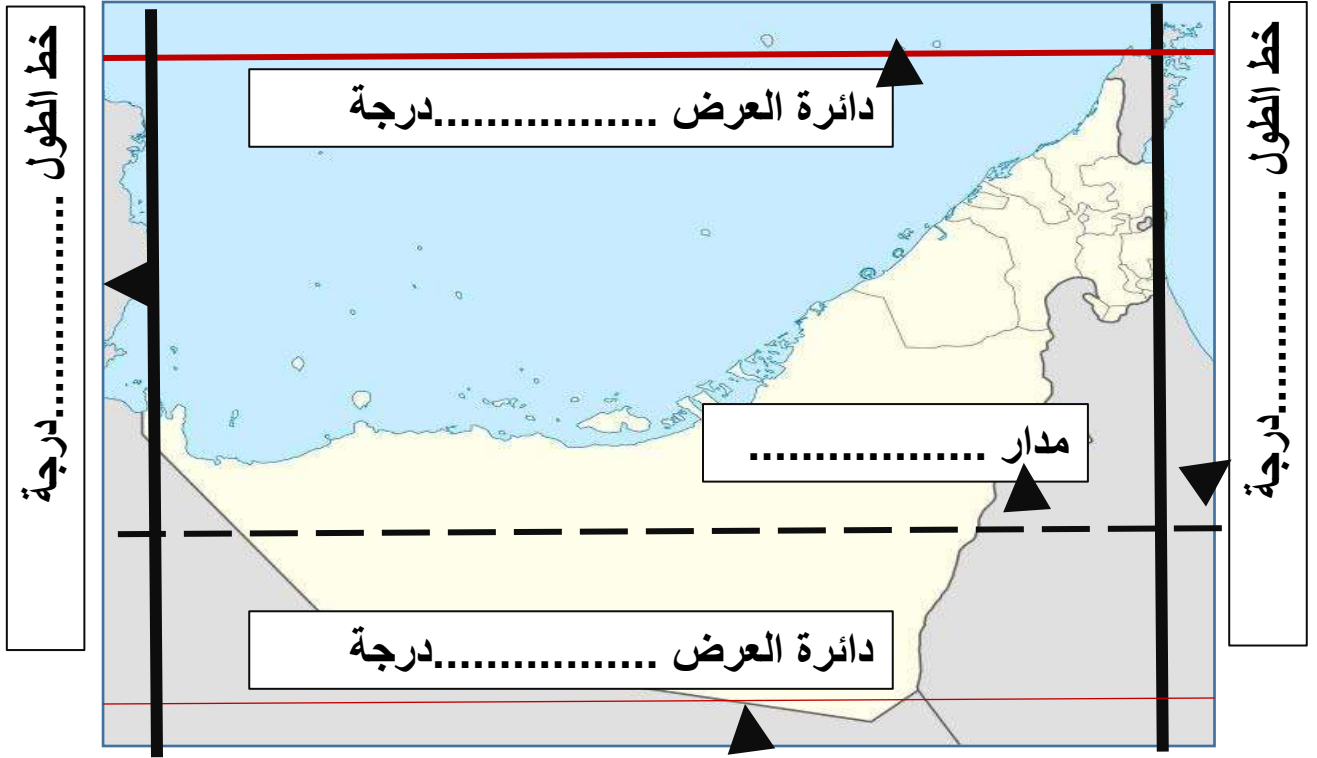
ازدهرت طرق التجارة
ال.....و.....

أصبحت البحار مصدر
.....



اشتهرت بتجارة ال.....

أكمل الرسم بما يناسب :



تقع الامارات بين دائرتي عرض و..... درجة
تقع الامارات بين خطي طول و درجة
دائرة العرض الرئيسية التي تمر بدولتنا هي
خطوط الطول في دولتنا جميعها
دوائر العرض في دولتنا جميعها شمالية
مجموع دوائر العرض التي تمر بدولتنا دائرة عرض

أسماء دول شبه الجزيرة العربية :

دولة

دولة

سلطنة

دولة

المملكة

دولة

دولة

أكمل ما يلي :



عرف الجبل :

.....

.....

أقسام الجبال

القسم

.....
ويقع مقابل الخليج العربي

القسم

.....
ويقع مقابل بحر عمان

وجه المقارنة	السهل الشرقي	السهل الغربي
الطول		أطول
الاتساع	ضيق	
الخليج المطل		الخليج العربي
الاستقامه	مستقيم	متعرج
أسماء المدن		



ما معنى السهل الساحلي

.....

.....

.....

لون الأشكال التي تحوي فوائد السهول
الساحلية :



الاستيراد
والتصدير

استخراج
الصخور

الصيد
البحري

السياحة
البحرية

الهوايات البحرية

تخزين الماء
العذب

اكتب الألوان ولون الكلمة بها التي تعبر عن التضاريس فيما يلي :

الجبال

المناطق المرتفعة ← اللون

الصحراء

المناطق المتوسطة ← اللون


السهول

المناطق المنخفضة ← اللون

اكتب فائدة السهول الداخلية الصحيحة التي تعبر عنها الصورة :



استخراج



انتشار حرفة

المعلمة فاطمة المحرزي مدرسة الشارقة 2017-2018