

وزارة التربية والتعليم  
منطقة رأس الخيمة  
مدرسة أبي بن كعب ح 1



## مراجعة التّربية الوطنيّة للصف الثالث

أنا ابن الإمارات البار .....

صفي المميز .....

## مراجعة ثالث

الاسم : ..... الصفه : ....

السؤال الأول:- أكمل الفراغات التالية:-

1/ تدور الأرض حول نفسها كل ... ساعة و يسمى بالحركة ..... ، فينتج عنه .....

2/ دوران الأرض حول الشمس من ..... إلى ..... تسمى بالحركة ..... وتستغرق مدة دورتها ..... يوماً، وينتج عنها .....

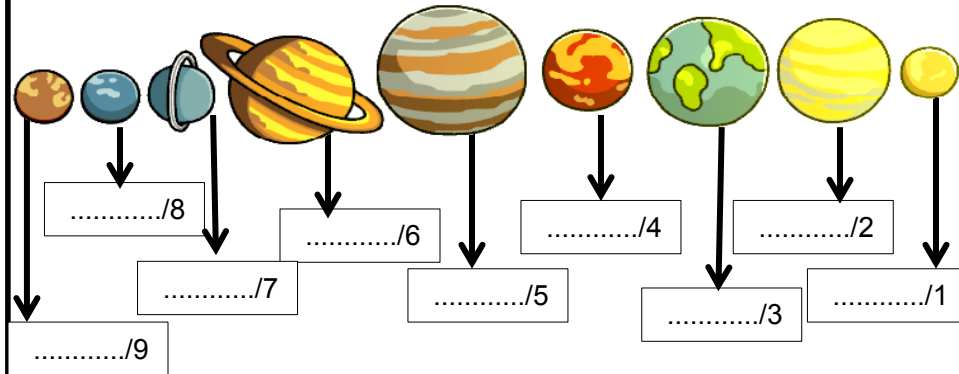
السؤال الثاني :-

أذكر بعض مظاهر الحياة على سطح الأرض؟

.....	.....	.....
-------	-------	-------

السؤال الثالث:

أكتب أسماء كواكب المجموعة الشمسية بالترتيب :-



السؤال الثالث:

1/ أنا أصغر الكواكب في المجموعة الشمسية.

أ/ الزهرة ب/ الأرض ج/ بلوتو

2/ سميت بنجم الصبح والمساء ودرجة حرارتي عالية.

أ/ الزهرة ب/ المريخ ج/ زحل

3/ لوني أحمر بسبب أكسيد الحديد في ترابي.

أ/ المريخ ب/ الأرض ج/ نبتون

4/ أنا أقرب كوكب في المجموعة الشمسية.

أ/ المشتري ب/ زحل ج/ عطارد

5/ أنا أكبر وأضخم الكواكب .

أ/ أورانوس ب/ المشتري ج/ بلوتو

6/ أنا لدي 17 قمراً يطلق على بالكوكب الأزرق.

أ/ نبتون ب/ الأرض ج/ المريخ

7/ أنا سابع كوكب بعيداً عن الشمس.

أ/ بلوتو ب/ أورانوس ج/ بلوتو

8/ أنا شكلي كروي ويعيش على سطحي الإنسان.

أ/ زحل ب/ الأرض ج/ بلوتو

السؤال الرابع :- صل بين الكواكب وترتيبها في المجموعة الشمسية:-

الترتيب

الكواكب

المشتري

زحل

عطارد

نبتون

المريخ

الزهرة

أورانوس

الأرض

بلوتو

السؤال الخامس :-

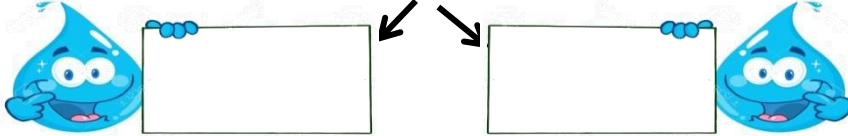
اذكر أسم الكواكب لمشروع دولتي الحبية المستقبلي

كوكب .....

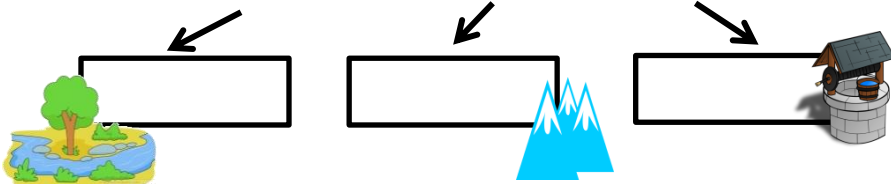
مسبار .....

السؤال السادس:-

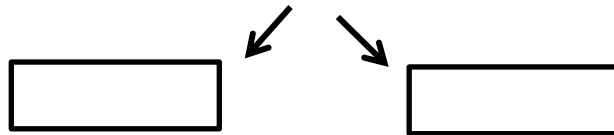
1/ أنواع المياه على سطح الأرض



2/ من أهم مصادر المياه العذبة في بلادنا



3/ من أهم مصادر المياه المالحة




عرف الأفلاج :

.....

السؤال السابع:- من المشكلات التي تعاني منها دولة الامارات



.....



.....

السؤال الثامن :- أكمل الفراغات التالية :-

1/ مناخ دولة الامارات العربية المتحدة هو .....  
 ويتميز ..... ، ..... مما يؤدي إلى حدوث  
 .....

2/ الاجراءات والحلول التي تعتمدها دولة الامارات لتأمين المياه  
 للسكان



1/ .....  
 2/ .....

3/ أذكر بعض التجارب التي قامت بها دولة الامارات للتغلب على  
 مشكلة قلة الامطار؟ .....

السؤال التاسع :-

صل يا بطل بين مفهوم والمصطلحات التالية:-

\* تفاعل المخلوقات الحية مع بعضها والغير حيه  
 \* كل مايحيط بالانسان من ماء هواءوكائنات حيه وغير حيه

1/ البيئة  
 2/ النظام البيئي

السؤال العاشر :- حوط يا بطل الكائن الحي وضع خطأ أسفل الكائن



السؤال الحادي عشر: أذكر يا بطل فوائد الهواء ، الماء، التربة



**التربة**  
 .....  
 .....

**الماء**  
 .....  
 .....

**الهواء**  
 .....  
 .....

السؤال الثاني عشر:-

مشكلات تسبب التلوث

**التربة**

**الماء**

**الهواء**



.....

.....

.....

## السؤال الثالث عشر:-

مجالات التقدم الذي حققه الإنسان في استغلال موارد البيئة :-

--	--	--	--

## السؤال الرابع عشر:-

عرف طبقة الاوزون:

.....

السؤال الخامس عشر :- اكمل العبارات التالية :

1/ ينتج عن تلوث ..... تدمير طبقة ..... التي  
تحمينا من أشعة الشمس .....

2/ لون يا بطل طبقة الأوزون:



3/ أذكر بعض مسببات ثقب الأوزون ؟

--



--

## السؤال السادس عشر :-

الاعمال التي يمكن القيام بها لحماية بيئتنا من التلوث



--	--	--	--

السؤال السابع عشر :- المؤسسات والهيئات الدولية العالمية والمحلية التي تسعى لحماية البيئة

1/ العالمية



حماية طبقة الأوزون



قانون البحار

2/ المحلية



وزارة التغير المناخي  
والبيئة  
MINISTRY OF CLIMATE CHANGE  
& ENVIRONMENT

جمعية أصدقاء البيئة

وزارة التغير المناخي  
والبيئة



السؤال الثامن عشر :- جهود دولتي الحبيبة لحماية البيئة



جائزة ..... الدولية للبيئة



جائزة ..... للوعي البيئي



جائزة ..... التقديرية للبيئة

السؤال التاسع عشر :- أكمل الإجابات التالية:-

( مدينتي - الحاويات - إعادة تدوير - النباتات )

1/ أشاركُ بِدَوْرٍ فاعِلٍ وَنَشِيطٍ فِي المَحَافِظَةِ عَلَى نِظَافَةِ .....

2/ أَتَجَنَّبُ إِحَاقَ الأَدَى بِالحَيَوَانَاتِ وَ .....

أَتَخَلِّصُ مِنَ النُّفَايَاتِ بِوَضْعِهَا فِي ..... المُمَخَّصَةِ لَهَا.

3/ إِسْتِخْدَامِي للأَشْيَاءِ المُسْتَعْمَلَةَ سَابِقاً فِي تَصْمِيمِ أَعْمَالٍ جَدِيدَةٍ وَمُفِيدَةٍ

يُسَمَّى .....

السؤال العشرون:- أكمل الفراغات التالية :

1/ لنحقق الاستدامة يجب علينا أن نقوم ب :-

1/ ..... استهلاك الموارد الطبيعية .

2/ و ..... من استخدام الموارد الطبيعية .

السؤال الواحد وعشرون :-

أكتب يا حامي البيئة بعض الطرق لنحافظ على الأرض ؟



1/ .....

2/ .....

السؤال الثاني وعشرون :- صل بين المصطلح والمفهوم المناسب

ترشيد استهلاك الموارد لتوفيرها  
للأجيال القادمة

الاستدامة

المحافظة على البيئة والكائنات  
الحية لأطول فترة زمنية ممكنة

التنمية المستدامة

السؤال الثالث وعشرون:-

1/ أرمي النفايات على شاطئ البحر. ( )

2/ أبتعد عن استخدام الاكياس البلاستيكية. ( )

3/ أعيد تدوير النفايات في أشياء ممكن الاستفادة منها. ( )

4/ أترك صنابير المياه مفتوحاً ( )



## السؤال الرابع والعشرون:-

أكمل الفقرة التالية :-

1/ ولد صاحب السمو الشيخ محمد بن زايد في مدينة ..... و ترتيبه بين إخوته .....، والده هو الشيخ ..... رحمه الله ووالدته الشيخة ..... بنت مبارك ، تولى منصب ولي العهد عام ..... م ، الشيخ زايد هو الباني ..... لدولة الامارات العربية المتحدة.

## السؤال الخامس والعشرون :-

من خلال الصور أستنتج بعض صفات صاحب السمو الشيخ محمد بن زايد آل نهيان.



.....



.....



.....

## السؤال السادس والعشرون :- عزيزي المبدع أكتب بعض انجازات

صاحب السمو الشيخ محمد بن زايد ؟



.....



.....



.....



.....

## السؤال السابع وعشرون :-

صل يا بطل مواقف صاحب السمو الشيخ محمد بن زايد داخل دولة الامارات وخارجها:-



يتفقد القوات الاماراتية في السعودية



مساندة أسر الشهداء

## السؤال الثامن وعشرون :

أكتب يا بطل أسم هذا الشعار



.....

## السؤال التاسع وعشرون:

أكتب تاريخ يوم الشهيد

.....



يوم الشهيد 30 نوفمبر

## السؤال الثالثون:-

اذكر بعض اهتمامات الشيخ محمد بن زايد آل نهيان



.....



.....



.....

السؤال واحد وثلاثون:-

1/ أذكر السلاح الحقيقي في وقتنا الحالي كما حدده سمو الشيخ محمد بن زايد؟ .....

2/ سجل دورك اتجاه وطننا الغالي وأنت على مقاعد الدراسة؟ .....

السؤال الثاني وثلاثون:-

صل بين الكلمات والصور التالية:-

العلم



رئيس الدولة



الشعار



نائب الرئيس



## السؤال الثالث وثلاثون:-

السؤال الرابع:- أستكمل المخطط الذهني التالي:-

رفع علم الدولة

دبي

أبوظبي

رفعه الشيخ .....  
في قصر .....

رفعه الشيخ .....  
في قصر .....

السؤال الرابع وثلاثون:-

أكمل الجدول التالي:-

دبي الأول - الاتحاد - عرقوب السديرة - دبي الثاني

18 فبراير 1968	25 فبراير 1968	18 يوليو 1971	2 ديسمبر 1971

السؤال الخامس وثلاثون:-

اكتب يا بطل بعض قرارات الاتحاد

اختيار

.....

اختيار

.....

اختيار

.....

اختيار

.....





السؤال السادس والثلاثون:-

رتب خطوات قيام اتحاد دولة الامارات العربية المتحدة مع  
كتابة الحدث.



السؤال السابع والثلاثون:- عزيزي أنت فخر الإمارات لتتذكر  
بعض الأحداث التاريخية في دولتنا وتحث عنها؟



السؤال الثامن والثلاثون:- صل يا بطل بين صور قادة الاتحاد



الشيخ زايد آل نهيان



الشيخ راشد آل مكتوم

السؤال التاسع والثلاثون:-

عزيزي البطل اختار الإجابة الصحيحة :-

1/ تم إعلان اتحاد ثنائي بين إمارتين .....

أ/ رأس الخيمة وعجمان ب/ أبوظبي ودبي

2/ الاتحاد الثنائي كان بين الشيخ ..... والشيخ .....

أ/ زايد وخليفه ب/ زايد وراشد

3/ الاجتماع الأول لفكرة قيام الاتحاد هو اجتماع .....

أ/ السديرة ب/ دبي الأول

4/ الأتتماع الثاني ( اجتماع دبي الأول) كان في إمارة .....

أ/ أبوظبي ب/ دبي

5/ تم الإعلان عن قيام الاتحاد في .....

أ/ 2 ديسمبر 1971 ب/ 2 سبتمبر 1971

## السؤال التاسع والثلاثون:

لون يا بطل أسماء الذين انضموا إلى الاتحاد التساعي ( اجتماع دبي الأول )

عجمان

الشارقة

أبوظبي

رأس الخيمة

أم القيوين

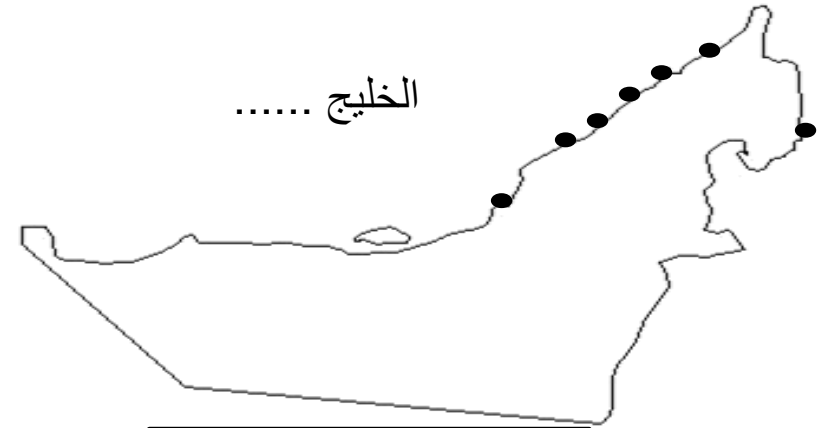
دبي

قطر

البحرين

الفجيرة

السؤال الأربعون :- عزيزي أنت فخر الإمارات ساعدني في تحديد الامارات السبع على خريطة دولتي الحبيبة .



دولة

السؤال الواحد والأربعون :- ضع الكلمات التالية وضعها في الفراغ المناسب :

اجتماع دبي الأول/ قيام الإتحاد /اجتماع دبي الثاني /اجتماع عرقوب السديرة

\* 18 فبراير 1968 م .....

\* 25 فبراير 1968 م .....

\* 18 يوليو 1971 م .....

\* 2 ديسمبر 1971 م .....

السؤال الثاني والأربعون : صل بين الرموز التالية ودلالاتها:



بطاقة هوية



جواز سفر



الشعار القديم



الشعار الجديد

السؤال الأخير : صل يا بطل أسماء الشيوخ التالية



الشيخ خليفة بن زايد آل نهيان



الشيخ زايد بن سلطان آل نهيان



الشيخ محمد بن زايد آل نهيان



الشيخ محمد بن راشد آل مكتوم

ساعدني يا محب دولتنا الحبيبة في معرفة بعض الأمور الجميلة عن علم  
بلادي

يستخدم في مناسبات .....	يرمز لـ .....
	أول من رفعه .....
	تم اعتماده في .....

يتكون علمنا من ..... ألوان مارأيك بتلون العلم بالوانها الجميلة



أنا من صممت علم  
دولتنا الغالية هل عرفت  
من أنا؟  
.....