



1- أختار من الصندوق ما يناسب من مفاهيم ومصطلحات لوضعها أمام التفسير :

الطاقة

التعدين

حضارة ما بين النهرين

الداجن

الاكتفاء الذاتي

تدوير المحاصيل

الثورة الزراعية

الثورة الصناعية

الأفلاج



زراعة محصول مختلف
سنة بعد أخرى .

قنوات تقليدية تحفر لتجمع
المياه الجوفية لاستخدامها
في الزراعة وتوفير مياه
الشرب .

الانتقال من صيد الحيوانات
والأسماك وجمع النباتات
إلى الزراعة .

.....

.....

.....

حضارة زراعية قامت بين
نهر دجلة والفرات
(العراق حالياً).

يقصد به أن يعتمد بلد ما
على الإنتاج المحلي دون
الاستيراد من الخارج.

الاتجاه نحو الإنتاج
باستخدام الآلات الصناعية
كبديل عن العمل اليدوي
للإنسان .

.....

.....

.....

القدرة على أداء شغل .

كل ما ألف البيوت ، وأقام
بها من حيوان وطيور .

استخراج المعادن ومصادر
الطاقة من باطن الأرض
وتنقيتها وإعدادها للتصنيع

.....

.....

.....

2 - ضع دائرة على الإجابة الصحيحة :

1- بدأت الثورة الزراعية في :

(آسيا الغربية - أوروبا الغربية - أفريقيا الغربية)

2- بدأ الاستقرار مع بداية :

(الصناعة - الزراعة - الصيد)

3- أدى الاستقرار بالقرب من المناطق الزراعية إلى نشوء :

(المدن - الدول - القرى)

4- ترافق التطور الزراعي مع تطور أساليب :

(الري - الصناعة - التجارة)

7 - تحتل دولة الإمارات العربية المتحدة المركز عالمياً في الإنتاج العالمي للتمور :

(الرابع - الثالث - الثاني)

10 - بدأت الثورة الصناعية باختراع الآلة البخارية في القرن :

(التاسع عشر - الثامن عشر - السادس عشر)

11 - بدأت الثورة الصناعية في :

(فرنسا - روسيا - إنجلترا)

12 - بدأ تدجين الحيوانات بترويض :

(الكلاب - القطط - الأرانب)

13 - بدأت الثورة الزراعية في أثناء العصر

(الحجري - النحاسي - الحديدي)

14- بدأ استخدام الآلات الزراعية في مزارع :

(بريطانيا وهولندا - فرنسا وإسبانيا - بلجيكا والنرويج)

15 - في عام 1850 استعمل المزارعون آلات تعمل :

(بالبخار - بالبتروول - بالغاز)

3- أجب عما يأتي :

- ما أهداف التنمية الشاملة للأجندة الوطنية لرؤية 2021 في دولة الإمارات العربية المتحدة ؟

.....
.....

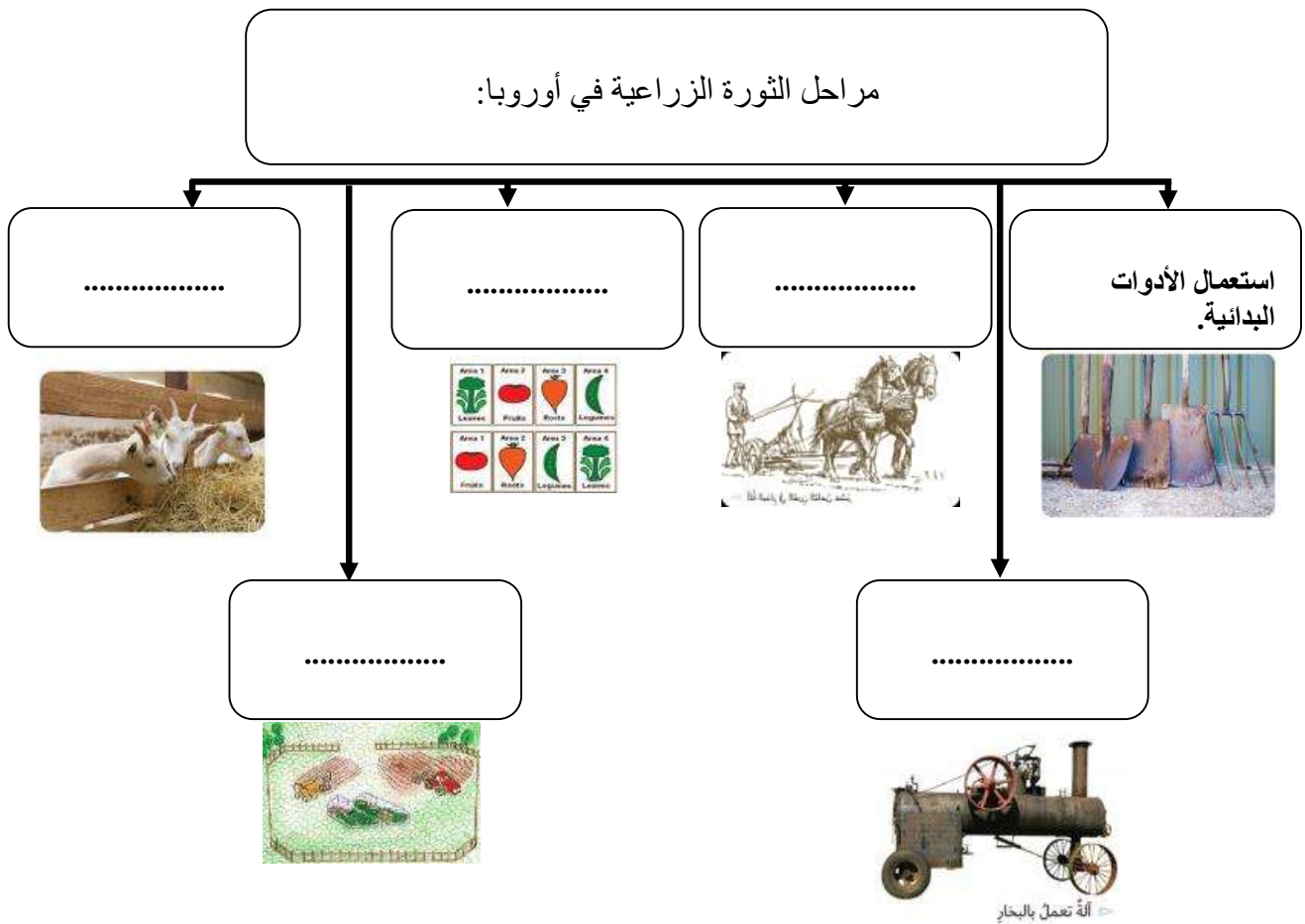
- ما أهمية تطوير القطاع الزراعي ؟

.....
.....

- اقترح طرائق لتطوير الأراضي الزراعية في دولة الإمارات العربية المتحدة

.....
.....
لماذا تبنت دولة الإمارات الزراعة المائية ؟
.....

4- أكمل المخططات الذهنية الآتية :

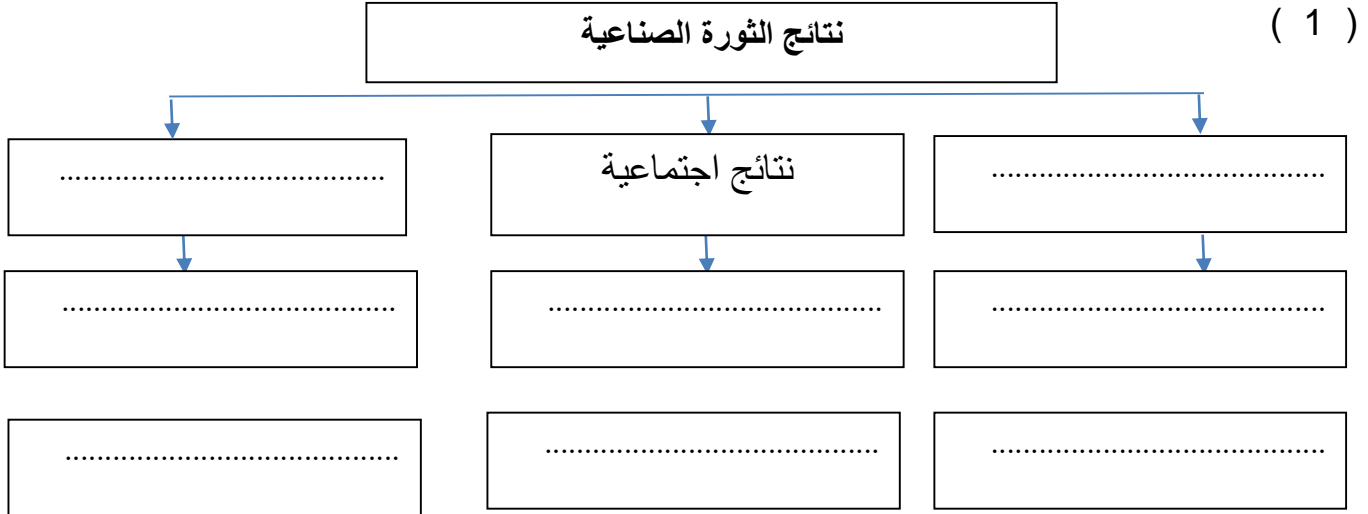


5- أكمل الفراغات بالكلمات المناسبة :

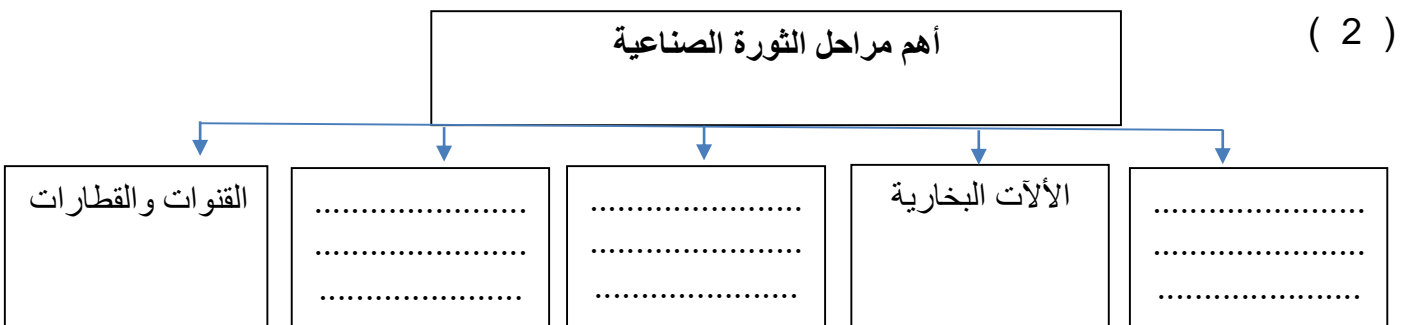
- 1- أدى الاستقرار بالقرب من المناطق الزراعية إلى نشوء وقيام
- 2- عمِل الإنسان على تطوير أدوات الحرث مثل : و و
- 3- مع اختراع و..... استفاد منها الإنسان لنقل المحاصيل إلى أماكن متعددة.
- 4- ترافق التطور الزراعي مع تطور أساليب
- 5 - نجحت دولة الإمارات بالوصول إلى اكتفاء ذاتي من الإنتاج الزراعي بنسبة
- 6- تحتل دولة الإمارات العربية المتحدة المركز عربياً في الإنتاج العالمي للتمور
- 7- دولة غير أوروبية سباقة في الثورة الصناعية
- 8- يحتفل بيوم الطفل الإماراتي بتاريخ مارس من كل عام .
- 9- نشأت في بريطانيا العديد من المصانع حتى عرفت باسم

6 : أكمل المخططات الذهنية الآتي :

(1)



(2)



7: بم تفسر (اذكر السبب أو الأسباب) :

1- الاستقرار السياسي في إنجلترا

.....
.....

2- اتساع تجارة إنجلترا الخارجية .

.....

8: اقرأ النص الآتي ثم أجب على الأسئلة التي تليه :

من أسباب ظهور الثورة الصناعية في إنجلترا دون غيرها من الدول الأوروبية :
الاستقرار السياسي واتساع تجارة إنجلترا الخارجية والاهتمام بالاختراعات والبحث العلمي وتوفر الأيدي
العاملة الرخيصة ووفرة مصادر الطاقة .

1- ضع عنوان للنص :

2- أين ظهرت الثورة الصناعية

.....

3- مأسباب ظهور الثورة الصناعية في إنجلترا

.....

.....

.....

.....

4- هل هناك أوجه تشابه بين عوامل قيام الصناعة في إنجلترا ودولة الإمارات

.....

9- رتب مراحل الثورة الصناعية وفق الجدول الآتي :

(القنوات والقطارات - المصانع والمدن - الآلات البخارية - تعدين الفحم - الآت جديدة)

5	4	3	2	1
.....

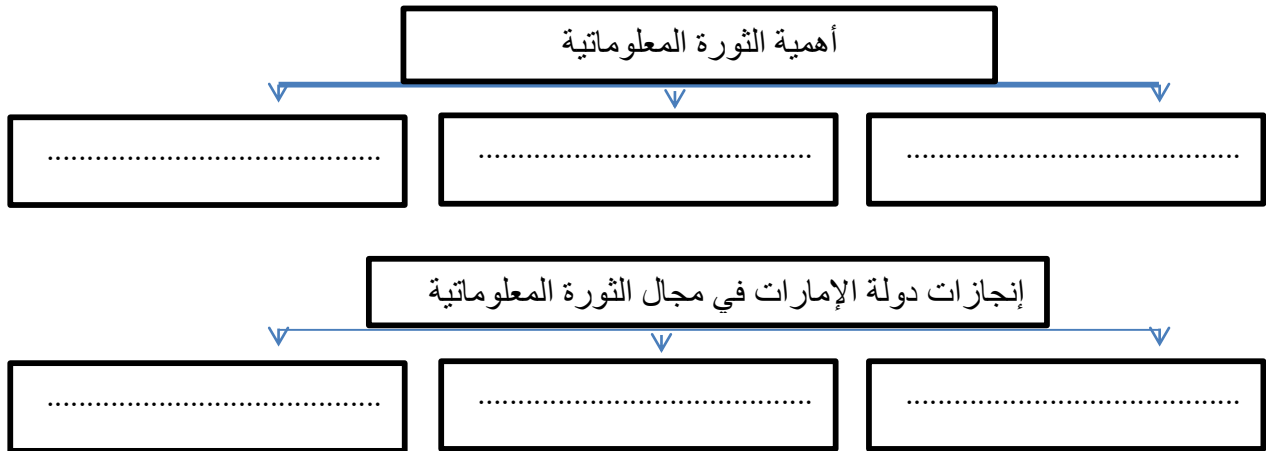
- 10- أصمم مخططات ذهنية للمواضيع الآتية :
 أ- المناطق الصناعية في دولة الإمارات
 ب- أهم قطاعات الصناعة في دولة الإمارات

--	--

10 - أقرن بين الثورة المعلوماتية والحاسوبية وفق معطيات الجدول:

الثورة الحاسوبية	الثورة المعلوماتية	وجه المقارنة
		المفهوم

11- أكمل المخططات الذهنية الآتية :



آثار الثورة المعلوماتية

آثار سلبية

.....
.....
.....
.....
.....
.....
.....

آثار إيجابية

.....
.....
.....
.....
.....
.....
.....

12- أكمل العبارات الآتية بما يناسب :

- 1- يتضمن عام الخير محاور
- 2- اللون الذي تم اختياره للسعفة في شعار (عام الخير) هو
- 3- تدل السبع ورقات التي في كلا جانبي سعفة النخيل على
- 4- صاحب مبادرة عام الخير هو الشيخ
- 5- من المحاور الرئيسية لمبادرة (عام الخير)
- 6- دولة الإمارات سجلت رقماً عالمياً خلال عام 2009 بوجود أكبر عدد من أشجار بالنسبة لمساحتها

13- أفسر المقصود بالمبادرة :

.....



14- اقرأ المقولة ثم أجب على الأسئلة الآتية :

- (خليفة بن زايد ومحمد بن زايد دفعا بدولة الإمارات للمركز الأول عالمياً في مؤشر العطاء هما فارسا الميدان وهما القدوة لأجيال الإمارات)
- 1- من قائل هذه المقولة
 - 2- استخرج من المقولة قيمة وطنية وسلوكية