

# 2020

## 19 العام الدراسي

Academic Year

رؤية  
VISION  
2021  
مملكة الإمارات العربية المتحدة  
UNITED ARAB EMIRATES



# امتحان الفصل الدراسي الأول

## End of Term 1 Exam

		رقم الطالب / Student No
		اسم الطالب / Student Name
		اسم المدرسة / School Name
الصف والمسار / Grade & Stream	الخامس	Class / الشعبة
الدراسات الاجتماعية		Subject / المادة

This table is to be filled by markers

يملأ هذا الجدول بدقة تامة من قبل لجنة التقدير.

المراجع Reviser	المقدر 2 2 Marker	المقدر 1 Marker 1	الدرجة Mark		رقم السؤال Question No.
			كتابة In Words	رقماً In Figures	
					السؤال الأول
					السؤال الثاني
					السؤال الثالث
					الدرجة المستحقة Allotted Mark

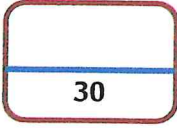
G05 Social Studies  
الدراسات الاجتماعية

- يحظر تصوير أو تداول الورقة الامتحانية قبل أو أثناء أو بعد الامتحان من خلال البريد الالكتروني أو وسائل التواصل الاجتماعي أو أي وسيلة أخرى ومن يخالف ذلك سيتخذ في حقه الإجراءات القانونية المتبعة.  
- على إدارات المدارس ولجان الامتحانات ومراكز التقدير مراعاة ذلك، ورصد المخالفات، واتخاذ الإجراءات اللازمة.

- It is prohibited to photocopy or circulate the exam paper before / during and after the exam through e-mail, social media or any other means; and whoever violates this will be subject to the followed legal proceedings.  
- School Administrations, Exam Committees and Marking Centers shall take this into account, monitor violations and take necessary measures



6	عدد الصفحات	الأول	الفصل	العام	المسار	الخامس	الصف	الدراسات الاجتماعية	المادة
---	-------------	-------	-------	-------	--------	--------	------	---------------------	--------




## السؤال الأول:

أولاً: اقرأ النص التالي، ثم أجب عما يليه من أسئلة باختيار الإجابة المناسبة من بين البدائل:

تعتبر قبيلة (شيا) أول أسرة ظهرت في الصين قديماً والتي عاشت في عام 2100 ق.م، وتبعها أسرة (شانغ) التي استقرت في منطقة النهر الأصفر خلال القرن الحادي عشر ق.م، وبدأ بعد ذلك ظهور العديد من الأسر التي حكمت الصين.

أُنشئت بعد ذلك أول دولة موحدة صينية بقيادة الإمبراطور (تشين)، ولقب نفسه بالإمبراطور الأول، وانتهى عهد الإمبراطورية بعد وفاته.



حكمت أسرة (هان) الصين بين عام 206 ق.م وحتى عام 220م، وتم توسيع أراضي الإمبراطورية إلى حد كبير من خلال حملات عسكرية واسعة في مناطق كوريا، وفيتنام، ومنغوليا، وآسيا الوسطى، وفي فترة حكمها شُيد سور الصين العظيم، وذلك لحماية المناطق الزراعية من غارات الرعاة الرحّل في السهول الشمالية.

1. لقب الإمبراطور تشين نفسه بـ:

- a . الإمبراطور العظيم      b . الإمبراطور الأول      c . الإمبراطور القوي

2. أول أسرة حكمت بلاد الصين قديماً:

- a . هوانغ هو      b . شانغ      c . شيا

3. أبرز إنجاز حضاري تحقق في عهد أسرة هان، بناءً:

- a . سور الصين العظيم      b . القصور الجميلة      c . الأهرامات

4. استقرت أسرة شانغ التي حكمت الصين بالقرب من:

- a . بكين      b . النهر الأزرق      c . النهر الأصفر

5. توسعت الإمبراطورية الصينية في فترة حكم أسرة هان وشملت مناطق:

- a . كوريا وفيتنام ومنغوليا وآسيا الوسطى  
b . الصين واليابان وماليزيا وآسيا الوسطى  
c . الهند واندونيسيا ومنغوليا وآسيا الوسطى

6	عدد الصفحات	الأول	الفصل	العام	المسار	الخامس	الصف	الدراسات الاجتماعية	المادة
---	-------------	-------	-------	-------	--------	--------	------	---------------------	--------

ثانيًا: حلّ الخريطة التالية والمعلومات المصاحبة، ثم أجب عما يليها من أسئلة باختيار الإجابة المناسبة من بين البدائل:



6. تعتبر مدينة روما عاصمة الإمبراطورية الرومانية:

- a . الشرقية      b . الشمالية      c . الغربية

7. تعد المدرجات من أبرز ما خلفته الحضارة الرومانية القديمة مثل مدرج:

- a . أوثينا      b . المعبد      c . سيرميوم

8. تعتبر من أهم موانئ الإمبراطورية الرومانية الشرقية:

- a . رافينا      b . صور      c . قرطاج

9. عاصمة الإمبراطورية الرومانية الشرقية:

- a . سرقوسة      b . الإسكندرية      c . القسطنطينية

10. تحررت مدينة أوذنة التونسية من سيطرة الرومان بعد دخول العرب المسلمين في القرن الميلادي:



- a . السادس      b . السابع      c . الثامن

6	عدد الصفحات	الأول	الفصل	العام	المسار	الخامس	الصف	الدراسات الاجتماعية	المادة
---	-------------	-------	-------	-------	--------	--------	------	---------------------	--------

30

## السؤال الثاني:

أولاً: تأمل الصور التالية، ثم أجب عما يليها من أسئلة باختيار الإجابة المناسبة من بين البدائل:



11. لعبة شعبية إماراتية يقفز فيها على رجل واحدة وتثنى الأخرى للخلف وتمسك باليد للوصول إلى الخط الثاني:

- a . القبة      b . الغميضة      c . الكراي

12. لعبة شعبية ينحني أحد الأطفال إلى الأمام ويقوم الآخرون بالقفز من فوق ظهره:

- a . خبز رقاق      b . الدسيصة      c . المسطاع

13. (طاق طاق طاقة) لعبة شعبية يقوم بممارستها الأطفال:

- a . الذكور فقط      b . الذكور والإناث      c . الإناث فقط

14. لعبة بناتية حيث تتقابل طفلتان على الأرض وتمد كل واحدة رجلها للأمام وتقوم بقية البنات بالقفز دون الملامسة:

- a . التيلة      b . الكراي      c . النطة

15. لعبة شعبية يتم ربط الحبال المتينة في أغصان شجرة قوية بحيث تستطيع البنات الجلوس والتمرجح بها:

- a . المرحان      b . الصقلة      c . الحالوسة

6	عدد الصفحات	الأول	الفصل	العام	المسار	الخامس	الصف	الدراسات الاجتماعية	المادة
---	-------------	-------	-------	-------	--------	--------	------	---------------------	--------

ثانيًا: اقرأ النص التالي، ثم أجب عما يليه من أسئلة باختيار الإجابة المناسبة من بين البدائل:

لم يترك الباني المؤسس الشيخ زايد بن سلطان آل نهيان -رحمه الله- مجالاً من مجالات الحياة في دولة الإمارات إلا وقد صب اهتمامه على تطويره، ومنها اهتمامه بمجال الزراعة وذلك لإيمانه أن الزراعة هي مصدر تطور وضممان استمرارية الحضارات، وقد حقق إنجازات كبيرة في ذلك ومن أهمها:

حرصه على عدم قطع الأشجار عند إنشاء الطرق تحت شعار "اقطع طريقاً ولا تقطع شجرة"، واتبع أحدث الطرق في مكافحة التصحر وحماية البيئة فلقبه الإماراتيون بـ (قاهر الصحراء)، وإقامة محمية طبيعية احتلت 7% من إجمالي مساحة الدولة.



تمكنت دولة الإمارات من حصد العديد من الجوائز بسبب إنجازات الشيخ زايد في مجال الزراعة، ومن أبرزها:

- تقلّد وشاح رجل الإنماء والتنمية عام 1993 من قبل جامعة الدول العربية.
- الحصول على جائزة تقديرية وميدالية ذهبية من منظمة الفاو عام 1995.
- حمل لقب زايد رجل البيئة لعام 2000 من لبنان.

16. اهتم الشيخ زايد -رحمه الله- بالزراعة لاعتقاده أن الزراعة مصدر:

- الدواء للإنسان والحيوان
- الطاقة المتجددة وحماية البيئة
- تطور وضممان استمرارية الحضارات

17. لقب أطلقه الإماراتيون على الشيخ زايد -رحمه الله- في حمايته للبيئة:

- قاهر الصحراء
- خير الصحراء
- صديق الصحراء

18. حصل الشيخ زايد -رحمه الله- عام 2000م على لقب:

- زايد الخير
- زايد رجل البيئة
- زايد رجل الكرم


19. حرص الشيخ زايد -رحمه الله- على عدم قطع الأشجار عند إنشاء الطرق إيماناً منه بشعار:

- اقطع طريقاً ولا تقطع شجرة
- ازرع شجرة تحيي أمة
- من زرع حصد ومن سار على الدرب وصل

20. مُنح الشيخ زايد -رحمه الله- وشاح رجل الإنماء والتنمية عام 1993م من قبل:

- منظمة الفاو
- جامعة الدول العربية
- منظمة اليونسكو

6	عدد الصفحات	الأول	الفصل	العام	المسار	الخامس	الصف	الدراسات الاجتماعية	المادة
---	-------------	-------	-------	-------	--------	--------	------	---------------------	--------



### السؤال الثالث :

أولاً: حلل الصور التالية والمعلومات المصاحبة، ثم أجب عما يليها من أسئلة باختيار الإجابة المناسبة من بين البدائل:



الشيخ راشد بن سعيد آل مكتوم كان حاكم إمارة دبي ونائب رئيس الدولة، ساهم مع الشيخ زايد في وضع اللبنة الأولى للاتحاد في اجتماع عرقوب السديرة.



الشيخ راشد بن حميد النعيمي، شارك في تأسيس دولة الاتحاد، وترسيخ أركانها، وساهم بشكل كبير في تطور إمارة عجمان في كافة الصعد، توفي سنة 1981م.



الشيخ محمد بن حمد الشرقي، حاكم إمارة الفجيرة (1942-1974)، شارك في تأسيس الدولة، ووقع على دستورها وساهم في رحلة البناء التي شهدتها الإمارة في مختلف المجالات.



الشيخ خالد بن محمد القاسمي حاكم إمارة الشارقة، عُرف عنه وطنيته وتطلعه الدائم لتطوير الإمارة وحرصه على قيام الاتحاد وتوحيد الصفوف والجهود.



الشيخ صقر بن محمد القاسمي آخر الآباء المؤسسين المتوفين، حكم رأس الخيمة حتى 2010م بتاريخ وفاته، عُرف عنه صفات قيادية كثيرة أهمها قربيه من المواطنين.

21. الشيخ راشد بن حميد النعيمي، شارك في تأسيس دولة الاتحاد، حكم إمارة:

- a . أبوظبي      b . عجمان      c . أم القيوين

22. آخر الآباء المؤسسين المتوفين عام 2010م، حكم إمارة رأس الخيمة، الشيخ :

- a . صقر بن محمد القاسمي      b . سعود بن صقر القاسمي      c . محمد بن سالم القاسمي

23. حاكم إمارة دبي، ساهم مع الشيخ زايد في وضع اللبنة الأولى للاتحاد في اجتماع عرقوب السديرة، الشيخ:

- a . مكتوم بن راشد آل مكتوم      b . محمد بن راشد آل مكتوم      c . راشد بن سعيد آل مكتوم

24. الشيخ خالد بن محمد القاسمي عُرف بوطنيته وحرصه على قيام الاتحاد وتوحيد الصفوف، حكم إمارة:

- a . الشارقة      b . دبي      c . رأس الخيمة

25. حاكم إمارة الفجيرة، شارك في تأسيس الدولة، الشيخ :

- a . حمد بن محمد الشرقي      b . محمد بن حمد الشرقي      c . سيف بن حمد الشرقي

ثانيًا: حلّل الخريطة والمعلومات المصاحبة، ثم أجب عما يليها من أسئلة:

مجلس التعاون الخليجي  
أسس مجلس التعاون  
لدول الخليج العربية  
في عام 1981م  
بالاجتماع المنعقد في  
العاصمة السعودية  
الرياض. يتولى الأمانة  
العامه للمجلس حاليًا  
عبد اللطيف بن راشد  
الزيّاني. ويتخذ المجلس  
من العاصمة السعودية  
مقرًا رئيسيًا له.

26. كوّن تعميماً مناسباً بالاستعانة بالكلمات التالية: ( مجلس التعاون - قوة الاقتصاد - الدول الأعضاء )

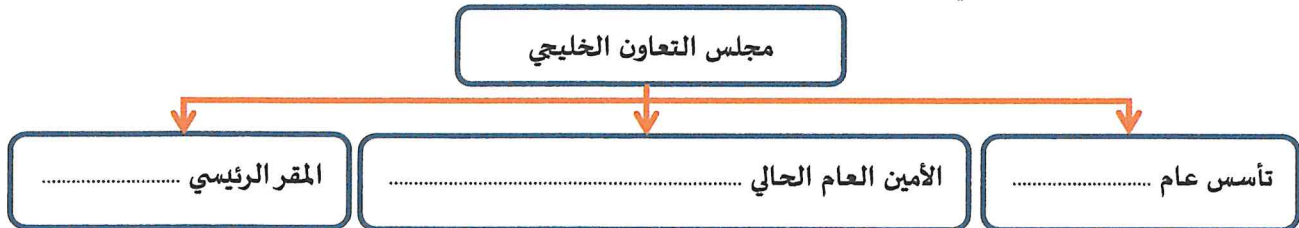
27. صنّف الكلمات التي بين القوسين المتعلقة بمجلس التعاون الخليجي وفق الجدول التالي:  
( البحر الأحمر - أبوظبي - الكويت - مكة المكرمة - الجمهورية اليمنية )

عاصمة	دولة عضو	مسطح مائي	دولة مجاورة	مدينة كبيرة
.....	.....	.....	.....	.....

28. أكمل العبارات التالية بما يناسبها:

- تعتبر دولة الإمارات العربية المتحدة من الدول الأعضاء في مجلس .....
- سلطنة عمان عضو في مجلس التعاون الخليجي، وعاصمتها .....
- عدد دول مجلس التعاون الخليجي ..... دول.

29. أكمل بيانات المخطط التالي:



انتهت الأسئلة  
بالتوفيق والنجاح