

المادة: الرياضيات

الزمن : 90 دقيقة

عدد الصفحات : (5)



مدرسة الراشد الصالح الخاصة - دبي



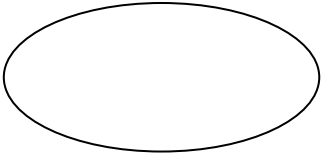
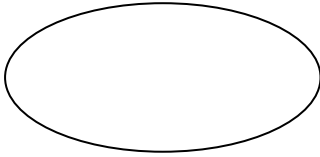

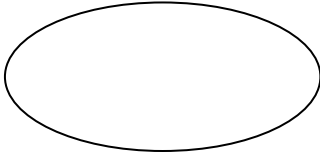
اسم الطالب/ة:

الصف والشعبة: الأول ()

اليوم والتاريخ:

الاختبار التدريبي للفصل الدراسي الاول للعام الدراسي 2016 / 2017

السؤال الأول : اكتب الأعداد فيما يلي



السؤال الثاني : ارسم لتبين العدد اثنا عشر ثم اكتبه


--

السؤال الثالث: اكتب الأعداد ومن ثم أجب عما يأتي

لون المجموعات المتساوية باللون الأحمر من ثم حوط المجموعة الأصغر من
الاثنان بواحد ومن ثم ارسم رمز x حول المجموعة الأكبر من 3 بواحد



السؤال الرابع: تأمل الشكل وأجب عما يلي :



ارسم حول النحلة الثالثة من جهة الزهرة

ارسم رمز x حول النحلة السابعة من جهة الزهرة

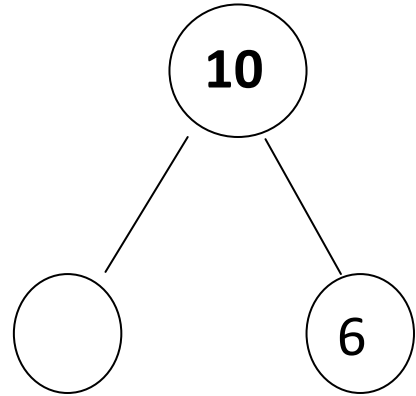
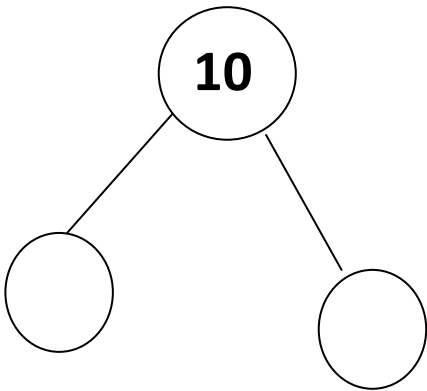
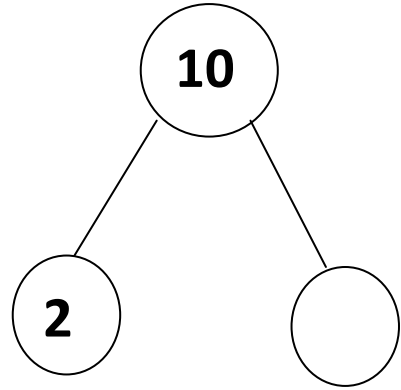
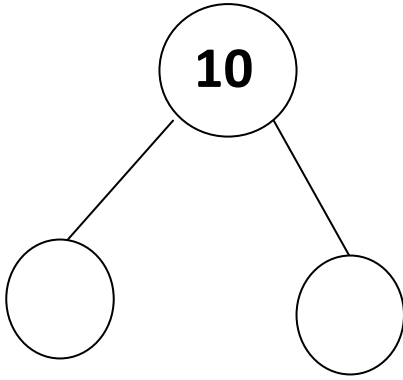
ارسم خطاً أسفل النحلة الثانية من جهة الزهرة

السؤال الخامس : اكمل كتابة الأعداد الناقصة فيما يلي :

35		37			
----	--	----	--	--	--

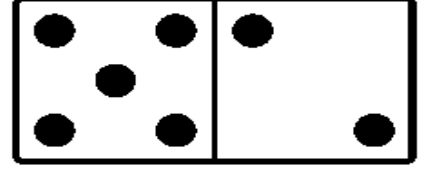
10				50	
----	--	--	--	----	--

السؤال السادس : أكمّل كتابة طرق للحصول على العدد 10



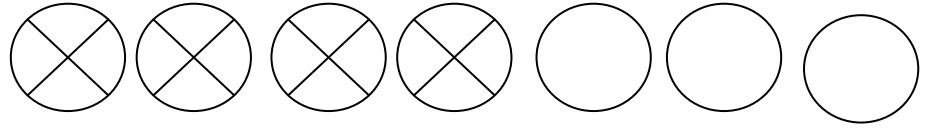
السؤال السابع : أكمل جمل الجمع فيما يلي :

$$\bigcirc + \bigcirc = \bigcirc$$



$$\text{---} \bigcirc \text{---} \quad \text{---} \bigcirc \text{---}$$

السؤال الثامن : اكمل جملة الطرح :



$$\text{---} \bigcirc \text{---} \quad \text{---} \bigcirc \text{---}$$

السؤال التاسع : أوجد ناتج ما يلي

$4 + 5 =$	$9 + 0 =$	$8 - 3 =$	$7 - 7 =$
-----------	-----------	-----------	-----------

السؤال العاشر :

لدى خالد 5 ألعاب ولدى علي 4 ألعاب فكم إجمالي الألعاب لديهما؟

رأى أحمد 3 فراشات ورأى محمد 3 فراشات أخرى فكم عدد الفراشات التي رآها
الطفلان؟

مع نهى 9 زهرات 3 من هذه الزهرات لونها أحمر والباقي أصفر فكم عدد
الزهرات الصفراء التي معها؟

هناك 7 نمور في الغابة . هناك 3 ذئاب ، فكم تقل عدد الذئاب عن النمر ؟

لدى أمجد 9 دراهم ، اشتري ب6 دراهم فكم عدد الدراهم المتبقية لديه ؟

هناك 6 تفاحات . أعطت مريم بعض التفاحات لصديقتها تبقى لديها 3 تفاحات فكم
عدد التفاحات التي أعطتها لصديقتها ؟

السؤال الحادي عشر : أكمل الفراغ فيما يلي :

<input checked="" type="radio"/> جزء	<input type="radio"/> جزء
1	
الكل	
8	

<input checked="" type="radio"/> جزء	<input type="radio"/> جزء
4	3
الكل	