

Omar has anOmar has anOmar has anOmar has an



المعلم عمر حسن إبراهيم عطا الله
مادة الدراسات الاجتماعية

..... الاسم:



1

الصف الرابع

الدراسات الاجتماعية



Alhayer

Omar has anOmar has anOmar has anOmar has anOmar has an

مهارات مادة الدراسات الاجتماعية

المهارة	الرقم	المهارة	الرقم
مهارة تحليل الرسوم البيانية (استخراج الحقائق - تمثيل البيانات في الجدول على شكل رسوم بيانية - استنتاج دلالة البيانات في الرسوم)	2	مهارة تحليل النصوص وتشمل (استخراج الأفكار الرئيسة - استخراج الأفكار الفرعية - وضع عنوان للنص - استخراج الحقائق - اصدار التعاميم)	1
مهارة قراءة الخط الزمني (ترتيب الأحداث - تحليل البيانات في الخط الزمني - استخراج التواريخ الهامة)	4	مهارة قراءة الخرائط وتشمل (تحديد المواقع - استخراج مواقع معينة - بيان دلالة واهمية الموقع - الحدود - الأقاليم الجغرافية والمناخية - الموقع الفلكي والنسبي)	3
مهارة المقارنة والتمييز بين التعاميم والحقائق والآراء والنظريات)	6	مهارة حل المشكلات وتشمل (الشعور بالمشكلة - تحديد المشكلة - وضع الفرضيات الأسباب المشكلة والحلول المناسبة - جمع البيانات الداعمة)	5
مهارة استخراج أوجه الشبه والاختلاف في المواقف	8	مهارة تشكيل الخرائط الذهنية	7



Omar has anOmar has anOmar has anOmar has an



وزارة التربية والتعليم
Ministry of Education

كتاب النشاط



الدراسات الاجتماعية



ALhayer

Omar has anOmar has anOmar has anOmar has anOmar has an

Omar has anOmar has anOmar has anOmar has anOmar has an

Omar has anOmar has anOmar has anOmar has anOmar has an



دائرة التعليم والمعرفة
DEPARTMENT OF EDUCATION
MINISTRY OF EDUCATION



وزارة التربية والتعليم
Ministry of Education

المراجعة النهائية

المعلم عم حسن إبراهيم عطا الله
مادة الدراسات الاجتماعية

الوحدة الأولى
أعرف بلادي

2



الدراسات الاجتماعية



Alhayer

3

أنا أحد كواكب المجموعة الشمسية والكوكب الوحيد الذي عرف الحياة

1



A الشمس

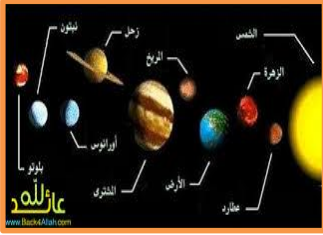
B الأرض

C المريخ

D الزهرة

أنا مجموعة الأجسام التي تدور حول الشمس

2



A الكواكب

B النجوم

C المجموعة الشمسية

D الأرض

اللون البني والأخضر والأصفر على الكرة الأرضية يمثل

3



A اليابس

B الفضاء

C الهواء

D الماء

اللون الأزرق على الكرة الأرضية يمثل

4



A اليابس

B الماء

C الهواء

D الفضاء

4

موقع المكان بالنسبة لليابسة والماء يقصد به

5



الموقع الفلكي

A

الموقع النسبي

B

الموقع السياسي

C

الموقع الاقتصادي

D

يطلق على كوكب الارض لقب الكوكب

6



الأحمر

A

الأسود

B

الأزرق

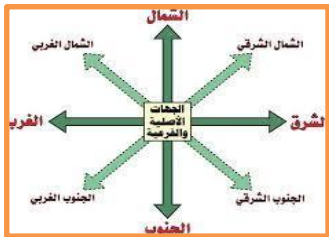
C

البنى

D

الصورة التي أمامك تمثل

7



الجهات الأصلية

A

الجهات الأصلية والفرعية

B

مقياس الرسم

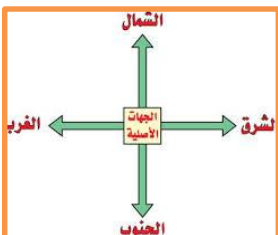
C

مفتاح الخريطة

D

الصورة التي أمامك تمثل

8



الجهات الفرعية

A

مفتاح الخريطة

B

مقياس الرسم

C

الجهات الأصلية

D

5

الطالب الذي في الصورة يشير الى جهة

9



A الشمال

B الشرق

C الغرب

D الجنوب

عدد القارات في العالم

10



A 8

B 9

C 7

D 10

عدد المحيطات هو

11



A 4

B 5

C 3

D 6

واحد من التالي ليس محيط

12



A الهادي والهندي

B اسيا وأوروبا وأفريقيا

C الأطلسي

D المتجمد الشمالي



يحد قارة آسيا من الشمال المحيط

- A الهادي
- B الهندي
- C الأطلسي
- D المتجمد الشمالي

تقع اليابان في قارة

- A اسيا
- B أوروبا
- C أفريقيا
- D استراليا

تجاور الصين من جهة الشمال

- A الاتحاد الروسي ومنغوليا
- B منغوليا
- C الاتحاد الروسي
- D اليابان

تطل الهند من جهة الجنوب على

- A المحيط الهندي
- B المحيط الأطلسي
- C المتجمد الشمالي
- D الهادي



ما هي أكبر الدول مساحة في الخريطة

- A الهند
- B الصين
- C السعودية
- D الاتحاد الروسي

الخريط السياسية مهمة في

- A تحديد الوقت
- B تحديد الدول والقارات
- C تحديد الارتفاعات
- D تحديد المناخ

دولة واحدة من التالي لاتقع في اسيا

- A الباكستان
- B الإمارات
- C اليمن
- D فرنسا

ما هو المحيط غير الموجود في الخريطة

- A المحيط الهندي
- B المحيط الأطلسي
- C المتجمد الشمالي
- D الهادي

8

هو موقع أي جسم على الكرة الأرضية

15



الموقع الفلكي

A

الموقع الجغرافي

B

الموقع النسبي

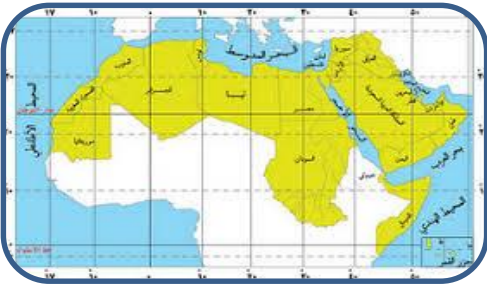
C

الموقع المكاني

D

هو موقع المكان بالنسبة لخطوط الطول ودوائر العرض

16



الموقع الجغرافي

A

الموقع الفلكي

B

الموقع النسبي

C

الموقع المكاني

D

خطوط الطول ودوائر العرض هي نظام شبكي

17



حقيقي

A

شبه حقيقي

B

وهمي

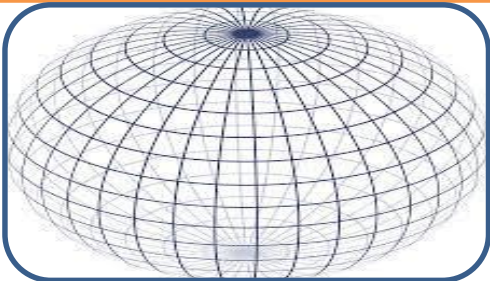
C

جميع ما ذكر

D

الرسم الموجود على اليسار يمثل :

18



النظام الشبكي

A

خطوط الطول

B

دوائر العرض

C

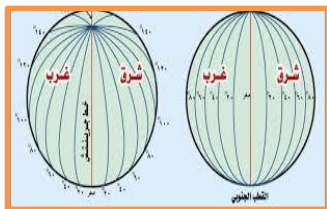
جميع ما ذكر

D

19

: الصورة المجاورة تشير إلى

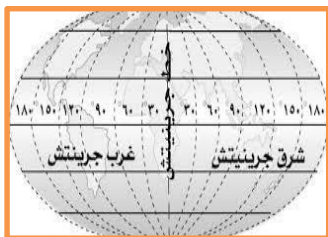
8

خطوط الطول Aدوائر العرض Bالنظام الشبكي Cالكرة الأرضية D

20 : دائرة العرض الرئيس التي تقسم الأرض لقسمين هي دائرة

الجدي Aالسرطان Bغرينتش Cالأستواء D

21 : خط الطول الرئيس الذي قسم الأرض إلى قسمين هو خط

الاستواء Aالجدي Bالتاريخ الدولي Cغرينتش D

: ترسم دوائر العرض على شكل

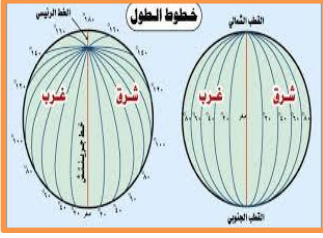
22

نصف دائرة Aدائرة Bمربع Cخط مستقيم D

9

ترسم خطوط الطول على شكل

23



A أنصاف دوائر

B دوائر

C خطوط مستقيمة

D مربع

24 : عدد خطوط الطول هو 360 خط 180 شرق غرينتش و

24

A 90 غرب غرينتش

B 120 غرب غرينتش

C 180 شرق غرينتش

D 180 غرب غرينتش



25 : إذا كان هناك 90 دائرة جنوب الأستواء 90 شمال الأستواء فما هو عدد دوائر العرض

25

A 180

B 170

C 360

D 90



26 : نستفيد من دوائر العرض في تحديد المكان و


26

A الموقع

B الوقت

C الساعة

D المناخ



نستفيد من خطوط الطول في تحديد المكان و

27



الرطوبة A

الحرارة B

الأمطار C

الوقت D

قسم العلماء العالم إلى منطقة زمنية

28



42 A

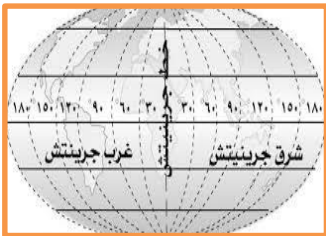
24 B

28 C

36 D

اعتمد العلماء في التقسيم على خط

29



الجدى A

الطول B

الاستواء C

جرينتش D

ما هو سبب تسمية خط جرينتش بهذا الاسم

30



نسبة للمسار الذي يمر فيه خط الطول الرئيسي الرسمي، والذي يمر من خلال المرصد الملكي في مدينة جرينتش في إنجلترا

A

لا يوجد سبب

B

11

كل 15 خط عل نموذج الكرة الأرضي كم يساوي من الوقت

31



ساعة

A

ساعتان

B

ثلاث ساعات

C

نصف ساعة

D

كل خط كم دقيقة:

32

4

5

A

4

B

3

C

2

D

كم رقم خط غرينتش ودائرة الاستواء

33

صَفْرَاء

23.5

A

180

B

66.5

C

0.0

D

يقع مدار السرطان عند درجة

34

23.5 شمال الأستواء

A

23.5 جنوب الأستواء

B

30 شمال الأستواء

C

66.5 جنوب الاستواء

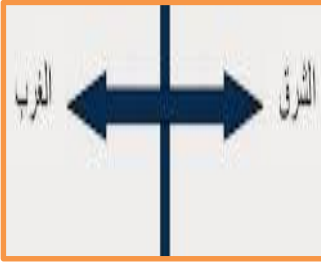
D



11

دوائر العرض تمتد من

35



A الشمال إلى الجنوب

B الشرق على الغرب

C الجنوب إلى الشرق

D الغرب إلى الجنوب

خطوط الطول تمتد من

36



A الشمال إلى الجنوب

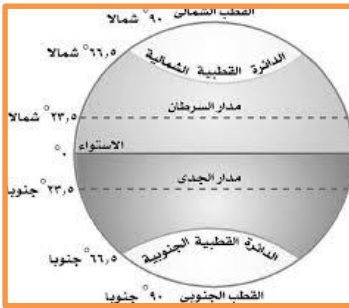
B الشرق على الغرب

C الجنوب إلى الشرق

D الغرب إلى الجنوب

واحدة من التالي ليس من المناطق الحرارية

37



A الدائرة القطبية الشمالية

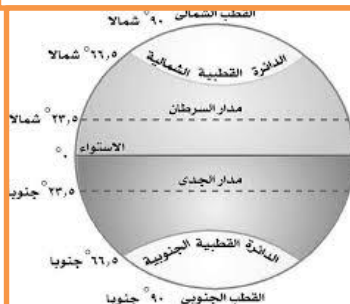
B دائرة الاستواء

C المنطقة المدارية

D الدائرة القطبية الغربية

يقع في نصف الكرة الشمالي رقمه 23.5 هو

38




A مدار الجدي

B مدار السرطان

C دائرة الاستواء

D خط غرينتش

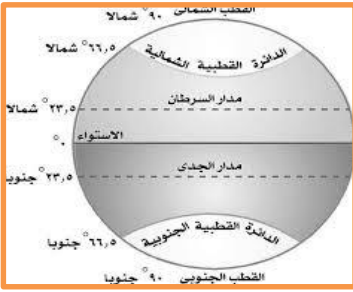
المنطقة الحارة – المنطقة القطبية الجنوبية – المنطقة المعتدلة الشمالية



13

القطب الشمالي يحمل دائرة العرض رقم

40



23.5s

A

66.5s

B

90n

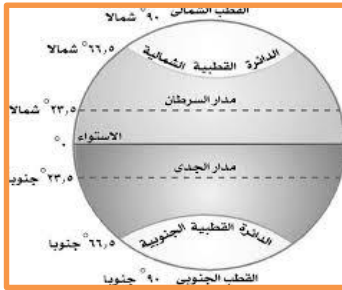
C

90s

D

القطب الجنوبي يحمل دائرة العرض رقم

41



23.5n

A

66.5n

B

23.5s

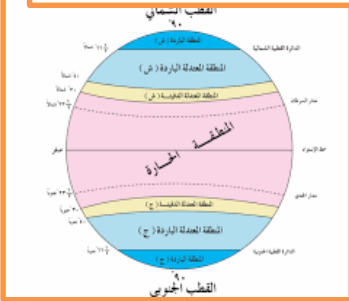
C

90s

D

المنطقة الحارة تمتد من دائرة

42



23.5s-23.5n

A

66.5s-66.5n

B

90s-90n

C

30s-30n

D

تبلغ مساحة الإمارات :

43

8-3,6-0-0

86.300km²

A

83.600km²

B

80.600km²

C

80.300km²

D

14

رئيس دولة الإمارات الحالي هو الشيخ حفظه الله

44



A زايد بن سلطان

B خليفة بن زايد

C محمد بن زايد

D محمد بن راشد

عاصمة الإمارات هي مدينة

45



A دبي

B الشارقة

C عجمان

D أبوظبي

اللغة الرسمية لدولة الإمارات هي اللغة

46



A الفرنسية

B العربية

C الألمانية

D الإنجليزية

أول رئيس للدولة هو صاحب السمو الشيخ رحمه الله

47



A زايد

B صقر

C راشد

D محمد

15

تأسست دولة الإمارات في

48



2-12-1972

A

2-12-1973

B

2-12-1971

C

2-12-1970

D

عناصر الثقافة التي يتناقلها الأبناء من الأجداد

49



الحضارة

A

المدنية

B

التراث

C

جميع ما ذكر

D

عدد إمارات الدولة هو

50



5

A

4

B

3

C

7

D

دولة الامارات دولة

51

4

اتحادية

A

متعاونة

B

مستقلة

C

جميع ما ذكر

D

16

أخذت دولة الإمارات من زاد وقوة

52



A انسان الإمارات

B نפט الإمارات

C الثروة المعدنية في الإمارات

D الثروة الزراعية في الإمارات

53 واحدة من التالي ليس من الروابط التي تجمع أبناء الإمارات كما قال الشيخ زايد



A الدين واللغة

B التاريخ والجغرافيا

C الأصل والأمال والمصير المشترك

D الحواجز الطبيعية

54 المقع الفلكي لدولة الإمارات العربية المتحدة

54



A بين خطي طول 51-56.5 ودائرتي عرض 22-26.5

B بين خطي طول 22-26.5 ودائرتي عرض 51-56.5

C بين خطي طول 22-56.5 ودائرتي عرض 51-26.5

D بين خطي طول 43.45.5 ودائرتي عرض 22-26.5



تقع بين خطي طول شرق غرينتش
تقع بين دائرتي عرض شمال الأستواء
يمر بها مدار شمال الأستواء

سبب تسمية مدار السرطان بهذا الاسم

56

في الليل أهالي هذه المنطقة يشاهدون مجموعة من النجوم تظهر
على شكل
A - سمكة B - حوت C - السرطان

ضع الرقم المناسب في الخانة الصحيحة

2شرق

3 جنوب غرب

1 وسط

للوطن
العربيلقارة
آسيا

للعالم

الوطن العربي

قارة آسيا

أوروبا

آسيا

أفريقيا

تذكر الجهات الأصلية والفرعية لتتمكن من تحديد موقع الإمارات

رؤية المدرسة إعداد طالب قادر على الابتكار ومواكبة التقدم التكنولوجي ملتزم بفضائل الاخلاق محب
لوطنه في ظل قيادة ابوية واعية ومعلم متميز ومشاركة مجتمعية

رسالة المدرسة تقديم تعليم عالي الجودة عالمي المستوى إسلامي التوجه وطني السمات في بيئة تعليمية
وتربوية جاذبة و قادر على الإبداع والمنافسة لحيل يصنع المستقبل

19

منطقة من اليابس محاطة بالماء من ثلاث جهات هي

58



الخليج

A

البحيرة

B

الجزيرة

C

شبه الجزيرة

D

دولة الإمارات العربية تقع بالنسبة للعالم

59



الشمال

A

الجنوب

B

الشرق

C

القلب

D

دولة الإمارات العربية تقع بالنسبة للقارة الآسيوية

60



الجنوب الشرقي

A

الشمال الغربي

B

الجنوب الغربي

C

الجنوب

D

دولة الإمارات العربية تقع بالنسبة لشبه الجزيرة العربية

61



الشرق

A

الغرب

B

الجنوب

C

الشمال

D

20

من خلال الصور التالية حدد نوع الأهمية التي تتمتع بها الإمارات

62



الاستراتيجية

A

الاقتصادية

B

التاريخية

C

جميع ما ذكر

D

من خلال الصور التالية حدد نوع الأهمية التي تتمتع بها الإمارات

63



الاستراتيجية

A

السياسية

B

الاقتصادية

C

التاريخية

D

من خلال الصور التالية حدد نوع الأهمية التي تتمتع بها الإمارات

64



الاقتصادية

A

الاستراتيجية

B

التاريخية

C

السياسية

D

من خلال الصور التالية حدد نوع الأهمية التي تتمتع بها الإمارات

65



الاقتصادية

A

الاستراتيجية

B

التاريخية

C

السياسية

D

21

استيراد السلع ثم إعادة التصدير. مفهوم

66



A التجارة

B الاستيراد

C الترانزيت

D تجارة الترانزيت

كل جهد يقوم به الانسان ,مفهوم

67



A الحضارة

B التراث

C العمل

D السياسة

من الحضارات التي قامت في الامارات حضارة

68

4

A ماجان

B أم النار

C ملوفا

D جميع ماذكر

هذه الصورة تحمل معلم أثري يقع في إمارة دبي

69



A ام النار

B هيلي

C دلمون

D الساروق الحديد

22

من المظاهر الطبيعية في دولة الإمارات العربية المتحدة ذات اللون البني على الخريطة

70



A السهول

B الجبال

C الوادي

D السهول الساحلية

71 المظاهر الطبيعية في دولة الإمارات العربية المتحدة ذات اللون الاخضر على الخريطة

A السهول

B الجبال

C الوادي

D السهول الساحلية

72 من المظاهر الطبيعية في دولة الإمارات العربية المتحدة ذات اللون الأصفر على الخريطة

72



A السهول

B الجبال

C المتوسطة

D السهول الساحلية

73 من المظاهر الطبيعية في دولة الإمارات العربية المناطق المنخفضة

73



A العرقوب

B الجبال

C الوادي

D السهول الساحلية

23

أرض مرتفعة لها قمة وهي كتلة ضخمة من الصخور مفهوم

74



A السهول

B الجبال

C الوادي

D السهول الساحلية

من أرض منبسطة قليلة الارتفاع تقع داخل الدولة

75



A السهول الداخلية

B الجبال

C الوادي

D السهول الساحلية

هي السهول المطلة على البحر

76



A السهول

B الجبال

C الوادي

D السهول الساحلية

منطقة منخفضة بين منطقتين مرتفعتين تجري فيها المياه في موسم المطر

77



A السهول

B الجبال

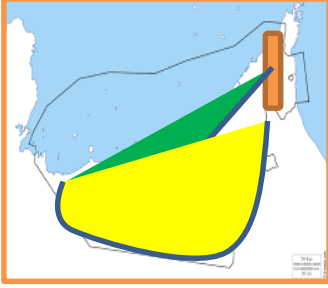
C الوادي

D السهول الساحلية

24

تتركز الجبال في دولة الإمارات في المنطقة

78



A الشرقية

B الغربية

C الشمالية

D الوسطى

تقسم الجبال إلى قسمين في الإمارات

79



A شمال وشرقي

B جنوبي وغربي

C شمالي وجنوبي

D شرقي وغربي

الجبال الجنوبية تنتهي قرب مدينة

80



A الظفرة

B مسافي

C العين

D الشارقة

واحدة من التالي ليس وادي

81

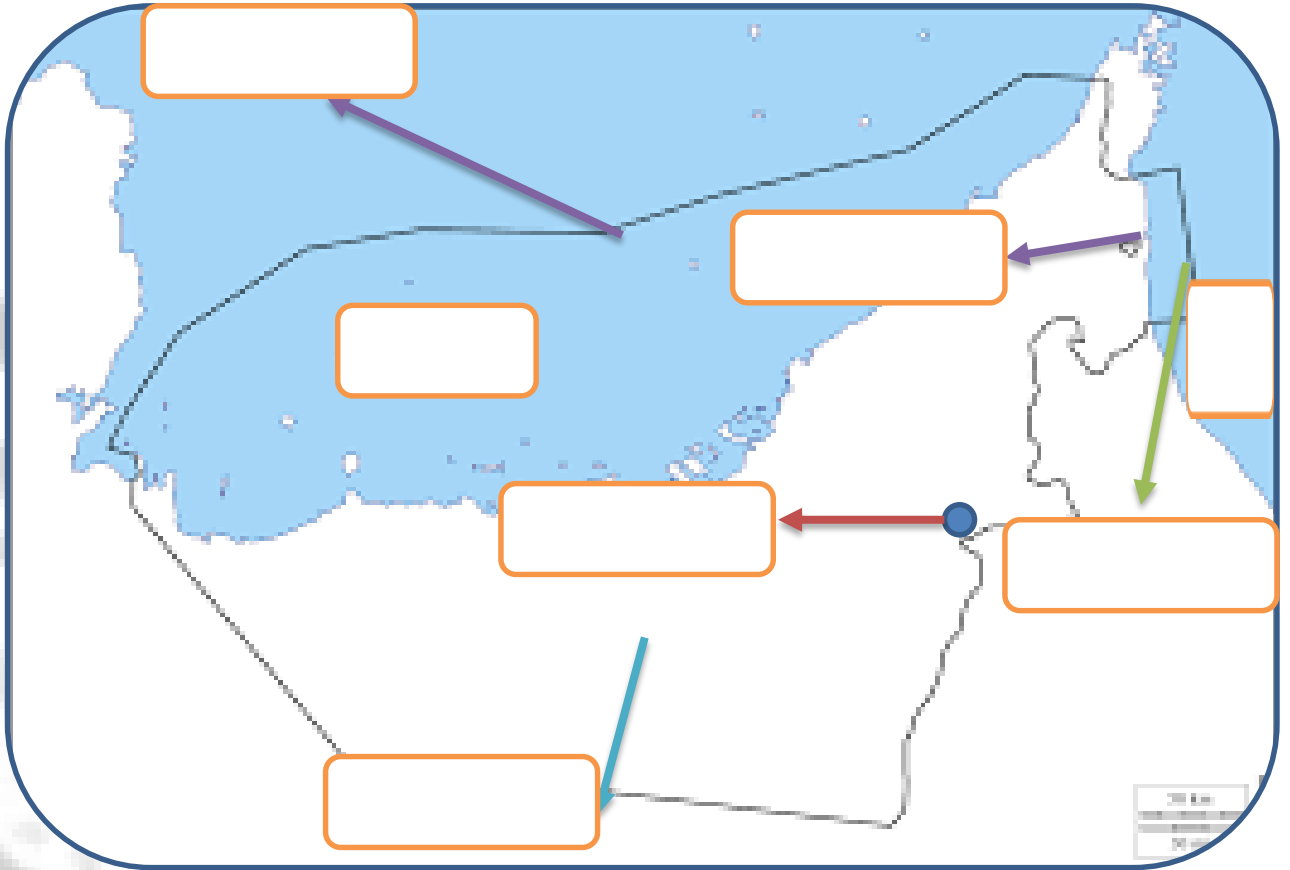


A حفيت

B سيجي

C حام


D شويب



مهارة قراءة الصور
كتب دلالة الصورة التي تعبر عن أهمية الجبال



على ماذا تدل الألوان التالية في الخريطة الطبيعية



..... المناطق المناطق المناطق المناطق

26

علمتني الجبال في بلادي

85



الخوف A

القلق B

ضعف الشخصية C

الثبات D

النصيحة التي تقدم عند جريان الأودية

86



الاقتراب والسباحة A

الرعي بالثروة الحيوانية B

الابتعاد C

العب مع الأطفال D

الجبال الجنوبية تنتهي قرب مدينة

87



الظفرة A

مسافي B

العين C

الشارقة D

واحدة من التالي جبل

88



حفيت A

سيجي B

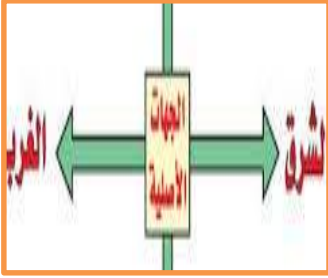
حام C

شويب D

27

تقسم السهول الساحلية في الإمارات إلى قسمين

89



A الحصوية والداخلية

B السهل الشرقي والشمالي

C السهل الغربي والشرقي

D السهل الجنوبي والغربي

الإمارة الوحيدة التي تقع على السهل الساحلي الشرقي هي

90



A عجمان

B الشارقة

C أبوظبي

D الفجيرة

يطل السهل الساحلي الشرقي على بحر

91



A عُمان

B العربي

C العرب

D الأحمر

السهل الساحلي الضيق هو

92



A الشرقي

B الغربي

C الشمالي

D الجنوبي

28

السهل الساحلي الشرقي ضيق بسبب وجود

93

الجزر Aالوادي Bالجبال Cالخور D

من أشهر مدن الساحل الشرقي

94

العين Aمسافي Bشويب Cخورفكان D

يطل السهل الساحلي الغربي على

95

خليج عدن Aالخليج العربي Bبحر العرب Cبحر عُمان D

من صفات السهل الساحلي الغربي أنه

96

4

واسع Aكبير Bكثير المدن Cجميع ما ذكر D

29

واحدة من التالي ليس من مدن السهل الساحلي الغربي

97



أبو ظبي والشارقة

A

دبي والفجيرة وعجمان

B

رأس الخيمة

C

الفجيرة

D

واحدة من التالي ليس من المظاهر الطبيعية في السهول الساحلية

98



الخور

A

الجزر

B

السيخة

C

الجبال

D

عاصمة الإمارات تقع على السهل الساحلي

99



الشرقي

A

الغربي

B

الشمالي

C

الجنوبي

D

من السهول الداخلية في الدولة سهل

100

4

الشرقي

A

الغربي

B

الدقاقة والمدام

C

الدقاقة والمدام والذيد

D



السهول الساحلية


1

السهول الداخلية

2

102

ترك لنا الأسلاف من أجدادنا الكثير من التراث الثقافي من القائل





1



2

7



3



4

6



5

32

يابس محاظة بالماء من جميع الجهات

104



A البحيرة

B البحر

C الجزيرة

D شبه الجزيرة

عدد الجزر في الإمارات تقريباً

105



A 300

B 200

C 500

D 400

106 ضع الرقم المناسب تحت الصورة المناسبة والتي تدور حول أهمية الجزر

2 ميناء تصدير نفط

2

1 محمية

1

4 استراتيجي

4

3 سكنية

3



34

نحن شعب ترعرع على

110



السلام

A

الحرب

B

القصوة

C

الكراهية

D

أماكن تخصص لحماية الأنواع المهددة بالانقراض

111



الخور

A

الجزر

B

المحمية

C

حديقة الحيوان

D

طنب لكبرى

طنب الصغرى

أبو موسى

دلما

صير
بني ياسأبو
الأبيض

صل بين الخريطة والمعلومة

112

الجزر المحتلة

A

دلما

B

صير بني ياس

C

أبو الأبيض

D

أرض جافة قليلة المطر مفهوم

113



الأراضي الزراعية

A

الصحراء

B

السهول

C

السواحل

D

34

الصحراء هي المساحة الأكبر في دولتنا من أقوال الشيخ

114



A زايد

B محمد

C راشد

D خليفة

115 المياه الجوفية والزراعة توجد في مناطق منخفضة في الصحراء تعرف بـ



A الجبل

B المحمية

C العزبة

D الواحة

116 ضع الرقم المناسب أمام الصورة التي تمثل خصائص الصحراء

116

2 قلة الغطاء النباتي

1 ندرة الأمطار

4 الحرارة العالية

3 قلة السكان



35

"لقد علمتني الصحراء أن نصبر طويلاً" من أقوال الشيخ

111



A زايد

B محمد

C راشد

D خليفة

112 قيل بين ماضي الأباء وحاضر الأبناء طريق يسمى

112



A التعب

B المشقة

C الغربية

D الصبر

113 ضع الرقم المناسب أمام الصورة التي تمثل الأهمية الاقتصادية للصحراء

113

سباق الهجن

2

الزراعة في الواحة

1

تربية
الحيوانات

4

النفط

3



4

A محمية ومنتزه القرم في أبوظبي

B محمية دبي الصحراوية

C محمية صير بني ياس

D جميع ما ذكر

118 حالة الجو لفترة طويلة خلال شهر أو فصل أو سنة هو مفهوم


118

A المطر

B الحرارة

C السحب

D المُنَاخ



119 ضع الرقم المناسب أمام الصورة التي تمثل تضاريس بلادي

119

الصحراء

2

الجبل

1

الجزيرة

4

الوادي

3

الواحة

5



37

المدار الذي يقطع الإمارات من المنتصف هو

120



A الجدي

B الاستواء

C غرينتش

D السرطان

121 حدد الحالة الجوية بالنسبة للمناطق القريبة والبعيدة عن المسطحات المائية

4

A المناطق البعيدة (حارة - جافة-قليلة الرطوبة)

B المناطق البعيدة (حارة - ماطرة-قليلة الرطوبة)

C المناطق القريبة (حارة - جافة-قليلة الرطوبة)

D المناطق القريبة (أقل حرارة - ماطرة - عالية الرطوبة)

122 ضع الرقم المناسب أمام الصورة التي تمثل عامل من العوامل المؤثرة على المناخ

122

المسطحات المائية


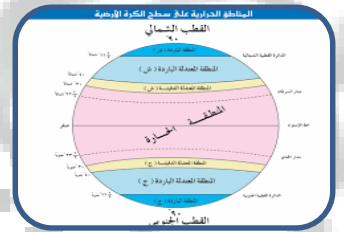
2

مرور مدار السرطان

1

الارتفاع والانخفاض

3



38

خصائص الصيف في دولة الإمارات

123



A ارتفاع الحرارة إنعدام الأمطار وارتفاع الرطوبة

B إعتدال الحرارة وتسقط بعض الأمطار

C ارتفاع الحرارة إنعدام الأمطار وارتفاع الرطوبة ومغبر

D إعتدال الحرارة وتسقط بعض الأمطار ومغبر

خصائص الشتاء في دولة الإمارات

124



A إعتدال الحرارة وتسقط بعض الأمطار

B ارتفاع الحرارة إنعدام الأمطار وارتفاع الرطوبة ومغبر

C ارتفاع الحرارة إنعدام الأمطار وارتفاع الرطوبة

D إعتدال الحرارة وتسقط بعض الأمطار ومغبر وقليل الرطوبة

ضع الرقم المناسب أمام الصورة التي تمثل تضاريس بلادي

125

الرطوبة

2

الحرارة

1

الرياح

4

المطر

3

الضباب

5



39

ما هو تأثير النمط المناخي الحار والجاف في بلادي

126



A تراجع الزراعة

B قلة عدد السكان

C التمرکز في الواحات

D جميع ما ذكر

خصائص الشتاء في دولة الإمارات

127



A إعتدال الحرارة وتسقط بعض الأمطار

B ارتفاع الحرارة إنعدام الأمطار وارتفاع الرطوبة ومغبر

C ارتفاع الحرارة إنعدام الأمطار وارتفاع الرطوبة

D إعتدال الحرارة وتسقط بعض الأمطار ومغبر وقليل الرطوبة

الانتخاب الطبيعي هو عبارة عن تغيرات في

128

الغابات صحراء

2

الكائنات الحية

1

جفت البحار

3



40

تتبع التدرج الحراري التالي وفسر الفرق في درجات الحرارة

129

الارتفاع	الحرارة
450M	20
300M	21
150M	22

A) تزداد الحرارة مع الأرتفاع

B) تقل الحرارة مع الأرتفاع

C) لا يحدث تغير على درجة الحرارة

D) لأشيء مما ذكر

ما هي المعادلة التي يتناولها الجدول

130

الارتفاع	الحرارة
450M	20
300M	21
150M	22

A) كلما ارتفعنا 150 متر تقل الحرارة درجة واحدة

B) كلما ارتفعنا 150 متر تقل الحرارة درجتان

C) كلما انخفضنا 150 متر تقل الحرارة درجة واحدة

D) كلما ارتفعنا 150 متر تزيد الحرارة درجة واحدة

كون تعميم من الصور التالية

131



41

أقل الأشهر من حيث درجة الحرارة

132

الشهر	الحرارة
يناير	18
مايو	35
أغسطس	52

- A مايو
- B أبريل
- C أغسطس
- D يناير

ما هو الشهر المناسب لزيارة الإمارات

133

الشهر	الحرارة
أبريل	25
أكتوبر	23
ديسمبر	19

- A ديسمبر
- B ابريل
- C أكتوبر
- D يوليو

ضع قائمة الأشهر تحت الفصل المناسب مستخدم الأرقام

134

ديسمبر
يناير
فبراير

1

مارس
أبريل
مايو

2

يونيو
يوليو
أغسطس

3

سبتمبر
أكتوبر
نوفمبر

4



الفصل.....



الفصل.....



الفصل.....



الفصل.....

42

ينمو طوال العام دون تدخل الانسان هذا مفهوم النبات

135



A المعمر

B المزروع

C الحولي

D جميع ما ذكر

ينمو مباشرة عقب سقوط المطر هو النبات

136



A المعمر

B المزروع

C الحولي

D الطبيعي

ضع الرقم المناسب تحت الصورة

137

الكمأ

نبات
طبيعينبات
حولينبات
معمر

الغاف



1

2

3

4

5




 A للظروف الاقتصادية

 B للظروف السياسية

 C للظروف الطبيعية

 D للظروف الاجتماعية

من الإجراءات التي تتبعها الدولة لحماية الحياة البرية


 A السماح بالصيد العشوائي

 B انشاء المحميات الضارة

 C منع الصيد العشوائي

 D جميع ماذكر

ضع الرقم المناسب تحت الصورة المناسبة حول فوائد النبات الصحراوي

الأدوية

الخشب

الرعي

1

2

3



44

يوم البيئة المهمة لتسليط الضوء على قضايا البيئة المهمة يصادف يوم

141

April
4th

A الربيع من فبراير

B الخامس من مارس

C الرابع من ابريل

D الثالث من ابريل

سمي الصرغد بهذا الاسم بسبب

142



A الجمال

B الطول

C الطعم

D صوت الصفير المميز

صنف قائمة الحيوانات البرية وفق التصنيف المعتمد عالمياً

143

الطيور


الزواحف

الثدييات

1

2

3





دائرة التعليم والمعرفة
DEPARTMENT OF EDUCATION
AND KNOWLEDGE



وزارة التربية والتعليم
Ministry of Education

كتاب النشاط



المعلم عمر حسن إبراهيم عطا الله
مادة الدراسات الاجتماعية

الوحدة الثانية بلادنا بين الماضي والحاضر



الدراسات الاجتماعية



Alhayer

1

النشاط الأول: النمط السائد على الأسرة الإماراتية القديم هو الأسر

الصغيرة

C

الممتدة

B

النواة

A

النشاط الثاني: الأسر الممتدة تتكون من أو أكثر

جيل

C

ثلاثة أجيال

B

أربعة أجيال

A

النشاط الثالث: الملتقى الرئيس لأفراد الأسرى هو بيت

الجد

C

الخال

B

العم

A

النشاط الرابع: واحدة من التالي ليس من سمات الأسرة الإماراتية

الجد رب الأسرة

C

التفكك

B

التعاون والتكافل

A

النشاط الخامس: السبب في اعتبار الجد صاحب القرار في الأسرة الإماراتية

كل ما ذكر

C

الحكمة والتروي

B

الخبرة والعمر

A

النشاط السادس: المرأة الإماراتية قبل الاتحاد

لها دور كبير

C

كان دورها محدود

B

لم يكن لها دور

A



النشاط السابع: واحدة من التالي ليس من أدوار المرأة الإماراتية

العمل في الصيد

C

جلب الماء وطحن الغلال

B

تربية الأبناء و تعليمهم القران

A

النشاط الثامن : حفرة يصنعها الانسان للوصول إلى منسوب المياه الجوفية

العيون

C

الآبار

B

السدود

A

النشاط التاسع: القائل أن دور المرأة لا يقل عن دور الرجل الشيخ

سلطان

C

زايد

B

محمد

A

النشاط العاشر : هي المعلمة التي تقوم بالتدريس في الماضي هي

المهندسة

C

المطوعة

B

الطبيبة

A

النشاط الحادي عشر: المساكن في القديم كانت تأخذ من مواد

البيئة

C

الإسمنت

B

الاستيراد

A

النشاط الثاني عشر: بيت يبني من سعف النخيل

العريش

C

بيت الشعر

B

بيت الطين

A



النشاط الثالث عشر: مكيف الهواء المحلي هو

المكيف

C

الثلاجة

B

البراجيل

A

النشاط الرابع عشر: بيت يعيش فيه سكان المناطق الساحلية هو

العريش

C

بيت الحجر

B

بيت الطين

A

النشاط الخامس عشر: الشجرة التي تعلق بها سكان الإمارات قديماً

العنب

C

النخيل

B

الزيتون

A

النشاط السادس عشر: شجرة النخيل شجرة

لا شيء مما ذكر

C

معمرة

B

حولية

A

النشاط السابع عشر: واحدة من التالي ليس من فوائد شجرة النخيل

العنب

C

صنع الحبال والبناء

B

الثمار للغذاء

A

النشاط الثامن عشر: تبني فوق سفوح الجبال من الحجارة هي البيوت

الجبالية

C

بيت الشعر

B

بيت الطين

A



النشاط التاسع عشر : بيوت الصحراء تصنع من شعر الماعز

بيت العريش

C

بيت الطين

B

بيت الشعر

A

النشاط العشرون : حرفة صناعة بيوت الشعر تعرف ب

السدو

C

التلي

B

القنص

A

النشاط الحادي والعشرون : القائل على شعبنا أن لا ينسى ماضيه هو الشيخ

خليفة

C

محمد

B

زايد

A

النشاط الثاني والعشرون : عاش الانسان الاماراتي في القدم عيشة قاسية بسبب

البيئة الجافة

C

اعتدال المناخ

B

الجهل

A

النشاط الثالث والعشرون : واحدة من التالي لم تكن من حرف سكان الامارات

السياحة

C

الصيد

B

الرعي

A

النشاط الرابع والعشرون : الطوي هو

السد

C

الفلج

B

بئر الماء

A



النشاط الخامس والعشرون : من السنع الإماراتي العمل

إتقان

C

إهمال

B

ترك

A

النشاط السادس والعشرون من أقدم المهن وأكثرها خطورة

الغوص على اللؤلؤ

C

الرعي

B

الزراعة

A

النشاط السابع والعشرون: انتشرت الزراعة في الدولة في المناطق

الصحراء

C

الداخلية

B

الساحلية

A

النشاط 29-32 أ:كمل الفراغات فيما يلي :

- & - من أنواع الحرف في بلادي قديماً و..... و.....
 & - من أنواع الأسماك في بلادي و..... و.....
 & - من العلوم التي كانت ترس في الكتاب و..... و.....
 & - من صفات المطوع أن يكون..... و..... و.....

النشاط الثاني والثلاثون : يعلم الطلبة الذكور القرآن والسنة هو

المهندس

C

المطوع

B

الطبيب

A

النشاط الثالث والثلاثون : القائل على الشباب أن يتزودا بالعلم هو الشيخ

محمد بن صقر

C

محمد بن زايد

B

محمد بن راشد

A



النشاط اربع والثلاثون :أول وجود للتعليم شبه النظامي كان في إمارة

عجمان

C

الشارقة

B

أبوظبي

A

النشاط الخامس والثلاثون : أول مدرسة شبه نظامية هي

النهائية

C

التيمية المحمودية

B

التميز

A

النشاط السادس والثلاثون :أسس هذه المدرسة

خالد القاسمي

C

محمد التيمي

B

محمد الشاعر

A

النشاط 37-40: أكمل الفراغات فيما يلي :

- & - كانت هذه المدارس تقدم و..... و.....
 &- الذي أهتم بفتح المدارس قديماً
 &- أول مدرسة في التعليم شبه النظامي كانت عام
 &- أنشاء في ابوظبي مدرسة هو التاجر عام

النشاط 41: واحدة من التالي ليس من مهن المناطق الداخلية

الرعي

C

الزراعة

B

صيد السمك

A

النشاط 42: واحدة من التالي ليس من مهن المناطق الساحلية

صيد السمك

C

الغوص

B

الرعي

A



النشاط 43: مجموعة من الناس ينتمون إلى أصل واحد تجمعهم رابط الدم

الأمة

C

القبيلة

B

الشعب

A

النشاط 44: تنتمي قبائل الإمارات إلى قبائل

عدنانية

C

عدنانية وقحطانية

B

محمدية

A

النشاط 45: الرسول عليه السلام ينتمي إلى قبيلة العدنانية

قريش

C

طي

B

تميم

A

النشاط 46-49: أكمل ما يلي

- & - من الأحلاف المشهورة في المنطقة و.....
- & - الموطن الأصلي للقبائل العربية هو
- & - حلف بني ياس قوة تزعمها مقرهم
- & - من قبائل بني ياس الدين استقروا في دبي عام هم

النشاط 50: المعاهدة على التعاون ومد يد العون

السياسة

C

الحلف

B

المعاهدة

A

النشاط 51: قوة القواسم كانت في

بحرية وعجمان

C

بحرية ورأس الخيمة

B

برية ورأس الخيمة

A



النشاط 52: مؤسس آل نهيان شيد قصر الحصن هو الشيخ

A محمد

B

ذياب بن عيسى

C

عيسى بن ذياب

النشاط 53: ظهر القواسم عام

A

1912

B

1749

C

1478

النشاط 54: آل النعيم في إمارة

A

الشارقة

B

عجمان

C

رأس الخيمة

النشاط 55-58: أكمل ما يلي

- & - قبيلة آل علي في إمارة
- &- قبيلة القواسم في إماراتي
- &- الشرقيون في إمارة
- &- ولد الشيخ زايد الأول عام تولى الحكم في سن

النشاط 59: كان الشيخ زايد الأول حاكم إمارة

A

الشارقة

B

أبوظبي

C

عجمان

النشاط 60: تجربة وبصيرة الأمور مفهوم

A

الخبرة

B

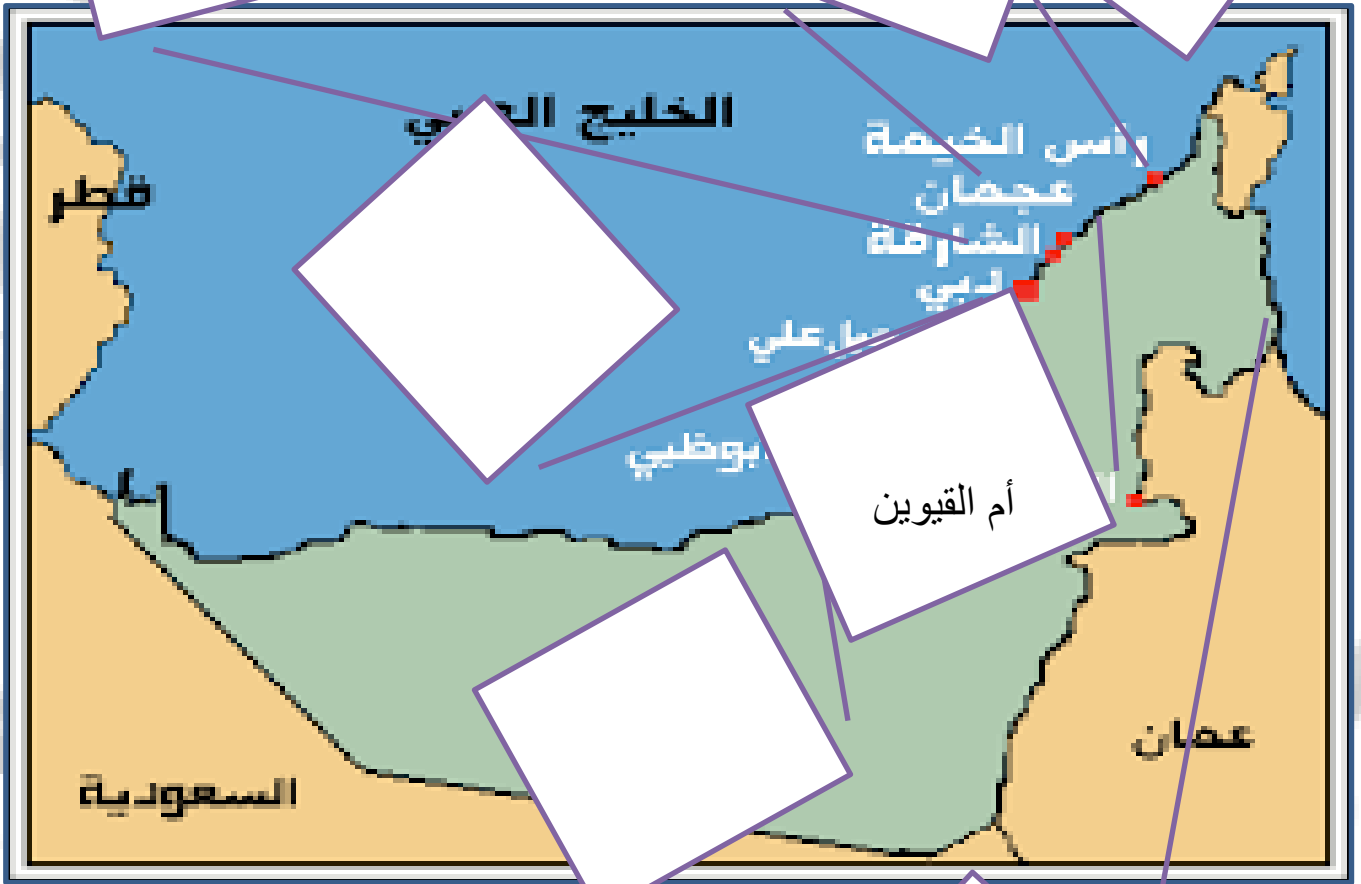
الحنكة

C

التجربة



النشاط 61: على خريطة الإمارات عين أسماء القبائل الحكمة



الفجيرة



النشاط 62: بدأ حلم الوحدة مع تولى الشيخ

زايد الأول

C

ذياب بن عيسى

B

محمد

A

النشاط 63: الدولة التي وقفت أمام طموح زايد الأول في الوحدة هي

بريطانيا

C

فرنسا

B

البرتغال

A

النشاط 64: من إنجازات زايد الأول بناء

مسجد الشيخ زايد

C

قلعة الجاهلي

B

برج خليفة

A

النشاط 65-68: أكمل الجمل التالية

& - نشر الشيخ زايد الأول.....وأهتم ب..... وبناء.....

&- من صفات الشيخ زايد الأول.....

&- وصفه الكاتب الانجليزي.....

&- تولى الشيخ زايد الأول الحكم عام..... وتوفي عام.....

النشاط 69: لقب الشيخ زايد بن خليفة بـ

زايد الأول

C

زايد الكبير

B

زايد الثاني

A

النشاط 70: أعلنت بريطانيا الانسحاب عام

1986

C

1968

B

1971

A



11

18: فبراير من عام 1968 حملة ذكرى عزيزة على قلب كل إماراتي فيه

71



اجتماع دبي الأول

A

تولي الشيخ زايد رحمه الله حكم الإمارات

B

تولي الشيخ زايد رحمه الله حكم العين

C

اجتماع عرقوب السديرة

D

ما هو المقصود بالاتفاق الوحدة (الاتفاق الثاني)

72



اتفاق الشارقة وعجمان على الوحدة

A

اتفاق دبي وأبوظبي على الوحدة

B

اتفاق الشارقة ودبي على الوحدة

C

اتفاق الفجيرة وراس الخيمة على الوحدة

D

ما علاقة صاحب هذه الصورة في عرقوب السديرة

73



هو شريك الشيخ زايد في قيام الاتحاد الشيخ محمد

A

هو شريك الشيخ زايد في قيام الاتحاد الشيخ صقر

B

هو شريك الشيخ زايد في قيام الاتحاد الشيخ راشد

C

هو شريك الشيخ زايد في قيام الاتحاد الشيخ خالد

D

ماذا حدث في 25 فبراير 1968 بخصوص الإمارات

74



اجتماع السديرة (الاتفاق الثنائي)

A

اجتماع دبي الأول (الاتفاق التساعي)

B

اجتماع دبي الثاني (الاتفاق السداسي)

C

قيام دولة الإمارات

D

اجتماع
عرقوب
السديرة



قيام دولة
الإمارات



رفع العلم
على قصر
الضيافة



اجتمع
دبي الثاني



اجتماع
دبي الأول



أول نائب
لرئيس
الدولة



أول رئيس
للدولة



أحمد خليفة
السويدي
يقرأ بيان
الاتحاد



قصر
الضيافة



قصر
المنهل



رفع العلم
في أبوظبي
عام 1971



رفع العلم
في دبي
عام 1971



وُلِدَ الشَّيْخُ زَايِدُ بْنُ سُلْطَانَ آلِ نَهْيَانَ فِي قَصْرِ الْجُصْنِ بِإِمَارَةِ أَبُو ظَبْيٍ عَامَ 1918م، وَهُوَ الْإِبْنُ الْأَصْغَرُ
 بَيْنَ أَرْبَعَةِ أَبْنَاءِ لِلشَّيْخِ سُلْطَانَ بْنِ زَايِدِ آلِ نَهْيَانَ -رَحِمَهُ اللهُ- حَاكِمِ إِمَارَةِ أَبُو ظَبْيٍ. وَانْتَقَلَ الشَّيْخُ
 زَايِدُ إِلَى مَنْطِقَةِ الْعَيْنِ بَعْدَ وَفَاةِ وَالِدِهِ حَيْثُ نَشَأَ بِهَا وَتَلَّقَى تَعْلِيمَهُ عَلَى يَدِ الْمُطَوِّعِ، فَحَفِظَ الْقُرْآنَ
 الْكَرِيمَ وَنَشَأَ عَلَى الْعَادَاتِ وَالتَّقَالِيدِ الْعَرَبِيَّةِ الْأَصِيلَةِ، فَسَبَّ عَلَى حُبِّ الْعُرُوبَةِ وَالاعْتِزَالِ بِهَا وَالْحِفَاطِ
 عَلَى تَقَالِيدِ وَعَادَاتِ الشُّعْبِ الْإِمَارَاتِيِّ.

- & عن ماذا يتحدث النص
- & اين ولد الشيخ زايد رحمه الله
- & في أي عام ولد الشيخ زايد رحمه الله
- & كم عدد أبناء الشيخ زايد
- حكم الشيخ زايد إمارة تعلم على يد
- & من صفات الشيخ زايد

استكمل الخط الزمني التالي

	← دبي الثاني	← عرقوب السديرة
3	رقم الخطوة ()	2
2-12-1971	التاريخ	25-2-1968



النشاط 78: تكلمة التعميم في الاتحاد قوة وفي ضعف

المحبة

C

التفرقة

B

التعاون

A

النشاط 79: هي السلطة التي تتولى إدارة شؤون الدولة

الدستور

C

الحكومة

B

المجلس الوطني

A

النشاط 80: تفعل كل ما في وسعك لإعلاء شأن وطنك أنت

مواطن صالح

C

وافد

B

مواطن

A

النشاط 81: أكمل الجمل التالية

- & - من مهام الحكومة و..... و.....
- & - المجلس الأعلى هو أعلى..... يتكون من
- & - رئيس الدولة هو الشيخ ونائب رئيس الدولة الشيخ
- & - مجلس الوزراء يتكون من ورئيس الوزراء

النشاط 82 : يتكون المجلس الوطني من عضو

40

C

50

B

20

A

النشاط 83 : القضاء الاتحادي يمثله

المدارس

C

المحاكم

B

المستشفيات

A



النشاط 84: أصبح الدستور دائم عام

1996

C

1972

B

1965

A

النشاط 85: مجموعة قواعد تنظم الحكم

الدستور

C

الحكومة

B

المجلس الوطني

A

النشاط 86: واحدة من التالي ليس من القيم الإيجابية

الطاعة والانتماء

C

حب النفس

B

التضحية والتعاون

A

النشاط 87: أكمل الجمل التالية

- & - من حقوق المواطن و..... و.....
 & - من واجبات المواطن
 & - أول شهيد في الإمارات هو في جزيرة.....
 & - الدولة التي تحتل الجزر هي سقط الشهداء في جزيرة.....

النشاط 88 : يوم الشهيد من كل عام

30-10

C

30-12

B

30-11

A

النشاط 89: تم اختيار هذا اليوم بسبب الشهيد

محمد خالد

C

سالم سهيل

B

سيف بن غباش

A



تم بحمد الله

Omar has anOmar has anOmar has anOmar has an



المعلم عمر حسن إبراهيم عطا الله
مادة الدراسات الاجتماعية

الاجابات



1

الصف الرابع

الدراسات الاجتماعية



Alhayer

Omar has anOmar has anOmar has anOmar has anOmar has an

الاجابة	الرقم
A	25
D	26
D	27
B	28
D	29
A	30
A	31
B	32
D	33
A	34
B	35
A	36
D	37
B	38
رسم	39
D	40

الاجابة	الرقم
B	4
	14
B	1
B	2
B	3
D	4
B	15
B	16
C	17
A	18
A	19
D	20
D	21
B	22
A	23
D	24

الاجابة	الرقم
B	1
C	2
A	3
B	4
B	5
C	6
B	7
D	8
B	9
C	10
A	11
B	12
	13
A	1
A	2
D	3

الرقم	41	42	43	44	45	46	47	48	49
الاجابة	D	D	B	B	D	B	A	C	A

الرقم	50	51	52	53	54	55	55	55
الاجابة	D	D	A	D	A	51-56.5	22-26.5	23.5

الاجابة	الرقم
	84
مرتفعة	1
منخفضة	2
مياه	3
متوسطة	4
D	85
C	86
C	87
A	88
C	89
D	90
A	91
A	92
C	93
D	94
B	95

الاجابة	الرقم
C	72
C	73
B	74
A	75
D	76
C	77
A	78
C	79
C	80
A	81
خريطة	82
	83
مواد بناء	1
سياحة	2
زراعة	3
جوفية	4

الاجابة	الرقم
C	56
1.2.3	57
D	58
D	59
C	60
A	61
C	62
A	63
A	64
D	65
C	66
A	67
D	68
D	69
D	70
A	71

الرقم	96	97	98	99	100	101	1	2	3
الاجابة	D	D	D	B	D		1	2	1

الرقم	4	5	6	7	102	103	تجارة	زراعة
الاجابة	1	2	2	1	زايد	سياحة - الصيد-المياه - الصناعة اليدوية - الرياضة		

Omar has anOmar has anOmar has anOmar has an



المعلم عمر حسن إبراهيم عطا الله
مادة الدراسات الاجتماعية

الاجابات



2

الصف الرابع

الدراسات الاجتماعية



Alhayer

Omar has anOmar has anOmar has anOmar has anOmar has an

الاجابة	الرقم
السلمون	28-2
القراءة	3
الكتابة	
الحساب	
حافظ	4
قوي الشكيمة	
B	32
A	33
B	34
B	35
B	36
القراءة	37
الكتابة	
الحساب	
التجار اللؤلؤ	38
1906	39

الاجابة	الرقم
C	17
C	18
A	19
C	20
A	21
C	22
C	23
A	24
C	25
C	26
B	27
الصيد	28-1
التجارة	
الغوص	
الهامور	2
الشعري	

الاجابة	الرقم
B	1
B	2
C	3
B	4
C	5
C	6
C	7
B	8
B	9
B	10
C	11
C	12
A	13
C	14
B	15
B	16

الرقم	40	41	42	43	44	45	46
الاجابة	ابن خلف	A	A	B	B	C	القواسم - بني ياس

الرقم	47	48	49
الاجابة	جنوب شبه الجزيرة	برية	آل نهيان
			الظفرة
			1833 - ال مكتوم


الاجابة	الرقم
918	3
19	4
أبوظبي - المطوع	5
الحنكة	6
1	77
دبي الأول	
3	
قيام الدولة	
B	78
B	79
C	80
الأمن والتعلم والصحة	81-1
سلطة - 7	2
خليفة - محمد	3
الوزراء	4

الاجابة	الرقم
الزراعة	65.2
الجاهلي	65.3
الحنكة	66
كلورسوريس	67
1855	68
1909	
B	69
B	70
D	71
B	72
C	73
B	74
صل	75
	76
زايد	1
الحصن	2

الاجابة	الرقم
B	50
B	51
B	52
B	53
B	54
ام القيوين	55
الشارقة وراس	56
الفجيرة	57
1817-20	58
B	59
B	60
خريطة	61
C	62
C	63
B	64
الامن	65.1

الرقم	82	83	84	85	86	87
الاجابة	40	B	C	C	B	1
التعليم والصحة						

الرقم	2	3	4
الاجابة	صيانة الدستور	سالم	طنب
			ايران
			طنب ك



30-11	88
B	89

النشاط السادس والعشرون نماذج من الوزارة

أولاً: اقرأ النص التالي والخريطة المصاحبة، ثم أجب عما يليه من أسئلة باختيار الإجابة المناسبة من بين البدائل:

يعتبر الموقع من أهم العوامل الطبيعية التي تؤثر في تحديد مركز أي منطقة من مناطق العالم. فالموقع الجغرافي يقصد به المكان نسبة لخطوط الطول ودوائر العرض. حيث يقع الوطن العربي بين دائرتي عرض (2 جنوبًا، و38 درجة شمالاً) وبين خطي طول (16 غربًا، و60 شرقًا).

أما الموقع النسبي فإن الوطن العربي يشغل الأجزاء الجنوبية الغربية من قارة آسيا إضافة إلى الأجزاء الشمالية والشمالية الشرقية لقارة أفريقيا وهذا يمكن القول بأن الوطن العربي يقع في قلب العالم القديم ويشرف الجزء الغربي من الوطن العربي على المحيط الأطلنطي، ومن الشمال البحر المتوسط ومن الشرق والجنوب الشرقي الخليج العربي وبحر عمان وبحر العرب وخليج عدن.



1. يقع الوطن العربي ضمن قارات العالم:
 - a . الجديد
 - b . القديم
 - c . القديم والجديد
2. يمثل الوطن العربي على المحيط:
 - a . الأطلنطي
 - b . الهادي
 - c . القطبي
3. تقع أراضي الوطن العربي ضمن دوائر عرض في مجموعها:
 - a . 38 دائرة عرض
 - b . 41 دائرة عرض
 - c . 40 دائرة عرض
4. دائرة العرض الرئيسية التي تمر في نحو سبع دول عربية:
 - a . مدار السرطان
 - b . مدار الجدي
 - c . الدائرة القطبية
5. تتوزع دول الوطن العربي بين قارتي:
 - a . آسيا وأوروبا
 - b . آسيا وأستراليا
 - c . آسيا وأفريقيا

النشاط السابع والعشرون نماذج من الوزارة

لأنياء: حلل الخريطة التالية، ثم أجب عما يليها من أسئلة باختيار الإجابة المناسبة من بين البدائل:



6. مدينة الأشخرة في سلطنة عمان تقع ضمن مناطق السهول:

- a . الساحلية b . الداخلية c . الحصوية

7. تشرف سلطنة عمان على مضيق:

- a . هرمز b . باب المندب c . جبل طارق

8. تتبع منطقة هيماء في سلطنة عمان المناخ:

- a . الاستوائي b . المداري c . الصحراوي

9. تعد من أكبر الجزر التابعة لسلطنة عمان:

- a . السوداء b . مصيرة c . القبلية

10. تعتبر مدينة نزوى من أهم المدن في سلطنة عمان والتي تقع في المناطق:

- a . البحرية b . السهلية c . الجبلية

ولاً: اقرأ النص التالي، ثم أجب عما يليه من أسئلة باختيار الإجابة المناسبة من بين البدائل:



تتمتع دولة الإمارات العربية المتحدة بموقع استراتيجي هام بين مراكز الأعمال الرئيسية في أوروبا وآسيا والمحيط الهادي وأفريقيا وأمريكا الشمالية. كما تحوز دولة الإمارات على شبكة مواصلات برية وجوية ممتازة تساعدها على الاتصال مع مختلف دول العالم.

وتوجد آلاف الشركات الصينية التي تستخدم دبي كمحور للتجارة في أفريقيا.

كما أن موقع دولة الإمارات ساعد على ظهور بعض الحرف والأعمال قديماً، ومن تلك الحرف التي مارسوها الغوص على اللؤلؤ وصيد السمك في أعماق مياه الخليج العربي، والرعي، واختصت النساء بحرف وصناعات كثيرة، منها: السدو والتّي وغيرها من الحرف والمهن.

أما في الوقت الحاضر فقد تطورت وتتنوعت الصناعات الرئيسية في دولة الإمارات وعن أبرزها: البترول والبتروكيماويات والألمنيوم وصناعة الطيران...

11. من أبرز المهن والحرف النسائية القديمة في دولة الإمارات:

- a . صيد السمك b . التّي c . الجلافة (صناعة السفن)

12. تعتبر صناعة الطيران في دولة الإمارات من الصناعات:

- a . التقليدية b . القديمة c . الحديثة

13. الاتصال التجاري بين دولة الإمارات ودول العالم تم من خلال امتلاك الدولة شبكة:

- a . مواصلات برية وجوية متميزة b . شركات تجارية محدودة c . صداقات دولية

14. تتخذ الشركات الصينية للتجارة مع أفريقيا معوزاً من مدينة:

- a . الفجيرة b . دبي c . رأس الخيمة

15. من أهم المهن والحرف التي اقتص بها الرجال في منطقة الإمارات قديماً:

- a . الغوص على اللؤلؤ b . السدو c . البتروكيماويات

النشاط التاسع والعشرون نماذج من الوزارة

ثانيًا: تأمل الصور التالية، ثم أجب عما يليها من أسئلة باختيار الإجابة المناسبة من بين البدائل:



16. يلبس الناس في دولة الإمارات خلال فصل الصيف الملابس:

- a . الثقيلة b . الداكنة c . الخفيفة

17. تنخفض درجة الحرارة في فصل:

- a . الشتاء b . الصيف c . الخريف

18. من أشهر الفواكه التي تكثر في دولة الإمارات خلال فصل الصيف:

- a . الأناناس b . الرطب c . الكرز

19. يتميز الشتاء عادةً في دولة الإمارات بمسقوط:

- a . المطر b . أوراق الشجر c . الثلج

20. يكثر ارتياد الشواطئ في دولة الإمارات خلال فصل:

- a . الربيع b . الخريف c . الصيف

أولاً: حلل الصور التالية والمعلومات المصاحبة، ثم أجب عما يليها من أسئلة باختيار الإجابة المناسبة من بين البدائل:



21. يبني سكان المناطق الساحلية بيوتهم من:

- a . الطين b . الحجارة c . الشعر

22. بيت الجبل يسكنه أهالي المناطق:

- a . البعرة b . الصحراوية c . الجبلية

23. يسكن الناس في فصل الصيف بيت مصنوع من سعف النخيل يطلق عليه:

- a . البارجيل b . العرش c . الخيمة

24. بيت التُّقْرِ يصنع من شعر الماعز وصوف الغنم ويسكنه قديماً:

- a . الهنو b . سكان الساحل c . سكان المدينة

25. يبني الناس عادةً في مجتمع الإمارات قديماً منازلهم من المواد:

- a . الإسمنت والحديد b . المتوفرة في بيوتهم c . الألومنيوم

النشاط الحادي و الثلاثون نماذج من الوزارة

ثانيًا: حلل الخريطة والمعلومات المصاحبة، ثم أجب عما يليها من أسئلة:



دولة الإمارات العربية المتحدة تتكون من سبع إمارات (أبوظبي-دبي-الشارقة-عجمان- أم القيوين-رأس الخيمة- الفجيرة).

أعلن عن قيامها رسميًا في 2 ديسمبر 1971م، عاصمتها أبوظبي.

أول رئيس لها المؤسس الشيخ زايد بن سلطان آل نهيان -رحمه الله-

رئيسها الحالي صاحب السمو الشيخ خليفة بن زايد آل نهيان -حفظه الله-

26. كُون تعميماً مناسباً بالاستعانة بالكلمات التالية: (اتحاد - قوتها - الإمارات)

27. صنف الكلمات التي بين القوسين وفق الجدول التالي:

(الخليج العربي - أبو موسى - عجمان - العين - جبل علي)

جزيرة	إمارة	مسطح مائي	ميناء	مدينة
.....

28. أكمل العبارات التالية بما يناسبها:

- الشيخ خليفة بن زايد آل نهيان رئيس دولة
- تتكون دولة الإمارات العربية المتحدة من عدة إمارات، عدها
- الساحل الشرقي من دولة الإمارات العربية المتحدة يطل على بحر

29. أكمل بيانات المخطط التالي:



السؤال الأول: ظل الإجابة الصحيحة من بين البدائل الواردة لكل مما يلي:

1. من الحضارات التي قامت على أرض دولة الإمارات منذ القدم، حضارة:

- a. القراعة b. أم النار c. بابل d. آشور

2. يبلغ عدد قارات العالم:

- a. 4 b. 10 c. 8 d. 7

3. الشكل الذي يمثل بيت العريش:



b.



a.



d.



c.

4. عاصمة دولة الإمارات العربية المتحدة هي مدينة:

- a. الشارقة b. دبي c. أبوظبي d. عجمان

5. من الأهمية الاقتصادية لوجود الجبال:

- a. قيام الزراعة b. تخزين مياه الأمطار c. ازدهار السياحة d. جميع ما سبق

6. استقرت قبيلة بني ياس قديماً في منطقة:

- a. القصيص b. الظفرة c. حنا d. القاسمية

7. مجموعة من القواعد والقوانين تنظم الحكم في الدولة وبين حقوق كل فرد وواجباته هو:

- a. الدستور b. القانون c. الاتفاق d. الوزارة

8. الكوكب الوحيد المعروف بدعمه للحياة فوق سطحه هو كوكب:

- a. المشتري b. عطارد c. الأرض d. الزهرة

9. لقب الشيخ زايد بن خليفة آل نهيان بلقب:

- a. زايد الأول b. زايد الثاني c. زايد الثالث d. زايد الرابع

النشاط الثالث و الثلاثون نماذج من الوزارة

20. تتبع دولة الإمارات العربية المتحدة عدة جزر مثل جزيرة:

- a. حتا b. المنامة c. داس d. فيلكا

21. نبات طبيعي ينمو في الصحراء يتحمل الحرارة والجفاف والملوحة، يعرف باسم:

- a. الليمون b. الغاف c. البرتقال d. المانجو

22. أعلن رسمياً عن قيام دولة الإمارات العربية المتحدة في عام:

- a. 1971 b. 1972 c. 1973 d. 1970

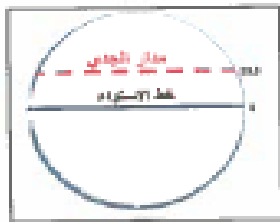
23. انتشرت حرفة الصيد والغوص قديماً في دولة الإمارات في المناطق:

- a. الساحلية b. الداخلية c. الصحراوية d. الجبلية

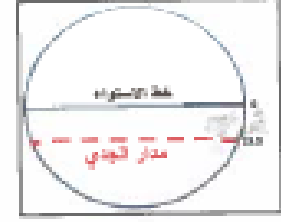
24. يؤثر المناخ على:

- a. المحاصيل الزراعية b. الثروة الحيوانية c. توزيع السكان d. جميع ما سبق

25. الشكل الذي يمثل دائرة العرض الرئيسية (مدار الجدي)، هو:



b.



a.



d.



c.

26. يطلق على استيراد السلع ثم إعادة تصديرها إلى دول العالم اسم:

- a. الصناعة b. الترانزيت c. الزراعة d. السياحة

27. من الأودية المائية في دولة الإمارات العربية المتحدة، وادي:

- a. الفيل b. الفرات c. جوبا d. حام

28. المياه التي تنساب تحت سطح الأرض بعد سقوط الأمطار هي مياه:

- a. البحيرات b. الأقلاب c. الآبار d. الأنهار

29. من أنواع الزواحف البرية في دولة الإمارات العربية المتحدة:

- a. السحالي b. الحبارى c. الأرنب d. الكروان

30. تعرضت الجزر الإماراتية طناب الكبرى وطناب الصغرى و أبو موسى للعدوان من قبل:

- a. تركيا b. إيران c. الهند d. اليمن

10. تقع دولة الإمارات العربية المتحدة في قارة:



b



a



d



c

11. أول شهيد في تاريخ دولة الإمارات العربية المتحدة هو:

d أحمد الكعبي

a طارق الشحي b سالم سهيل c عبدالله الحمادي

12. يسمى موقع المكان بالنسبة لخطوط الطول ودوائر العرض بالموقع:

d الرياضي

a الفلكي b الجغرافي c النسي

13. تتميز الأسرة الإماراتية الممتدة منذ القدم بـ:

d كثرة المشاكل

a قلة عدد الأفراد b ترابط الأبناء c كل فرد يسكن بمفرده

14. ترتفع درجة الحرارة في دولة الإمارات العربية المتحدة بشكل كبير في فصل:

d الربيع

a للشتاء b الخريف c الصيف

15. تجاور سلطنة عُمان دولة الإمارات العربية المتحدة من جهة:

d لشرق

a الجنوب b الشمال c لغرب

16. يتولى مهمة الدفاع عن الدولة ووضع القوانين:

d الرئيس

a الدستور b لمحكمة c الحكومة

17. ساعد موقع دولة الإمارات العربية المتحدة إلى زيادة أهميتها:

d جميع ما سبق

a الاستراتيجية b الاقتصادية c التاريخية

18. أعلى قمة جبلية في دولة الإمارات العربية هي قمة جبل:

d خورفكان

a حفيت b جيس c القاية

19. من حقوق التي أكدها دستور دولة الإمارات العربية المتحدة:

d حماية ممتلكاتي

a احترام الدستور b الدفاع عن الدولة c حماية الأموال العامة

السؤال الثاني:

أولاً: لاحظ خريطة دولة الإمارات العربية المتحدة، ثم أجب:



31. اكتب دلالات الحروف الواردة على الخريطة:

- (أ) جَبَل
 - (ب) واحة
32. بم تفسر ضيق السهل الساحلي الشرقي؟

ثانياً: فتم مقترحاً يسهم في تنشيط السياحة في دولة الإمارات العربية المتحدة في المناطق الآتية:

34. الشواطئ الساحلية



33. المناطق الجبلية



.....

.....



- 1- مدينة سوهاج في مصر تقع ضمن مناطق السهول ؟
 - A- الساحلية
 - B- الداخلية
 - C- الفيضية
- 2- تشرف جمهورية مصر العربية على مضيق صناعي هو ؟
 - A- جبل طارق
 - B- قناة السويس
 - C- هرمز
- 3- تقع مدينة الإسكندرية ضمن إقليم ؟
 - A- البحر المتوسط
 - B- الصحراوي
 - C- الموسمي
- 4- هي شبه جزيرة تتبع لمصر ؟
 - A- ايبيريا
 - B- البلقان
 - C- سيناء
- 5- عاصمة مصر هي القاهرة وتقع على راس دلتا ؟
 - A- النيل
 - B- المسيسيبي
 - C- النيجر
- 6- تقع الصحراء في مصر في جهة ؟
 - A- الشرق
 - B- الغرب
 - C- الجنوب



الشيخ محمد بن راشد هو نائب رئيس دولة الإمارات العربية المتحدة ورئيس مجلس الوزراء بدولة الإمارات العربية المتحدة وحاكم إمارة دبي، هو من الرجال الذين كتبوا أسماءهم في تاريخ دولة الإمارات بكثير من الانجازات التي استطاع تحقيقها في الفترة الماضية، لهذا سوف نعرف سويا بعض التفاصيل عن الشيخ محمد بن راشد.



رئيس الدولة الشيخ خليفة بن زايد : بعد وفاة المغفور له الشيخ زايد بن سلطان آل نهيان تولى الشيخ خليفة بن زايد منصب رئيس الدولة في نوفمبر في 2004 ، وكان يشغل منصب حاكم إمارة أبو ظبي قبل وفاة والده.



الشيخ سعود بن صقر القاسمي (10 فبراير 1956 -)، عضو المجلس الأعلى للاتحاد حاكم إمارة رأس الخيمة



حاكم إمارة الشارقة ، رئيس المجلس الأعلى للاتحاد ، وقد تولى حكم الشارقة بعد وفاة أخيه الشيخ خالد الذي لم يستمر في الحكم سوى سنة واحدة ، اشتهر الشيخ سلطان باهتمامه بالعلم والتاريخ ، القراءة ، ورث من والده الشيخ محمد القاسمي وأخوه الشيخ خالد حكم الإمارة وسعة الصدر ، والقدرة على التعامل بحكمة مع مشاكل المواطنين والسعي لحلها .



الشيخ حمد بن محمد الشرقي ، حاكم إمارة الفجيرة منذ عام 1974 وعضو المجلس الأعلى للاتحاد الأعلى لحكام الإمارات. ولد في إمارة الفجيرة



لشيخ سعود بن راشد بن أحمد بن عبد الله المعلا (1 أكتوبر 1952 -)، حاكم إمارة أم القيوين وعضو المجلس الأعلى للاتحاد بدولة الإمارات العربية المتحدة.



الشيخ حميد بن راشد بن حميد بن عبد العزيز بن حميد بن راشد النعيمي، عضو المجلس الأعلى للاتحاد حاكم إمارة عجمان، وهو الحاكم العاشر للإمارة. تولى الحكم بعد وفاة أبيه الشيخ راشد بن حميد النعيمي

النشاط السادس وثلاثون :

- 1- حاكم إمارة أبوظبي تولى الحكم بعد وفاة والده الشيخ زايد هو الشيخ ؟
A- خليفة B- سعود C- حميد D- محمد
- 2- الشيخ محمد بن راشد نائب رئيس الدولة هو حاكم إمارة ؟
A- الشارقة B- دبي C- عجمان D- أم القيوين
- 3- الشيخ سعود بن راشد المعلا هو حاكم إمارة ؟
A- الشارقة B- دبي C- عجمان D- أم القيوين
- 4- يحكم إمارة تقع على الخليج العربي وبحر عُمان هو الشيخ ؟
A- سلطان B- حميد C- سعود D- راشد
- 5- هي الإمارة الوحيدة على بحر عمان يحكمها الشيخ حمد بن محمد الشرقي ؟
A- الشارقة B- دبي C- الفجيرة D- أم القيوين
- 6- حاكمها الشيخ سعود بن صقر تعرف بمقاومة المحتل الإنجليزي هي إمارة ؟
A- الشارقة B- رأس الخيمة C- عجمان D- أم القيوين
- 7- الشيخ حميد بن راشد النعيمي هو حاكم إمارة ؟
A- الشارقة B- دبي C- عجمان D- أم القيوين