

العد بالاثنيات 2

2			8					18	
---	--	--	---	--	--	--	--	----	--

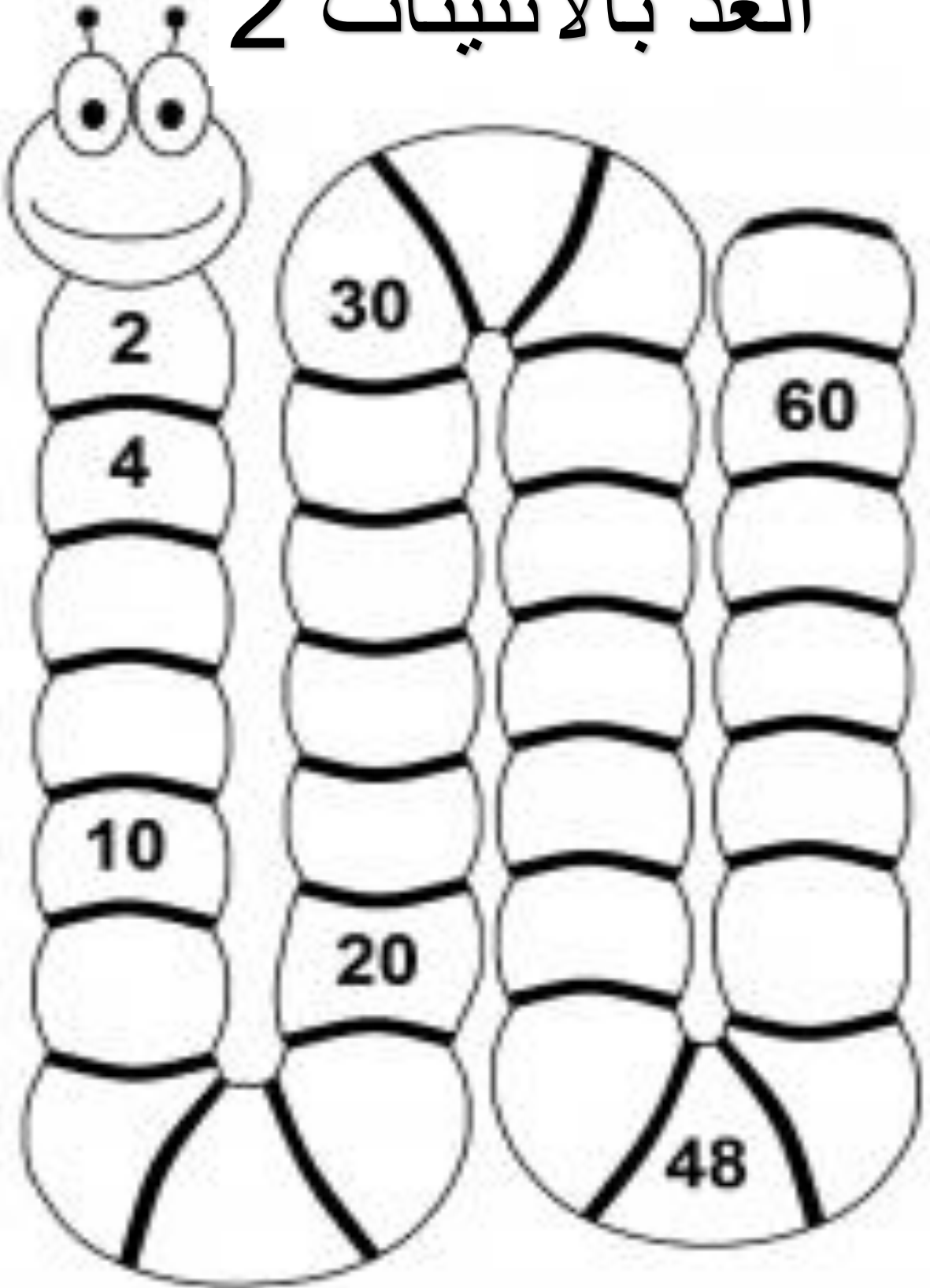
	24			30					40
--	----	--	--	----	--	--	--	--	----

		46				54			
--	--	----	--	--	--	----	--	--	--

62			68				76		
----	--	--	----	--	--	--	----	--	--

	84				92			98	
--	----	--	--	--	----	--	--	----	--

العد بالاثنيات 2



العد بالخمسات 5

1)

5	10			25			40
---	----	--	--	----	--	--	----

2)

20		30				50	
----	--	----	--	--	--	----	--

3)

45			60	65			
----	--	--	----	----	--	--	--

4)

30		40			55		
----	--	----	--	--	----	--	--

5)

25			40				
----	--	--	----	--	--	--	--

6)

	35			50		60	
--	----	--	--	----	--	----	--

7)

10		20					
----	--	----	--	--	--	--	--

8)

	55		65				
--	----	--	----	--	--	--	--

العد التجاوزي، 2, 5, 10


(عدد التجاوزي) الاسم : نصف لثاني

عد 2



2 , _____ , _____ , _____ , _____ , 12

عد 5










5 , _____ , _____ , _____ , _____ , _____

عد 10



10 , _____ , _____ , _____ , _____ , 60

عدي بالاشنات (2:2) أو بالخصسات (5:5) أو بالعشرات (10:10) ثم لوني طريقة العد الصحيحة.

6	_____ , _____ , _____ , _____ , _____ , _____			
20	_____ , _____ , _____ , _____ , _____ , _____			
20	_____ , _____ , _____ , _____ , _____ , _____			

لدينا 3 اخوات



كم عدد جميع عيونهن

كم عدد جميع اصابع قدمهن