

تدريب ( 24 ) : اقرأ النص التالي ثم أجب عن الأسئلة التي تليه :

إن دولة الإمارات العربية المتحدة اتخذت العديد من التدابير التي أصلت قيمة التسامح وحولتها إلى منهج ثابت وراسخ في المجتمع بمختلف مؤسساته ومكوناته، ومن تلك التدابير سنت قوانين عديدة مثل قانون التعاون القضائي الدولي في المسائل الجنائية عام 2006، وتشكيل اللجنة الوطنية لمكافحة الإرهاب عام 2009، وقانون الكراهية والتمييز عام 2015، وقانون مكافحة الجرائم الإرهابية عام 2014، ولذلك أصبحت دولة الإمارات حاضنة للشعوب ويعيش على أرضها أكثر من 200 جنسية في سلام ووثام واحترام، وفي كنف المودة والتعاون والمحبة والتضامن .

1) ضع عنواناً مناسباً للنص :

.....

2) استخرج من النص اثنين من القيم السلوكية الإيجابية :

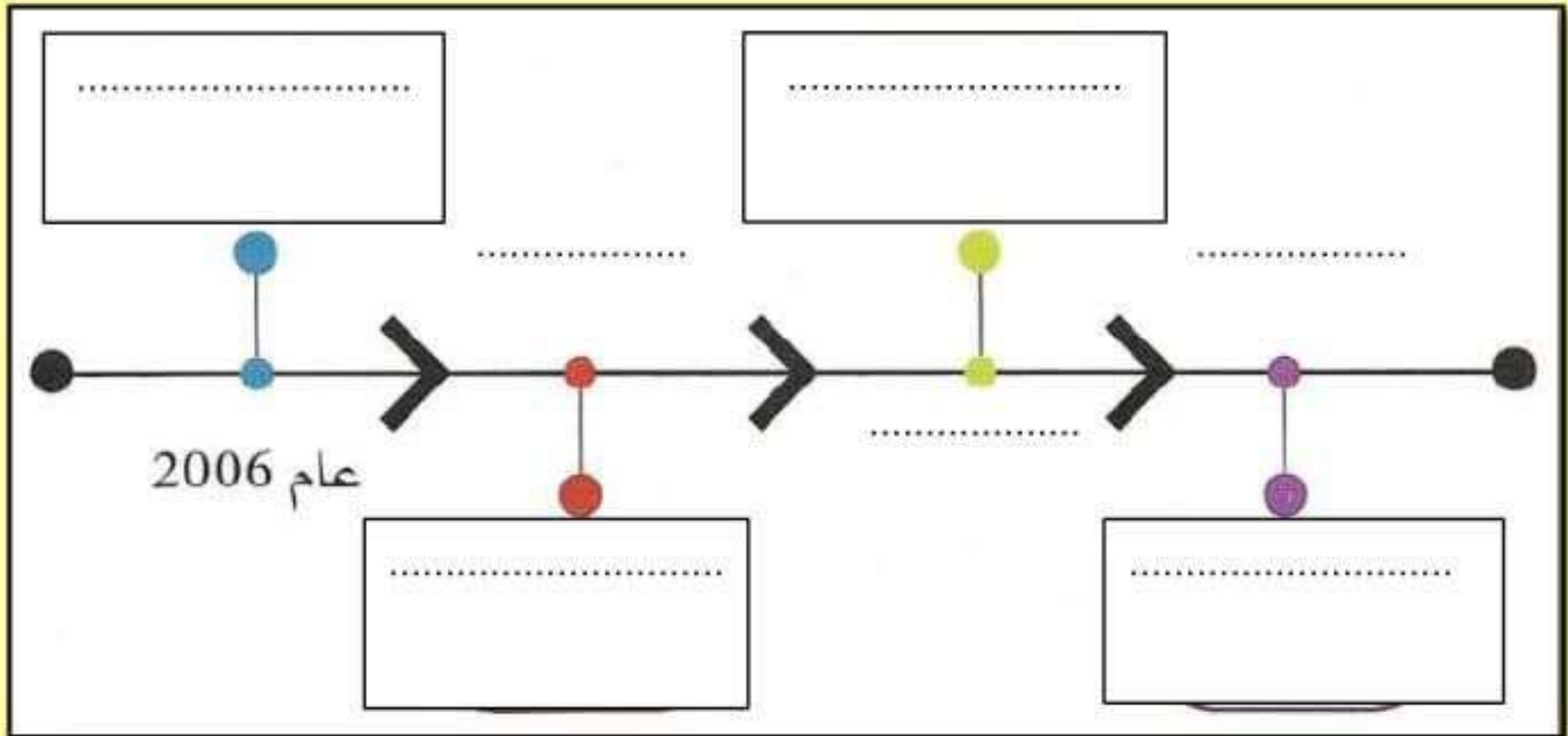
.....

3) استنتج العوائد الإيجابية التي حصلت عليها دولة الإمارات العربية المتحدة من المساواة بين أفراد المجتمع :

.....

.....

4) استكمل بناء الخط الزمني التالي مستعيناً بالنص السابق



**تدريب ( 11 ) : لاحظ خريطة أمريكا الجنوبية السياسية ثم أجب عن الأسئلة التي تليها :**



1- من الدول الحبيسة في قارة أمريكا الجنوبية :

- أ- إكوادور  
ب- اوروجواي  
ج- باراجواي  
د- كولومبيا

2- المسطح المائي الذي يفصل قارة أمريكا

الجنوبية عن قارة أفريقيا :

- أ- المحيط الهادي  
ب- المحيط الأطلسي  
ج- المحيط المتجمد الشمالي  
د- المحيط الهندي

3- من الدول الجزرية في قارة أمريكا الجنوبية :

- أ- شيلي  
ب- بوليفيا  
ج- فنزويلا  
د- ترينيداد

4- دائرة العرض الرئيسية التي تمر بدولة

باراجواي :

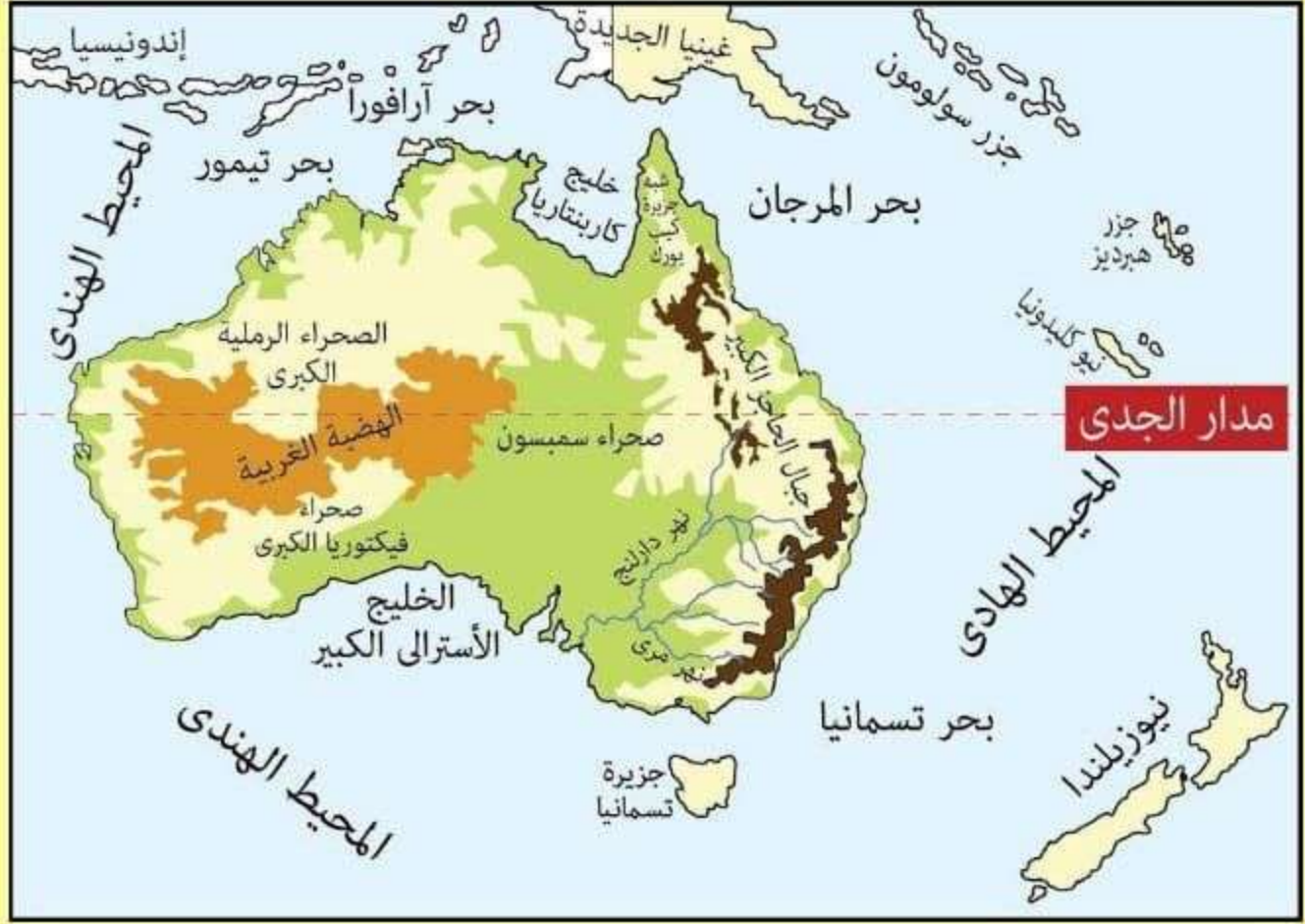
- أ- مدار الجدي  
ب- مدار السرطان  
ج- خط الاستواء  
د- خط جرينتش

5- تطل دولة البرازيل شرقاً على :

- أ- المحيط الهادي  
ب- المحيط الهندي  
ج- المحيط المتجمد الشمالي  
د- المحيط الأطلسي



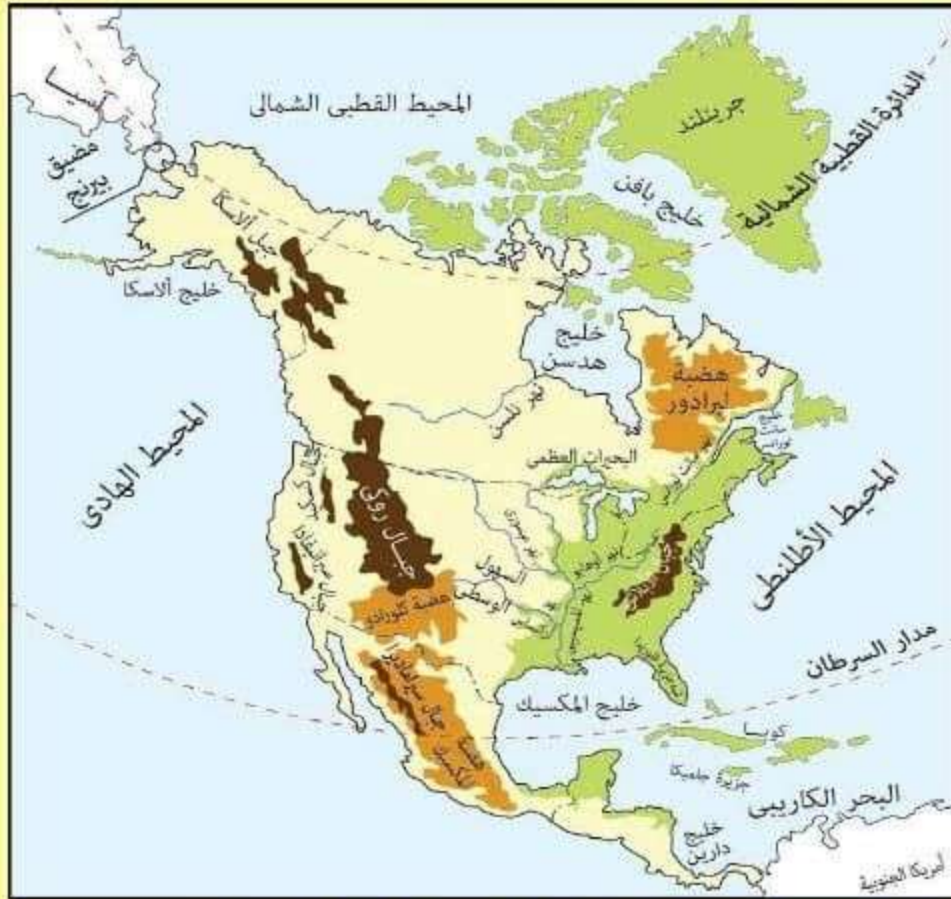
تدريب ( 12 ) : لاحظ خريطة استراليا التالية ثم أجب عن الأسئلة :



- 1- تقع إندونيسيا بالنسبة لقارة استراليا جهة :
  - أ- الشمال الشرقي
  - ب- الشمال الغربي
  - ج- الجنوب الشرقي
  - د- الجنوب الغربي
- 2- المسطح المائي الذي يفصل قارة استراليا عن أمريكا الجنوبية :
  - أ- المحيط الهادي
  - ب- المحيط الأطلنطي
  - ج- المحيط المتجمد الشمالي
  - د- المحيط الهندي
- 3- دائرة العرض الرئيسية التي تمر بقارة استراليا :
  - أ- خط الاستواء
  - ب- خط جرينتش
  - ج- مدار السرطان
  - د- مدار الجدي
- 4- من الدول الجزرية القريبة من قارة استراليا
  - أ- تسمانيا
  - ب- كارينتاريا
  - ج- نيوزيلندا
  - د- ايسلندا
- 5- يحد قارة استراليا غرباً :
  - أ- المحيط الهادي
  - ب- المحيط الأطلنطي
  - ج- المحيط المتجمد الشمالي
  - د- المحيط الهندي

معلم المادة / السيد نصار

تدريب ( 10 ) : لاحظ خريطة أمريكا الشمالية الطبيعية ثم أجب عن الأسئلة التي تليها :



1- السلاسل الجبلية التي تمتد بمحاذاة الساحل الشرقي للولايات المتحدة الأمريكية :

- أ- ألاسكا      ب- الأنديز      ج- الأبلاتش      د- روكي

2- المسطح المائي الذي يفصل قارة أمريكا الشمالية عن قارة أوروبا :

- أ- المحيط الهادي      ب- المحيط الأطلسي      ج- المحيط المتجمد الشمالي      د- المحيط الهندي

3- يحد المحيط الهادي قارة أمريكا الشمالية من جهة :

- أ- الشرق      ب- الغرب      ج- الشمال      د- الجنوب

4- اللون الأخضر على الخريطة يرمز إلى :

- أ- الجبال      ب- الهضاب      ج- السهول      د- المسطحات المائية

5- المضيق الذي يفصل بين قارتي أمريكا الشمالية وآسيا :

- أ- باب المنذب      ب- بيرنج      ج- البسفور      د- المحيط الأطلسي

معلم المادة / السيد نصار



تدريب ( 6 ) : لاحظ خريطة دولة الإمارات العربية المتحدة ثم أجب عن الأسئلة التي تليها :



1- تطل إمارة الفجيرة شرقاً على :

أ- الخليج العربي      ب- بحر العرب      ج- خليج عمان      د- البحر الأحمر

2- أصغر الإمارات مساحة في دولة الإمارات العربية المتحدة :

أ- الفجيرة      ب- عجمان      ج- دبي      د- رأس الخيمة

3- الدولة التي تجاور الإمارات من الجنوب والغرب :

أ- سلطنة عمان      ب- البحرين      ج- الكويت      د- السعودية

4- أكبر الإمارات مساحة في دولة الإمارات العربية المتحدة :

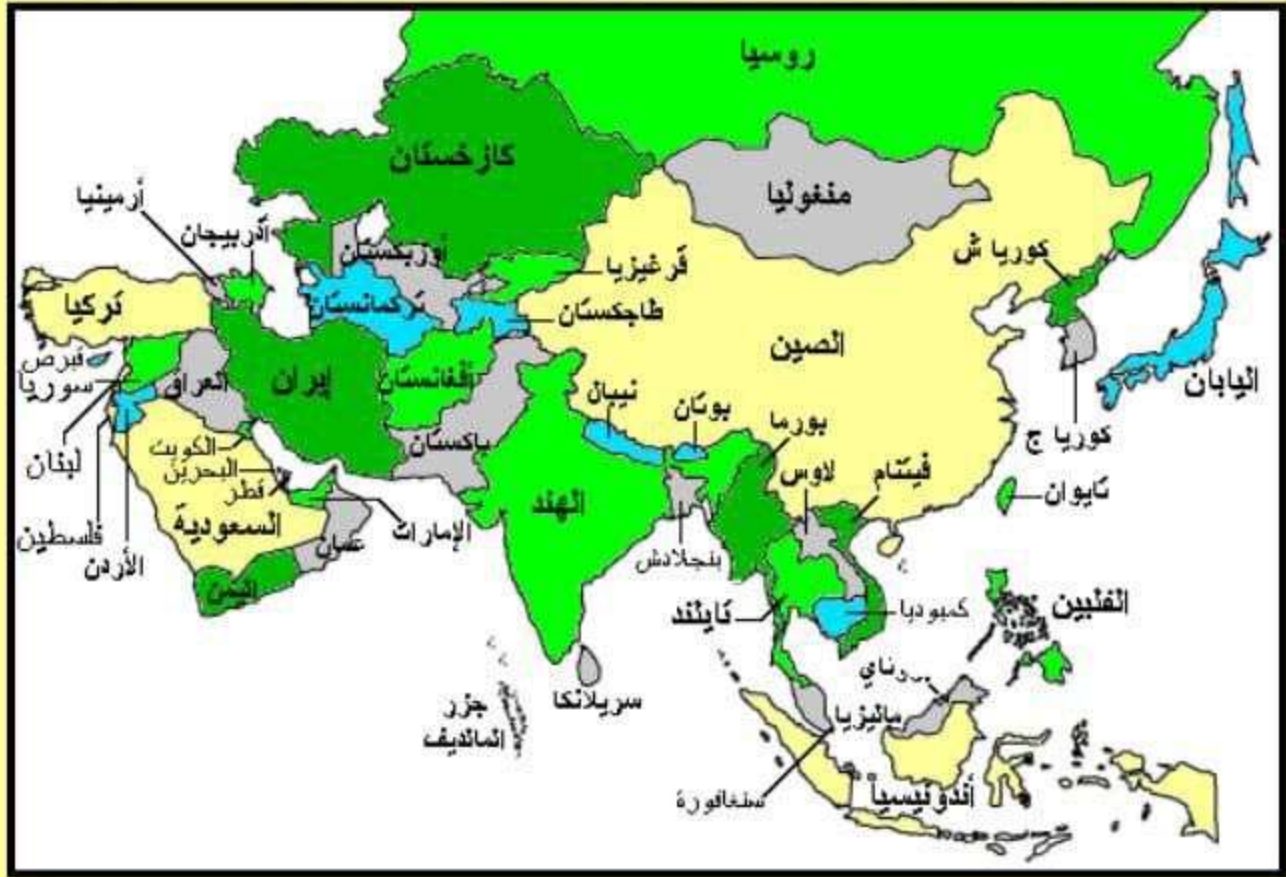
أ- الشارقة      ب- أبوظبي      ج- رأس الخيمة      د- دبي

5- المسطح المائي الذي يفصل دولة الإمارات العربية المتحدة عن إيران :

أ- بحر قزوين      ب- بحر العرب      ج- بحر اليابان      د- الخليج العربي

معلم المادة / السيد نصار

تدريب ( 7 ) : لاحظ خريطة آسيا السياسية ثم أجب عن الأسئلة التي تليها : ( 5 درجات )



1- من الدول الجزرية التابعة لقارة آسيا :

- أ- فييتنام      ب- سريلانكا      ج- الصين      د- تايلاند

2- دولة اسلامية تقع أراضيها في قارتي آسيا وأوروبا :

- أ- تركمانستان      ب- العراق      ج- تركيا      د- روسيا

3- اندونيسيا دولة اسلامية تقع بالنسبة لقارة آسيا في جهة :

- أ- الشمال الشرقي      ب- الشمال الغربي      ج- الجنوب الشرقي      د- الجنوب الغربي

4- دولة اسلامية تقع شرق الأراضي الهندية :

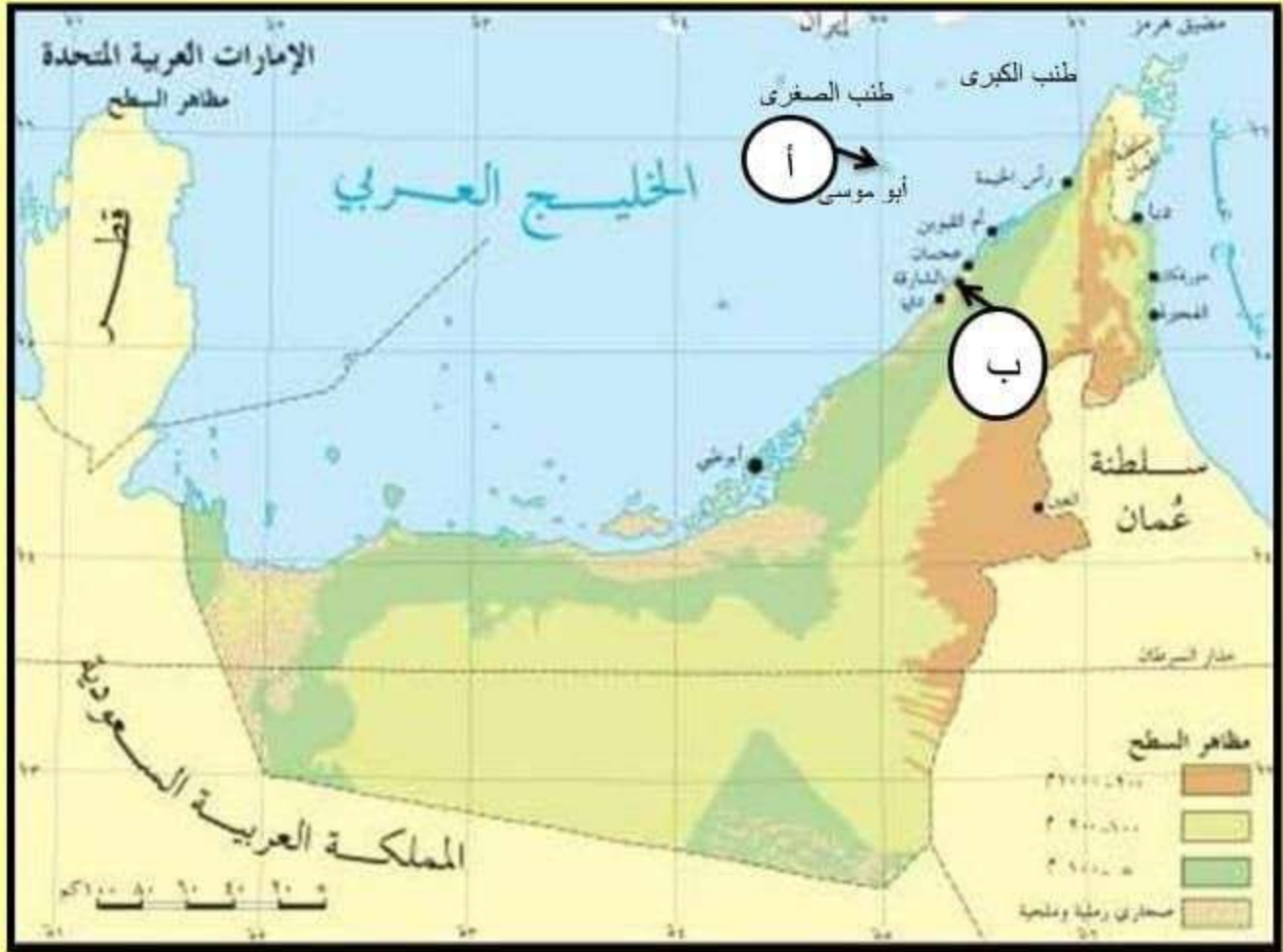
- أ- أفغانستان      ب- بنجلاديش      ج- لاوس      د- باكستان

5- تطل دولة العراق جنوباً على مسطح مائي هو :

- أ- بحر عمان      ب- بحر العرب      ج- الخليج العربي      د- البحر الأحمر



تدريب ( 5 ) : لاحظ خريطة دولة الإمارات العربية المتحدة ثم أجب عن الأسئلة التي تليها :



- 1- المظهر التضاريسي الذي يسود دولة سواحل الإمارات العربية المتحدة :  
 أ- الجبال      ب- الهضاب      ج- السهول      د- الأنهار
- 2- يقع جبل جيس السياحي في إمارة :  
 أ- رأس الخيمة      ب- دبي      ج- أم القيوين      د- عجمان
- 3- المضيق الذي يصل بين الخليج العربي وخليج عمان :  
 أ- هرمز      ب- جبل طارق      ج- باب المندب      د- الدردنيل
- 4- يشير الحرف ( أ ) على الخريطة إلى جزيرة :  
 أ- طناب الكبرى      ب- طناب الصغرى      ج- أبو موسى      د- قشم
- 5- يدل الحرف ( ب ) على الخريطة إلى المدينة التي ولد فيها الشيخ صاحب السمو الشيخ سلطان القاسمي :  
 أ- الفجيرة      ب- أبو ظبي      ج- العين      د- الشارقة

معلم المادة / السيد نصار

تدريب ( 4 ) : لاحظ الخريطة التالية ثم أجب عن الأسئلة :



- 1- تطل إمارة مدينة خورفكان شرقاً على :  
أ- الخليج العربي      ب- خليج عمان      ج- بحر العرب      د- البحر الأحمر
- 2- أول المدن التي زارها الشيخ الدكتور سلطان بن محمد القاسمي في رحلته إلى إيران :  
أ- بندر عباس      ب- جالوس      ج- لنجة      د- بندر بهلوي
- 3- المضيق الذي يصل بين الخليج العربي وخليج عمان :  
أ- هرمز      ب- جبل طارق      ج- باب المنذب      د- الدردنيل
- 4- أقرب الجزر الإماراتية المحتلة إلى سواحل دولة الإمارات العربية المتحدة :  
أ- طنب الكبرى      ب- طنب الصغرى      ج- أبو موسى      د- قشم
- 5- المسطح المائي الذي يفصل دولة الإمارات العربية المتحدة عن إيران :  
أ- بحر قزوين      ب- بحر العرب      ج- بحر اليابان      د- الخليج العربي

معلم المادة / السيد نصار





دائرة التعليم والمعرفة  
DEPARTMENT OF EDUCATION  
AND KNOWLEDGE

مدرسة الدهماء للتعليم الثانوي

## المراجعة النهائية

## لمهارات مادة الدراسات الإجتماعية



العام الدراسي ( 2018 – 2019 م )

معلم المادة / السيد نصار