



اقرأ الفقرة التالية ثم أجب عن الأسئلة :-

(شرعت الدول الحديثة الدستور لتنظيم الحياة بمختلف جوانبها ولكل دولة في وقتنا الحالى دستور يرمز إلى إستقلالها ويحقق فيها معانى التقدم والعدالة ويشكل مصدرا أساسيا لشرعية السلطة فالذى يمارس السلطة فى أى دولة يمارسها بموجب الدستور والقوانين)

1-وضح المقصود بالدستور :

.....

.....

2- عنى دستور الإمارات بالإتجاهات الوطنية لدعم الإتحاد والحفاظ عليه ومن أهمها :

1
2
3

3-للدستور فى الدولة أهمية كبيرة وهى :

للدولة

للمواطن

4- قارن بين حقوق وواجبات الأفراد التى أقرها الدستور فى الجدول التالى :

الواجبات	الحقوق

إفرا الخريطة ثم اجب عن الأسئلة التالية :-



1- ماهى نتائج حرب أكتوبر عام 1973م التى اندلعت بين إسرائيل - ومصر وسوريا ؟

.....

.....

2- قال الشيخ زايد رحمه الله (النفط العربى ليس بأعلى من الدم العربى) من خلال العبارة وضح

دور الإمارات والدول العربية فى حرب أكتوبر 1973 ؟

.....

.....

3- بين أهداف التضامن العربى ؟

.....

.....

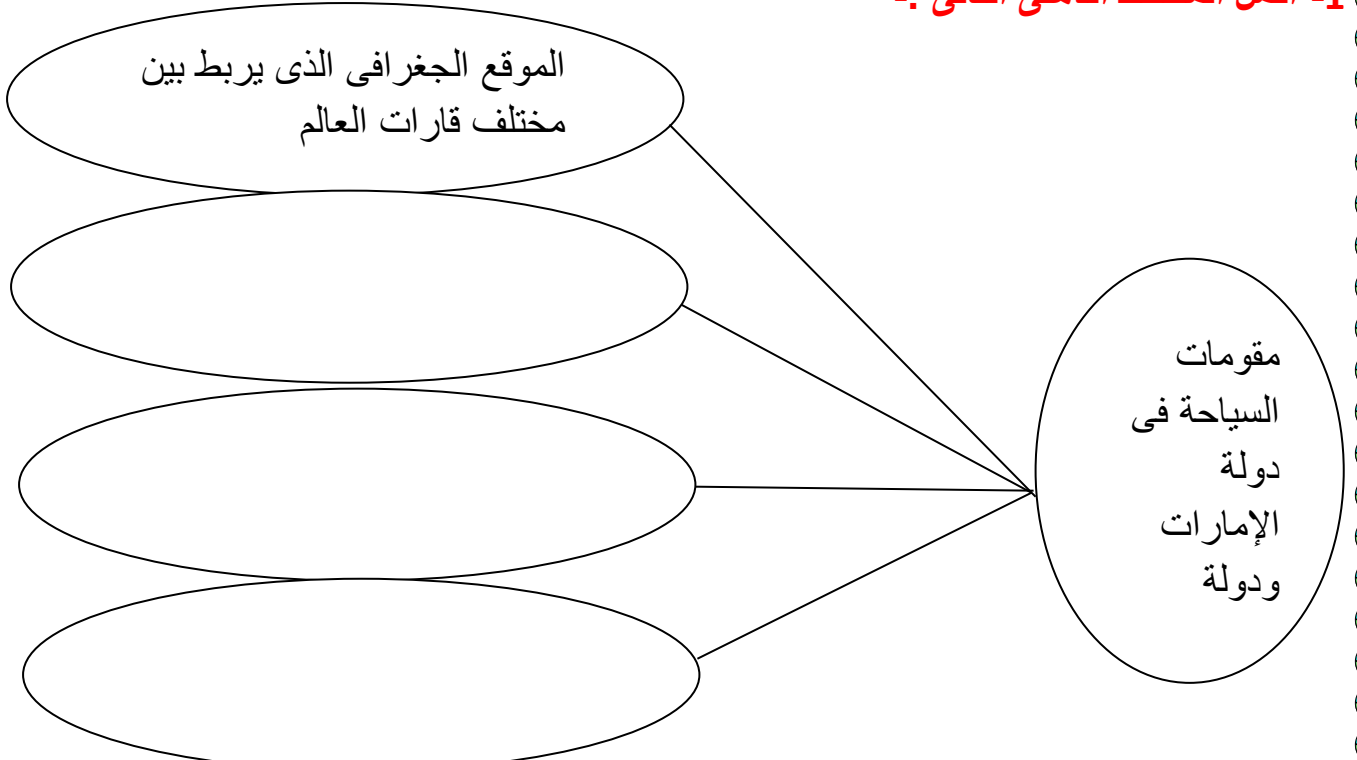
4- ماهى أسباب إطلاق عاصفة الحزم ؟

.....

.....

رؤية المدرسة: شخصية قيادية مدعة لجيل واعى يسمو لتطوير ذاته ووطنه وأمتة
رسالة المدرسة: مدرسة براعم العين الخاصة تهدف إلى تعليم متميز لإعداد جيل واع يستفيد من قدراته ويواجه تحديات العصر طبقاً للمنظومة التربوية

1- أكمل المخطط الذهني التالي :-



2- أوضح الروابط المشتركة بين البلدين الشقيقين (دولة الإمارات ودولة السعودية)

.....

.....

3- عدد مجالات التعاون الإقتصادي بين البلدين ؟

أ) ب) ج)

حدد على خريطة الوطن العربي الصماء (الإمارات-السعودية-أبوظبي-جدة-الرياض-تونس-جيبوتي)



رؤية المدرسة: شخصية قيادية مدعة لجيل واع يسمو لتطوير ذاته ووطنه وأمتة
رسالة المدرسة: مدرسة براعم العين الخاصة تهدف إلى تعليم متميز لإعداد جيل واع يستفيد من قدراته ويواجه تحديات العصر طبقاً للمنظومة التربوية

إفراء الفقرة تم اءب عن الأسنله الئالفة :-

(الوطن العربى هو تلك المساحة من الأرض الئى تقع فى جنوب غرب قارة آسيا وشمال قارة أفرفقا ممتدة من المءىط الأطنطى إلى الخلفج العربى وءبر عمان ءجمع سكانه روابط ومصالح مشركة وإكئسب على مر العصور مكانة بارزة بفن ءول العالم مما جعله منطقة الئقاء وإئصال بفن قارات العالم وءوله)

1- عءء أهمة موقع الوطن العربى ؟

.....
.....
.....

2- أصوغ ءعرلفا مناسباً لكل من ؟

المفاه الإقلفمفة.....
الموقع الجغرافى.....
الءءوء السفاسفة.....

3- أكمل العبارة الئالفة بما فناسب :-

- ءائرة العرض الرئفسفة الئى ءقءع أراضى الوطن العربى من الجنوب.....
- فءء الوطن العربى من الشمال جبال ءوروس والبحر.....
- المسءح المائى الءى فصل جناءى الوطن العربى هو.....
- فءاور الوطن العربى ءول مءلفة من الجنوب مءل.....
- تقع ءالبفة ءول العربفة فى الجناء العربى.....

4- ءءم ءل مناسب من وءهة نظرء للقضافة العربفة (إستعاءة الإمارات للءزر الئلالء المءئلة)

.....
.....

رؤفة المءرسة: شءصفة قفاءفة مءءعة لءفل واعى فسمو لءءور ءأئه ووطنه وأمئه
رسالة المءرسة: مءرسة براعم العفن الخاصة ءهءف إلى ءعلفم مءمفز لإعءاء جفل واع فستففء من ءءرائه وىواجه ءءءفااء العصر ءبءقاً للمنءومة ءربوفة

حدد على خريطة الوطن العربي السماء المظاهر الطبيعية الآتية :-

(الجبل الأخضر - الربع الخالي - جبال أطلس - جبال عسير - جبال زاغروس - جبال دارفور)



2- ما المقصود بكل من :

السهول الفيضية

الجبال الإنكسارية

الحماد

الرق

3- صنف الظواهر الجغرافية الآتية وفق الجدول كل بما يناسبه :-

(الفرات - بادية الشام - الكوس - تهامة - مسافى - النيل - طوبقال - الذيد)

جبال	سهول فيضية	واحات	هضاب	سهول ساحلية	لا تنتمي

رؤية المدرسة: شخصية قيادية مدعة لجيل واع يسمو لتطوير ذاته ووطنه وأمه
رسالة المدرسة: مدرسة براعم العين الخاصة تهدف إلى تعليم متميز لإعداد جيل واع يستفيد من قدراته ويواجه تحديات العصر طبقاً للمنظومة التربوية

اقرأ الفقرة ثم أجب عن الأسئلة التالية :-

(يتنوع مناخ الوطن العربي ونباته الطبيعي ويختلف من مكان لآخر لكن الصفة البارزة له هي ارتفاع درجات الحرارة وسيطرة الجفاف حيث يسود المناخ المدارى الصحراوى الحار مساحات واسعة وسط الوطن العربى)

1-وضح تأثير التضاريس فى مناخ الوطن العربى ؟

.....

.....

2-بم تفسر تساقط الأمطار على دولة الإمارات العربية المتحدة فى فصل الشتاء ؟

.....

3-أصوغ تعريفا مناسباً للمفاهيم والمصطلحات الآتية :-

.....التعريف.....

.....الإقليم المناخى.....

.....الموقع الفلكى.....

4-قارن بين مناخ البحر المتوسط ومناخ الإقليم المدارى وفق الجدول التالى :-

وجه المقارنة	مناخ البحر المتوسط	المناخ المدارى
الجهات التى يسود فيها		
المميزات المناخية		
نوع النبات الطبيعى		

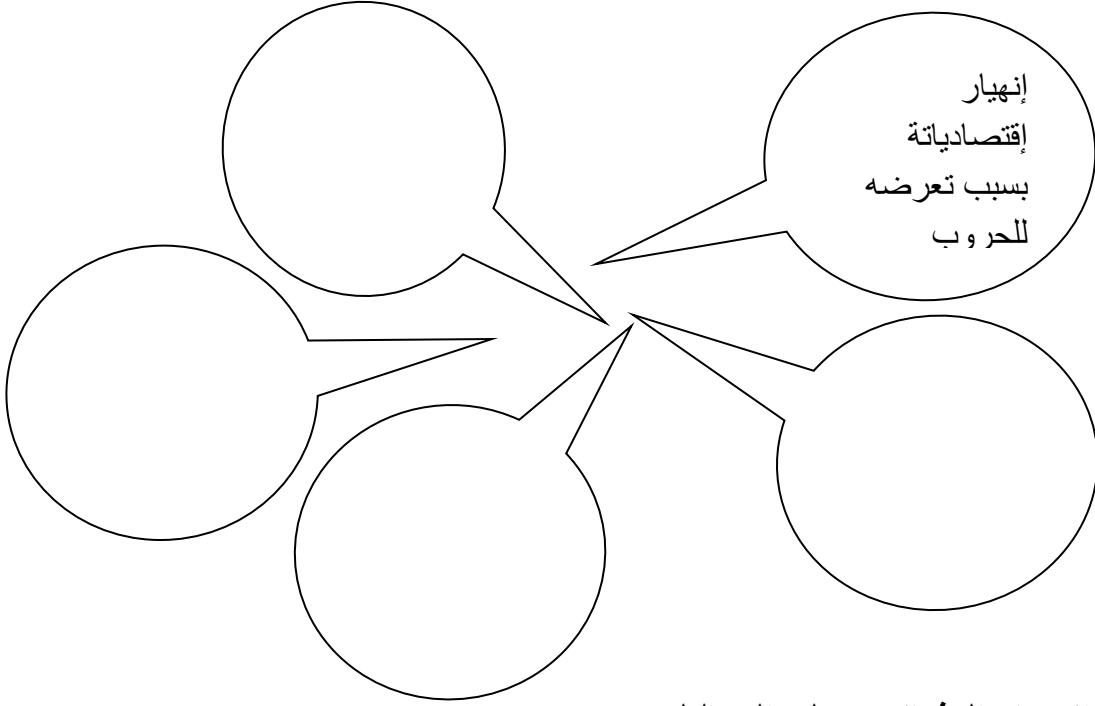
5-بم تفسر وقوع الجزء الأكبر من الوطن العربى ضمن الإقليم الصحراوى الحار ؟

.....

.....

رؤية المدرسة: شخصية قيادية مدعة لجيل واعى يسمو لتطوير ذاته ووطنه وأمتة
رسالة المدرسة: مدرسة براعم العين الخاصة تهدف إلى تعليم متميز لإعداد جيل واع يستفيد من قدراته ويواجه تحديات العصر طبقاً للمنظومة التربوية

(عانى الوطن العربي من أوضاع سيئة أدت الى سقوطه تحت سيطرة العثمانيين وهي كالاتى)



2- حدد أسباب إنتصار العثمانيين على المماليك ؟

.....

.....

3- ما المقصود بالكشوف الجغرافية ؟

.....

.....

4- قارن بين معركتى جالديران 1514م والريمانية 1517م وفق الجدول التالى :-

أوجه المقارنة	معركة جالديران 1514م	معركة الريمانية 1517م
الأطراف المشاركة فى كل منهما		
نتيجة واحدة ترتبت على كل منهما		

روية المدرسة: شخصية قيادية مدعة لجيل واعى يسمو لتطوير ذاته ووطنه وأمتة
رسالة المدرسة: مدرسة براعم العين الخاصة تهدف إلى تعليم متميز لإعداد جيل واع يستفيد من قدراته ويواجه تحديات العصر طبقاً للمنظومة التربوية

اقرأ الفقرة ثم أجب عن الأسئلة :

(شهدت منطقة الخليج العربي وجنوب شبه الجزيرة العربية في مطلع القرن السادس عشر الميلادي الميلادي غزوا إستعماريًا تزعمته البرتغال وكان له دوافعه وأساليبه ومنها : الدافع الصليبي والدافع الإقتصادي والتفكك السياسي السائد آنذاك والصراع الدار بين القوى الإسلامية الكبرى الدولة العثمانية والدولة الصفوية ودولة المماليك وإستطاع عرب الخليج بعد أن تحققت وحدتهم من التصدي للغزو البرتغالي والتخلص منه نهائيا)

1- حدد الفكرة الرئيسية من الفقرة السابقة ؟

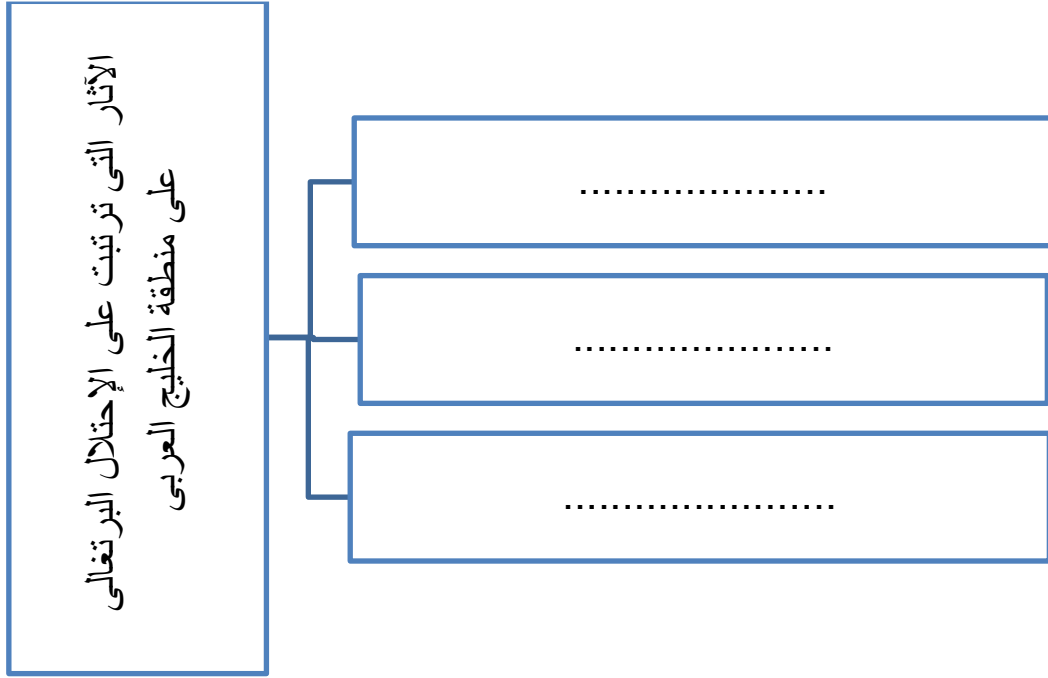
2- ماذا يحدث لو إتحدت القوى الإسلامية الكبرى في مواجهة الغزو البرتغالي ؟

2- حدد أسباب الإستعمار الأوروبي للوطن العربي ؟

غرد في حب الإمارات وما عاناه الأجداد في بناء إماراتنا :

رؤية المدرسة: شخصية قيادية مبدعة لجيل واع يسمو لتطوير ذاته ووطنه وأمته
رسالة المدرسة: مدرسة براعم العين الخاصة تهدف إلى تعليم متميز لإعداد جيل واع يستفيد من قدراته ويواجه تحديات العصر طبقاً للمنظومة التربوية

أكمل المخطط الذهني التالي بما يناسبه :-



اكتب الإسم أو المفهوم الدال على كل عبارة من العبارات الآتية :-

- 1- إمام قادة اليعاربة للتخلص من النفوذ البرتغالي في الخليج العربي
- 2- قوى إسلامية كبرى إستفاد البرتغاليون من الصراع القائم بينها وبين الدولة الصفوية ودولة المماليك وقامو بإحتلال منطقة الخليج العربي
- 3- قائد ألباني تمكن من تحقيق نهضة مصر وسعى لقيام دولة موحدة وحديثة

قارن بين أشكال الإستعمار الآتية وفق الجدول التالي :-

التميز العنصرى	القروض المالية	أوجه المقارنة
		المفهوم
		مثالا واحدا على كل منهما

رؤية المدرسة: شخصية قيادية مدعة لجيل واعى يسمو لتطوير ذاته ووطنه وأمتة
رسالة المدرسة: مدرسة براعم العين الخاصة تهدف إلى تعليم متميز لإعداد جيل واع يستفيد من قدراته ويواجه تحديات العصر طبقاً للمنظومة التربوية

تتبع حملات البوكيرك على منطقة الخليج العربي وجنوب شبه الجزيرة العربية :-



1- حدد أسباب إنتصار العثمانيين على المماليك ؟

2- حدد الفرق الرئيسي بين البراكين والزلازل وبين الإلتواءات والأنكسارات التي أثرت في تضاريس

الوطن العربي

3- تعد تضاريس الوطن العربي عاملا من عوامل التكامل الجغرافي في الوطن العربي ؟

رؤية المدرسة: شخصية قيادية مدعة لجيل واع يسمو لتطوير ذاته ووطنه وأمته
رسالة المدرسة: مدرسة براعم العين الخاصة تهدف إلى تعليم متميز لإعداد جيل واع يستفيد من قدراته ويواجه تحديات العصر طبقاً للمنظومة التربوية

من خلال خريطة العالم وضح موقع الوطن العربي بالنسبة للعالم :



1- ما المقصود بالتجارة الدولية ؟

2- صنف السلع التي بين القوسين وفقاً لما يناسبها في الجدول الآتي :

(الثلاجة - المطاط - النحاس - القوارب - الطائرة)

بضائع محلية	بضائع دولية	بضائع شبه دولية

رؤية المدرسة: شخصية قيادية مدعة لجيل واع يسمو لتطوير ذاته ووطنه وأمتة
رسالة المدرسة: مدرسة براعم العين الخاصة تهدف إلى تعليم متميز لإعداد جيل واع يستفيد من قدراته ويواجه تحديات العصر طبقاً للمنظومة التربوية

1- قدم مثالين لكل مما يأتي :

- عملات قابلة للتحويل.....

- عوامل التخصص في الإنتاج.....

- مجالات التجارة الإلكترونية.....

2- من أهم سمات التجارة الإلكترونية :

3- عدد مزايا التجارة الدولية مع ذكر أمثلة من صادرات دولة الإمارات ؟

.....

.....

.....

وضح المقصود بالمفاهيم والمصطلحات الآتية :-


-الصادرات غير المنظورة.....

.....

-البضائع الدولية.....

-التجارة الإلكترونية.....

من خلال المخطط الذهن التالي عدد مزايا المناطق الحرة :



2-قدم توقعاً يمكن أن يحدث لو :

-رفعت الدولة قيمة الضرائب على السلع التجارية المستوردة :

.....

-عدم توحيد التزام الدول ببراءة الاختراع والعلامة التجارية :

.....

-توحيد العملة بين الدول الأعضاء في الإتفاقية الإقتصادية الموحدة :

.....

3-بم تفسر وضع ضوابط من قبل الدول على المناطق الحرة ؟

.....

.....

4-بم تفسر إهتمام دولة الإمارات بإقامة مناطق تجاريه حرة على أراضيها ؟

.....

.....

رؤية المدرسة: شخصية قيادية مبدعة لجيل واع يسمو لتطوير ذاته ووطنه وأمتة
رسالة المدرسة: مدرسة براعم العيون الخاصة تهدف إلى تعليم متميز لإعداد جيل واع يستفيد من قدراته ويواجه تحديات العصر طبقاً للمنظومة التربوية

إستكمل العبارات الآتية بما يناسبها :-

تقع منطقة الحميرية الحرة فى مدينة

أهم بنود المعاهدة التجارية المعاملة بالمثل و

العملة الرسمية للدول الأعضاء فى الإتحاد الأوروبى هى

إنضمت دولة الإمارات إلى إتفاقية الجات عام

أقرت إتفاقية الإتحاد الأوروبى فى مدينة

2- قارن بين السوق المشتركة والمنطقة الحرة حسب الجدول التالى :

أوجه المقارنة	السوق المشتركة	المنطقة الحرة
المفهوم		
المزايا		

3- قدم مقترحا يسهم فى زيادة الأهمية العالمية للإتفاقية الإقتصادية الموحدة ؟

.....
.....

3- (تعتبر دى مركزا تجاريا وإقتصاديا ذات ثقل فى منطقة الشرق الأوسط والعالم أجمع)

وضح الأهمية الإستراتيجية والإقتصادية وخاصة تجارة الترانزيت لدبى :

.....
.....
.....

مع تمنياتى بالنجاح والتوفيق ,,,,,,,,,,,,,,

رؤية المدرسة: شخصية قيادية مدعة لجيل واعى يسمو لتطوير ذاته ووطنه وأمتة
رسالة المدرسة: مدرسة براعم العين الخاصة تهدف إلى تعليم متميز لإعداد جيل واع يستفيد من قدراته ويواجه تحديات العصر طبقاً للمنظومة التربوية