

المادة : رياضيات
التاريخ : 1 / 10 / 2018

الموضوع : مهارة العد تنازلي
ورقة عمل رقم (2)
المعلمة : نها قلعه جي



العام الدراسي 2018-2019
الفصل الدراسي الأول

دولة الإمارات العربية المتحدة

دائرة التعليم والمعرفة

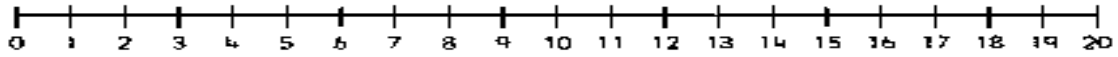
الإسم :
الصف: الثاني، الشعبة:

مؤشرات الأداء:
- أن يعد تنازلياً للطرح .
- أن يجد الحد الجمعي الناقص .
- أن يحل مسائل كلامية تتضمن الطرح.

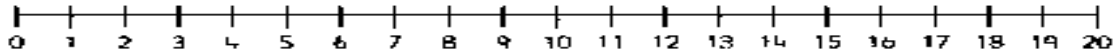
السؤال الأول: أعد تنازلياً للطرح :



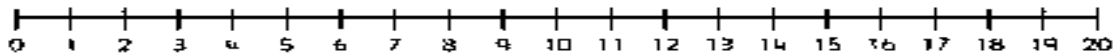
$10 - 6 = \square$	$10 - 3 = \square$
$10 - 2 = \square$	$10 - 7 = \square$
$10 - 5 = \square$	$10 - 1 = \square$
$10 - 0 = \square$	$10 - 4 = \square$



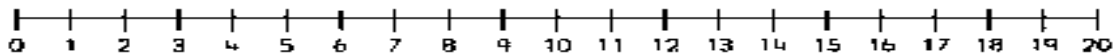
$$19 - 7 = \square$$



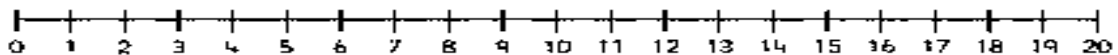
$$11 - 6 = \square$$



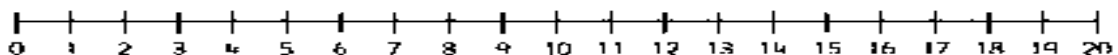
$$20 - 4 = \square$$



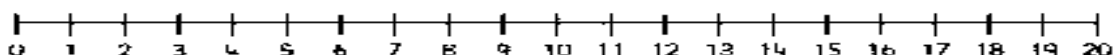
$$15 - 8 = \square$$



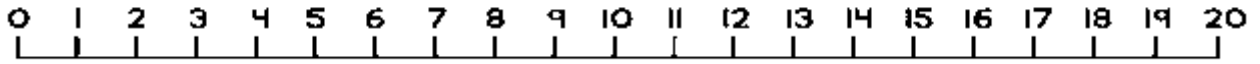
$$14 - 7 = \square$$



$$18 - 2 = \square$$



$$20 - 13 = \square$$



1) $12 - 3 = \text{-----}$

2) $11 - 2 = \text{-----}$

3) $8 - 3 = \text{-----}$

4) $12 - 7 = \text{-----}$

5) $9 - 7 = \text{-----}$

6) $7 - 0 = \text{-----}$

السؤال الثاني: حل المسائل التالية :

1 - تمتلك عائشة 13 كتاباً وقد أهدت منهم 3 كتب , كم عدد الكتب لديها الآن ؟

كتاباً _____

2- توجد 6 عصافير في العش , طارت جميعها فكم عدد العصافير التي لاتزال في العش ؟

عصفوراً _____

3- استخدم الأعداد في كل مربع لتحكي القصة:


(أ) قطفت رولا ----- وردات وأهدت أمها ----- وردات. كم وردة بقي لديها ؟



----- - ----- = -----

(ب) لدى أحمد ----- سيارات .أخذ منه علي ----- سيارات.

كم سيارة بقيت لديه؟



----- - ----- = -----