

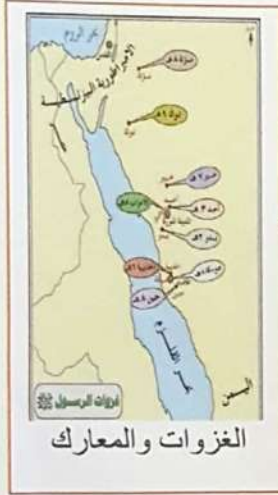
امتحان الفصل الدراسي الأول (العام / النخبة) للعام الدراسي 2018 م 2019 م

أجب عن جميع الأسئلة الآتية:

90

ضع إشارة (✓) في مربع الإجابة الصحيحة من بين البدائل التالية التي تلي كل عبارة:
السؤال الأول:

1 أحد الخرائط التي تتمثل فيها الظواهر الطبيعية خريطة:



2 أحد أسباب ظهور الثورة الصناعية في إنجلترا دون غيرها من الدول الأوروبية هو:

□ - الاستقرار السياسي □ - قلة مصادر الطاقة □ - قلة الأيدي العاملة □ - اهمال الاختراعات والبحث العلمي

3 لم يستقر الناس قديماً في مكان واحد بل كانوا يتنقلون من مكان لآخر بهدف :

□ - التكاثر والتجارة □ - التكاثر والصناعة □ - الزراعة والتكاثر □ - التكاثر والصيد


4 عالم مصري حصل على جائزة نوبل في الكيمياء عام 1999م نتيجة أبحاثه في علم الليزر هو:

□ - نجيب محفوظ □ - محمد البرادعي □ - الياس خوري □ - أحمد زويل

5 الالتزام الذي ينبغي أن يؤديه الفرد تجاه الوطن الذي يعيش فيه يعني:

□ - الواجبات □ - التطوع □ - الحقوق □ - المساواة

6 استخدم الإنسان قديماً أدوات لقطع الأشجار وتوسيع الحقل لزراعة المحاصيل مثل :



7 ترمز إحدى الصور التالية إلى أحد أشكال الثورة المعلوماتية :



8 النشاط الذي يهدف إلى تقديم المساعدة والإغاثة للأفراد الذين يواجهون خطراً يهدد حياتهم هو :

- العمل الإنساني المسؤولية المواطنة المساواة

9 يطلق على أسلوب الزراعة الحديث الذي يتم فيه استبدال التربة الطبيعية بأوساط نمو مائية أو أوساط صلبة مع إضافة العناصر الغذائية إليها بالزراعة :

- المائية السطحية المدارية العلمية المحمية

10 تتعدد مظاهر اهتمام دولة الإمارات العربية المتحدة بالثورة المعلوماتية منها :

- قلة استثمار الشركات العاملة بها مواكبة مستجدات العصر
 قلة تعامل الدولة مع التكنولوجيا محدودية التفاعل مع آخر المستجدات التقنية

11 تعد من إنجازات حمورابي منها :

- اهتمامه بحفر الترعر وإقامة السدود عدم تطوير النظام القضائي القديم لبابل
 قلة اكتراثه بتوسيع الحدود الجغرافية لمدينة بابل عدم اهتمامه بالمشاريع


12 أطلق على زراعة المحصول الذي يختلف من سنة إلى أخرى اسم :

- تدوير الأرض حرث الأرض سقي الأرض إجهاد الأرض

13 العالم الذي اخترع القاطرة البخارية هو :

- جيمس وات أنطونيو ميوتشي جورج ستيفن جوزيف نيكولاس

14 تسمى المعابد المدرجة في بلاد الرافدين ذات الشكل التصاعدي رأسي وينتهي في أعلاه بمكان الإله أو غرفة الإله :



15 يطلق على الظواهر المجتمعية والتقنية التي تواكب التطور السريع في الحواسيب الثورة :

- العلمية الحاسوبية الاقتصادية الثقافية

16 يستغرق دوران الأرض حول محورها أمام الشمس من الغرب إلى الشرق دورة كاملة كل :

- 20 ساعة - 22 ساعة - 24 ساعة - 26 ساعة

17 إحدى الصور التالية ترمز إلى تقنية الاستزراع السمكي:



18 للثورة المعلوماتية آثار سلبية منها :

- اتساع الهوة المعرفية بين يمتلكها ومن لا يمتلكها - زيادة حركة التبادل التجاري بين دول العالم
 - توافر المعلومات بسرعة فائقة وجودة عالية - انخفاض تكاليف الإنتاج

19 أحد عناصر الخريطة الذي يتمثل في الخطوط أو النقاط أو الألوان أو الرسم التي تفيد في فهم وتمثيل

الظواهر على الخريطة تعني :

- رموز الخريطة - عنوان الخريطة - مفتاح الخريطة - مقياس الرسم

20 إحدى الصور ليست من المؤسسات الخيرية التي تسهم في تنمية المواطنة:



21 يسمى المكان الذي يمر فيه خط الطول 180 غرباً بخط :

- الاستواء - جرينتش - مدار السرطان - التاريخ الدولي

22 تسمى دائرة العرض التي تنصف الكرة الأرضية إلى نصفين بالدائرة :

- المدارية - القطبية - الاستوائية - المعتدلة

23 الانتقال من صيد الحيوانات والأسماك وجمع النباتات إلى الزراعة باستخدام الآلات والأساليب الزراعية تعني

الثورة:

- الزراعية - الصناعية - العلمية - الفكرية


24 إحدى الصور ليست من الفئات المجتمعية التي تستخدم الخريطة كأداة أساسية في مجال عمله :



25 تتعد محاور عام الخير 2017م ومنها :

- التنمية المستدامة - خدمة الوطن - الحفاظ على البيئة - الخدمة الوطنية


26 يسمى الكتاب الذي يضم خرائط متنوعة وأشكالاً عديدة مثل الصور والرسوم والأشكال البيانية بـ:



المجلد



القاموس



الأطلس



الموسوعة

27 المسافة بين كل درجتى عرض متتاليتين تساوي :

- 111 كم - 222 كم - 333 كم - 444 كم

28 تتعد مكونات المواطنة الإيجابية مثل :

- التراث - العمل - الانتماء - الأفراد

29 آلة البذارة من أهم الآلات الزراعية التي استخدمها المزارعون لمنع هدر البذور سواء بفعل الرياح أو:

- الأمطار الأنهار الطيور الحيوانات

30 عند خلو الخريطة من مقياس الرسم نلجأ إلى تقدير المسافات تقديراً تقريبياً باستخدام :

- مفتاح الخريطة - خطوط الطول - مبين الجهات - دوائر العرض

السؤال الثاني:

في ضوء قراءتك للنص الآتي والشعار المصاحب ، أجب:



يوم العمل الإنساني الإماراتي
حب ووظء .. لزائد الصلاه ..
19 رمضان

يهدف العمل الإنساني نشاط إلى تقديم المساعدة للمحتاجين.... ، وخدمة الإنسان لأخيه الإنسان ، ونحن كمجتمع عربي إسلامي ننهل هذه المبادئ من ديننا الحنيف ، وتكمن أهمية العمل الإنساني في العمل بإخلاص لإسعاد الآخرين ، ويحتفل العالم بيوم للعمل الإنساني من كل عام ، وهناك مبادرات أطلقتها دولة الإمارات العربية المتحدة في مجال العمل الإنسان منها يوم زايد للعمال الإنساني.....

ملأ كلاً من العبارات الآتية بما يناسبها:

31 يصادف ذكرى زايد للعمل الإنساني يوم من كل عام.

32 استخلص قيمتين من القيم التي تغرسها مبادرة يوم العمل الإنساني.

.....
.....

33 صغ بأسلوبك المقصود بالعمل الإنساني.

.....
.....

34 سجل اثنين من أهمية العمل الإنساني.

.....
.....

35 عدد اثنين من المبادرات التي تبنتها دولة الإمارات العربية المتحدة في مجال العمل الإنساني.

.....
.....

انتهت الأسئلة ، دعواتنا لكم بالتوفيق والنجاح



SN:10N20N0N251C1168545X88945D201812121451GK

SN:10N20N0N251C1168545X88945D201812121451GK

الدرجة الكلية: 100 درجة

الإجابة	رقم المفردة	موجهات التصحيح	الإجابة	رقم المفردة
24 ساعة	16	<p>الدرجة الكلية: 90 = 30 × 3</p> <p>الإجابة محددة وغير ذلك لا يستحق أي درجة على المفردة.</p>	التضاريس	1
	17		الاستقرار السياسي	2
اتساع الهوة المعرفية بين من يمتلكها ومن لا يمتلكها	18		التقاط الثمار والصيد	3
رموز الخريطة	19		أحمد زويل	4
	20		الواجبات	5
التاريخ الدولي	21		المحراث	6
الاستوائية	22		التجارة الإلكترونية	7
الزراعية	23		العمل الإنساني	8
	24		المائية	9
خدمة الوطن	25		مواكبة مستجدات العصر	10
الأطلس	26		اهتمامه بحفر الترع وإقامة السدود	11
111 كم	27		تدوير الأرض	12
الانتعاش	28		جورج ستيفن	13
الطيور	29		الزاقورة	14
دوائر العرض	30	الحاسوبية	15	



(10 عشر درجات)

السؤال الثاني:

SN:10N20M0N251C1168545X88945D201812121451GK

☑ في ضوء قراءتك للنص الآتي والشعار المصاحب ، أجب:

أملأ كلاً من العبارات الآتية بما يناسبها: درجتان 1 × 2

31 - 19 رمضان

32 - استخلص قيمتين من القيم التي تفرسها مبادرة يوم العمل الإنساني. درجتان 1 × 2

☐ تقديم المساعدة للمحتاجين

☐ خدمة الإنسان لأخيه الإنسان

☐ العمل بإخلاص

☐ إسعاد الآخرين

ملاحظة: - يكتفى بقيمتين فقط (تقبل القيم الأخرى المناسبة)

33 - صغ بأسلوبك المقصود بالعمل الإنساني. درجتان 1 × 2

☐ هو ذلك النشاط يهدف إلى تقديم المساعدة والإغاثة للأفراد الذين يواجهون خطراً يهدد حياتهم مثل

(القتل - الجوع - المرض - النزوح واللجوء)

SN:10N20M0N251C1168545X88945D201812121451GK

34 - سجل اثنين من أسباب أهمية العمل الإنساني. درجتان 1 × 2

☐ إسعاد الآخرين

☐ استمرارية النمو والرخاء (تقبل الأسباب الأخرى المناسبة)

35 - عدد اثنين من المبادرات التي تبنتها دولة الإمارات العربية المتحدة في مجال العمل الإنساني. درجتان 1 × 2

☐ يوم زايد للعمل الإنساني.

☐ مبادرات محمد بن راشد آل مكتوم العالمية

☐ برنامج فزعه

☐ 130 مليون إنسان تتغير حياتهم في 2025م

ملاحظة هامة:

- يكتفى بقيمتين فقط

- يكتفى بمبادرتين فقط

- مبادرات محمد بن راشد تقبل أي مبادرتين وإذا كتبت مبادرات أخرى لابد أن تكون صحيحة كي يأخذ الطالب الدرجة

SN:10N20M0N251C1168545X88945D201812121451GK

SN:10N20M0N251C1168545X88945D201812121451GK

انتهت الإجابات، بوركت جهودكم