

ورقة عمل 1

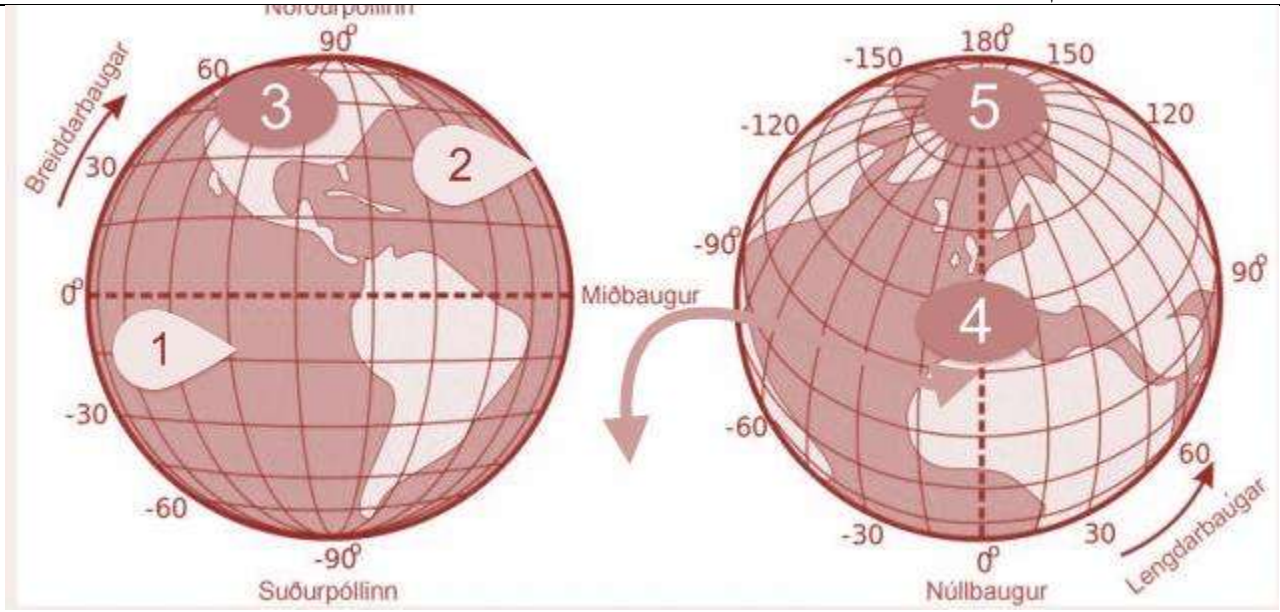
عنوان الدرس رحلة المعرفة + موقع بلادي من ص 15 الى 35

س 1 : ضع المفهوم المناسب في الجدول الآتي :

(الموقع النسبي - الموقع الفلكي - خط الاستواء - خط غرينتش - دوائر العرض - خطوط الطول)

موقع المكان بالنسبة الى خطوط الطول ودوائر العرض
خطوط وهمية على شكل أنصاف دوائر تصل بين القطبين
خطوط وهمية على شكل دوائر تامة الاستدارة
هو خط الطول الرئيسي ويقسم العالم الى قسمين رئيسيين (شرقي وغربي)
دائرة العرض الرئيسية وتقسّم العالم الى قسمين متساويين (شمالي وجنوبي)
موقع المكان بالنسبة الى اليابس والماء

س 2 : اكتب مدلول الارقام :



-----4	-----1
-----5	-----2
	-----3



----- مدار	----- خط
----- قارة	----- مدار

س 3 : ضع علامة (صح) أمام العبارات الصحيحة وعلامة (خطأ) أمام العبارات الخاطئة :

- 1- يقع مدار السرطان شمال خط الاستواء ()
- 2- يقسم خط الاستواء , الكرة الارضية الى قسمين غير متساويين ()
- 3- يمر خط غرينتش من دولة الجزائر ()
- 4- تتكون دولة الامارات العربية المتحدة من 6 إمارات ()
- 5- يبلغ عدد خطوط الطول شرقي خط غرينتش 180 خط ()

س 4 : اكتب السيرة الذاتية لدولة الامارات العربية المتحدة

-----	العاصمة
-----	المساحة
-----	اللغة
-----	التأسيس
-----	رئيس الدولة

س 5 : أكمل المقارنة بين دوائر العرض وخطوط الطول :

دوائر العرض	خطوط الطول	
خطوط وهمية على شكل دوائر تامة	-----	المفهوم
-----	360	العدد الكلي
خط الاستواء ورقمه 0	-----	الخط الرئيسي
-----	الجزائر	الدولة العربي التي يقطعها

س 6 : حدد الجهات الأصلية والفرعية من خلال الخريطة الآتية :



- 1- تقع مصر شمال دولة -----
- 2- تقع ليبيا ----- الجزائر
- 3- تقع موريتانيا في جهة -----
- 4- تقع دولة الامارات العربية المتحدة ----- الوطن العربي
- 5- يقع البحر المتوسط ----- الوطن العربي

س 7 : ماذا تستفيد من الخريطة السياسية السابقة (أهمية الخريطة)

- 1- -----
- 2- -----
- 3- -----

س 8 : ماذا نستفيد من دوائر العرض

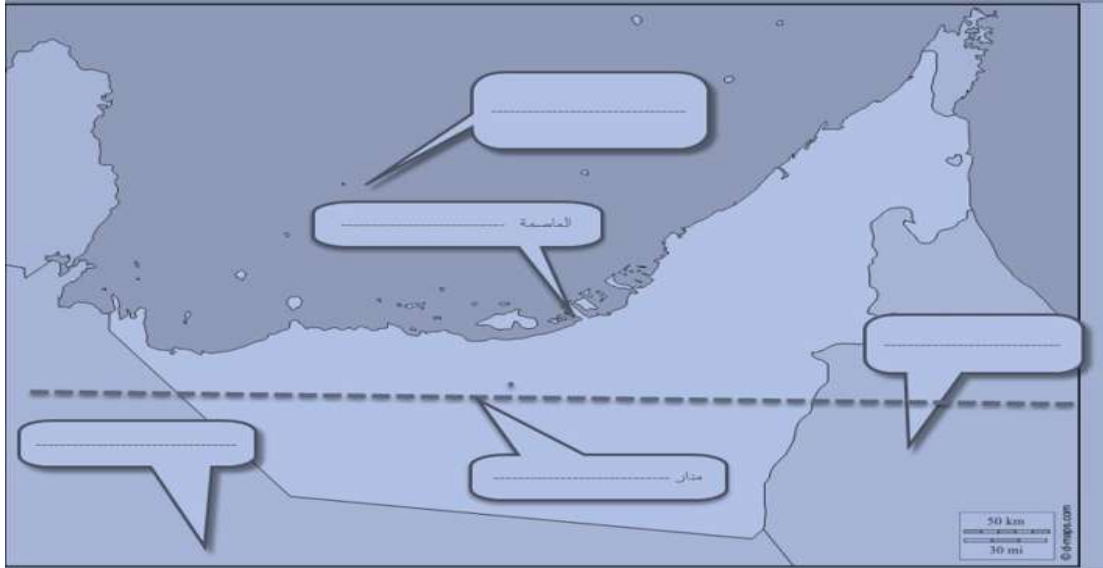
- 1- -----
- 2- -----

س 9 - احسب عدد دوائر العرض التي تمتد عليها دولة الامارات العربية المتحدة , اذا علمت أنها تمتد من الجنوب (22) شمال الاستواء , الى (26.5) شمال الاستواء .

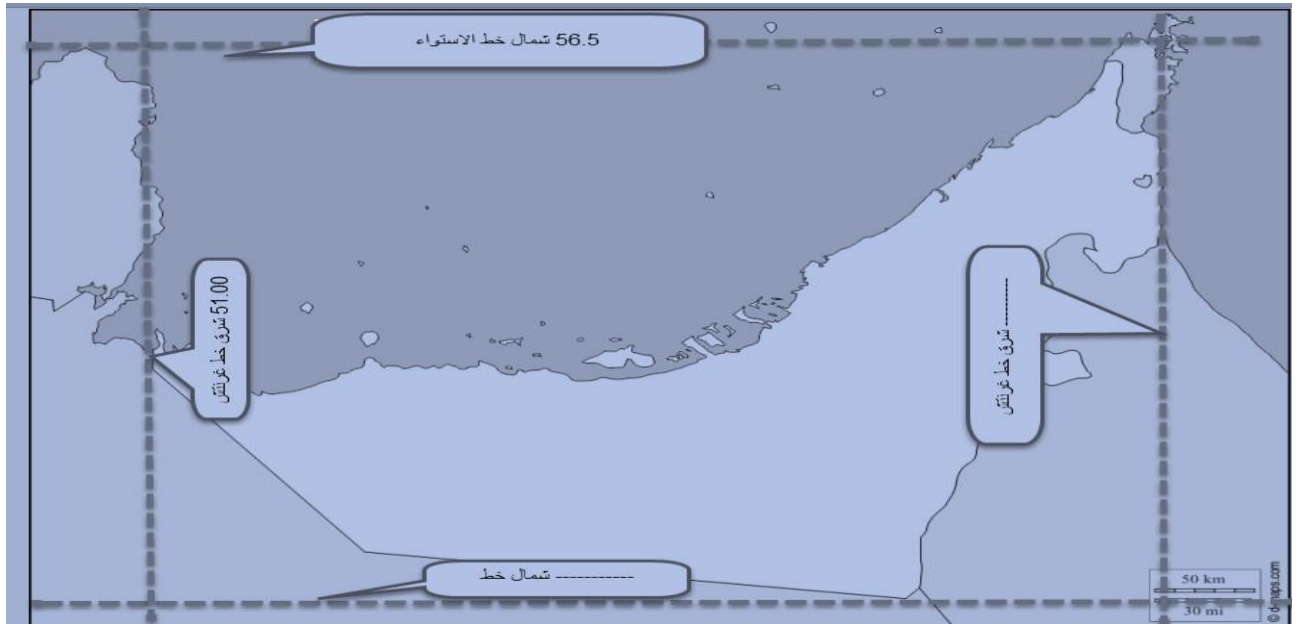
س 10 - احسب عدد خطوط الطول التي تمتد عليها دولة الامارات العربية المتحدة , اذا علمت أنها تمتد من الغرب (51) شرق خط غرنتش , الى (56.5) شرق غرنتش .

خليل ابراهيم الشواخ 0544844643

س 11 : ضع المسميات على الخريطة الآتية :



س 12 : ضع الارقام التي تمتد عليها دولة الامارات العربية المتحدة



خليل ابراهيم الشواخ 0544844643

س 13 : املأ الفراغات الآتية بالكلمات المناسبة :

1- تقع الدول العربية في قارتي اسيا و -----

2- تشرف دولة الامارات العربية المتحدة من الشمال على الخليج -----

3- استيراد السلع وإعادة تصديرها , يطلق عليه بتجارة ----- , أي تجارة العبور عبر الدول

4- من أهم الحضارات في دولة الامارات العربية المتحدة , حضارة ----- في ابو ظبي , وحضارة ماجان و ----- في الشارقة .

س 14 : كون حقائق من خلال أهمية الموقع الجغرافي لدولة الامارات العربية المتحدة :

- حقيقة جغرافية : -----

- حقيقة اقتصادية : -----

- حقيقة تاريخية : -----

س 15 : برهن أو هات دليل واحد على كل مما يلي :

-----	الامارات مهمة استراتيجياً
-----	الامارات مهمة اقتصادياً
-----	الامارات مهمة تاريخياً

س 16 : فسر مايلي :

1- الخليج : -----

2- الحدود السياسية : -----

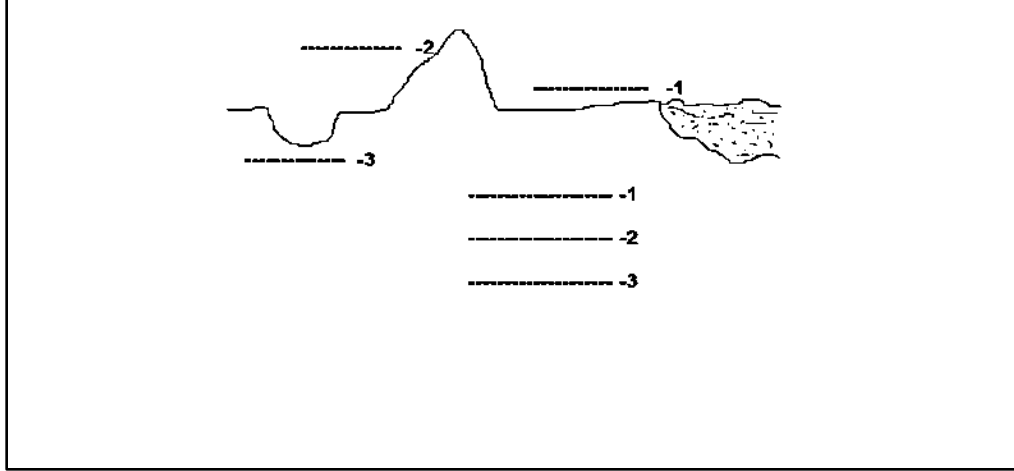
3- الحضارة : -----

4- شبه الجزيرة العربية : -----

ورقة عمل 2

عنوان الدرس موقع بلادي من ص 36 الى 47

س 1 : سم أشكال التضاريس الآتية :



س 2 - فسر مايلي :

- أ- الجبال :
- ب- الوادي :
- ج- السهول :

س 3- اذكر 3 فوائد للجبال في دولة الامارات العربية المتحدة

- 1-
- 2-
- 3-

س 4 : املأ الفراغات بالكلمات المناسبة

- أ- تقسم الجبال في الامارات العربية المتحدة الى قسمين , قسم شمالي وقسم
- ب- من أعلى الجبال في الامارات العربية المتحدة , جبل في رأس الخيمة
- ج- من أعلى الجبال في مدينة العين , جبل
- د- من أهم الأودية في الامارات العربية المتحدة , وادي السيجي ووادي

س 5 : تقسم السهول في دولة الإمارات العربية المتحدة الى قسمين :

السهول	
أ- سهول -----	ب- سهول -----





س 6 : قارن بين السهول الساحلية في دولة الإمارات العربية المتحدة :

السهول الساحلية الغربية	السهول الساحلية الشرقية	
من الشرق للغرب - يطل على -----	من الشمال للجنوب - يطل على بحر عمان	الامتداد
واسع - -----	ضيق - -----	الصفات
ابو ظبي - دبي - عجمان - ام القيوين راس الخيمة	خور فكان -----	المدن


س 7 : اذكر اثنين من الظواهر الطبيعية المرتبطة بالسواحل :

(الجزر - -----)

س 8 : حلل الصور واستنتج الاهمية الاقتصادية للسهول الساحلية :

	
-----	-----
	
-----	-----

س 8 : حلل الصور واستنتج الامة الاقتصادية للسهول الساحلية :



س 9 : اذكر أهم السهول الداخلية في دولة الامارات العربية المتحدة

- أ - -----
- ب - -----

انتهى الدرس الثالث