


أولاً: اقرأ الفقرة الآتية وقارن بين الشكل رقم (1) والشكل رقم (2)، ثم أجب:

33

تعيش جميع الكائنات الحية على كوكب الأرض، الذي يتكون من الهابس والماء. يدور كوكب الأرض حول نفسه بلا توقف، وينتج عن دورانه تعاقب الليل والنهار الذي يسمى "اليوم"، ولكوكب الأرض حركة سنوية ينتج عنها حدوث الفصول الأربعة.



لكلمات التي بين القوسين في المكان المناسب من العبارات الآتية:
 (الربيع - الشمس - النهار - الليل - اليوم)

..... الوقت في الشكل (2)

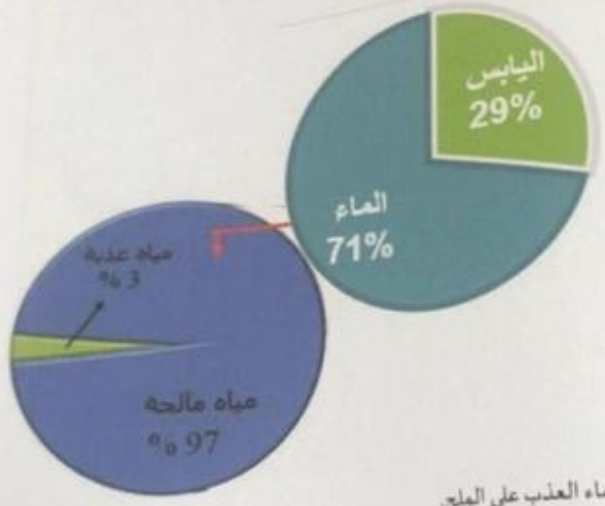
..... هو في الشكل (1)

..... في الشكل (1) لانتشار فصل

..... يل والنهار

..... في وقت



♦ لاحظ الأشكال الآتية. ثم ضع إشارة (✓) أمام العبارة الصحيحة وإشارة (✗) أمام العبارة غير الصحيحة في كل مما يلي:



6. () يحتوي الماء العذب على الملح.
7. () نسبة المياه المالحة أكبر من المياه العذبة.
8. () يغطي الغلاف المائي 71% من سطح الأرض.
9. () البحار من أقسام المياه العذبة.
10. () جميع الكائنات الحية تحتاج إلى المياه.
11. اكتب فيما يلي عبارة توضح دورك في المحافظة على المياه.

♦ ارسم شكلاً بسيطاً يوضح المطلوب في كل مما يلي:
26. عمل الأجداد بمهنة الصيد للحصول على:

27. تحصيل على الخوص من:



♦ اكتب الحرف عند الكلمات الآتية في المربع المناسب من الأشكال التي توضح إنجازات بلادي الإمارات:

أ. المدرسة ب. الفضاء ج. إكسبو 2020 د. برج خليفة



30. إنجازات اقتصادية وسياحية



29. إنجازات عمرانية



28. مسار الأمل



31. إنجازات تعليمية

♦ عبر عن رأيك في المواقف الآتية، بكتابة كلمة (نعم) أو (لا) في المكان المناسب لكل منها:

.....	32. أقدر جهود أجدادنا واحترم المهن التي عملوا بها.
.....	33. أترك المصباح مضاءً في حجرتي عندما أنام ليلاً.
.....	34. أردد النشيد الوطني بحماس عند تحية العلم كل يوم.



انتهت الأسئلة، دعواتنا لكم بالتوفيق والنجاح

39

تتبعاً إلى خريطة دولة الإمارات العربية المتحدة الآتية، أجب:

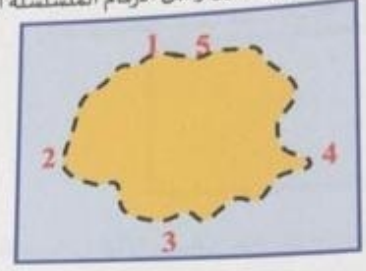
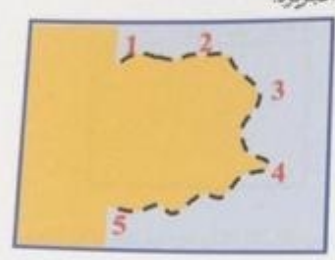


- 12. ارفع دائرة حول: اسم عاصمة دولة الإمارات العربية المتحدة
- 13. اسم الإمارة التي تطل على بحر عُمان
- 14. اعمد بقل عند المدن على السواحل الشرقية لدولة الإمارات العربية المتحدة؟

اختر الإجابة الصحيحة لكل عبارة مما يلي، وضع تحجباً خطأ:

- 15. تشرف دولة الإمارات العربية المتحدة من جهة الشمال على:
 - د. بحر عُمان
 - د. الخليج العربي
 - د. البحر الأحمر
- 16. يجاور دولة الإمارات العربية المتحدة دول عربية منها:
 - د. السعودية
 - د. الكويت
 - د. البحرين
- 17. أكثر أشكال التضاريس انتشاراً في دولة الإمارات:
 - د. السهول
 - د. الجبال
 - د. الصحراء
- 18. اجتمع الشيخ زايد آل نهيان والشيخ راشد آل مكتوم -رحمهما الله- لتأسيس الاتحاد في:
 - د. العين
 - د. عروق المسيرة
 - د. دبي
- 19. يشار إلى الجبال على الخريطة باللون:
 - د. البني
 - د. الأخضر
 - د. الأصفر

20. لاحظ الشكلين الآتيين وصل الأرقام المتسلسلة التي تميز الجزيرة:



21. استعن بخريطة دولة الإمارات العربية المتحدة واكتب فيما يلي اسم إحدى الجزر الإماراتية.

22. رتب الحروف الملونة في الجدول الآتي لتستكمل كتابة اسم المناسبة الوطنية التي تحتفل بها دولة الإمارات العربية المتحدة كل عام في يوم 30 نوفمبر.

ي م ل ي ي

ل	و	ح	ش	ط	ن
ي	ع	ا	ي	ز	د
ف	هـ	خ	ب	م	ص

34

ثالثاً: لاحظ الأشكال الآتية، ثم أجب:

◆ اكتب كلمة (الرجل أو المرأة) في المكان المناسب للأشكال الآتية لتوضح المهنة التي عمل بها

أجدادنا في الماضي:



صناعة النسيج



الصيد



صناعة الخوص

..... 25

..... 24

..... 23