

الاسم : الشعبة ()

1 : أقرأ خريطة الحضارات القديمة أمامك اكتب أسماء بعض الحضارات



----- 1 ----- 2 ----- 3

----- 4 ----- 5 ----- 6

2 - فسرمفهوم الحضارة :-----



3: أقرأ الصور التي أمامك و عدد عوامل نشوء الحضارات



----- 1

----- 2

----- 3

----- 4

4- دون المنجزات الحضارية التي تحققت في عهد الباني المؤسس



- 1
- 2
- 3

5- أكمل بيانات الجدول الآتي:

الرمز	المفهوم
	قبل الميلاد
ق - هـ	
هـ	
	ميلادي

6- عدد ثلاثاً من وسائل الاتصال بين الحضارات



- 1
- 2
- 3

7- قارن بين حضارة مصر القديمة وحضارة بلاد الرافدين وفق الجدول الآتي

حضارة بلاد الرافدين	حضارة مصر القديمة	أوجه المقارنة
		القارة التي ظهرت بها الحضارة
		أهم الأتهار

8- من أسباب هجرة الشعوب العربية القديمة من شبه الجزيرة العربية تجاه الشمال



- 1
- 2

9- فسر اعتبار اختراع الإنسان الكتابة نهاية العصور ما قبل التاريخ وبداية العصور التاريخية



10 – فسر المقصود بالثورة الزراعية



11- عدد ثلاثة من مراحل الثورة الزراعية في أوروبا



1-----1


2-----2

3-----3

12- استنتج أهمية تطوير القطاع الزراعي في دولة الإمارات العربية المتحدة



13 – أكتب أسباب ظهور الثورة الصناعية في إنجلترا



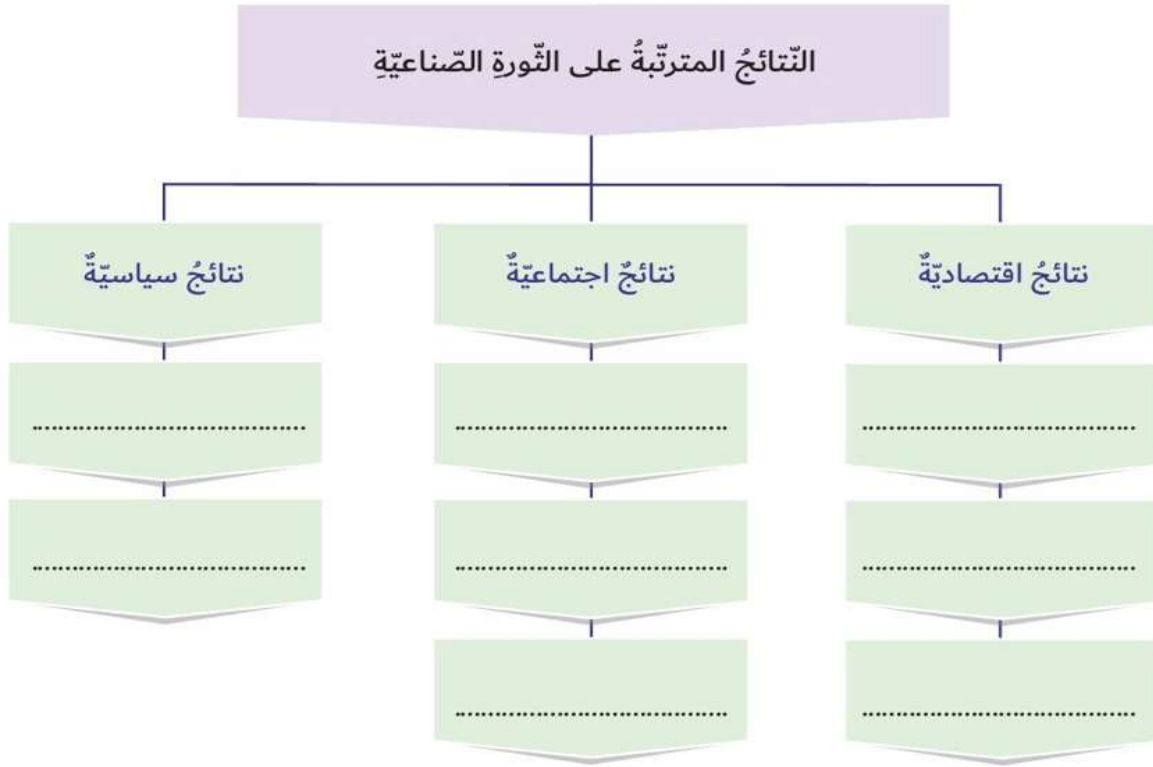
1-----1

2-----2

3-----3

14- صنف نتائج الثورة الصناعية وفق المخطط الآتي :

ازدهار التجارة واتساعها - تحسين طرق المواصلات - الاستغناء عن الأيدي العاملة - انتشار البطالة في بداية عهد التصنيع - سوء الأحوال المعيشية للعمال - إنشاء المصارف - ظهور أحزاب تدافع عن العمال - الهجرة من الريف إلى المدن - زيادة حدة التنافس الاستعماري.



← أشكال الثورة المعلوماتية:

- الشبكة المعلوماتية (الإنترنت):



- البريد الإلكتروني:



- التجارة الإلكترونية:



- الحكومة الإلكترونية:



15- عدد أهمية الثورة المعلوماتية

1-

2-

3-

أكتب الآثار الإيجابية للثورة المعلوماتية

1-

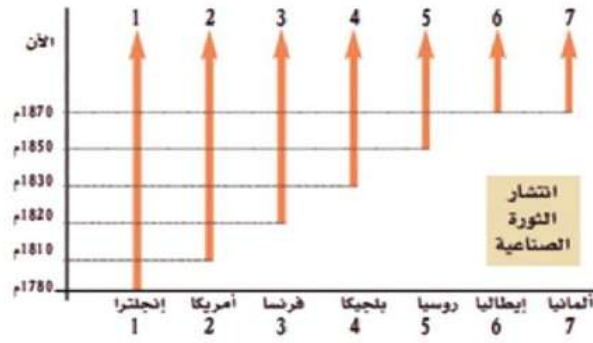
2-

أكتب الآثار السلبية للثورة المعلوماتية

1-

2-

16 - احلل الخريطة والمنظم البياني ثم استكمل بيانات الجدول الذي يليه



م	المهمّة	الإجابة
1	أسمي الدولة التي ظهرت فيها الثورة الصناعية قبل غيرها من الدول.
2	أحدّد الدولة غير الأوروبية السّابقة في ميدان الثورة الصناعية.
3	أفسرُ التّباعّد الزمنيّ بين انطلاق الثورة الصناعية بين الدول الأوروبية.

17- أقرن بين الثورة الزراعية والثورة الصناعية حسب الجدول الآتي :

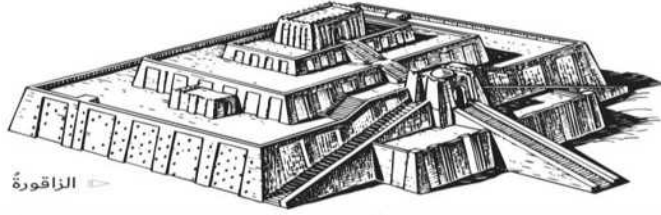
وجه المقارنة	الثورة الزراعيّة	الثورة الصناعيّة
الزّمن
المكان
التأثير في حياة الإنسان



تمثال أورنامو

18- عدد ثلاثاً من إنجازات أورنامو

- 1-
- 2-
- 3-



الزاقورة

19 ما هو تعريف الزاقورة

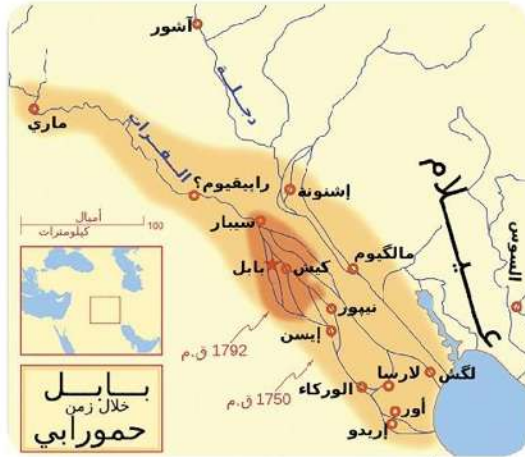
-
-
-

20- من إنجازات حمورابي

- 1-
- 2-
- 3-



حمورابي



خريطة بابل في زمن حمورابي

21- متى حصل العالم المصري أحمد زويل على جائزة نوبل

أكتب اثنين من إنجازاته

- 1-
- 2-



أحمد زويل

22- اختر الكلمة الصحيحة لأكمل الجمل الآتية :

1. أعظم ملوك الحضارة السومرية
- حمورابي - أختاتون - أورنامو
2. الزاقورة عبارة عن
- مواصلات - معبد - نقود
3. سجّل حمورابي قوانينه على
- مسلة من حجر الديورايت - ورق البردي - حجر صوّان



23- فسر مفهوم المواطنة الإيجابية



24- عدد مكونات المواطنة الإيجابية

-----1
 -----2
 -----3
 -----4

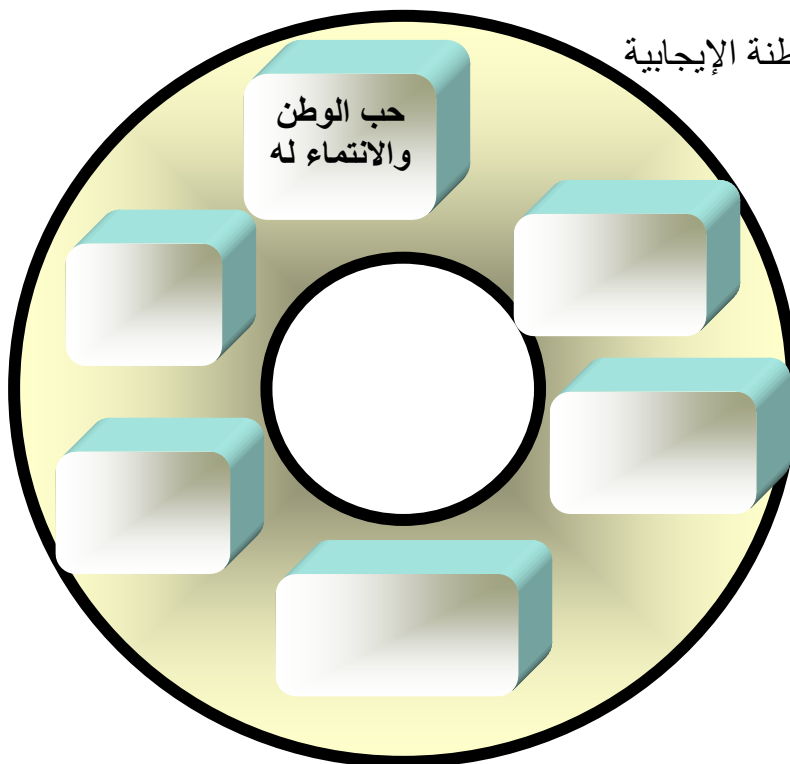
واجبات المواطن

25 أكمل المخطط الذهني عن

واجبات تطوعية وهي

واجبات إلزامية

26- أكمل مقومات المواطنة الإيجابية



شعارُ عام الخيرِ 2017:

اعتمدَ صاحبُ السَّمَوِّ الشَّيْخُ مُحَمَّدُ بْنُ رَاشِدِ آلِ مَكْتومٍ -رِعاةُ اللَّهِ - الشَّعارَ الرَّسْمِيَّ لـ «عام الخيرِ 2017» لتستخدَمَهُ الجِهاثُ المَحَلِّيَّةُ والحُكوميَّةُ والإعلاميَّةُ في جميعِ الحَمَلاتِ والبرامجِ والمبادراتِ الخاصَّةِ بعامِ الخيرِ خلالَ عامِ 2017 وشكَّلتُ كلمةُ «الخيرِ» مرَكانَ الشَّعارِ، حيثُ صُمِّمَ حرفُ «الرَّاءِ» فيها على هيئَةِ سَعفَةِ شجرةِ نَخيلٍ كرمِزٍ لعامِ الخيرِ لتأكيِدِ قيمةِ هذهِ الشَّجرةِ المباركةِ الَّتِي احتَلَّتِ النخلةُ مكانةً خاصَّةً في قلبِ رائِدِ الخيرِ المَغفورِ لهُ الشَّيخِ زَيدِ بنِ سلطانِ آلِ نَهيانٍ «طَيَّبَ اللَّهُ ثَراءَهُ» حيثُ اهتمَّ بها رَحمةُ اللَّهِ اهِتمامًا كَبيرًا، وعَمِلَ على زِراعةِ المِلايينِ من أشجارِ النخيلِ في واحاتِ الدَّولةِ ومدنِها وصحاريها، حتَّى أنَّ دَولةَ الإماراتِ سجَّلتْ رقماً عالميًّا خلالَ عامِ 2009 بوجودِ أكبرِ عددٍ من أشجارِ النَّخيلِ فيها على مستوى العالمِ بالنَّسبةِ لمساحتِها.



→ أفَسِّرُ الآتي:

1. تصمِيمُ حرفِ الرَّاءِ في الشَّعارِ على هيئَةِ سَعفَةِ شجرةِ نَخيلٍ.

2. اِختيارُ سَبْعِ وُرقِقاتٍ في السَّعفَةِ على كِلا الجانبينِ.

3. اِختيارُ اللَّونِ الأصْفَرِ المائِلِ لِلذَّهَبِيِّ لِلسَّعفَةِ.

→ أتأمَلُ تصمِيمَ الشَّعارِ المَبْتكَرِ الَّذِي يَعمُكُشُ دِلالَتِ عامِ الخيرِ 2017م، ثمَّ أَجيبُ:

تضمَّنَ الشَّعارُ إضافَةً لعامِ 2017 محاورَ ثلاثَةَ هي:

الأول:

الثاني:

الثالث:

28- ماهي محاور عام الخير 2017

3

2

1

29- ما المقصود بكل من

عام الخير -----
التنوع -----

30- فسر مفهوم العمل الإنساني



31- اختر الكلمة الصحيحة لأكمل الجمل الآتية :

1. يحتفلُ العالمُ بيومِ العملِ الإنسانيِّ في من كلِّ عامٍ.
 - 19 يونيو - - 19 يوليو - 19 أغسطس
2. استشهدَ (شهداءُ العملِ الإنسانيِّ) في
 - طاجكستان - أفغانستان - باكستان
3. يصادفُ ذكرى يومِ زايدٍ للعملِ الإنسانيِّ من كلِّ عامٍ.
 - 19 رمضان - 20 رمضان - 17 رمضان

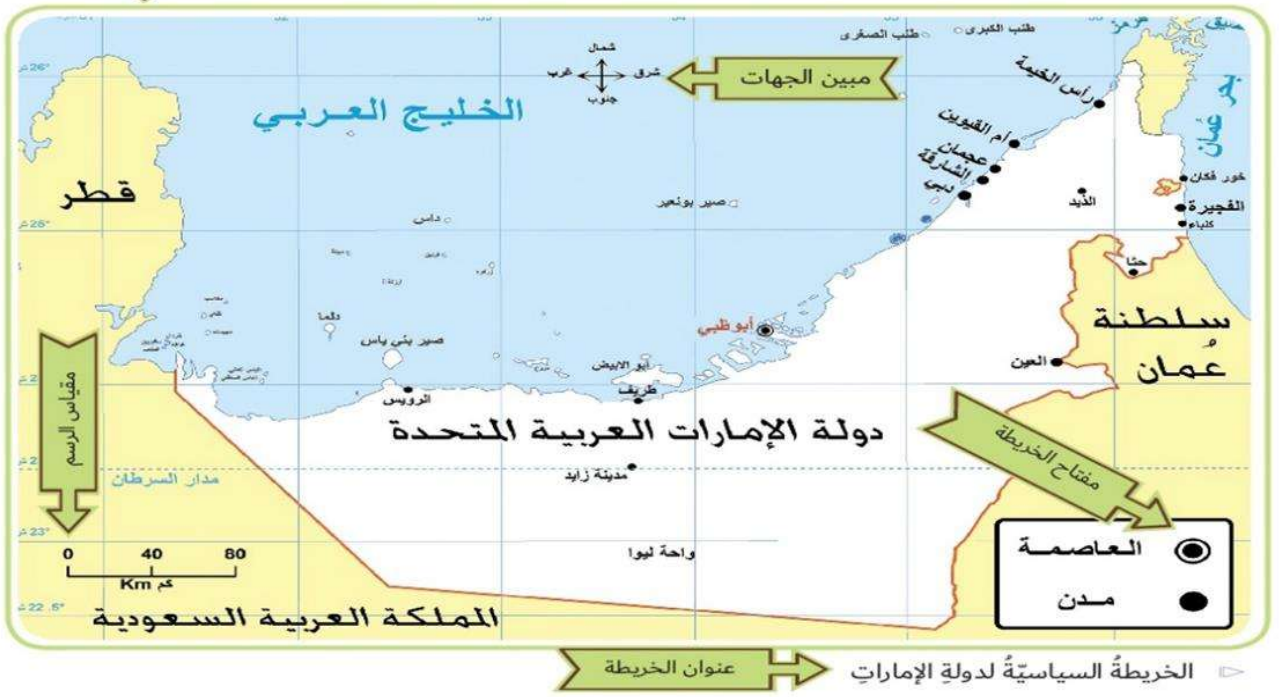
32- ماتعريف الخريطة :



33- قارن بين الخريطة الطبيعية والخريطة البشرية من حيث المفهوم



34- من خلال الخريطة أمامك حدد عناصر الخريطة



-----1-----2-----3-----4-----5-----

35- أقرن بين خطوط الطول ودوائر العرض وفق معطيات الجدول الآتي :

وجه المقارنة	خطوط الطول	دوائر العرض
المفهوم	-----	-----
العدد	-----	-----
الأهمية	-----	-----

36 أكمل العبارات التالية بما يناسب :

- العلم الذي يدرس العلاقات بين الإنسان وبيئته، وما ينتج عنها من قضايا ومشكلات هو
- تعدُّ خرائط المناخ من أنواع الخرائط
- من عناصر الخريطة، ويضمُّ المصطلحات والرموز المستخدمة هو
- ينطبق خطا طول 180 شرقًا وغربًا ليكونا خطًا واحدًا، يعرف باسم
- تستخدم دوائر العرض في تعيين

37- أوضح الفرق بين الأطالس العامة والأطالس المتخصصة :



38- أسجل أهمية الموسوعات :

39- كيف تسهم الدراسة الميدانية في تعرف الظواهر الطبيعية والبشرية

→ مهمّة أدائية (أستكشفُ العالَمَ مِنْ حولي)

لنستكشفَ معًا مهمّات فريقِ الدّراسةِ الميدانيّةِ من خلالِ قيامنا بدراسةٍ ميدانيّةٍ لإحدى الظّواهرِ الآتية:

- الازدحامُ المروريُّ .
- تلوثُ البيئةِ البرّيّةِ أو البحريّةِ.
- الحياةُ النباتيّةُ أو الحيوانيّةُ في مدينتك.
- تأثيرُ التّطوّرِ الاجتماعيِّ على السّنعِ الإماراتيّ

→ قم بتحديد المهامّ التي قمتَ بها مع فريق عملك ودوّنّها في الجدولِ التّالي:

المهمّةُ	الأعضاءُ
.....
.....
.....
.....

إعداد : سامي محمد