

الصف: الأول

المدة: الطوم
عدد صفحات الأسئلة: (7)

امتحان نهاية الفصل الدراسي الأول
للعام الدراسي 2018 / 2019 م

السؤال الأول

60

لصق دائرة حول الإجابة الصحيحة.

1- كائن حي.



2- لونه أحمر.



3- طويل.



- يحظر تصوير أو تداول الورقة الامتحانية قبل أو بعد الامتحان من خلال البريد الإلكتروني أو وسائل التواصل الاجتماعي أو أي وسيلة أخرى ومن يخالف ذلك سيعقد في حقه الإجراءات القانونية المتبعة.
- على إدارات المدارس والمدان الامتحانات ومراكز التقدير بمرحلة ذلك وجميع المحافظات واتخاذ الإجراءات اللازمة



4- يحتاج إليه النبات ليعيش وينمو.



عصير



ماء



حليب

5- ورقة نبات.



6- تؤكل جنوره.



7- يمتص الماء من التربة.



يحذر تصوير أو تداول الورقة الامتحانية قبل أو أثناء أو بعد الامتحان من خلال البريد الالكتروني أو وسائل التواصل الاجتماعي أو أي وسيلة أخرى
وهن بخالف ذلك سينفذ في حقهم الإجراءات القانونية المتبعة
على إدارات المدارس وبنجان الامتحانات ومراكز التقدير مراعاة ذلك، وبعد المشككات، والتلا الإجراءات اللازمة



8 - ليست ثمرة.



9 - جزء النبات الذي ينتج البذور.



10 - من الطيور.



11 - لها خياشيم.



- ينظر لتصور أو تحليل الورقة الامتحانية قبل أو أثناء أو بعد الامتحان من خلال البريد الإلكتروني أو وسائل التواصل الاجتماعي أو أي وسيلة أخرى
ومن يخالف ذلك سيعقد في هذه الإجابات القانونية المتبعة
على إدرات المدارس ولجان الامتحانات ومراكز التقدير مراعاة ذلك، ورمد المخالفات، واتخاذ الإجراءات اللازمة

12 - أكل لحوم.



13 - من الزواحف.



14 - ليس من الحشرات.



15 - نباتات قطبية.



16 - له أنياب حادة.




17 - ثولد (لا تخرج من البيض).



18 - تنقل بذور النباتات.



19 - جذع شجرة.



يظهر تصوير أو تداول الوثيقة الإلكترونية قبل أو أثناء أو بعد الامتحان عن خلال البريد الإلكتروني أو وسائل التواصل الاجتماعي أو أي وسيلة أخرى
وهي مخالفة ذلك سيؤدي في حقها الجزاءات القانونية المتبعة
على إجازات المدارس وخلال الامتحانات ومراكز التقدير مراعاة ذلك وحصد المتاحات واتخاذ الإجراءات اللازمة



- له ماوى في جذع شجرة.





السؤال الثاني

40

أولاً : 21 - ضع الكلمات التالية في الفراغات في الجدول.

(ريش - الماء - زعانف - أعشاش - قشور - جناحان)

	الطيور		الأسماك
<ul style="list-style-type: none"> - تعيش في - لها - يساعدها في الطيران - يغطي جسمها 		<ul style="list-style-type: none"> - تعيش في - لها - تساعدها في السباحة - يغطي جسمها 	

ثانياً : 22 - صل بخط بين الحيوان ونوعه.

الزواحف

الحشرات

الثدييات

الطيور

البرمائيات



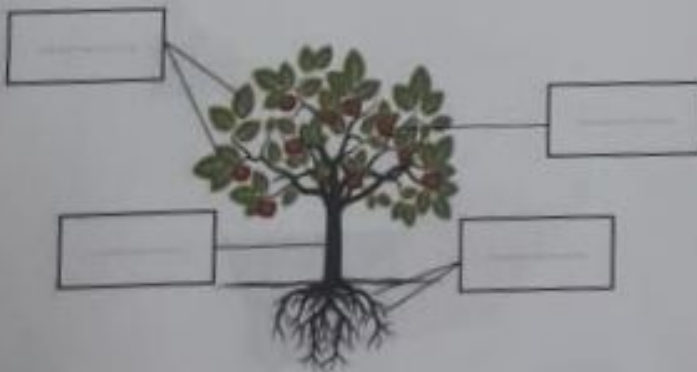
- يحظر تصوير أو تداول الورقة الامتحانية قبل أو أثناء أو بعد الامتحان من خلال البريد الإلكتروني أو وسائل التواصل الاجتماعي أو أي وسيلة أخرى ومن يخالف ذلك سيبعد في دفع الجزاءات القانونية المتبعة
- على إدارات المدارس وبلدان الامتحانات ومراكز التقييم مراعاة ذلك وحرص المضافات والتأكد من الجزاءات المترتبة

23 - رتب الصور التالية بتسلسل من 1 إلى 3 حسب دورة حياة الثعلب.



24 - اكتب اسم جزء النبات مما يأتي في المكان المناسب في الشكل.

(الجذور - الثمرة - الساق - الأوراق)



انتهت الأسئلة ...

- يحظر تصوير أو تداول الورقة الامتحانية قبل أو أثناء أو بعد الامتحان من خلال البريد الإلكتروني أو وسائل التواصل الاجتماعي أو أي وسيلة أخرى ومن يخالف ذلك سيجذب في حقه الجزاءات القانونية المتبعة
- على إدارات المدارس ولجان الامتحانات ومراكز للتقدير مراعاة ذلك وعدم المخالفات، والتخيل الجزاءات اللازمة