

الوحدة الأولى: كوكب الأرض

القارات والمحيطات

موقع بلادي.

السؤال الأول: أكمل الجمل الآتية بالكلمات المناسبة.

الكرة الأرضية - الفضاء - اليابسة - الماء - تعاقب - النهار - الشمس
- القمر - الليل - الحركة السنوية - الفصول الأربعة - الربيع - الصيف
- الخريف - الشتاء.

1- أنتم جميعاً تعيشون على سطحي، وشكلي الأصلي يشبه الكرة
لذلك سميت ب

2- يتكون سطح الأرض من

3- هو المكان الذي توجد فيه الأرض
والشمس والقمر.

4- أنا وعمرى 12 ساعة ويأتى معى وقت النوم
والراحة.

5- ينتج عن دوران الأرض حول نفسها الليل
والنهار.

6- اذهب الى المدرسة في وقت

7- عندما تدور الأرض حول الشمس تنتج

8- انا انير الأرض ليلا

تسمى عملية دوران الأرض حول الشمس 9-

ب.....

10- انا أشكل المصدر الرئيس للحرارة.

11- فصول السنة أربعة وهي

و.....

و.....

و.....

أظمة الوطن



من أنا؟

البحار - المحيطات
- الخليج
المضيق - دائري
- الأزرق
الكائنات الحية

شكلي

لون الماء هو اللون

تعيش على سطحي

المسطحات المائية على سطحي متنوعة منها

..... و..... و.....



حدد على الخريطة موقع: المملكة العربية
السعودية - الخليج العربي - سلطنة عمان

اختر الإجابة الصحيحة من بين الإجابات الآتية لكل جملة:

هو مسطح مائي كبير جدا من الماء المالح:

- البحر المحيط الخليج

هو مسطح مائي تحيط به اليابسة من ثلاث جهات:

- الخليج النهر الجزيرة

المخلوقات التي تعيش في البحار والمحيطات

- الأسماك والكائنات الحية الانسان الإبل

وسيلة النقل في البحار والمحيطات هي:

- السيارات الدراجة السفن والقوارب

هي مسطحات مائية أصغر من المحيطات

- البحار القطب الجنوبي البئر

أعلى قمة في العالم توجد في قارة آسيا هل هي:

- جبل جيس إفرست الجبل الأخضر

تعتبر أمريكا الجنوبية رابع قارة من حيث المساحة ويعيش عليها حيوان

- اللاما البومة البطريق

عدد القارات في العالم هو:

- 4 5 7

القارة الباردة التي لا توجد بها سكان هي:

- آسيا القطبية الجنوبية أوروبا

ضع علامة صح ✓ أمام العبارة الصحيحة وعلامة X أما العبارة الخاطئة.

- يسمى القسم الذي يغطيه الماء على سطح الأرض بالغللاف المائي ().
- تمثل اليابسة حوالي 71% من مساحة الكرة الأرضية ().
- المياه المالحة تمثل حوالي 97% من الغلاف المائي ().
- الماء العذب هو الماء الذي لا يحتوي على ملح ().
- الأنهار والبحيرات والبرك تعتبر من المياه العذبة ().
- الموقع الجغرافي هو موقع المكان على سطح الأرض ().
- تقع دولة الامارات العربية المتحدة في قلب الوطن العربي ().
- على امتداد الخليج العربي تقع دولة الامارات في الجهة الشرقية منه ().
- تعتبر المملكة العربية السعودية وسلطنة عمان من الدول المجاورة لدولة الامارات ().
- المحيط هو مسطح كبير جدا من الماء المالح وعددها خمس محيطات ().
- المضيق هو ممر ضيق مائي يصل بين مسطحين مائيين كبيرين ().
- إفرست هي أعلى قمة في العالم ().
- عدد قارات العالم هي 5 قارات ().
- العرقوب هو تل مرتفع من الرمال يقع بالصحراء ().
- أول شهيد في دولة الامارات العربية المتحدة هو سالم سهيل ().

أكتب المسميات الآتية في أماكنها الصحيحة .

قارة آسيا - قارة أوروبا - قارة استراليا - قارة أمريكا الشمالية



يتكون سطح الأرض من يابسة وماء ويسمى القسم الذي تغطيه المياه الغلاف المائي والقسم الذي تغطيه اليابسة الغلاف الأرضي .

تغطي المياه القسم الأكبر من سطح الأرض ، وتوجد على شكل محيطات وبحار وخلجان وأنهار وبحيرات .

تمثل اليابسة حوالي 29% من مساحة الكرة الأرضية وتوجد على شكل قارات .

من خلال قرائتك للفقرة السابقة أجب على التالي :

ماهي مساحة اليابسة على الكرة الأرضية ؟

.....

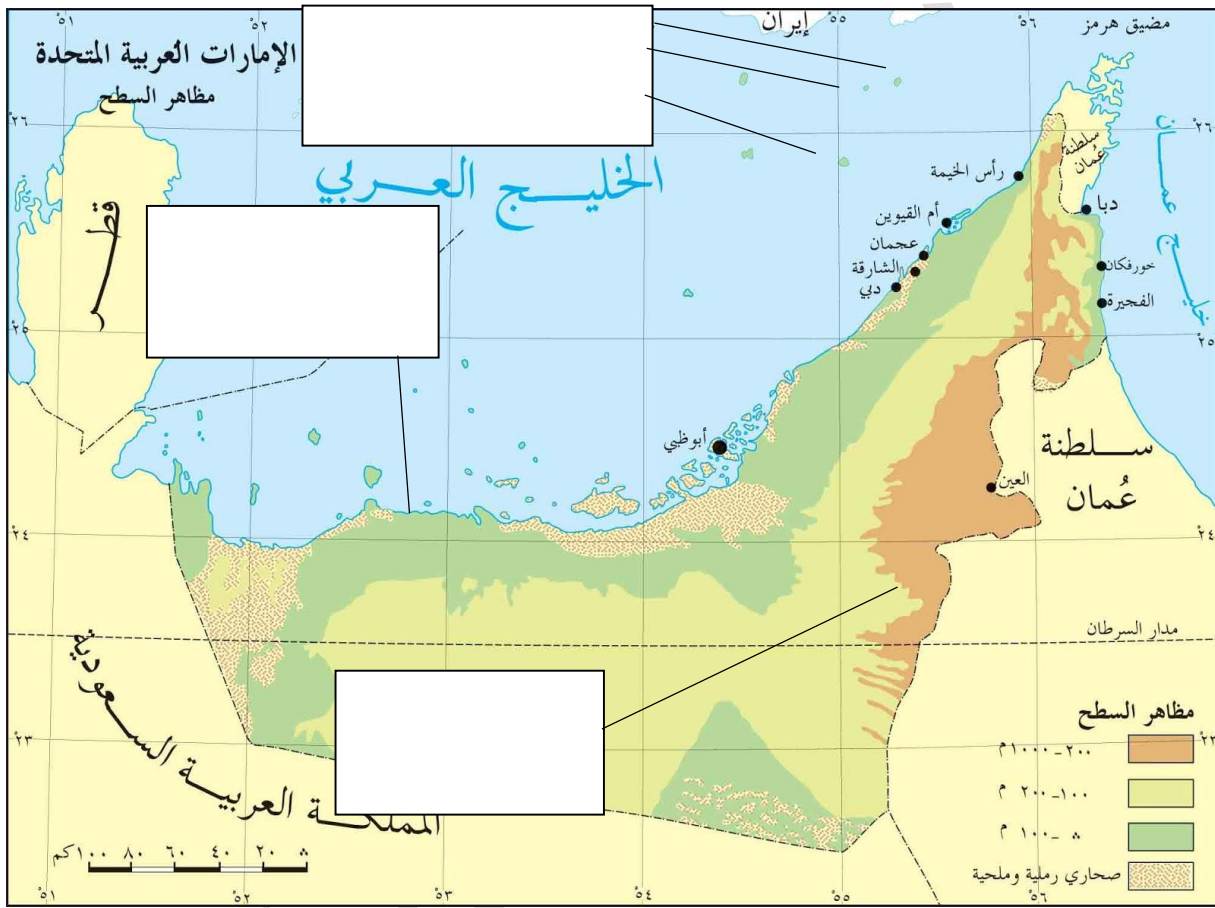
ماهي النسبة الباقية من السطح الكرة الأرضية ؟

.....

ارسم الكرة الأرضية موضحا موضحا عليها النسبة المئوية لليابسة والماء

حدد على خريطة دولة الامارات

السهول الساحلية — الجبال — وجزيرة الطنب الكبرى والطنب الصغرى وجزيرة أبو موسى .



صل بين الكلمات والصورة المناسبة لها :

الخص



الكاجوة



الرحى



المهفة




حوط على الصورة التي تدل على الإجابة الصحيحة:

كان التعليم في دولة الامارات في الماضي يعتمد على:




المطوعة



الحاسوب

المواد الدراسية التي كانت تدرس في الكتاتيب قبل الاتحاد هي:



اللغة الإنجليزية



القرآن الكريم

كانت مهن الأجداد قديما في كسب الرزق تعتمد على:



التسوق
الإلكتروني



الرعي



الزراعة



الغوص
وتجارة اللؤلؤ

ضع الكلمة المناسبة من الكلمات الآتية لكل صورة من الصور التي أمامك
إنجازات العسكرية - إنجازات تعليمية - إنجازات صحية - إنجازات عمرانية



صل بين صورة الحاكم وبين الامارة التي يحكمها

دبي



أبوظبي



عجمان



الشارقة



رأس الخيمة



الفجيرة



أم القيوين



وكل فصل دراسي وأنتم في نفوق ونجاح

معلمتكم :أ.فاطمة موسى الطويل