

16. ما الموطن البيئي البارد والثلجي؟



ج



ب



أ

17. تبدأ معظم السلاسل الغذائية بـ.....



ج



ب



أ

18. ماذا تعمل اوراق النبات الموضحة في الصورة مع الماء؟



ج. ينزلق الماء عنها

ب. تتخلص من الماء الزائد

أ. تخزن الماء

19. ما الصورة التي تمثل الجفاف؟



ج



ب



أ

4. أين تعيش هذه الشجرة؟



ج. في الغابات

ب. في الأماكن الرطبة

أ. في الأماكن الجافة

5. ما الحيوان الذي يعيش في الماء دائماً؟



ج



ب



أ

6. أي صورة لا تتشابه فيها الصفات الوراثية؟



ج



ب



أ

7. أي مما يلي تغذي صغارها الحليب؟



ج



ب



أ

السؤال الأول

60

ضع دائرة على رمز الإجابة الصحيحة لكل مما يلي (أ، ب، ج):

1. ما الصورة التي تدل على الملاحظة؟



ما هو طول؟	
3 cm	
3 mm	
5 cm	
2 cm	



ج

ب

أ

2. أي مما يلي لا يحتاجه النبات لينمو؟



ج

ب

أ

3. ما الجزء الذي يصنع الغذاء للنبات؟



ج

ب

أ

12. تبدأ دورة حياة الطائر بعد الفقس من البيض بـ :



ج



ب



أ

13. ما الحيوان الذي يختبئ داخل القواقع؟



ج



ب



أ

14. من مظاهر التكيف عند الزرافة



ج. الرقبة الطويلة

ب. الخرطوم الطويل

أ. العيون الكبيرة

أي الصور توضح التمويه مع البيئة؟



ج



ب



أ

8. أي مما يلي حشرة؟



ج



ب



أ

9. كيف حافظ هذا الحيوان على سلامته خلال فصل الشتاء؟



ج. انتقل إلى مكان آخر

ب. دخل في السبات

أ. بقي ضمن مجموعات

10. ما الحيوان اللاقاري؟



ج



ب



أ

11. أي مما يلي أحفورة؟



ج



ب



أ



20. لماذا خروفا البحر مهدد بالانقراض؟

ج. كثرة الغذاء

ب. تغير موطنه البيئي

أ. كثرة المياه

السؤال الثاني

40

اقرأ الجمل التالية ثم ضع كلمة (صح) أو (خطأ) بين القوسين

21. () يستخدم العلماء مهارة الاستنتاج لاكتشاف شيء ما .
22. () ليس من المهم أن يضع العلماء خطة .
23. () النباتات تنتج غاز الأوكسجين .
24. () تبدأ معظم البرمائيات حياتها على اليابسة
25. () الطيور يكسوها جلد خشن وحرشفي .

26. صل بخط بين الصورة ومجموعة الحيوانات:



الثدييات

الزواحف


الطيور

البرمائيات

27. انظر إلى الشكل أدناه ، ثم أجب عما يلي :




سمكة القرش



سمكة التونة



فرس البحر








الكريل



العوالق

- هل الشكل (سلسلة غذائية أم شبكة غذائية)؟
- هل الشكل موجود على اليابسة أم الماء؟
- على ماذا يتغذى فرس البحر (الكريل أم سمكة التونة)؟
- ما الحيوانات المفترسة بالشكل؟

28. رتب دورة حياة الضفدع بتسلسل من 1 إلى 5 في المكان المناسب:

				
.....

انتهت الأسئلة