



مراجعة الفصل الدراسي الأول لمادة الدراسات
الاجتماعية والتربية الوطنية للصف السادس

(العام الدراسي 2018 / 2019 م)

اسم الطالب /

الصف /

اعداد أ / محمد سيد أحمد

المجموعة الأولى :- اقرأ النص الآتي ثم أجب :-

يعيش العالم اليوم عصر ثورة جديدة هي "ثورة المعلومات" والتي ترتبط ارتباط وثيق بالتكنولوجيا. تقسم المجتمعات البشرية اليوم على أساس المعرفة ، وفي هذا الجانب فقد اهتمت دولة الإمارات العربية المتحدة بالثورة المعلوماتية من خلال التعامل مع التكنولوجيا وفق رؤية مستقبلية ، وفتح قنوات للمؤسسات الوطنية للتفاعل مع اخر مستجدات التقنية مثل معرض جيتكس. وقد حققت الدولة إنجازات كثيرة في مجال الثورة المعلوماتية مثل تنفيذ مشروع التعلم الالكتروني وإطلاق مبادرة الحكومة الالكترونية ، وإطلاق القمر الصناعي "خليفة سات" كأول قمر صناعي بأيادي إماراتية مئة بالمئة.

1 – ضع عنوانا مناسباً للنص

2 – وضح مظاهر اهتمام الدولة بالثورة المعلوماتية ؟

3 – اكتب اثنين من إنجازات الدولة في مجال الثورة المعلوماتية .

4 – عبر عن شعورك لإطلاق دولتنا القمر الصناعي "خليفة سات" كأول قمر صناعي بأيادي إماراتية .

العطاء الإنساني الذي يتميز به أهل دولة الامارات كان بدايته من زايد –رحمه الله – واستمر ذلك في عهد رائد العمل الإنساني الشيخ خليفة بن زايد –حفظه الله – صاحب اليد البيضاء والقلب الإنساني الكبير المرهف وفي دولة الامارات شخصيات إنسانية متعددة نفخر بها مثل سمو الشيخة فاطمة بنت مبارك –حفظها الله – أم الامارات وأم العطاء وأخي الشيخ حمدان بن زايد ال نهيان وغيرهما كثيرون ، كما أن لدينا في الامارات هيئات خيرية وشخصيات إنسانية قديرة واخرين كثيرين من أصحاب الخير لانعلمهم لكن الله يعلمهم

1- استخلص الفكرة الرئيسية من النص .

2 – استخرج من النص اثنتين من القيم الايجابية .

3 – سجل أبرز الشخصيات الإماراتية التي تميزت وأبدعت في العمل الإنساني

4 – فسر. تزايد العطاء الإنساني الذي يتميز به أهل الامارات

تمتلك القيادة الرشيدة في دولة الإمارات العربية المتحدة رؤية إستراتيجية تجاه الزراعة كمحور في التنمية الشاملة، وتهدف الأجندة الوطنية لرؤية (2021)م إلى تحقيق بيئة مُستدامة من حيث الحفاظ على الموارد المائية، والتربة وتحقيق الاستخدام الأمثل للمياه الجوفية ومياه الأمطار. الاستدامة في دولة الإمارات العربية المتحدة باتت في الزراعة هدفاً واضحاً لدى الجهات المعنية بتطوير هذا القطاع الحيوي وتقليص الفجوة الغذائية، وتحقيق الأمن الغذائي.

1- استخلص الفكرة الرئيسية من النص .

2 - استخرج من النص اثنتين من القيم الايجابية .

3 - أهداف التنمية الشاملة للأجندة الوطنية لرؤية 2021 م في دولة الإمارات العربية المتحدة .

4 - استخرج من النص أهمية تطوير الزراعة .

تعتبر الحضارة السومرية أول حضارة تاريخية، بسبب اختراعها الكتابة ومنجزاتها الحضارية. نشأت في جنوب العراق منذ عام 4500 ق.م وشكلت أساس الحضارات الإنسانية، فقد ازدهرت في كافة نواحي الحياة (الزراعية - التجارية - الصناعية - الهندسة والعمارة - الكيمياء) تمثل مدينة " أور " نشأة الدولة السومرية الحديثة ويعتبر ملكها "أور نامو" أعظم ملك سومري، فقد سن أقدم وأهم شريعة، بالإضافة إلى الإبداعات العمرانية والأدبية .

1 - ضع عنوانا مناسباً للنص

2 - أين نشأت الحضارة السومرية ؟

3 - فسر . تعتبر الحضارة السومرية أول حضارة تاريخية .

4 - وضح أهم الإنجازات التي قام بها الملك "أور نامو" في الدولة السومرية .


المجموعة الثانية (قراءة الخرائط والصور والأشكال)



1 - أعدد أهم الحضارات التي قامت في العالم

2 - اذكر الدولة التي نشأت عليها حضارة بلاد الرافدين

3 - وضح عامل واحدا من عوامل قيام الحضارة



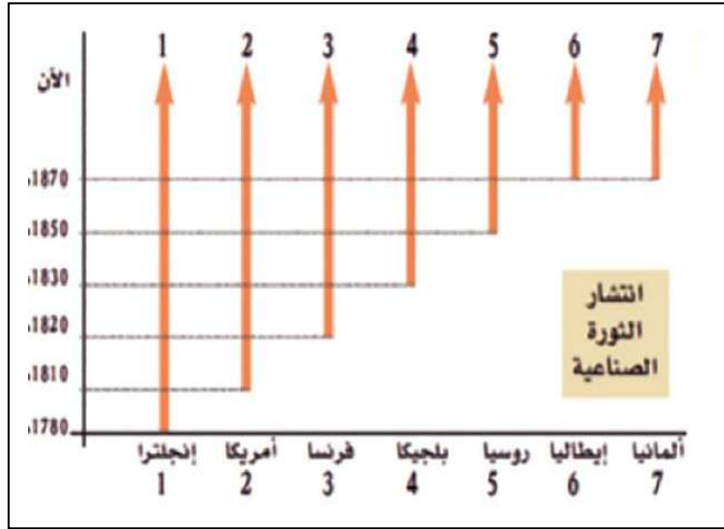
1 - قسم المؤرخون فترة حياة الإنسان على سطح الأرض إلى قسمين هما

2 - من خلال الشكل المقابل اكتب حقيقة تاريخية مناسبة



استنتج أكبر عدد من القيم التي تدل على
المواطنة الإيجابية من خلال الصورة .

1 - أسمى الدول التي ظهرت فيها الثورة الصناعية قبل غيرها من الدول



2 - أحدد الدول الغير أوروبية السباق في ميدان الثورة الصناعية

3 - اكتب سبب من أسباب ظهور الثورة الصناعية في إنجلترا

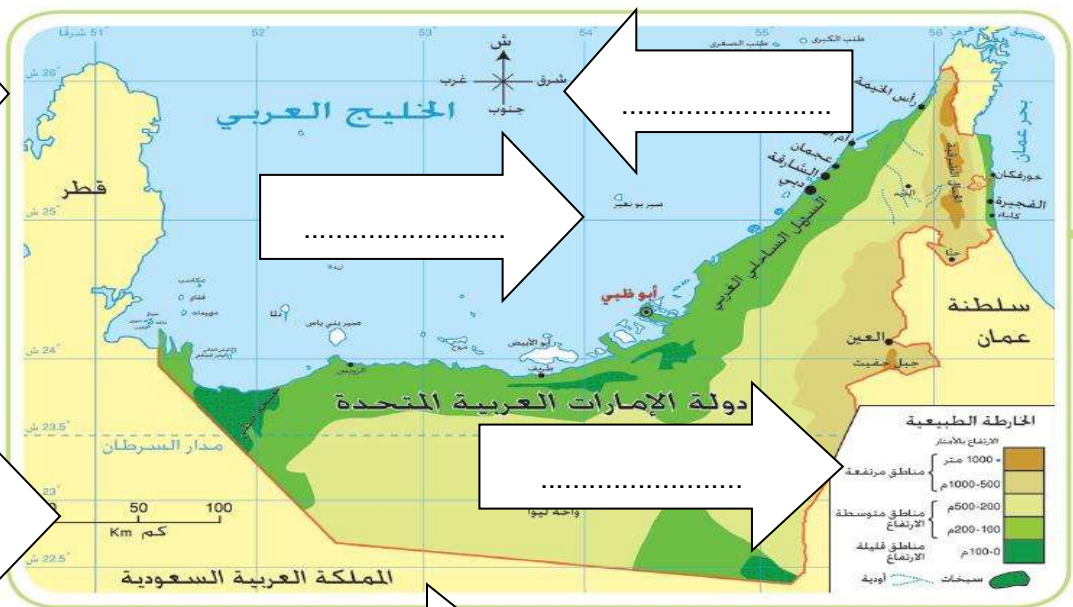
1 - على ما يدل هذا الشعار

2 - اكتب المحاور الثلاث التي تضمنها هذا الشعار

3 - وضح سبب سبع وريقات في السعفة على كلا الجانبين



أمامك خريطة طبيعية لدولة الإمارات العربية المتحدة حدد عليها عناصر الخريطة .



الخريطة الطبيعية لدولة الإمارات العربية المتحدة



المجموعة الثالثة :- اختر الإجابة الصحيحة من بين الأقواس فيما يلي :-

- 1 - العالم العربي الذي أسس علم الاجتماع وتحدث عن تطور الحضارات هو
(ابن رشد - ابن خلدون - ابن كثير - الخوارزمي)
- 2 - يقع متحف ساروق الحديد في إمارة
(أبو ظبي - الشارقة - عجمان - دبي)
- 3 - ظهرت حضارة مصر القديمة في قارة
(أفريقيا - اسيا - أوروبا - استراليا)
- 4 - الانتقال من صيد الحيوانات وجمع النباتات إلى الزراعة باستخدام الآلات الحديثة باسم
(الثورة الصناعية - الثورة المعلوماتية - الثورة الزراعية - الثورة الاجتماعية)
- 5 - أعظم ملوك الحضارة السومرية
(حمورابي - أختاتون - أورنامو - فرعون)
- 6 - الزاقورة عبارة عن
(مواصلات - معبد - نقود - آلة)
- 7 - حصل العالم احمد زويل على جائزة نوبل عام
(1999م - 1988م - 1996م - 2000م)
- 8 - موروث مشترك من المبادئ والقيم والعادات بين أفراد الدولة الواحدة يعرف باسم
(المسؤولية - المواطنة - التعاون - التطوع)
- 9 - المبادرة التي أطلقها صاحب السمو الشيخ خليفة بن زايد - حفظه الله - عام 2017 م هي
(عام القراءة - عام الخير - عام زايد - عام الابتكار)
- 10 - اللون الذي تم اختياره للسعفة في شعار (عام الخير) هو
(الذهبي - الفضي - الأحمر - الأزرق)
- 11 - من المحاور الرئيسية لمبادرة عام الخير
(الثقافة - الابتكار - المسؤولية المجتمعية - التعاون)
- 12 - كل جهد فردي او جماعي يهدف الى تحقيق منفعة دون مقابل او اجر يسمى
(الشغل - الاجتهاد - المسؤولية - التطوع)



13 – يحتفل العالم بيوم العمل الإنساني في من كل عام

(19 يونيو - 19 أغسطس - 19 يوليو - 19 مايو)

14 – استشهد (شهداء العمل الإنساني) في

(أفغانستان - باكستان - طاجكستان - أوزباكستان)



15 – يصادف ذكرى يوم زايد للعمل الإنساني من كل عام

(19 رمضان - 20 رمضان - 21 رمضان - 15 رمضان)

16 – تهدف مبادرة مؤسسة محمد بن راشد العالمية لتغيير حياة انسان بحلول عام 2025م



(100 مليون - 110 مليون - 120 مليون - 130 مليون)

17 – رئيس مجلس إدارة الهلال الأحمر الاماراتي سمو الشيخ

(محمد بن زايد ال نهيان - محمد بن راشد ال مكتوم - حمدان بن زايد ال نهيان - سيف بن زايد ال نهيان)

18- برنامج للعمل التطوعي في دولتنا حيث يكسب الطلبة المواطنين ثقافة العمل التطوعي هو برنامج

(فزعة - تحدي الترجمة - تحدي القراءة العربية - اسشراف المستقبل)

19 – مؤسسة تم اختيارها ثاني أفضل هيئة إنسانية على مستوى قارة اسيا في عام 2001 هي

(جمعية الفجيرة الخيرية - دار البر - الهلال الأحمر الاماراتي - دبي العطاء)

20 – من عناصر الخريطة ويضم المصطلحات والرموز المستخدمة هو

(مفتاح الخريطة - مقياس الرسم - عنوان الخريطة - مابين الجهات)

21 – ينطبق خط طول 180 شرقا وغربا ليكونا خط واحدا يعرف باسم

(خط جرينتش - خط التاريخ الدولي - خط الاستواء)

22 – أكثر أنواع الأطالس انتشارا هي

(الجغرافية - السياسية - الاقتصادية)

23 - مصدر للمعلومات الجغرافية وتشتمل على عدد من الكتب أو المجلدات هو

(الأطلس - الموسوعة - القاموس)

24 - من خطوات الدراسة الميدانية في مرحلة التنفيذ هي

(تحديد الموضوع - تجهيز الأدوات - توجيه الخرائط)

25 - أنسب مصدر للحصول على معلومات تتعلق بمشكلة داخل المدينة هو

(الصور الجوية - الخريطة - الدراسة الميدانية)

المجموعة الرابعة : - أصنف المسميات التي بين القوين وفق الجدول التالي :

(المسمارية - ساروق الحديد - فزعة - نوبل - الجبال - حقول النفط - جينيس للأرقام القياسية)

| خرائط التضاريس | الموسوعات | جائزة | برنامج تطوعي | لغة | متحف | خرائط اقتصادية |
|-------------------|-----------|-------|-----------------|-------|-------|-------------------|
| | | | | | | |

المجموعة الخامسة : - أجب عن مايلي : -

احسب المسافة بين مدينة رأس الخيمة التي تقع قرب دائرة عرض (26) شمالا وبين خط الاستواء ودرجته

(صفر) على خريطة خلت من مقياس الرسم

الإجابة :

الفرق في دوائر العرض

..... =

الناتج = 111 كم

المسافة بين مدينة رأس الخيمة وخط الاستواء = كم

إذا كانت الساعة في مدينة (أ) تشير الى العاشرة صباحا فكم تكون الساعة في مدينة (ب) اذا علمت ان مدينة (أ)

تقع على خط طول 50 شرقا ومدينة (ب) تقع على خط طول 40 شرقا

الإجابة :

الفرق في خطوط الطول-.....=.....

الفرق في الزمن × 4 دقائق = دقيقة

الساعة في مدينة (ب) =

المجموعة السادسة :- اكتب المفهوم او المصطلح الدال على كل عبارة ممايلي :-

(مقياس الرسم - الثورة الصناعية - الاطلس - الدراسة الميدانية - الخرائط الطبيعية - الموسوعات - الحضارة - الحفريات - العمل الإنساني -)

| المفهوم / المصطلح | المعنى |
|-------------------|---|
| | جميع إنجازات الانسان في مجالات الاكتشاف والاختراع والعمل للوصول الى مستوى أفضل |
| | هي الخرائط التي تمثل الظواهر الطبيعية التي خلقها الله سبحانه وتعالى مثل المناخ والتربة |
| | عملية تجرى لاستكشاف موقع أثري ينفذها مختصون بعناية كي لايتلفوا منها شئ |
| | هو النسبة بين اي مسافة على الخريطة وبين المسافة الحقيقية المقابلة لها على سطح الارض |
| | الاتجاه نحو الانتاج باستخدام الالات الصناعية بدلا عن العمل اليدوي |
| | النشاط الهادف إلى تقديم المساعدات والإغاثة للأفراد الذين يواجهون خطرا في حياتهم |
| | عبارة عن كتاب يضم خرائط متنوعة واشكالا مثل الصور والرسوم والاشكال البيانية |
| | مؤلفات تحوي معلومات حول موضوعات المعرفة الإنسانية أو متخصصة في موضوع معين |
| | أسلوب لجمع المعلومات والحقائق المتصلة بظاهرة معينة من خلال زيارة المنطقة التي تحدث فيها هذه الظاهرة |

انتهت الأسئلة

مع تمنياتي لكم بالتفوق والنجاح

معلم المادة أ/ محمد سيد أحمد