

60

السؤال الأول

ضع دائرة حول الإجابة الصحيحة.

1 - من الطيور



2 - يعيش في الماء



3 - الأصغر



4 - يأكله الحصان



5 - شيء غير حي



6 - يعيش في الصحراء



7 - جزء من النبات في التربة



8 - ثمرة



9 - أصفر



10 - بذرة



11 - تستخدم ضوء الشمس والهواء لصنع الغذاء



12 - جذور نبتة



13 - تمتص الماء من التربة



14 - من الزواحف



15 - أطول شجرة



16 - آكل لحوم



17 - تأكل نباتات الحديقة



18 - الجزء الذي يحمل النبات



19 - زهرة




20 - جذع



السؤال الثاني

40

21 - صل بين الكائن الحي وما ينتجه.





22 - صل بين الكائن ومسكنه.




23 - ضع الكلمات التالية في الفراغات في الجدول.

(الصحراء - القليل - الأنهار - الكثير)

الصبارة	الأرز
	
تحتاج إلى من الماء.	تحتاج إلى من الماء
يعيش في	يعيش قريبا من

المادة	العلوم	الصف	الأول	المسار	الفصل	الأول	عدد الصفحات	8
--------	--------	------	-------	--------	-------	-------	-------------	---

24- أرسم نبتة موضعا عليها (الساق - الأوراق - الأزهار)



انتهت الأسئلة