

## السؤال الأول

60

ضع دائرة حول رمز الإجابة الصحيحة فيما يأتي:

(1) لا يحتاجه النبات لينمو؟



(2) تستخدم ضوء الشمس لصنع الغذاء في النبات:




(3) تختلف في الصفات الوراثية؟



(4) كلاهما كائن حي يحتاج الماء والهواء؟



(5) نبات تكيف ليعيش في المناطق الجافة؟



(1)

(6) من البرمائيات:





(7) تتنفس عن طريق الخياشيم وتتحرك بالزعانف؟




(8) من الحشرات:




(9) تبدأ حياة الثعلب ب:



(10) يفقس من بيض الطائر:



(11) لها رقاب طويلة تساعد في الوصول إلى الأشجار العالية:



(12) من أمثلة تمويه الحيوان؟



13 موطن بيئي يعيش فيه الجمل:



14 الموطن البيئي الذي يعيش فيه هذا الحيوان:



ج) ثلجي وبارد

ب) حار وجاف

أ) رطب وعشبي

15 تحمي السلحفاة نفسها بواسطة:



ج) المخالب

ب) الأسنان

أ) الصدفة

16 يمثل شكلاً لأحفورة سمكة:



17 تعبر الصورة عن:



ج) هطول الأمطار

ب) الجفاف

أ) الإنقراض

18 من اللافقاريات:



19 مجموعة تحتوي على نفس النوع من الحيوانات:



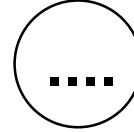
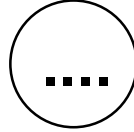


20 تبدأ معظم السلاسل الغذائية بـ:

ج) الحشرة


ب) النبات

أ) الشمس

**21 - رتب بتسلسل من 1 إلى 4 دورة حياة الطائر في المكان المناسب:**



**22 - صل بخط مستقيم بين صورة الحيوان ونوعه في الجدول الذي يليه:**



ثدييات

زواحف

طيور

حشرات

برمائيات

أسماك

**23 - ضع صح (✓) أمام العبارة الصحيحة و خطأ (✗) أمام العبارة الخاطئة:**

أ- (.....) تحتاج الكائنات الحية إلى الماء والغذاء والهواء لكي تعيش ونمو.

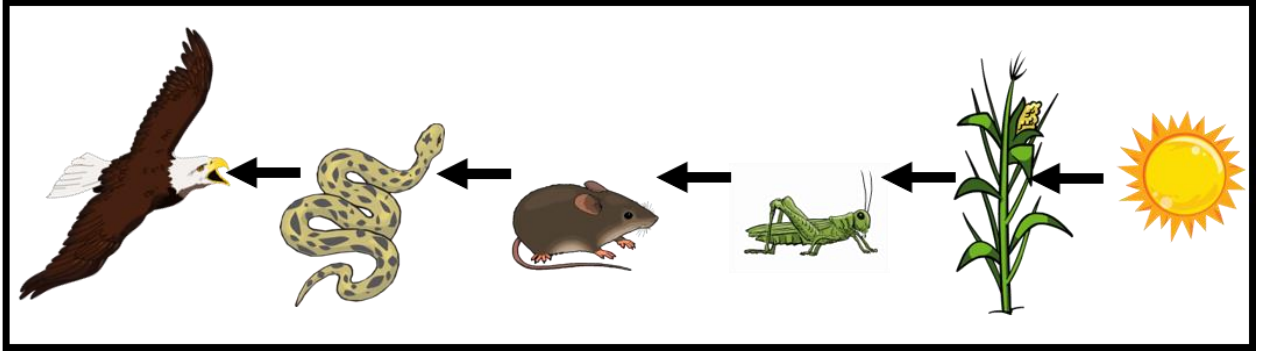
ب- (.....) تكتسب النباتات صفاتها الوراثية من الجيل التالي.

ج- (.....) عندما تصنع النباتات غذائها تنتج غاز الأوكسجين.

د- (.....) البقع الموجودة على النمر نوع من التمويه.

هـ- (.....) تؤدي الحرائق والفيضانات إلى الحفاظ على المواطن البيئية.

**24 - انظر الشكل أدناه، ثم ضع خطأ تحت الإجابة الصحيحة:**



(أ) يسمى هذا الشكل	( شبكة غذائية	أم	( سلسلة غذائية )
(ب) يأكل الثعبان	( الفأر	أم	( الصقر
(ج) يعتبر الصقر	( المفترس	أم	( الفريسة

**25 - صل بخط مستقيم بين أجزاء النبات ووظيفة كل منها:**



النبته

الوظيفة

• تثبت النبات وتمتص الماء والمواد الغذائية.

• تستخدم الهواء وضوء الشمس لتصنع الغذاء.

• تحمل النبات وتنقل الماء والمواد الغذائية.

• لها رائحة جميلة وتنتج الثمار.

انتهت الأسئلة بالتوفيق والنجاح