

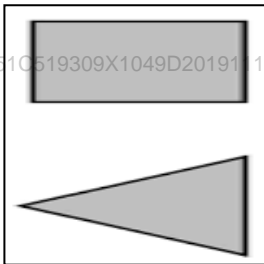
36

أولاً: أنظر .. تأمل .. فكر ... ثم صل بين الصور التي تدل على الأشياء المتماثلة:

SN:10A20A0A251C519309X1049D201911140954GW



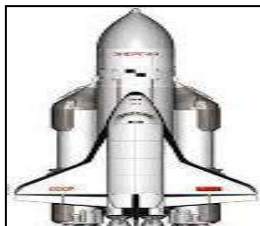
SN:10A20A0A251C519309X1049D201911140954GW



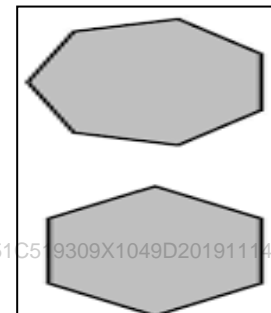
SN:10A20A0A251C519309X1049D201911140954GW



SN:10A20A0A251C519309X1049D201911140954GW



SN:10A20A0A251C519309X1049D201911140954GW



SN:10A20A0A251C519309X1049D201911140954GW

تابع النموذج التدريبي للفصل الدراسي الأول لمادة الدراسات الاجتماعية والتربية الوطنية للصف الثالث للعام الدراسي 2020/2019م

ثانياً: من حقي أن أعيش في بيئة نظيفة ... أنظر الصورة ثم حوط برسم دائرة حول خمس من السلوكيات التي تساعدك على العيش في بيئة نظيفة:



ثالثاً: أكتب عبارة تشجع بها الآخرين على حماية البيئة، للحفاظ عليها.



انتهت الأسئلة، دعواتنا لكم بالتوفيق والنجاح