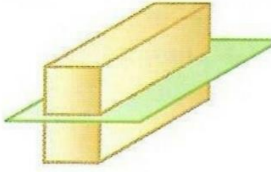


المقاطع العرضية

نشاط دائم



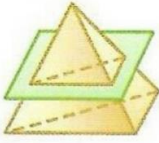
السؤال الاول/ اختر الاجابة الصحيحة من بين الاقواس
(1) شكل المقطع العرضي لمنشور مستطيل القاعدة هو

A) مثلث

B) شبه منحرف

C) دائرة

D) مستطيل



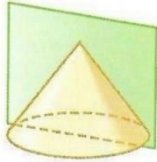
(2) شكل المقطع العرضي للهرم الثلاثي هو

A) مستطيل

B) شبه منحرف

C) مثلث

D) مربع



(3) شكل المقطع العرضي للمخروط هو

A) شبه منحرف

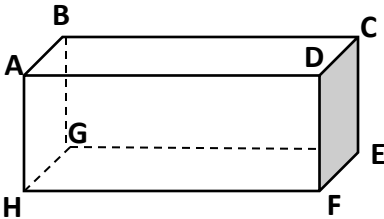
B) مثلث

C) دائرة

D) مربع

السؤال الثاني

حدد كل شكل . واذكر اسماء القواعد والوجوه والحواف والرؤوس ثم حدد زوجا من المستقيمت المتخالفة



اسم الشكل:

القاعدتان:

الوجوه:

الحواف:

الرؤوس:

المستقيمت المتخالفة: