

2019 - 2018

20

إسم الطالب: _____

الصف الثاني: A B C



السؤال الأول: ضع دائرة حول رمز الإجابة الصحيحة:

1- يكتب العدد : أربعمئة واثنان وخمسون, بالأرقام:

a) 524

a) 452

c) 425

2- يكتب العدد 305 بالحروف :

a) ثلاثمئة وخمسون

b) خمسمئة وثلاثون

c) ثلاثمئة وخمسة

3- ضع دائرة حول القيمة المكانية للرقم المحاط بدائرة:



923

a) 200

b) 20

c) 2

258

a) 800

b) 80

c) 8

741

a) 700

b) 70


c) 7

4- تفكر رنا في عدد ما يوجد في هذا العدد 3 مئات و 8 عشرات و 7 آحاد , فما هو هذا العدد؟

a) 783

b) 873

c) 387



5- ما هو الشكل رقم 10 في النمط التالي:

b) قلب

b) دائرة

c) مثلث

6- ما هو العدد الترتيبي للحرف N

A / B / C / D / E / F / G / H / I / J / K / L / M / N / O / P / Q / R / S / T / U / V / W / X / Y / Z

a) 19

b) 15

c) 8

7- اكتب العدد الترتيبي للحرف G

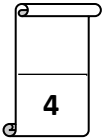
السؤال الثاني: اكتب كل عدد بالصيغة الموسعة .

a) 2 مئات و 4 عشرات و 9 آحاد

----- + ----- + ----- = -----

b) 684

----- + ----- + ----- = -----



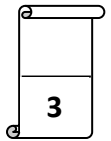
a) 500 , 505 , 510 , ----- , 520 , -----

النمط هو -----

b) 480 , 580 , 680 , ----- , 880 , -----

النمط هو -----

السؤال الثالث: اكتب الاعداد الناقصة ثم اكتب نمط العدد:



a) 515 451

b) 545 564

c) 340 347

d) 211 211

السؤال الرابع: قارن اكتب < أو > أو =

