

## الدرس الثاني: الثورات الحضارية في العالم

صفحة ٢٦ ) ما المقصود بحضارة ما بين النهرين ؟

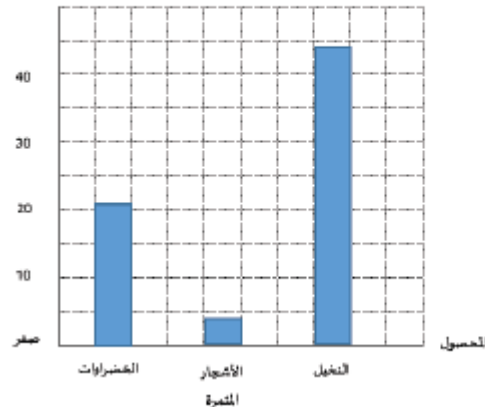
حضارة بلاد الرافدين (ي منطقة جغرافية تاريخية تقع في جنوب غرب آسيا. تعد من أولى المراكز الحضارية في العالم. وهي تقع حالياً في العراق، سوريا وتركيا ما بين نهري دجلة والفرات. وأشهر حضاراتها هي حضارة سومر وأكاد وبابل )

صفحة ٢٩ )

استخرج من النص السابق ما يأتي

- اهداف التنمية الشاملة للاجندة الوطنية لرؤية ٢٠٢١ في دولة الامارات العربية المتحدة تحقيق بيئة مستدامة من حيث الحفاظ على الموارد المائية والتربة وتحقيق الامثل للمياه الجوفية ومياه الامطار
- أهمية تطوير القطاع الزراعي  
تقليل الفجوة الغذائية تحقيق الامن الغذائي
- مثل بطريقة الأعمدة المساحات المخصصة للمحاصيل الزراعية.

المساحة المخصصة %



صفحة ٣٠ ) ما المقصود بالاكنتفاء الذاتي ؟

يقصد به بأنه يعتمد بلد ما على الانتاج المحلي دون الاستيراد من الخارج .

اقترح طرائق لتطوير الاراضي الزراعية في دولة الامارات العربية المتحدة؟

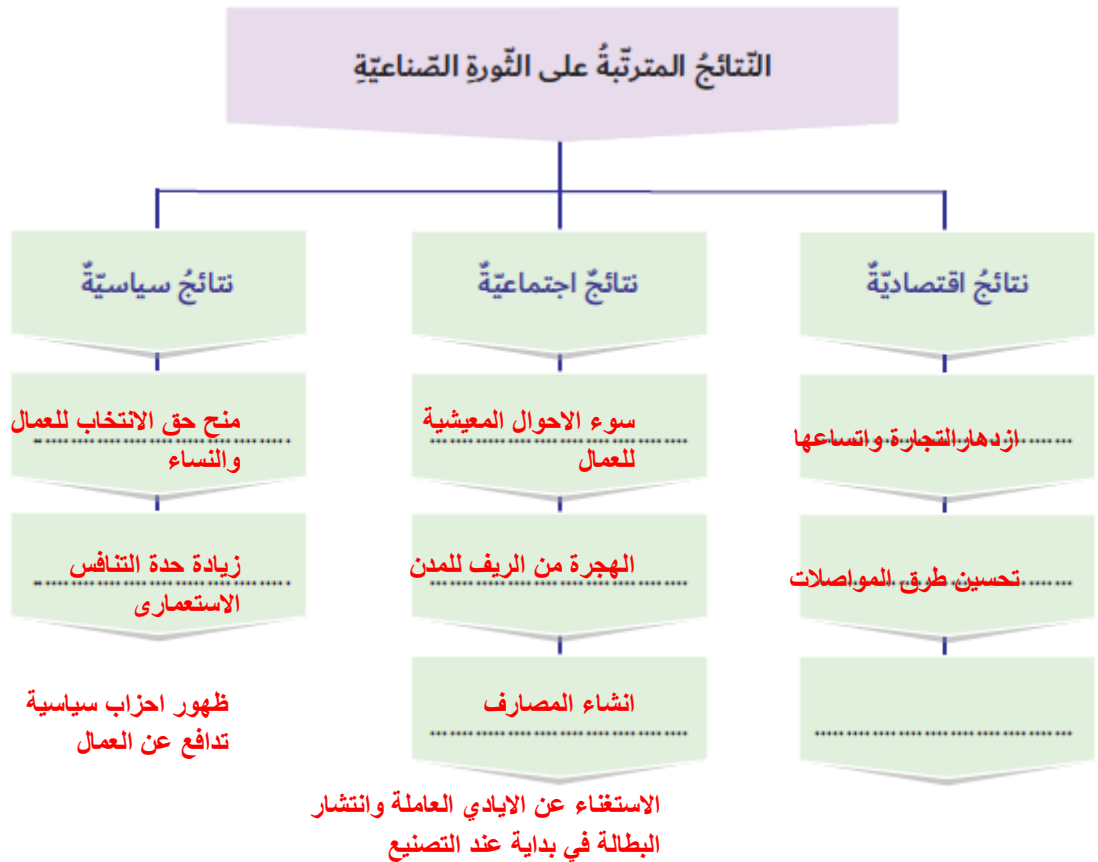
- دعم وزارة الزراعة للمزارعين
- اساليب الري بالرش والتنقيط
- استصلاح الاراضي الصحراوية لزراعة

صفحة ٣٢ ) اكتشف اوجه التشابه بين عوامل قيام الثورة الصناعية في انجلترا وعوامل تطور الصناعة في دولة الامارات العربية المتحدة

كلاهما تشابها في وفرة رأس المال والأيدي العاملة واهتمام الحكومة ووفرة مصادر الطاقة

○ أحلّل الخريطة والمنظّم البياني، ثم استكمل بيانات الجدول الذي يليه:

م	المهمة	الإجابة
1	أستى الدولة التي ظهرت فيها الثورة الصناعية قبل غيرها من الدول	بريطانيا
2	أحدّد الدولة غير الأوروبية السبّاقة في ميدان الثورة الصناعية	الولايات المتحدة الأمريكية
3	أفسّر التباعد الزمني بين انطلاق الثورة الصناعية بين الدول الأوروبية	وفرة الأمن والاستقرار السياسي، وفرة مصادر الطاقة ....



1. أحدّد الفكرة الرئيسيّة للتّصّ.

التطور الصناعي في دولة الإمارات العربية المتحدة، أو أية فكرة أخرى صحيحة.

2. أبيضّن دور الشيخ زايد بن سلطان آل نهيان -رحمه الله- في النهضة الصناعيّة الكبيرة التي حدثت في البلاد.

أقيمت المناطق الصناعيّة، وازدهرت الصناعات الاستخراجيّة والتحويليّة، وشهدت أعمال البنية

التحتيّة نهضة حقيقية شُقت خلالها الطرق، وشُيّدت الجسور، وتزايد عدد الموانئ والمطارات.

3. أفسّر اهتمام حكومة دولة الإمارات العربية المتحدة بالقطاع الصناعي.


قدّمت الحكومة دعماً لقطاع الصناعة تمثّل في توفير مصادر الطاقة والخامات المعدنيّة بأسعار

تنافسيّة، وتوفير البنية التحتيّة الحديثة، من طرق ومناطق صناعيّة ومناطق حرّة، وعدم فرض

ضرائب على المشروعات الصناعيّة.

- أوضِح مظاهر الدِّعم الحكومي لقطاع الصناعة؟  
قَدِّمَت الحكومة دعماً لقطاع الصناعة تمثَّل في توفير مصادر الطاقة والخامات المعدنية بأسعار تنافسيَّة، وتوفير البنية التحتيَّة الحديثة، من طرق ومناطق صناعيَّة ومناطق حررة، وعدم فرض ضرائب على المشروعات الصناعيَّة.

- أَيْن أثر التَّورة المعلوماتيَّة في حياتي.  
استخدام الانترنت في التواصل مع اصدقائي والتعرف على اصدقاء جدد من خارج الدولة وايضا مساعدتي في التوصل الى معلومات جديدة ومفيدة
- أوضِح كيف أحمي نفسي وأبتعدُ عن إيذاء الآخرين إلكترونيًا؟  
استخدام الانترنت بشكل مفيد وعدم الدخول الى المواقع المحظورة ، عدم قذف الآخرين بالكلام المسيي وعدم نشر الشائعات في مواقع التواصل الاجتماعي
- أفكِّر في مبادرة مجتمعيَّة للتوعيَّة بأضرار الاستخدام الخطأ لتكنولوجيا المعلومات.  
القيام بفديو قصير ابين فيه اضرار استخدام التكنولوجيا بشكل خاطئ - نشر المنشورات



→ أجيبُ عمَّا يأتي:

1. أَيْنُ كيف كانَ النَّاسُ يعيشونَ قَبْلَ الرَّاعةِ؟

لم يكن الناس يستقرون في مكان واحد بل كانوا ينتقلون من مكان لآخر بهدف الصيد والتقاط الثمار

2. أذكرُ اثنين من أسبابِ ظهورِ التَّورةِ الصَّناعيَّةِ في بريطانيا.

١- وفرة مصادر الطاقة

٢- توفر الايدي العاملة

3. أسجِّلُ اثنين من نتائجِ التَّورةِ الصَّناعيَّةِ.

١- تنشيط الحياة الاقتصادية

٢- سرعة تنوع الانتاج

4. أحدِّدُ الاسمَ الَّذي عُرفَتْ به بريطانيا؟

انجلترا ( ورشة العالم)

→ أختار الكلمة الصحيحة لأكمل الجمل الآتية:

1. أوّل حيوانٍ تمّ تدجينه هو .....  
- الماعزُ - الثعلبُ - البقرُ - الكلابُ
2. ساعدَ اختراعُ العجلاتِ في تطويرِ.....  
- المواصِلاتِ - الاتّصالاتِ - التّجارةِ - الزّراعةِ
3. دولةٌ غيرُ أوروبّيّةٍ سبّاقةٌ في الثّورة الصّناعيّة.....  
- فرنسا - ألمانيا - الولاياتُ المتّحدةُ الأمريكيّةُ - الصّينُ

(صفحة ٤١)

→ أفكّر فيما يأتي:

1. أيُّ الثّوراتِ كانَ لها الأثرُ الأكبرُ في حياةِ النّاسِ؟  
.. الثّورة المعلوماتية
2. كيفَ أثرَ اختراعُ الآلاتِ على عملِ النّاسِ؟  
بناء مصانع - إقامة مدن - أدى لإنجاز العمل بسرعة - الهجرة من الريف للمدن للعمل في المصانع
3. أفسّرُ نشوءَ فكرةِ التّجارةِ بالمحاصيلِ الزراعيّةِ.  
.. تبادل المعدات بين الدول - زيادة الاتصال
4. العلاقةُ بينَ الثّورةِ الرّباعيّةِ والثّورةِ الصّناعيّةِ.  
.. استخدام الآلات

كُنْ مبدعًا:

- أصمّم مخطّطًا ذهنيًّا يوضّحُ أهمّ مراحلِ الثّورةِ الصّناعيّةِ.



• أقرن بين الثورة الزراعيّة والثورة الصناعيّة من حيث (الزمن، المكان، تأثيرها في حياة الإنسان).

وجه المقارنة	الثورة الزراعيّة	الثورة الصناعيّة
الزمن	العصر الحجري الحديث	القرن ١٨
المكان	اسيا الغربية	انجلترا
التأثير في حياة الإنسان	١- استقرار السكان ٢- زيادة انتاج المحاصيل	١- زيادة الانتاج وتنوعه ٢- زيادة التطور الاقتصادي

• أتوقع بيئة دولة الإمارات العربيّة المتّحدة الزراعيّة بعد 10 سنوات في ظلّ المشاريع المائيّة الرائدة.

- ١- التطور الزراعي و توفر المواد الطبيعيّة  
٢- انتاج محاصيل عضوية دون استخدام المبيدات العضوية

خامسًا

كن أكثر عمقًا:

• هل انتهت الثورات الحضاريّة؟

لا لم تنتهي لان الانسان في كل يوم يخترع اشياء جديده ما يسهل حدوث الحضارات

• أبحث عن أساليب جديدة ناجحة للزراعة في المناطق الصحراوية.

- ١- الزراعة بالرش والتنقيط  
٢- حفر الابار لتوفير المياه  
٣- استخدام الزراعة المائية