



6) ناتج جمع 8 + 2 + 5 هو؟

a) 8

b) 15

c) 12

d) 1

7) أوجد الحد الناقص 8 -  = 9

a) 9

b) 1

c) 4

d) 2

8) حقيبة أحمد فيها 3 كتب ، والعدد ذاته في حقيبة علي. ما مجموع الكتب في الحقيبتين؟

a) 6

b) 8

c) 4

d) 2

9) أحوط المضاعفات:

a) 8+7

b) 7+7

c) 4+0

d) 1+4

10) أحوط أشباه المضاعفات:

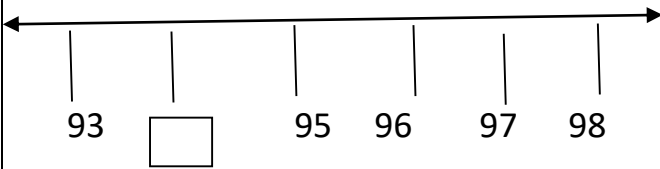
a) 10+10

b) 3+7

c) 6+7

d) 7+4

11) ما هو العدد الذي يأتي قبل العدد 95 ؟



a) 93

b) 38

c) 36

d) 32

12) أوجد الحد الجمعي الناقص في :  $9 + \square = 12$  ؟

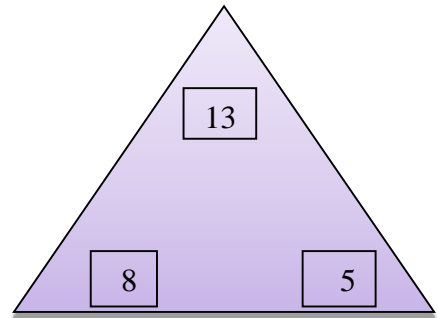
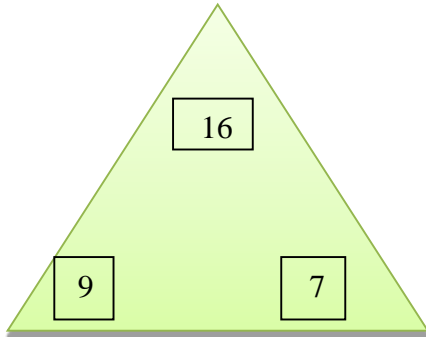
a) 5

b) 8

c) 12

d) 3

السؤال الثاني: أكمل مجموعة المعطيات :



----- + ----- = -----

----- + ----- = -----

----- + ----- = -----

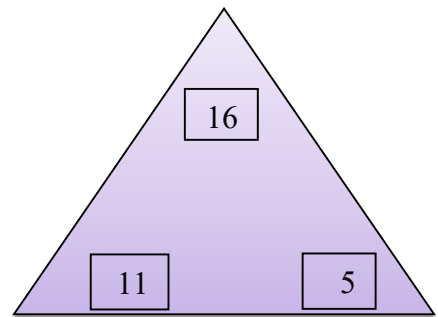
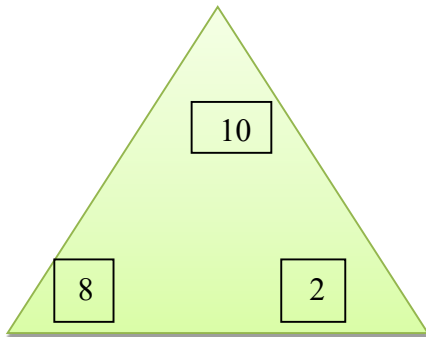
----- + ----- = -----

----- + ----- = -----

----- + ----- = -----

----- + ----- = -----

----- + ----- = -----



----- + ----- = -----

----- + ----- = -----

----- + ----- = -----

----- + ----- = -----

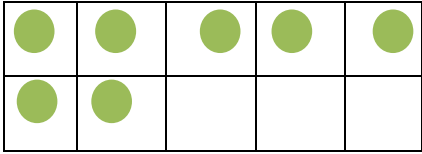
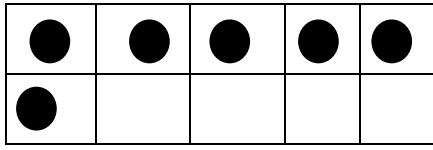
----- + ----- = -----

----- + ----- = -----

----- + ----- = -----

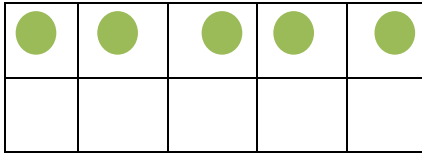

----- + ----- = -----

السؤال الثالث: كون العدد 10 للجمع :



\_\_\_\_\_ + \_\_\_\_\_ = \_\_\_\_\_

\_\_\_\_\_ + \_\_\_\_\_ = \_\_\_\_\_



\_\_\_\_\_ + \_\_\_\_\_ = \_\_\_\_\_

\_\_\_\_\_ + \_\_\_\_\_ = \_\_\_\_\_

السؤال الرابع: أكتب العدد الناقص

1		3		5	6		8		10
11	12			15		17		19	20
21		23			26	27		29	30
31		33		35		37	38		40
41	42		44			47		49	50

