

الدرس الثاني: عام الخير

(صفحة ٧٥)

→ أفسر الآتي:

1. تصميم حرف الرّاء في الشّعارِ على هيئة سعة شجرة نخيل.

لان النخلة كانت تحتل مكانه خاصة في قلب الشيخ زايد يرحمه الله

2. اختيار سبع وُريقاتٍ في السّعةِ على كلا الجانبين.

الجانب الاول تمثل الامارات السبع
الجانب الثاني تمثل مساهمات الناس في عمل الخير

3. اختيار اللون الأصفر المائل للذهبيّ للسّعةِ.

لانه لون اشعة الشمس ويرمز ليوم جديد مليئ بالامل والسعادة والفرح

→ تأملُ تصميمَ الشّعارِ المبتكرِ الذي

يعكسُ دلالاتِ عامِ الخيرِ 2017م، ثمّ أجبُ:

تضمّن الشّعارُ إضافةً لعام 2017
محاوَر ثلاثة هي:

الأول: مسؤولية المجتمع

الثاني: التطوع

الثالث: خدمة الوطن

(صفحة ٧٦)

استخرج من مقولة صاحب السمو قيما وطنية وسلوكية

العطاء ... الجود ... العمل الإنساني ... الغوث

(صفحة ٨١)

زايد العطاء

أحدّد الفكرة الرئيسة للنص -
أستخلص اثنتين من القيم الإيجابية الواردة في مقولة صاحب السمو -رعاه الله.

الخير والجود والعطاء

أسجّل أبرز الشخصيات الإماراتية التي تميّزت وأبدعت في العمل الإنساني.

الشيخ حمدان بن زايد

أفسر تزايد العطاء الإنساني الذي يتميّز به أهل الإمارات.

لانها قيم غرسها وربانا عليها الشيخ زايد رحمه الله

أستنتج رسالة دولة الإمارات للعالم.

نحن عاصمة انسانية وعالمية ومحطة غيث رئيسة لكل محتاج لا نتاخر بدعم المحتاج اينما كان

الفهم والاستيعاب:

→ أجب عن الأسئلة الآتية:

1. أوصح دور التطوع في إحداث الخير الحقيقي في مجتمعنا.

-- هو خدمة الوطن والافراد دون مقابل يهدف في تحقيق المنفعة

2. أبتن الخصائص التي يمتيز بها مجتمع الإمارات.

-- الجود - العطاء - حب الخير للاخرين - حب الوطن

3. أهدد الأساليب التي يمكن لمبادرة عام الخير ترسيخها في الجوانب التعليمية والتربوية.

** خير المواطن وخير الوطن.

** ترسيخ العطاء بلا مقابل في الأفراد والمؤسسات للمجتمع

* التنسيق والتكامل بين الأفراد والقطاع الخاص والجهات الحكومية

→ أكمل العبارات الآتية بما يناسب:

1. المبادرة التي أطلقها صاحب السمو الشيخ خليفة بن زايد آل نهيان رئيس الدولة - حفظه الله - عام

2016م هي عام القراءة

2. من المحاور الرئيسية لمبادرة «عام الخير» .. خدمة الوطن

3. تهدف مبادرة «عام الخير» إلى تعميق المسؤولية المجتمعية في القطاع .. الحكومي والخاص

4. التزم سكان دولة الإمارات منذ القدم بتقديم الخدمات التطوعية انطلاقاً من .. تعاليم الدين الاسلامي

5. اللون الذي تم اختياره للشعفة في شعار «عام الخير» هو .. الاصفر المائل الى الذهبي

1. اختياري سبع وريقات في الشعفة على كلا جانبي شعار «عام الخير».

عدد الامارات السبع - اسهامات وانجازات ابناء كل امارة

2. نجاح عام القراءة 2016م.

جهود حكومة الامارات في اطلاق العديد من المبادرات مل مشروع القراءة العربي واطلاق الشيخ محمد بن راشد صندوق وطني لدعم مشروعات مبادرات القراءة

3. تعدد دولة الإمارات عاصمة إنسانية عالمية.

لان دولة الامارات لا تتاخر في تقديم اي مساعدة للاشقاء والمحتاجين

مهارات

بالتعاون مع مجموعتي اقترح مبادرة إبداعية محددة الإجراءات لتحقيق أهداف عام الخير 2017م

○ اسم المبادرة .. سفراء الصحة

○ توزيع المهام والأدوار - التنظيم - الدعاية و الاعلانات - المتابعة الالكترونية - متابعة التدريبات

م	الاسم	المهمة / الدور
1	التنظيم
2	الدعاية و الاعلانات
3	المتابعة الالكترونية
4	متابعة التدريبات

خطّة العمل والإجراءات المقترحة:

- ١- تنظيم المحاضرات التوعوية ومتابعتها مع الزوار
- ٢- متابعة الاعلانات عن المحاضرات و مواعيدها و مواضيعها
- ٣- متابعة ما هو جديد الكترونيا
- ٤- تنظيم التدريبات و مواعيده و مده التدريب

(صفحة ٨٦)

→ أحدّد كيف يمكن لفئات المجتمع الآتية أن تسهم في مبادرة «عام الخير»:

الأب / الأم	الأبناء	الموظف	المؤسسات الحكومية
تربية الأبناء تربية حسنة	النجاح والتفوق	كفالة اليتيم	تزويد الأحياء السكنية بمبرد
رعاية الأبناء	إسعاد الآخرين	مساعدة زملائه	زيارة مراكز التوحد في الدولة
التوعية	بر الوالدين	التبرع براتب يوم لهيئة خيرية	استضافة أطفال دار الأيتام

→ على خريطة العالم، أحدّد -مستخدمًا الألوان- أربع دولٍ قدّمت لها دولة الإمارات مساعداتٍ إنسانيةً خيريةً.



- سوريا
- العراق
- فلسطين
- أفغانستان

الابتكار:

→ بالتعاون مع مجموعتك اقترح برنامجاً تطوعياً ابتكارياً تشارك فيه مع مجموعتك في خدمة مجتمعك.

نقوم بجمع التبرعات انا وزملائي ومن ثم نقوم بشراء الهدايا وتوزيعها على الاطفال بدار الايتام

ما المقصود بكل من :

→ عام الخير؟

خطة عمل تطرح لمعالجة قضايا المجتمع و تتحول الى مشروعات تنموية

→ المواطنة؟

موروث مشترك من المبادئ والقيم والعادات بين الأفراد في الدولة الواحدة، والتي تسهم في تشكيل شخصية المواطن، وتمنحها خصائص تميّزه عن غيره من المواطنين في الدول الأخرى.

→ التطوع؟

كل جهد فردي او جماعي يهدف الى تحقيق المنفعة العامة دون مقابل او اجر

الدرس الثالثة: شهداء العمل الانساني

(صفحة ٩٠)

اذكر الأخطار التي يمكن أن يتعرض لها أفراد العمل الإنساني.

(صفحة ٩١)

← اقترح مشروعًا خيريًا يمكن أن تهديه لشهداء العمل الإنساني وعرّض به في وسائل التواصل الاجتماعي.

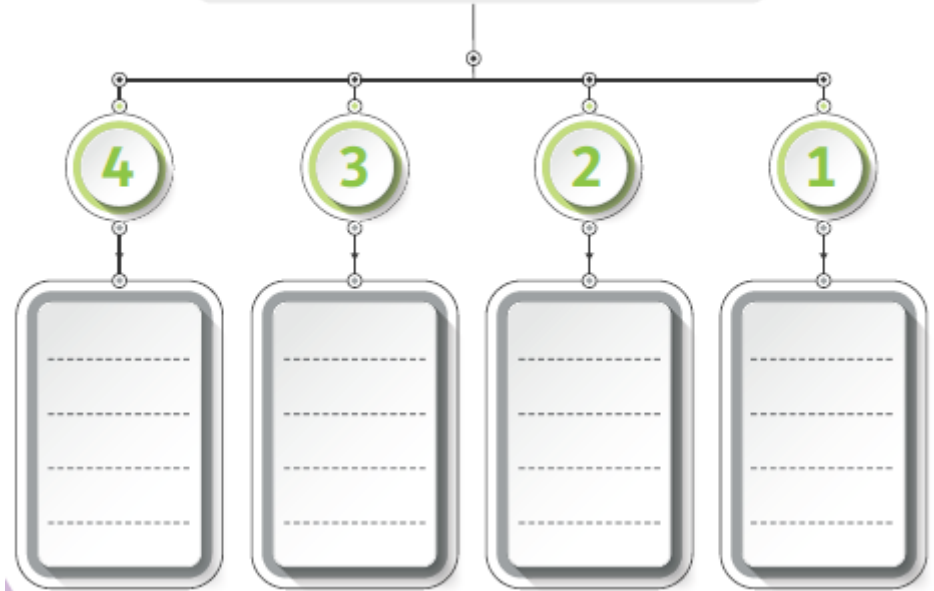
شهداء - العمل - الإنساني

(صفحة ٩٣)

← اقترح مبادرات مبتكرة لتعزيز العمل الإنساني في مدرستك ثم اعرضها على زملائك.

(صفحة ٩٥)

أحدّد القطاعات الرئيسية التي تضمّها مبادرات محمد بن راشد آل مكتوم العالمية من خلال المخطط الذهني الآتي:



(صفحة ٩٦)

أولاً

أجيب عما يأتي:

1. ما المقصود بالعمل الإنساني؟

النشاط الهادف إلى تقديم المساعدة والإغاثة للأفراد الذين يواجهون خطرًا يهدّد حياتهم.

2. أسجّل اثنين من أهمية العمل الإنسانيّ.

- نشر الرحمة والعطاء
- العمل باخلاص لاسعاد الاخرين

3. أعدّد ثلاثاً من المبادرات التي تبنتها دولة الإمارات العربيّة المتّحدة في مجال العمل الإنسانيّ.

- فزعة - مؤسسات خليفة الخيرية - الهلال الاحمر

ثانياً

أختار الكلمات الصحيحة لإكمال الجمل الآتية:

1. يحتفل العالم بيوم العمل الإنسانيّ في من كلّ عام.

- 19 يونيو
- 19 يوليو
- 19 أغسطس

2. استشهد (شهداء العمل الإنسانيّ) في

- طاجكستان
- أفغانستان
- باكستان

3. يصادف ذكرى يوم زايد للعمل الإنسانيّ من كلّ عام.

- 19 رمضان
- 20 رمضان
- 17 رمضان

ثالثاً

أفكّر فيما يأتي:

1. اهتمام دولة الإمارات العربيّة المتّحدة بالعمل الإنسانيّ:

----- 1- تحسين نوعية الحياة للأفراد و الفئات المحتاجة - 2- تعزيز السلم والاستقرار العالمي -----

2. توظيف شبكات التواصل الاجتماعيّ في تعزيز العمل الإنسانيّ:

----- 3- نشر ثقافة العمل الانساني بين الشباب -----

رابعاً

أحدّد على الخريطة ما يأتي:

ثلاثاً من الدّول التي تدعم دولة الإمارات العربيّة المتّحدة العمل الإنسانيّ فيها.



الدرس الأول: الخريطة

صفحة (١٠٨)

أولاً

الفهم والاستيعاب:

→ أجب عن الأسئلة الآتية:

- أوضِّح أهمية الخريطة في حياتنا.
- وسيلة أساسية للمعلومات - التخطيط للمشروعات المستقبلية - ادراك العلاقات بين الظواهر والمقارنة بينها - تحديد اماكن
- الظواهر وامتداداتها
- أسْمِي مصادِر المعرفة الجغرافيَّة.

الخرائط - GIS

- أُبَيِّنْ أهمَّ خصائص خطوط الطول.
- تعيين المواقع على سطح لارض - التعرف على الزمن و تحديد فروق الوقت بين الاماكن
- أسجِّلْ أهميَّة دوائر العرض؟
- تعيين المواقع على سطح لارض - التعرف على المناخ والطقس

→ أكمل العبارات الآتية بما يناسب:

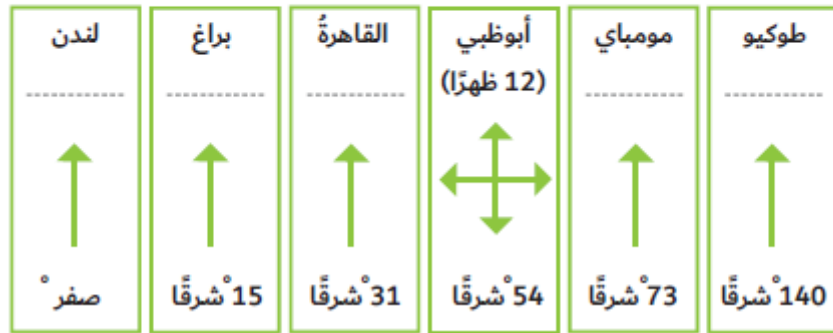
- العلم الذي يدرُس العلاقات بين الإنسان وبيئته، وما ينتج عنها من قضايا ومشكلات هو .. علم الجغرافيا
- تعدُّ خرائط المناخ من أنواع الخرائط .. الطبيعية
- من عناصر الخريطة، ويضمُّ المصطلحات والرموز المستخدمة هو .. مفتاح الخريطة
- ينطبق خطًا طول 180 شرقًا وغربًا ليكونا خطًا واحدًا، يعرف باسم - خط تاريخ الدولي
- تستخدم دوائر العرض في تعيين ... تعيين المواقع على سطح لارض - التعرف على المناخ والطقس
- درجة الدائرة القطبية الشماليَّة هي .. ٩٠°
- المسافة بالكيلومترات بين كلِّ درجتَي عرض متتاليتين ... ١١١ كم
- تسمَّى حركة دوران الأرض حول محورها أمام الشمس كلَّ 24 ساعة ... الحركة اليومية للأرض

صفحة (١٠٩)

- اختلاف أشكال وأنواع الرموز من خريطة لأخرى.
- تنوع الموضوعات والهدف التي تتناولها - تعدد الجهات التي تستخدم الخريطة
-
- اختلاف أشكال وأنواع الرموز من خريطة لأخرى.
- حسب اختلاف النوع و موضوع الخريطة والظواهر المطلوب عرضها.
-

المهارات

→ أوجد فرق الزمن بين مدينة أبوظبي والمدن الواردة في الشكل الآتي:



$$140 - 54 = 86 \times 4 = 344 / 60 = 5.7$$

$$73 - 54 = 19 \times 4 = 76 / 60 = 1.26$$

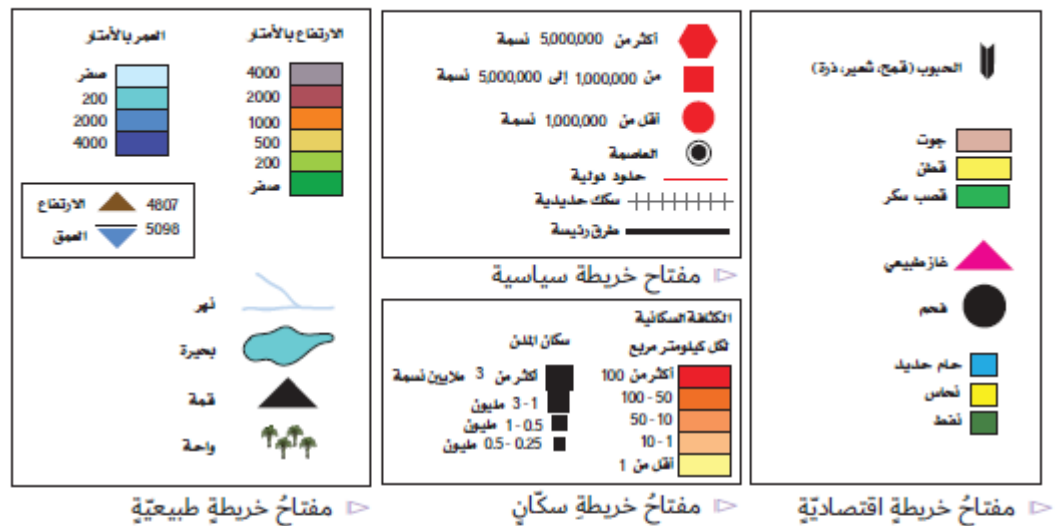
$$54 - 31 = 23 \times 4 = 92 / 60 = 1.53$$

$$54 - 15 = 39 \times 4 = 156 / 60 = 2.55$$

$$54 - 0 = 54 \times 4 = 216 / 60 = 3.6$$

(صفحة ١١٠)

→ اقرأ الشكل، ثم استخراج ثلاثة رموز من كل فئة من أنواع الرموز الآتية:



- رموز نقطية: العاصمة
- رموز خطية: خلود دولية
- رموز رقمية: الارتفاع
- رموز تعبّر عن ظاهرات طبيعية: قمة
- رموز نقطية: فحم
- رموز خطية: سكك حديدية
- رموز رقمية: الارتفاع
- رموز تعبّر عن ظاهرات طبيعية: واحة

→ أحسب المسافة بين مدينة رأس الخيمة التي تقع قرب دائرة عرض (26) درجة شمالاً، وبين خط الاستواء على خريطة خلت من مقاييس الرسم.

-- المسافة بين رأس الخيمة والقطب الشمال = 90 - 26 = 64 دائرة عرض.

$$64 \times 111 = 7104 \text{ كم}$$

→ أقرن بين خطوط الطول ودوائر العرض وفق معطيات الجدول الآتي:

دوائر العرض	خطوط الطول	وجه المقارنة
خطوط وهمية ترسم على نموذج الكرة الأرضية ، وتبدو على شكل دوائر تامة الإستدارة.	المفهوم
..... ٣٦٠ خطا ٣٦٠ خطا	العدد
تعيين المواقع على سطح لارض - التعرف على المناخ والطقس	تعيين المواقع على سطح لارض - التعرف على الزمن وتحديد فروق الوقت بين الاماكن	الأهمية

خطوط وهمية على شكل أنصاف دوائر تتلاقى جميعها عند نقطتي القطبين ، وهي متساوية في أطوالها وغير متوازية.

صفحة (١١١)



أحدّد المقصود بكلّ من:

- خطّ التاريخ الدّوليّ: .. المكان الذي يمر فيه خط الطول 180 غرباً وشرقاً.
- دوائر العرض: ... خطوط وهمية ترسم على نموذج الكرة الأرضية ، وتبدو على شكل دوائر تامة الإستدارة.
- الخريطة: تمثّل لسطح الأرض الكروي أو جزء منه على سطح مستو لتوضيح الظواهر بمقياس رسم معين ورموز معينة.
- خطوط الطول: خطوط وهمية على شكل أنصاف دوائر تتلاقى جميعها عند نقطتي القطبين ، وهي متساوية في أطوالها وغير متوازية.