

الجِهَاتُ الْأَصْلِيَّةُ وَطَرَائِقُ تَحْدِيدِهَا

أُجِبُّ أَنْ أَعْرِفَ

- ما الجهاتُ الْأَصْلِيَّةُ.
- ما الفَرْقُ بينَ الجِهَاتِ الْأَصْلِيَّةِ
والفَرْعِيَّةِ.
- ما طَرَائِقُ تَحْدِيدِ الجِهَاتِ الْأَصْلِيَّةِ.



مُحَطِّطُ الدَّرْسِ

- أوَّلًا: الجِهَاتُ الْأَصْلِيَّةُ.
- ثانيًا: الجِهَاتُ الفَرْعِيَّةُ.
- ثالثًا: طَرَائِقُ تَحْدِيدِ الجِهَاتِ الْأَصْلِيَّةِ.

أَتَعَرَّفُ الْجِهَاتِ الْأَصْلِيَّةَ وَهِيَ:



الْجِهَاتُ الْأَصْلِيَّةُ

صغيري المبدع

- في أي جهة من دولة الإمارات العربية المتحدة تتركز مدن الدولة؟

مَنْ قِيَمَ بِلادِي أَتَعَلَّمُ

- أحافظ على أداء واجباتي، ومنها:
- الحفاظ على صلاتي.
- الذهاب إلى المدرسة.
- طاعة الوالدين.
- أداء واجباتي المدرسية.



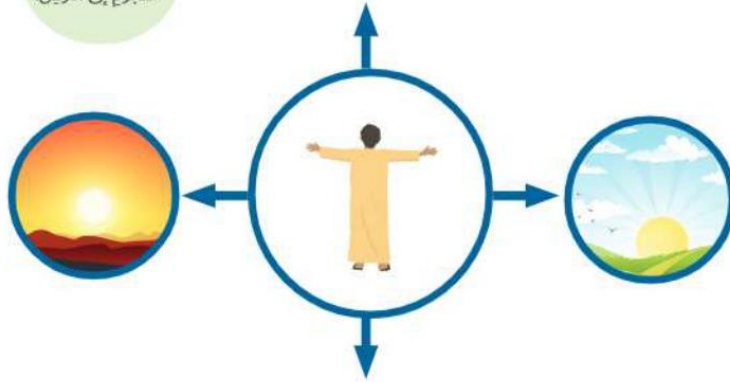
أَطَبِّقْ مَا تَعَلَّمْتَ

أَلِجِظْ الشَّكْلَ الْآتِي تَمَّ أَجِيبْ عَمَّا يَلِيهِ مِنْ أَسْئَلَةٍ:

أَرْبِطْ مَعَ الْعُلُومِ



تُعَدُّ الشَّمْسُ أَقْرَبَ
النُّجُومِ إِلَى الْأَرْضِ.



الشرق

إلى أيّ جهة يُشيرُ الولدُ بيده اليمنى؟

الغرب

إلى أيّ جهة يُشيرُ الولدُ بيده اليسرى؟

الشمال

ما اسمُ الجهة التي أمامه؟

الجنوب

سَمِّ الجهة التي خلفه؟

أَسْتَعِينُ بِالصُّورَةِ لِأَضْعَ الْكَلِمَاتِ الْمُسَاعِدَةَ أَمَامَ الْجُمْلِ الْآتِيَةِ:

الْجِهَاتُ الْأَصْلِيَّةُ - الشَّامَالُ - الْجَنُوبُ - الشَّرْقُ - الْغَرْبُ

الْكَلِمَاتُ الْمُسَاعِدَةُ

رُكْنُ الْمَعْرِفَةِ



1. تقع الحديقة في جهة **الجنوب**.
2. يقع المسجد في جهة **الغرب**.
3. تسكن جميع العائلات في المنازل التي تقع في جهة **الشمال**.
4. تصلنا الرسائل المهمة من مكتب البريد الذي يقع جهة **الشرق**.

أرسم، وألون



أرسم الجهات الأصلية وألونها:



ثانيًا: الجهات الفرعية.

الكلمات المساعدة: الجهات الفرعية - الشمال الشرقي - الشمال الغربي - الجنوب الشرقي - الجنوب الغربي

رُكْنُ الْمَعْرِفَةِ



عَرَفْتُ أَنَّ الْجِهَاتِ الْأَصْلِيَّةَ هِيَ الشَّمَالُ وَالْجَنُوبُ وَالشَّرْقُ وَالْغَرْبُ، وَلَكِنْ مَعْرِفَتِي رُبَّمَا لَا تَكْفِي لِتَحْدِيدِ الْمَوَاقِعِ بِدَقَّةٍ، أَنْظُرْ مَعِي إِلَى هَذَا الشَّكْلِ وَتَعْرِفْ عَلَيَّ:

الجهات الأصلية والفرعية



مِنْ قِيَمِ بِلَادِي أَتَعَلَّمُ

(المُدَّهَبُ ذَهَبٌ وَالْمَعَانِي حُرُوفٌ) يَحْتُ هَذَا الْمَثَلُ عَلَى اتِّبَاعِ السُّلُوكِ الْقَوِيمِ ذِي الْقِيَمَةِ الْعَالِيَةِ وَالتَّعَامُلِ مَعَ الْآخَرِينَ.



هذه الكُرَّةُ تَقَعُ بَيْنَ الشَّمَالِ وَالشَّرْقِ.
تُسَمَّى هذه الجِهَةُ الشَّمَالُ الشَّرْقِيُّ.



وهذه التَّائِزَةُ الْوَرَقِيَّةُ تَقَعُ بَيْنَ الشَّمَالِ وَالغَرْبِ.
تُسَمَّى هذه الجِهَةُ الشَّمَالُ الْغَرْبِيُّ.



هذا الْكِتَابُ يَقَعُ بَيْنَ الْجَنُوبِ وَالشَّرْقِ.
تُسَمَّى هذه الجِهَةُ الْجَنُوبُ الشَّرْقِيُّ.

صغيري المبدع

هل سمعت يومًا عن وسائل وأدوات نستخدمها لتحديد الجهات التي تساعدنا للوصول إلى جهة ما.

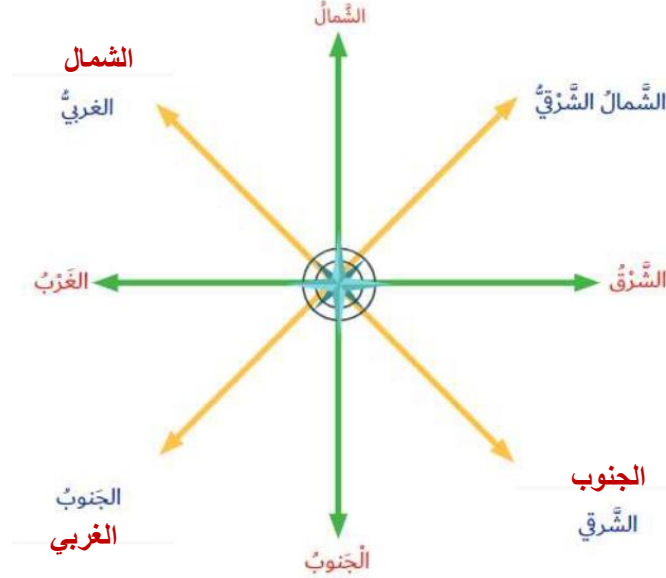


وهذه الدَّرَاجَةُ تَقَعُ بَيْنَ الْجَنُوبِ وَالغَرْبِ.
تُسَمَّى هذه الجِهَةُ الْجَنُوبُ الْغَرْبِيُّ.



أَطَبِّقْ مَا تَعَلَّمْتَ

أَسْتَكْمَلُ كِتَابَةَ أَسْمَاءِ الْجِهَاتِ الْفُرْعِيَّةِ عَلَى الشَّكْلِ الْآتِي:



أَسْتَكْشِفُ وَأُسَجِّلُ 🔍

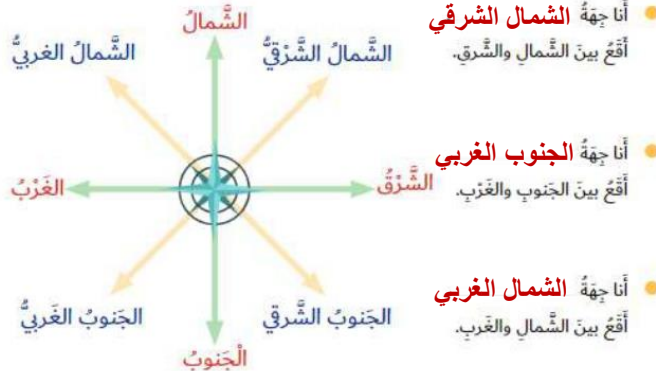
أقرأ العبارات الآتية وأضع علامة (✓) عند الإجابة الصحيحة:

- ❑ الجنوب الغربي هو الجهة التي تقع بين الجنوب والشرق.
- تُسمى الجهة بين الشمال والشرق بالشمال الشرقي. (صح)

أفكر وأجب 💡

أضع الكلمات المساعدة أمام الجمل الآتية:

الكلمات المساعدة: الشمال الغربي - الجنوب الغربي - الشمال الشرقي



ثالثاً: طرائق تحديد الجهات الأصلية.

الكلمات المساعدة: البوصلة - القبلة

رُكْنُ الْمَعْرِفَةِ



علينا أن نتعلم الطرائق التي نساعدنا لتحديد الجهات الأصلية ليلاً ونهاراً.



أولاً الشمس:

نُحَدِّدُ الْجِهَاتِ نَهَاراً
بِوَسِيطَةِ الشَّمْسِ الَّتِي
تُشْرِقُ دَائِماً مِنْ جِهَةِ
الشَّرْقِ، وَتَغِيبُ مِنْ جِهَةِ
الغَرْبِ



ثانياً البوصلة:

نُحَدِّدُ الْجِهَاتِ لَيْلاً وَنَهَاراً بِوَسِيطَةِ الْبُوصَلَةِ وَهِيَ جِهَةٌ نَسْتَعْمِدُهَا
فِي السَّفَرِ وَالطَّائِرَاتِ.

أهميّة معرفة الجهات:

تُخَيِّدُ جِهَةً **الْقِبْلَةَ** (هيّ الجهة التي يتوجّه إليها المسلمون لأداء الصلوة).



أُرْبُطُ مَعَ التَّربِيَةِ الإِسْلَامِيَّةِ
يُعَدُّ اسْتِقْبَالَ الْقِبْلَةِ شَرْطًا
مِنْ شُرُوطِ صِحَّةِ الصَّلَاةِ.

تَعْرِفُ مَوَاقِعَ الْأَمَاكِينِ، مِثْلُ:

مَوَاقِعَ الْأَمَاكِينِ الَّتِي
نَحْتَاجُهَا فِي حَيَاتِنَا اليَوْمِيَّةِ
(المَسْجِدُ - المَدْرَسَةُ -
الْعِيَادَةُ)

مَوْقِعَ الْمَكَانِ الَّذِي نَعِيشُ فِيهِ.

صَغِيرِي الْمَبْدَعِ
مَا الْوَسِيلَةَ الْخَدِيثَةَ
الَّتِي نَسْتَحْدِمُهَا لِمَعْرِفَةِ
الْجِهَاتِ الْأَصْلِيَّةِ بِدِقَّةٍ.



يُشِيرُ مَوْشَرُ الْبُؤْصَلَةِ دَائِمًا إِلَى جِهَةِ الشَّمَالِ.

أُطَبِّقُ مَا تَعَلَّمْتُ

● أكتب اسم الأشخاص الذين يستخدمون البوصلة بالاستعانة بالصورة الآتية:



ربان السفينة



الطيار

أشارك وأتعلم

أختار الإجابة الصحيحة للجمل الآتية وأضع حولها دائرة:

● وسيلة نستخدمها ليلاً ونهاراً لتحديد الجهات الأصلية:

القمر - البوصلة - الشمس - النجم.

● مؤشر البوصلة دائماً يُشير إلى جهة:

الشمال - الشرق - الغرب - الجنوب.