

التاريخ: / /

الصف:

الاسم:

حدد على خريطة الامارات الدول المجاورة التي تطل عليها .

السؤال الأول:

السعودية

السعودية

سلطنة عمان



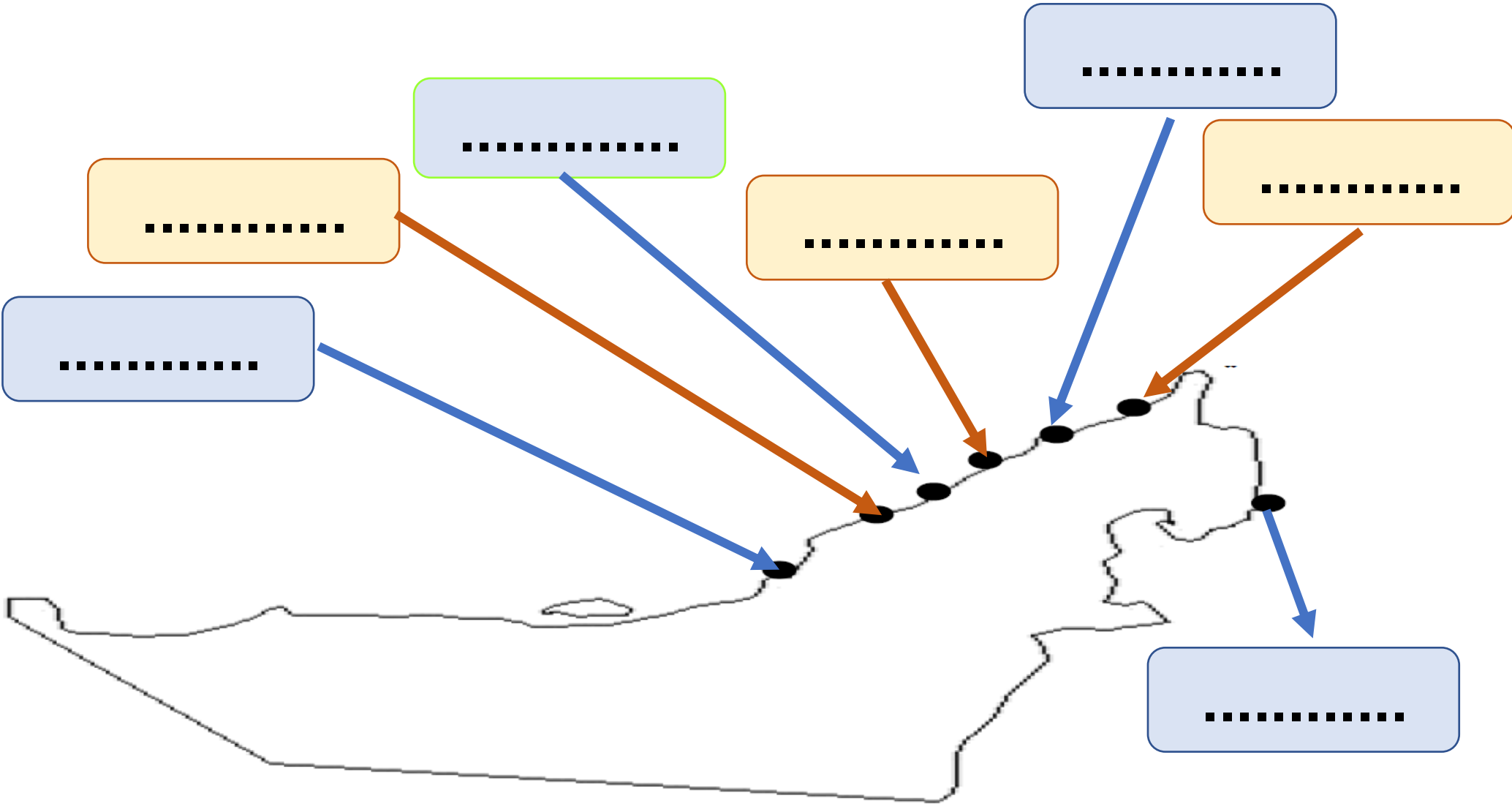
ورقة عمل لمادة: دراسات اجتماعية

التاريخ: / /

الصف:

الاسم:

السؤال الأول: أعدد علي خريطة الإمارات العربية المتحدة مايلي (أبوظبي - دبي - الشارقة - عجمان - أم القيوين - رأس الخيمة - الفجيرة)




ورقة عمل لمادة: دراسات اجتماعية

التاريخ: / /

الصف:

الاسم:

السؤال الأول: أبحث عن خريطة دولة الإمارات .



السؤال الثاني: تقع دولة الامارات

بالنسبة لشبه الجزيرة العربية

جهة


ورقة عمل لمادة: دراسات اجتماعية

التاريخ: / /

الصف:

الاسم:

السؤال الأول: أبحث عن خريطة دولة الإمارات .



السؤال الثاني: تقع دولة الامارات

بالنسبة للوطن العربي

جهة

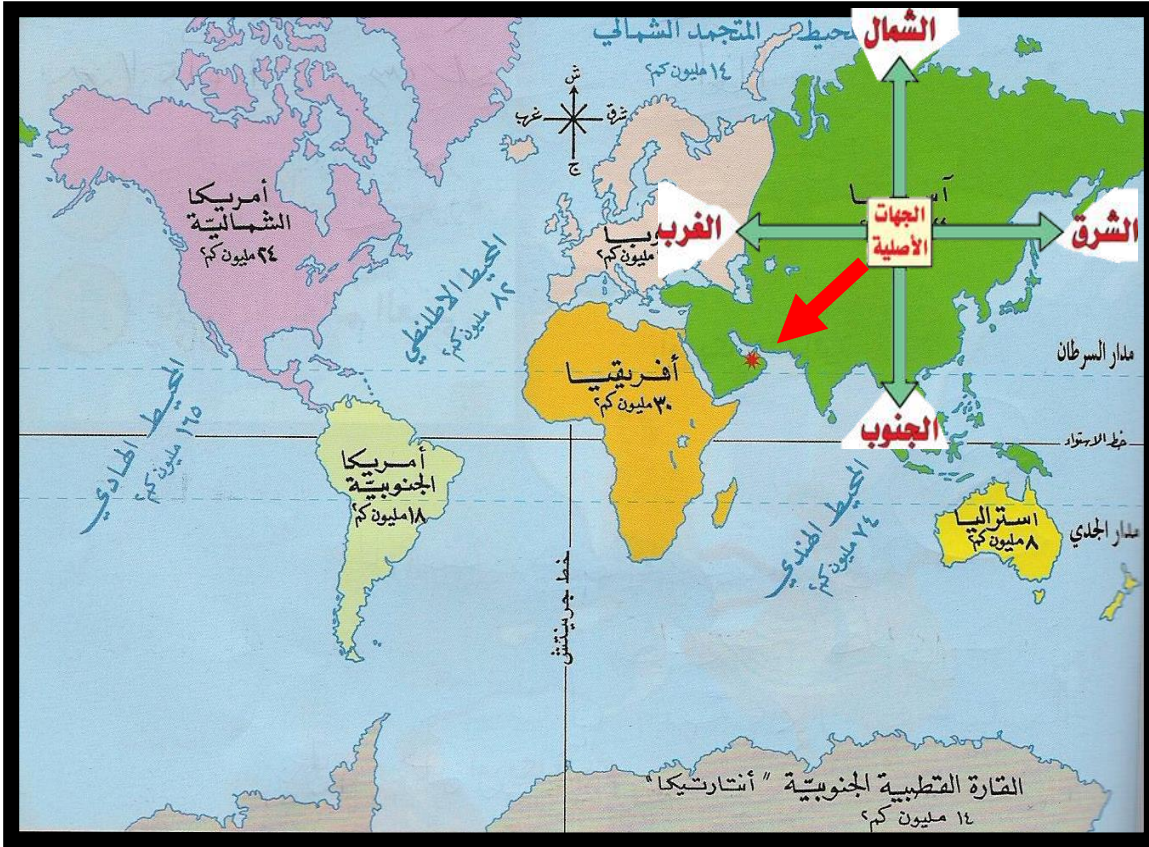
ورقة عمل لمادة: دراسات اجتماعية

التاريخ: / /

الصف:

الاسم:

السؤال الأول: أبحث عن خريطة دولة الإمارات .



السؤال الثاني:

1- تقع دولة الامارات بالنسبة إلي

إلى قارة آسيا جهة

2- تقع دولة الإمارات في قارة

ورقة عمل لمادة: دراسات اجتماعية

التاريخ: / /

الصف:

الاسم:



اكمل الفراغ بما يناسب

السؤال الأول

جنوب

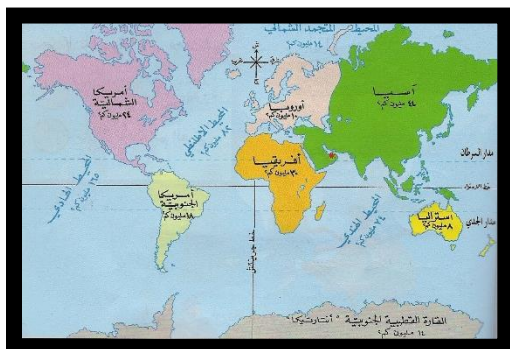
شرق

شرق

1- تقع دولة الإمارات في **الوطن العربي**



2- تقع دولة الإمارات في **شبه الجزيرة العربية**



3- تقع دولة الإمارات في **بالنسبة إلى قارة آسيا**

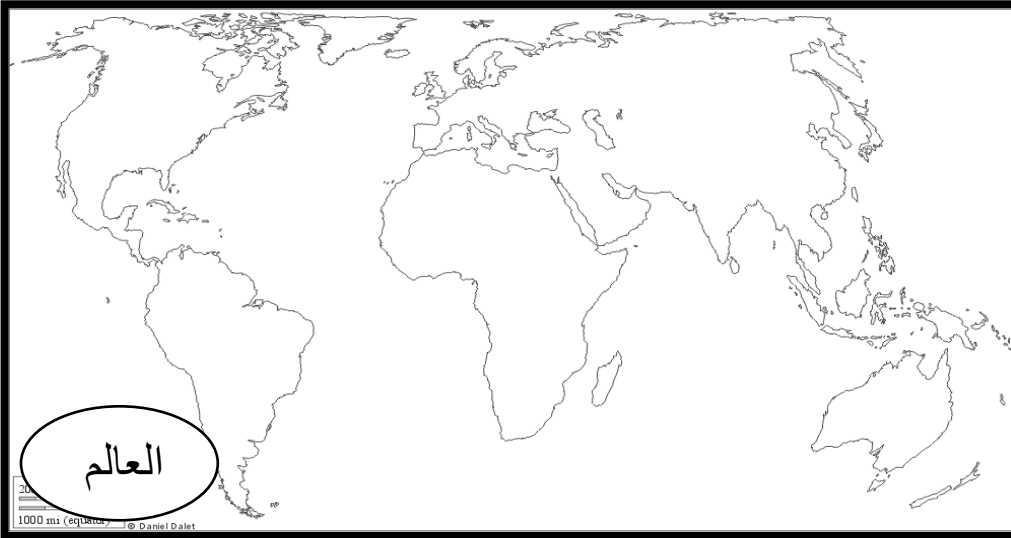
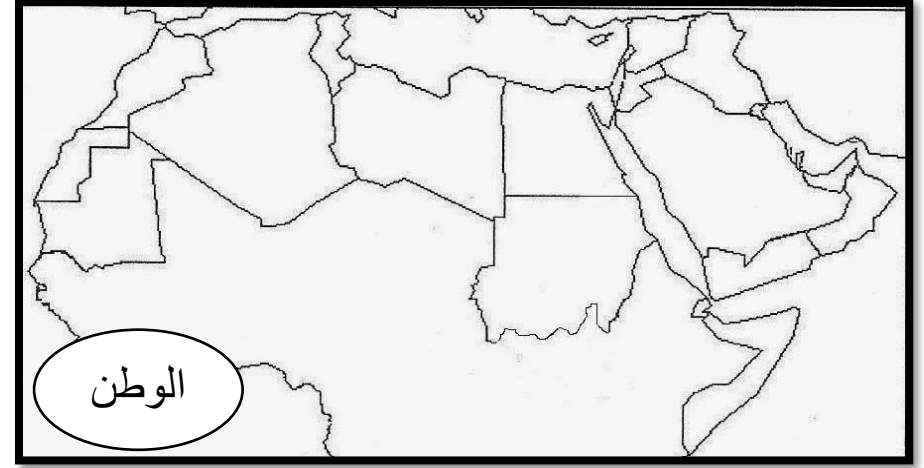
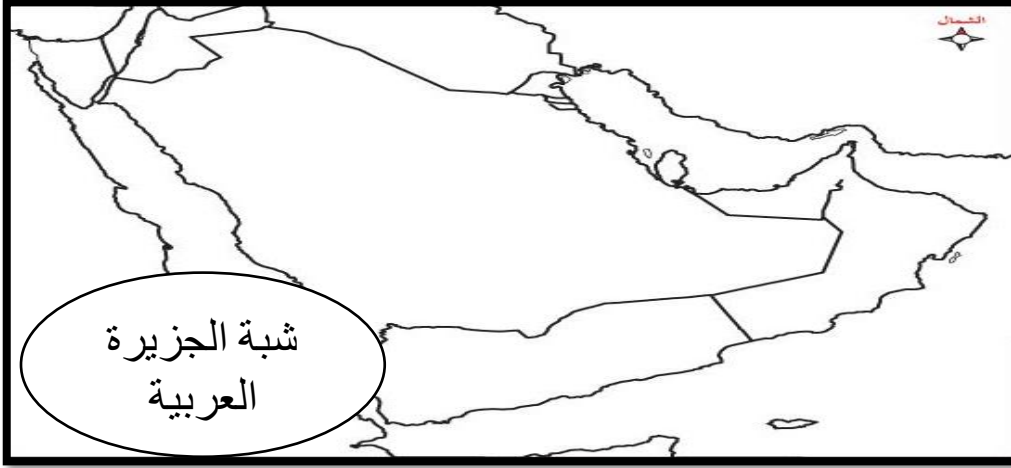
ورقة عمل لمادة: دراسات اجتماعية

التاريخ: / /

الصف:

الاسم:

*** أمامك مجموعة من الخرائط ضع دائرة حول موقع دولتنا الحبيبة و لونها باللون الأخضر:**



ورقة عمل لمادة: دراسات اجتماعية

التاريخ: / /

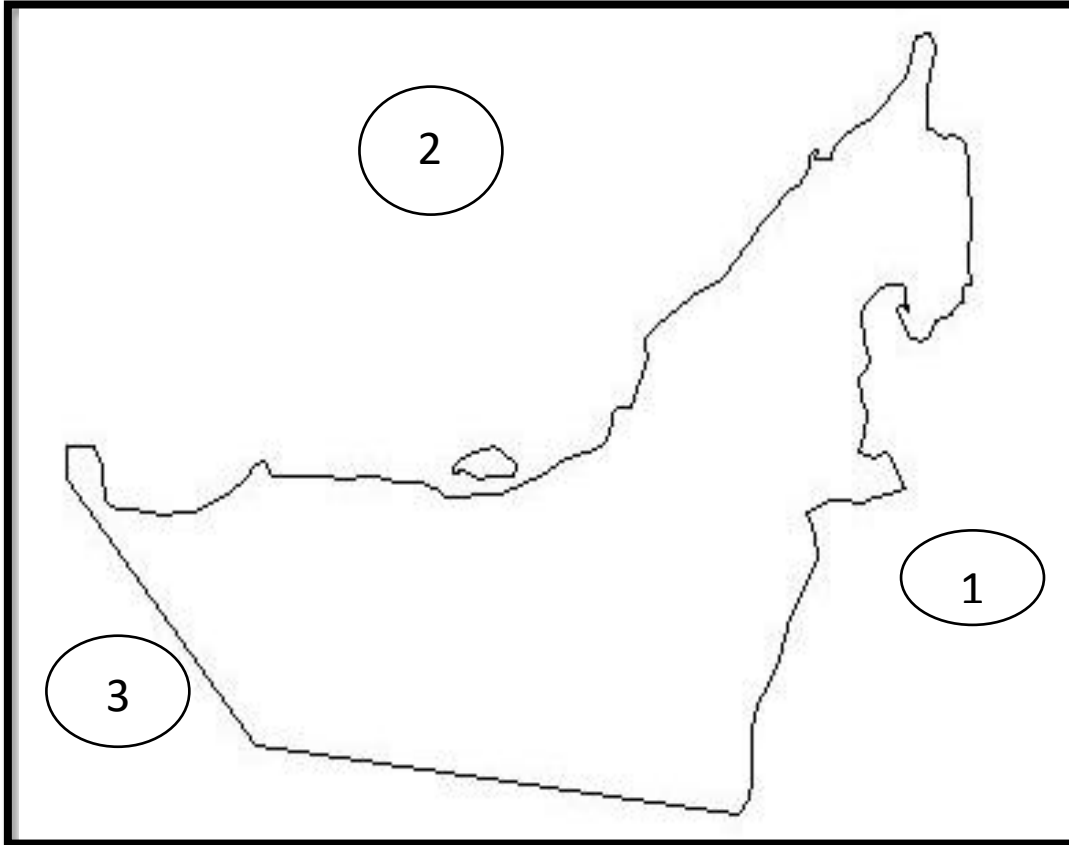
الصف:

الاسم:

سلطنة عمان

الخليج العربي

السعودية



• أمامك خريطة الإمارات اجب عما يلي :

* اكتب ماتدل عليه العبارات التالية:

1- دولة (.....)

2- الخليج (.....)

3- دولة (.....)

* لون :

1- الخليج العربي باللون الأزرق

2- لون دولتنا الحبيبة بألوان العلم

ورقة عمل لمادة : الدراسات الاجتماعية

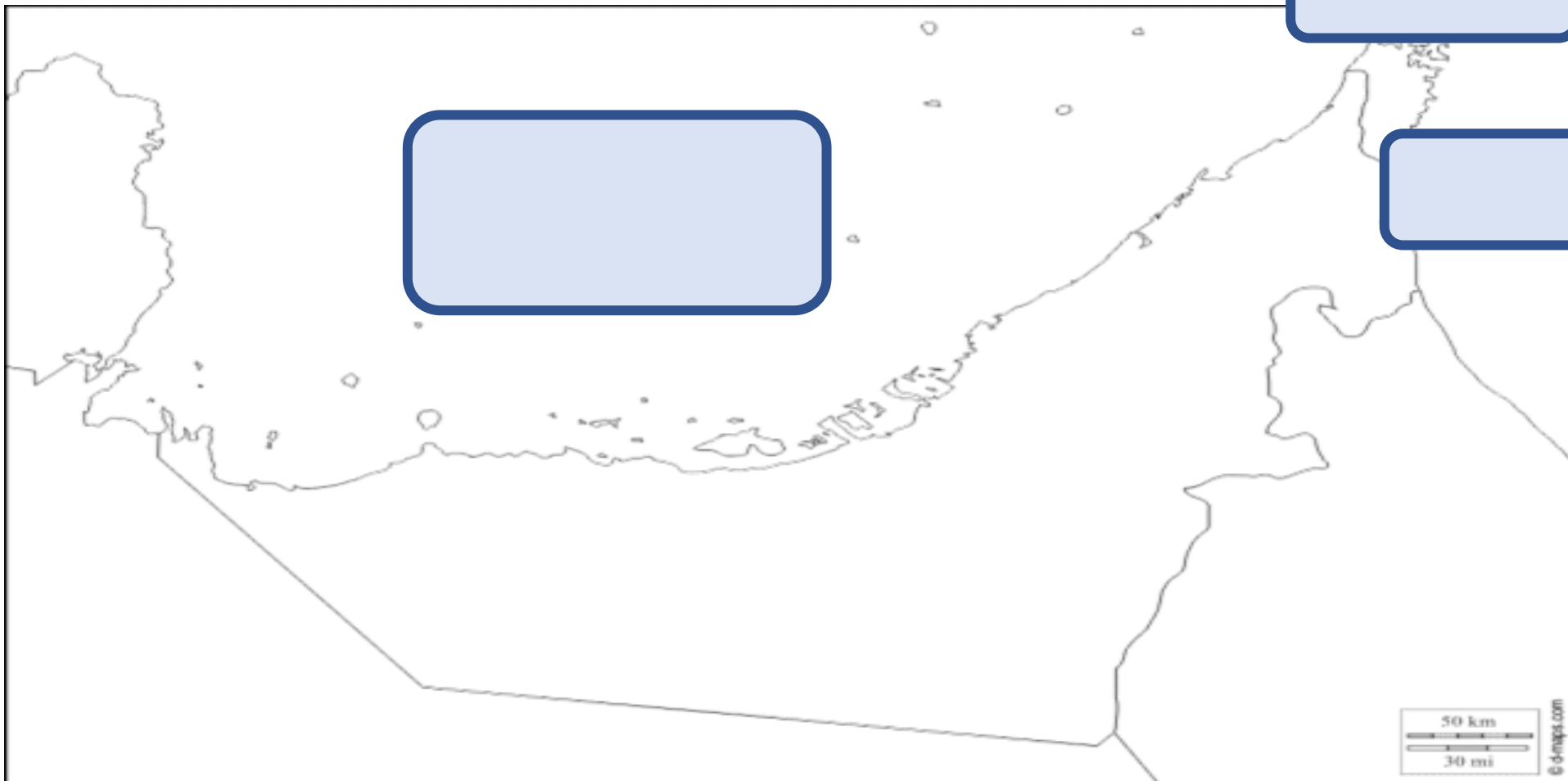
الاسم : الصف : التاريخ : / /

السؤال الأول : حدد على خريطة الإمارات المسطحات المائية التي تطل عليها ولونها بالأزرق...

مضيق

بحر عمان

الخليج العربي



ورقة عمل لمادة : الدراسات الاجتماعية

الاسم :

الصف :

التاريخ : / /

السؤال الأول : حدد على خريطة الإمارات الدول المجاورة والمسطحات المائية التي تطل عليها ...

السعودية

سلطنة عمان

مضيق

بحر عمان

الخليج العربي



ورقة عمل لمادة : الدراسات الاجتماعية


الاسم :

الصف :

التاريخ : / /

تتبع الخطوط المتقطعة لترسم خريطة دولة الإمارات العربية المتحدة .

السؤال الأول :



ورقة عمل لمادة : الدراسات الاجتماعية

الاسم :

الصف :

التاريخ : / /

السؤال الأول

حدد موقع دولة الامارات في الخريطة ولونها بألوان العلم ...



ورقة عمل لمادة : الدراسات الاجتماعية

الاسم : الصف : التاريخ : / /

حدد موقع دولة الإمارات الحدود السياسية

السؤال الأول :



ورقة عمل لمادة : الدراسات الاجتماعية

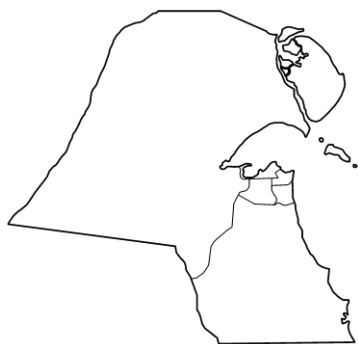
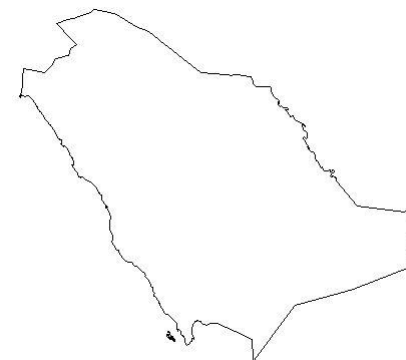
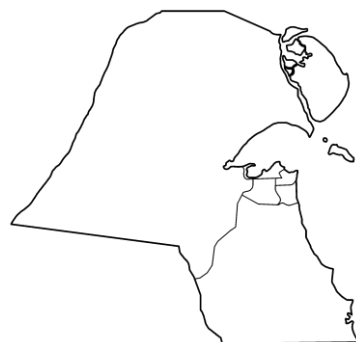
الاسم :

الصف :

التاريخ : / /

أرسم دائرة حول خريطة دولة الإمارات العربية المتحدة .

السؤال الأول :



ورقة عمل لمادة : الدراسات الاجتماعية

التاريخ : / /

الصف:

الاسم:
