



# الدَّرْسُ الثَّانِي: جُمْهُورِيَّةُ الْهِنْدِ

## نَوَاتُجُ التَّعَلُّمِ:

- يتعرَّفُ المفاهيمَ والمصطلحاتَ الواردةَ في الدرسِ.
- يحلُلُ الخصائصَ الطَّبِيعِيَّةَ لسطحِ الأرضِ ومدى تأثيرها على حياةِ السكانِ في جمهوريةِ الهندِ.
- يقومُ بإعدادِ وتقديمِ عرضٍ توضيحيٍّ حولِ مواضيعٍ تتعلَّقُ بالدراساتِ الاجتماعيَّةِ.
- يعدُّ تقريرًا لمظاهرِ التَّعاونِ والعلاقاتِ القائمةِ بينِ دولةِ الإماراتِ العربيَّةِ المتَّحدةِ وجمهوريةِ الهندِ.

## الفكرةُ الرئيسيَّةُ

الهندُ إحدى دولِ آسيا الكُبرى، وتعدُّ موطنًا لإحدى أعظمِ الحضاراتِ القَدِيميَّةِ في العالمِ وهي حضارةُ السِّندِ، وتتسمُّ الجمهوريَّةُ الهنديَّةُ بتعدديةِ الثقافاتِ والأديانِ واللِّغاتِ والأعراقِ، وتمتازُ بتنوعِ تضاريسها وثرواتها الطبيعيَّةِ وأنشطتها البشريَّةِ، وترتبطُ جمهوريَّةُ الهندِ معِ دولةِ الإماراتِ العربيَّةِ المتَّحدةِ بعلاقاتٍ تاريخيَّةِ قديمةٍ تطورتُ في الوقتِ الحاضرِ إلى شراكةٍ استراتيجيَّةِ وتعاونٍ متبادلٍ في العديدِ من المَجالاتِ.

## المفاهيمُ والمصطلحاتُ:

- الشرقُ الأوسطُ.
- الشرقُ الأقصى.
- الانفجارُ السكانيُّ.
- الناتجُ المحليُّ الإجماليُّ.
- الدخلُ الفرديُّ.

## قيمٌ ومواطنَةٌ:

- التعاونُ والشراكةُ.
- حمايةُ البيئَةِ.
- الاستدامةُ.
- الحفاظُ على التراثِ.


## مخطَّطُ الدَّرسِ

### جمهوريةُ الهندِ.

أولًا: الملامحُ الطبيعيَّةُ.

ثانيًا: الملامحُ البشريَّةُ.

ثالثًا: العلاقةُ معِ دولةِ الإماراتِ العربيَّةِ المتَّحدةِ.



# أولًا: الملامح الطبيعية الموقع الجغرافي:

## → مفاهيم ومصطلحات

الشرق الأوسط: منطقة جغرافية تشمل بلدان غرب آسيا ومصر وتطل منطقة الشرق الأوسط على البحر الأحمر والخليج العربي والبحر المتوسط وبحر العرب. الشرق الأقصى: مصطلح جغرافي شاع استخدامه للإشارة إلى دول شرق آسيا.

## رافد إثرائي

### رأس الرجاء الصالح

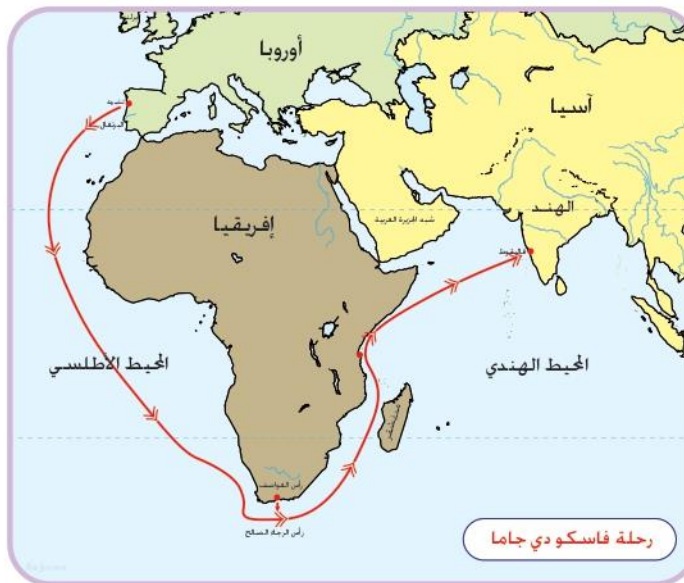
قام فاسكو دي جاما برحلته المشهورة في 1497م فخرج من لشبونة ودار حول جنوب أفريقيا "رأس الرجاء الصالح"، ثم سار بمحاذاة الساحل الشرقي لإفريقيا، ثم واصل طريقة قاصداً الهند فوصل «كلكتا» في 1498م، ثم عاد إلى البرتغال ويعد أول من استخدم رأس الرجاء الصالح للوصول للهند.

\* تقع جمهورية الهند في جنوب قارة آسيا، وأدى موقعها الجغرافي المتوسط بين الشرق الأوسط والشرق الأقصى لجعلها ذات مكانة استراتيجية بارزة، كما أدى قربها من طرق التجارة المهمة، وإطلالتها على مياه المحيط الهندي إلى سهولة اتصالها بالقارة الأفريقية.

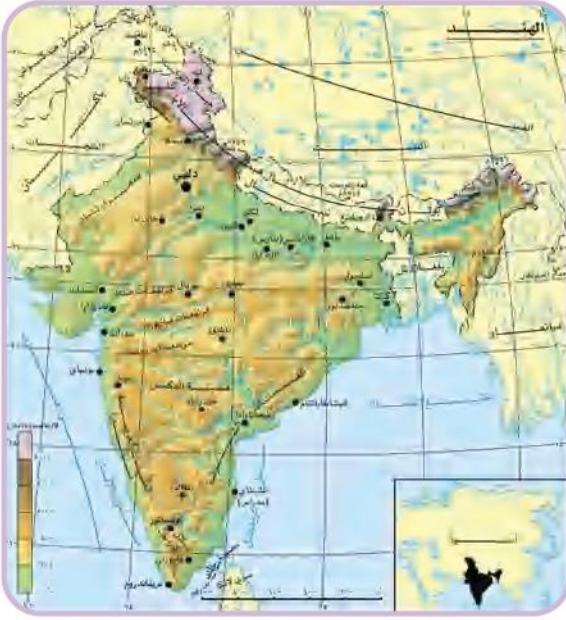
\* شهدت الهند قيام حضارة قديمة وعريقة على أراضيها التي تعد جزءاً من شبه القارة الهندية التي تمتد من بحر العرب غرباً، إلى خليج البنغال شرقاً، وتجاورها العديد من الدول مثل باكستان من الشمال الغربي، والصين والنيبال من الشمال، وبنغلاديش من الشرق، والمحيط الهندي من الجنوب.

\* تقع الهند بين دائرتي العرض (8° - 37°) درجة شمال خط الاستواء، وبين خطي الطول (68° - 97°) درجة شرقاً، وتبلغ مساحتها حوالي 3,288,000 كم<sup>2</sup>.

\* خضعت الهند للتاج البريطاني ما يقارب مائة عام، قبل أن تستقل عنه عام 1947م.



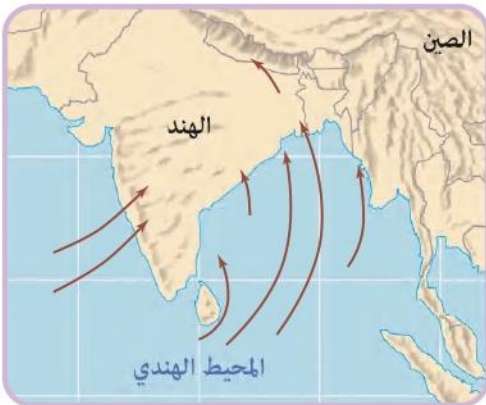
## التضاريس:



- الأخطُ الخريطةَ الطبيعيةَ لتضاريس الهند، وتعرّف الآتي:
- **الجبال الشّمالية:** وتعرّف بجبال الهيمالايا وهي تمثّل حاجزًا طبيعيًا بين الهند والصين وحاجزًا مناخيًا يحمي الهند من رياح وسط آسيا الباردة.
- **سهول الهند الشّمالية (هندوستان):** تقع جنوب الهيمالايا ومن مميزاتهما: استواء السطح - خصوبة التربة - الازدحام البشري - التاريخ الحضاري، وتقع بها أهم المدن، ومنها: دلهي وكلكتا.
- **هضبة الدكن:** تشغل معظم شبه جزيرة الهند، وهي هضبة بركانية، تتميز بالانحدار من الغرب إلى الشرق ومن الجنوب للشمال، تقطعها بعض الأودية النهرية.



▷ الرياح الشتوية الجافة التي تهب من اليابس إلى المحيط



▷ الرياح الصيفية الرطبة التي تهب من المحيط إلى اليابس

## المناخ:

يتميز مناخ جمهورية الهند بأنه موسمي يتصف بفصل جاف شتاءً وفصل مطير صيفًا.

### مزايا المناخ في الهند

#### فصل الصيف

- حرارة مرتفعة وخاصة في المناطق الداخلية.
- سقوط أمطار غزيرة نتيجة لهبوب الرياح الموسمية الجنوبية الغربية القادمة من المسطحات المائية الواسعة باتجاه اليابس.

#### فصل الشتاء

- بارد وخاصة في الشمال.
- يسود الجفاف معظم أراضي الهند نتيجة لهبوب الرياح الشمالية الغربية الجافة.

### أعتز وأفتخر



بالرجوع إلى شبكة المعلومات العالمية والأطلس الجغرافي، أعد عرضًا مزودًا بالخرائط والصور المرئية يوضح أهمية الموقع الجغرافي لدولة الإمارات العربية عربيًا وعالميًا، مقارنةً بالموقع الجغرافي لجمهورية الهند، واعرضه أمام معلمك وزملائك.

## ثانيًا: الملامح البشرية

### سكان الهند:

تحتلُّ جمهورية الهند المرتبة الثانية من حيث عدد السُّكَّان والكثافة السُّكَّانية في العالم، وقُدِّر عدد سُكَّانها بنحوٍ مليار وثلاثمئة وثمانين مليون نسمةٍ عام 2020م وهم يمثلون ما نسبته (17.7%) من سُّكَّان العالم.

### ○ توزيع السُّكَّان:

يختلف توزيع السُّكَّان في الهند من منطقةٍ إلى أخرى، نتيجةً لمجموعةٍ من العوامل الطبيعية والبشرية. يتركز السُّكَّان في المدن الكبيرة مثل نيودلهي العاصمة، ومومباي، وكلكتا، وحيدر أباد، وغيرها. وللكثافة السُّكَّانية والازدحام في الهند آثارٌ سلبيةٌ كانت سببًا في العديد من المشاكل الاقتصادية والاجتماعية مثل انخفاض مستوى دخل الفرد السنوي، وارتفاع نسبة البطالة وتعدد اللغات.

### ○ الانفجار السُّكَّاني في الهند:

الانفجار السُّكَّاني يعني زيادة أعداد السُّكَّان الكبيرة بالمقارنة مع الموارد المتاحة.

• أسبابه:

▪ ارتفاع الإقبال على الزواج في سنٍّ مبكِّرٍ.

▪ ارتفاع نسبة الفقر والامية.

• نتائجه:

▪ الضغط على الخدمات والموارد.

▪ ارتفاع البطالة وانتشار المشكلات الاقتصادية والاجتماعية.

▪ نقص الأغذية والرعاية الصحية والاجتماعية.

### النشاط الاقتصادي في الهند:

\* تشكلت تكنولوجيا المعلومات واجهة الاقتصاد الهندي الحديث، وتعدُّ أسرع القطاعات نموًا حيث تدرُّ على البلاد حوالي (13) مليار دولار سنويًا.

\* يحتلُّ الاقتصاد الهندي المركز العاشر عالميًا من حيث تبادل العُمَلات والرابع من حيث القوة الشرائية ولكن نظرًا لارتفاع عدد سُكَّانها تتراجع الهند من حيث الدخل السنوي للفرد.

\* تشتهر الهند بثرواتها الاقتصادية المتنوعة وتصنّف عالميًا كعاشر أكبر اقتصادٍ في ناتجها المحلي الإجمالي.



## → مفاهيم ومصطلحات

الناتج المحلي الإجمالي: هو مؤشر اقتصادي يقيس القيمة النقدية لإجمالي السلع والخدمات التي أُنتجت داخل حدود منطقة جغرافية ما (بلد مثلاً) خلال مدة زمنية محددة (سنة أو نصف سنة مثلاً). والناتج المحلي الإجمالي ليس مؤشراً على الرفاهية الاجتماعية ولا على الثروة الإجمالية للدولة.

الدخل الفردي: هو إجمالي ما يحصل عليه الإنسان من عمله الذي يعمل فيه أو من أي مصدر آخر، وهو الدخل الذي يعتمد عليه الإنسان حتى يستطيع أداء واجباته ومسؤولياته والحصول على احتياجاته.

## رافد إثرائي

### نبات الجوت



هو المحصول الثاني في الأهمية من بين محاصيل الألياف النباتية فلا يسبقه إلا القطن، وترجع أهميته إلى أنه أرخص الألياف

لرخص تكاليف الإنتاج، ويستهلك على نطاق واسع لطول الألياف وقوتها وتجانسها ونعومتها. ويستخدم الجوت في صناعة الخيش، ومواد الحشو الرخيصة، والأكياس والحبال والبسط.



## أزاد معرفة

### زراعة النخيل في دولة الإمارات العربية المتحدة

النخيل والإمارات.. علاقة حياة يرويها الماضي ويؤكد لها الحاضر، بل هي علاقة وجود، تربط بين الإمارات وأهلها وبين شجرة النخيل، حيث تمتد عميقاً في الماضي.

\* من أبرز الأنشطة الاقتصادية التي يمارسها السكان في الهند ما يلي:

- 1. الزراعة:** رغم التقدم الصناعي الذي تشهده الهند، إلا أنها لا تزال دولة زراعية، تعتمد على الأمطار الموسمية، فحوالي 75% من أراضيها تُروى بالأمطار، ويعمل بالزراعة حوالي 67% من القوى العاملة فيها.
- 2. الثروة الحيوانية:** تُوجد في الهند ثروة حيوانية ضخمة وذلك لكثرة المراعي الطبيعية ومن أهم الحيوانات: الأبقار - الجواميس - الأغنام - الماعز - الطيور والدواجن.

- 3. الطاقة والثروة المعدنية:** تتمتع الهند بوفرة في مصادر الطاقة التقليدية كالنحاس، وغير التقليدية كطاقة الرياح والمياه والطاقة الشمسية، إلا أن هذه المصادر لا تكفي لسد احتياجات الهند المتزايدة. لذلك تلجأ إلى الاستيراد من الخارج، وخصوصاً من مصدري النفط الخام والغاز الطبيعي من دول الشرق الأوسط، بجانب ذلك تُوجد ثروة معدنية بكميات كبيرة تقوم عليها الصناعات الحديثة، مثل خام الحديد والمنجنيز والكروم.

4. **الصناعة:** الهندُ واحدةٌ من أسرع الاقتصادات نموًا في العالم، ودخلت بصناعاتها في عالم المنافسة العالمية، وهي من الدول العشرين الناشئة في الصناعة كالصين والبرازيل والمكسيك، ومن الدول



صناعة السيارات

المصدرة للتكنولوجيا المتقدمة إلى العالم، فقطاع الصناعة يسهم بمعدل 19% من الناتج القومي، وتمتلك مقومات الصناعة الحديثة كالأيدي العاملة والخبرة الفنية والمواد الخام اللازمة للصناعة، ومن أهم الصناعات فيها السجاد والسيارات والتكنولوجيا والملابس والأسلحة والأواني المنزلية والأسمدة الكيماوية وغيرها.

5. **التجارة:** وتشمل الصادرات والواردات التي يمكن التعرف عليها من خلال الجدول الآتي:



صناعة السجاد

التجارة في الهند
أهم الصادرات
المنتجات الزراعية - المنسوجات - الأحجار الكريمة - المجوهرات - الخدمات وتقنيات البرمجة - المنتجات الكيماوية ...
أهم الواردات
النفط الخام - الآلات - الأسمدة الكيماوية ...



**أعترز وأفتخر**  
من خلال متابعة الأحداث الجارية في وسائل الإعلام، وبالرجوع إلى أخبار الصحف المحلية، أعد نشرةً أخباريةً حول إنجازات دولتي الحبيبة في مجال الفضاء، وأقدمها في الإذاعة المدرسية أمام زملائي في الطابور الصباحي.

### الهند والفضاء

تمكنت الهند عام 1960م من تطوير برامجها الفضائية واستطاعت التقدم في مجال الطاقة النووية، وتعد (بنغالور) عاصمة الهند التكنولوجية، وفيها تمارس التكنولوجيا الحيوية وتكنولوجيا التصنيع وعلوم الفضاء والالكترونيات والكمبيوتر وغيرها. وتعد الهند أول دولة آسيوية تصل إلى مدار المريخ، وأول دولة تفعل ذلك في محاولتها الأولى.



## رافدٌ إثرائيٌّ

### «تاج محل»



يُعتبر تاج محل أعجوبة من عجائب الدنيا السبع، ففي عام 1612م تزوج إمبراطور الهند من فتاة منحها اسم «ممتاز محل»، والذي يعني «مختارة القصر» أو «جوهرة القصر»، وأثناء ولادتها تُوفيت، فوعدها وهي على فراش الموت بأنه سيبنى لها الضريح الأعظم والأعلى على وجه الأرض، وكان ذلك عام 1631م. وهو مبني كلياً من الرخام الأبيض، ويتكون من مجموعة من المباني التي استغرق بناؤها (22) سنة، وتم الاستعانة بـ (22,000) عامل و(1000) فيل لنقل مواد البناء. واستخدم (28) نوعاً مختلفاً من الأحجار الكريمة لترصيع الضريح.

6. **السّياحة:** تتمتع السّياحة في الهند بأهميّة اقتصادية وتنمو بشكل سريع، لتوافر الكثير من مقومات الجذب السّياحيّ منها: تنوع المناخ والتضاريس، والطبيعة السّاحرة والمناظر الخلّابة والأماكن التاريخية والأثرية ومصبّات الأنهار والعيون التي تنبع من أعالي الجبال، مما يتيح الفرصة لتدفّق الملايين من السّياح على مدار العام، ومن أشهر المعالم السياحية في الهند تاج محلّ ومنطقه شيملا والقلعة الحمراء وغيرها.




## ثالثًا: العلاقة مع دولة الإمارات العربية المتحدة

حظيت العلاقات الإماراتية - الهندية بتاريخ حافل، نقلتها إلى آفاق متقدمة، توجها الباني المؤسس وصاحب الرؤية الثاقبة، الشيخ زايد بن سلطان آل نهيان -طيب الله ثراه- بزيارة تاريخية للهند عام 1975م، كانت هذه الزيارة بمثابة حجر الأساس للعلاقات الثقافية، والسياسية، والتجارية، والاقتصادية، الراسخة البنين، والقائمة بين البلدين إلى اليوم.

توجت العلاقات الإماراتية - الهندية بزيارة صاحب السمو الشيخ محمد بن زايد آل نهيان ولي عهد أبوظبي نائب القائد الأعلى للقوات المسلحة -حفظه الله، حيث اتفقت دولة الإمارات العربية المتحدة وجمهورية الهند على بناء شراكة استراتيجية تقوم على الاحترام المتبادل والتعاون الفعال في العديد من المجالات منها: التجارة والاستثمار والتنمية الاقتصادية والطاقة وتداعيات تأثير المناخ والأمن والعمل على تحقيق الاستقرار في المنطقة، وبالزيارة التي قام بها رئيس الوزراء الهندي لدولة الإمارات العربية المتحدة بدعوة كريمة من صاحب السمو الشيخ محمد بن زايد آل نهيان ولي عهد أبوظبي نائب القائد الأعلى للقوات المسلحة -حفظه الله، وجاءت زيارة رئيس الوزراء الهندي التي تُعد الأولى لرئيس وزراء هندي للدولة منذ 34 عامًا لتدل على انطلاقة نحو شراكة استراتيجية جديدة وشاملة بين الهند ودولة الإمارات العربية المتحدة في عالم يشهد تحولات عديدة وفرص وتحديات متغيرة.

عكست زيارة صاحب السمو الشيخ محمد بن زايد آل نهيان ولي عهد أبوظبي نائب القائد الأعلى للقوات المسلحة -حفظه الله- للهند كضيف شرف في الاحتفال بيوم الجمهورية متانة وقوة العلاقات بين البلدين.

تزخر الهند بإمكانات بشرية وجغرافية هائلة مؤهلة لجذب مزيد من الاستثمارات، فقد أكدت دراسة لوزارة الاقتصاد أن التجارة والاستثمار يشكّلان حجر الأساس للعلاقات الاقتصادية الثنائية المزدهرة بين دولة الإمارات والهند، وتعتبر دولة الإمارات العربية المتحدة أكبر بلد عربي مستثمر في





## أولاً الفهم والاستيعاب

→ أجب عما يلي:

1. أصوغ تعريفاً مناسباً للمفاهيم والمصطلحات الآتية:

▪ الشرق الأقصى: مصطلح جغرافي شاع استخدامه للإشارة إلى دول شرق آسيا

▪ الأنشطة البشرية: الأعمال التي يمارسها السكان بأشكالها المختلفة

▪ الانفجار السكاني: زيادة أعداد السكان زيادة كبيرة مقارنة مع المواد المتاحة

2. أسجل بعض النتائج التي ترتبت على قيام الحضارات وكثرة السكّان في الهند:

تحقيق لتطور الحضاري ونشوء الحضارات العريقة

الضغط على المواد المختلفة

3. أكتب ما يدلُّ على العلاقات الوثيقة والروابط المشتركة بين دولة الإمارات العربيّة المتّحدة وجمهورية الهند:

التبادل التجاري | العلاقات الاقتصادية | تبادل الزيارات بين رؤساء الدولتين

→ أختار الكلمة التي لا تنتمي وأضع أسفلها خطاً:

- |            |           |                 |          |
|------------|-----------|-----------------|----------|
| 1. الأبقار | - الأغنام | - الإبل         | - النمو  |
| 2. التّفط  | - الفحم   | - الغاز الطبيعي | - الرياح |

→ أفكّر وأفسّر الآتي:

1. استخدام بعض الحيوانات في تنشيط السياحة في الهند. لان الهند غنية بالغابات وأنواع الحيوانات الفريدة التي يمكن الاستفادة منها لدعم السياحة ورفع الناتج المحلي وزيادة الدخل

2. تُعاني الهند من انخفاض الدخل السنوي للفرد رغم النمو الاقتصادي فيها.

بسبب الزيادة الكبيرة جداً في عدد السكان

3. سُقوط الأمطار على الهند صيفاً.

بسبب مرور الرياح الموسمية فوق المسطحات المائية الكبرى وتشبعها بالرطوبة الجوية

→ أقرن بين صادرات دولة الإمارات العربية المتحدة وصادرات الهند:

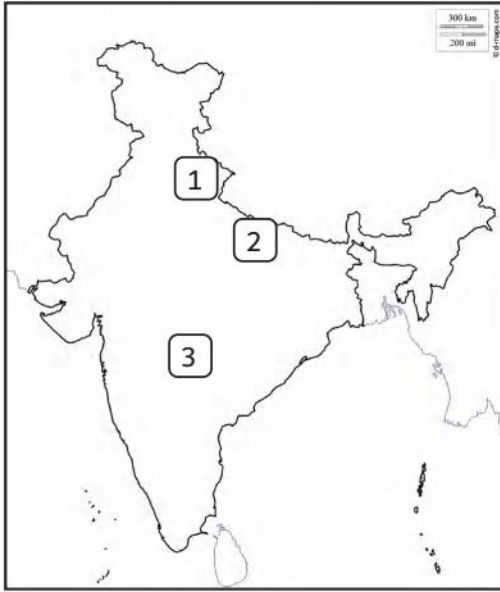


→ أسجل حقيقة واحدة توضح العلاقة بين دولة الإمارات العربية المتحدة والهند:

ترتبط الهند والإمارات بعلاقات اقتصادية وتجارية قديمة

→ من خلال خبراتي السابقة وملاحظة الخريطة:

أحد دلالات الأرقام الموجودة عليها:



1. جبال: الهيمالايا

2. سهول: الهند الشمالية

3. هضبة: هضبة الدكن

أستنتج أثر جبال الهيمالايا مناخيًا على الهند.  
حاجز طبيعي بين الهند والصين وحاجز مناخي يحمي الهند من الرياح وسط آسيا الباردة

أحد المسطحات المائية التي تطل عليها جمهورية الهند.  
خليج البنغال | بحر العرب | المحيط الهندي