

مراجعة للاختبار التكويني الأول
المادة: العلوم ج3
الصف: الأول الأساسي
المعلمة/ فاطمة سالم الدهماني

❖ ظل حرف الإجابة الصحيحة من بين الخيارات الأربعة .

1. هو مكان جاف يحتوي على مجموعة من الأعشاب .

- أ الموطن البيئي
ب الأرض العشبية
ج الغابة
د الصحراء

2. المكان الذي يعيش فيه الحيوان.

- أ الموطن البيئي
ب الأرض العشبية
ج الغابة
د الصحراء

3. تغير في عضو من جسم الحيوان يساعده في البقاء حيا.

- أ السبات
ب التخفي
ج التكيف
د التمويه

4. مكان يوجد فيه العديد من الأشجار.

- أ الموطن البيئي
ب الأرض العشبية
ج الغابة
د الصحراء

4. مسطح مائي تحيط به اليابسة من جميع الجهات.

- أ المحيط
- ب البحيرة
- ج البحر
- د النهر

5. مسطح مائي مالح كبير جدا وعميق للغاية.

- أ المحيط
- ب البحيرة
- ج البحر
- د النهر

6. عندما تموت الحيوانات والنباتات جميعها من نوع واحد تسمى :

- أ الميتة
- ب المخبأة
- ج المهاجرة
- د منقرضة

7. هو حالة السماء والهواء كل يوم:

- أ الطقس
- ب الصيف
- ج الجو
- د ممطر

8. الثرمومتر جهاز يستخدم لقياس:

- أ سرعة الرياح
- ب كمية المطر
- ج درجة الحرارة
- د اتجاه الرياح

9. تنمو الأشجار المرتفعة في الغابات للحصول على الكثير من:

أ الهواء النقي ب ضوء الشمس

ج المطر الغزير د الحيوانات

10. لكي تبقى كلاب البراري في أمان من الحيوانات الأخرى فإنها:

أ تجري سريعاً ب تغير لون فروها

ج تختبئ تحت الأرض د تطلب المساعدة

11. يتغذى العديد من حيوانات الأراضي العشبية على الأعشاب ، بالتالي فإن أسنانها :

أ حادة ب مسننة

ج أنياب د مستوية

12. ما مظهر التكيف الذي يساعد الزرافة في الحصول على الغذاء من الأشجار المرتفعة

أ الرقبة الطويلة ب الأسنان الحادة

ج أنياب د المخالب

13. أكبر المواطن البيئية على سطح الأرض هي :

أ البحيرات ب الأنهار

ج المحيطات د البحار

14. الحيوانات والنباتات تحتاج لبعضها البعض في المواطن البيئية المختلفة لـ :

أ لتلهو معا

ب للقتال

ج لتبقى على قيد الحياة

د للسباحة

15. يبني القندس سدود عند البحيرة بحيث يصبح لديه :

أ مكان آمن للعيش

ب مكان ليلعب

ج مكان للسباحة

د دواء وغذاء

16. عندما تتغير المواطن البيئية قد لا تحصل الحيوانات والنباتات على ما تحتاج إليه:

أ تختبئ وتنام

ب تهاجر أو تموت

ج تبقى في مكانها

د تقفز وتلعب

17. يطلق على الهواء المتحرك اسم:

أ المطر

ب الثلج

ج البرد

د الرياح

18. الشيء الذي يجعل درجة حرارة الهواء تتغير:

أ الرياح

ب المطر

ج الشمس

د الرعد


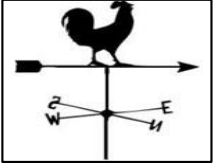
2. صل بخط بين اسم الجهاز والصورة الدالة عليه :

الثيرموميتر

مقياس المطر

مقياس الرياح

دوارة الرياح



3. ضع علامة (✓) أمام العبارة الصحيحة وعلامة (x) أمام العبارة الخاطئة :

- 1) جهاز مقياس الرياح يقيس سرعة الرياح . ()
- 2) الثيرموميتر جهاز يستخدم لقياس كمية المطر. ()
- 3) من مظاهر التكيف التي تساعد الراكون على تسلق الأشجار ذيله الطويل . ()
- 4) تتميز الغزالة بقوة في الحواس تساعد على البقاء آمنة من المخاطر. ()
- 5) الصحراء مكان جاف وحار وكثير الأمطار. ()
- 6) يساعد النحل النباتات في إنتاج نباتات جديدة . ()
- 7) حبوب اللقاح عبارة عن مسحوق داخل الزهرة يساعد في إنتاج البذور . ()

4. صل بين الكلمة والصورة الدالة عليها

المحيط


عذب

مالح

البحيرة



5. لون باللون الأصفر المستطيل أسفل صور الحيوانات التي تعيش في الصحراء
لون باللون الأخضر المستطيل أسفل صور الحيوانات التي تعيش في المواطن العشبية
لون باللون الأصفر المستطيل أسفل صور الحيوانات التي تعيش في الغابة



6. حوطي الحيوانات التي تعيش في البحيرة ، وضع علامة x على الحيوانات التي تعيش في المحيط .



7. صل الكلمة بالصورة المناسبة:



• مأوى

• غذاء

• أنظُرْ إلى الصُّورِ .



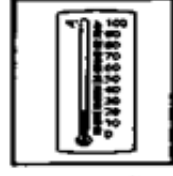
مقياس النّظَرِ



دوّارة الرّياح



ميزان إلكتروني



الثيرموميتر

8. يريد سيف أن يعرف مدى سخونة الجو في الخارج .

ما الأداة التي ينبغي أن يستخدمها ؟

A. الثيرموميتر

B. ميزان إلكتروني

C. دوارة الرياح

D. مقياس المطر

9. يريد زايد أن يعرف اتجاه هبوب الرياح.

ما الأداة التي ينبغي أن يستخدمها ؟

A. الثيرموميتر

B. ميزان إلكتروني

C. دوارة الرياح

D. مقياس المطر