







Student name: G4 /

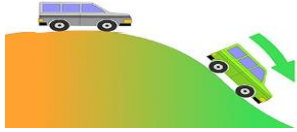




1- What is Energy? ماهي الطاقة?

2- Write under each picture the type of Energy? اكتب اسفل كل صورة شكل او نوع الطاقة?

					
.....

Q3: Write the first form of energy in each case, then write what form of energy it is transformed into:

اكتب الشكل الأول للطاقة في كل حالة ثم اكتب الى اي اشكال الطاقة يتحول. المثال الأول محلول لتحرك السيارة اسفل المنحدر

Case / Device حالة جهاز	Moving down hill 	Fireworks 	Toaster 	Fan 	Lamp 
Frist form	Potential Energy
Transfer to	Kinetic Energy