



مدرسة سعد بن معاذ

أسئلة مراجعة

للفصل السادس – الفصل الثالث

لمادة الدراسات الاجتماعية والتربية الوطنية

2021 - 2020

اسم الطالب:

الصف والشعبة:

اسم المعلم: ا. ظاهر محمد





1. اِخْتَرِ الإِجَابَةَ الصَّحِيحَةَ:
ما اسْمُ أعلى جَبَلٍ في دولة اليابان؟

- جبلُ راوسو.
- جبلُ إيواتي.
- جبلُ أونزين.
- جبلُ فوجي.



2. اِخْتَرِ الإِجَابَةَ الصَّحِيحَةَ:
ما اسْمُ النَّبَاتِ الموجودِ في الصُّورة؟

- الحمَّاضُ.
- العديونُ.
- الطَّرثوثُ.
- الخبيزةُ.

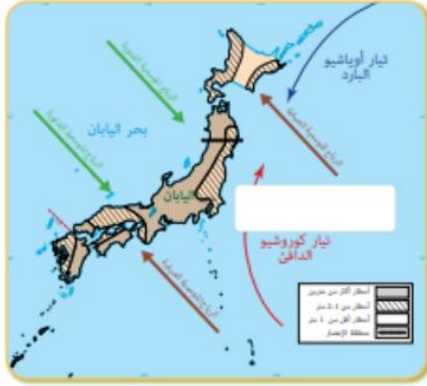
3. اختر الإجابة الصحيحة من مكانها على الخريطة: (اختيارين)
"تنفردُ قارَّةُ أفريقيا بموقعها الجُغرافيِّ المُتوسِّطِ بينَ قاراتِ العالمِ القديمِ". حدِّدْ



تلك القارات:

- آسيا
- أوروبا
- أمريكا الشماليَّةُ
- أستراليا
- أمريكا الجنوبيَّةُ

4. اختر الإجابة الصحيحة من مكانها على الخريطة:
المسطح المائي الذي تهبُّ منه الرياح الموسميَّة الجنوبيَّة الشرقيَّة في دولة اليابان هو:



- المحيط الهادي.
- المحيط الجنوبيُّ.
- المحيط الهنديُّ.
- المحيط الأطلسيُّ.

5. اختر الإجابة الصحيحة الدالَّة عليها الصورة الآتية، والتي تُشيرُ إلى أحدِ أنواع النباتاتِ الحوليَّةِ المُستفادِ مِنْ بُدورها في إعدادِ القهوة:



- نباتُ الحبيِّ
- نباتُ العريونِ
- نباتُ الحميضِ
- نباتُ الخُبيزِ

6. اختر الإجابة الصحيحة الدالَّة عليها الصورة الآتية، والتي تُشيرُ إلى أحدِ المواردِ



الطبيعيَّةِ الموجودةِ في قارَّةِ أفريقيا.

- المواردُ الغائيَّةُ
- المواردُ المعدنيَّةُ
- المواردُ البشريَّةُ
- المواردُ المائيَّةُ

7. اختر الإجابة الصحيحة بعد التمعّن بالصورة الآتية:



مَنْ هُوَ صَاحِبُ السُّمُوِّ الَّذِي قَلَّدَ "وَسَامَ زَايِدٍ" لِلرَّئِيسِينَ الْأَثْيُوبِيِّ وَالْإِيرِيترِيِّ فِي مَرَامِسِ أَبُوظَبِي الرِّسْمِيَّةِ فِي شَهْرِ يُولْيُو 2018م؟

- الشَّيْخُ مُحَمَّدُ بْنُ زَايِدِ آلِ نَهْيَانَ - حَفْظُهُ اللَّهُ.-
- الشَّيْخُ مُحَمَّدُ بْنُ رَاشِدِ آلِ مَكْتُومٍ - رِعَاهُ اللَّهُ.-
- الشَّيْخُ خَلِيفَةُ بْنُ زَايِدِ آلِ نَهْيَانَ - حَفْظُهُ اللَّهُ.-
- الشَّيْخُ عَبْدِ اللَّهِ بْنُ زَايِدِ آلِ نَهْيَانَ - حَفْظُهُ اللَّهُ.-

8. اقرأ الجُمْلَةَ الآتِيَةَ، ثُمَّ اخْتَرِ الْإِجَابَةَ الصَّحِيحَةَ:
"الْيَابَانُ عِبَارَةٌ عَنِّ أَرْخَبِيلٍ تَحِيْطُ بِهِ مِيَاهُ الْمُحِيْطِ الْهَادِي."
إِلَامٌ يُشِيرُ مَفْهُومٌ "أَرْخَبِيلٍ" الْوَارِدُ فِي الْجُمْلَةِ السَّابِقَةِ؟

- الصَّحْرَاءِ.
- الْجِبَالِ.
- الْجُزْرِ.
- الْجَلِيدِ.

9. اختر الإجابة الصحيحة بعد النظر إلى الجدول الآتي:
المعدن الذي يحتل المرتبة الثانية من حيث الإنتاج هو:

النسبة %	أشهر مناطق إنتاجه	المعدن
88	جنوب أفريقيا - غانا	الذهب
9	دول المغرب العربي - جنوب أفريقيا	الحديد
27	الكونغو - جنوب أفريقيا	التحاس
82	الكونغو - جنوب أفريقيا	الماش
20	المغرب - ساحل العاج - جنوب أفريقيا	المنجنيز

- الذهب.
- المنجنيز.
- التحاس.
- الألماس.

10. اقرأ الجملة الآتية، ثم اختر الإجابة الصحيحة:
"دولة الإمارات العربية المتحدة أرض المحبة والتسامح والأخوة الإنسانية، وما تقوم به من جهود ومبادرات تصب في مصلحة الإنسانية وتعزيز قيم التسامح والتعايش بين الشعوب بأمن وأمان".
إلام تشير الجملة السابقة؟

- إسهام دولة الإمارات العربية المتحدة في استصلاح الأراضي الزراعية.
- إسهام دولة الإمارات العربية المتحدة في دعم الاستقرار والسلام الدوليين.
- إسهام دولة الإمارات العربية المتحدة في تطوير البنى التحتية.
- إسهام دولة الإمارات العربية المتحدة في تحديث البرامج الاقتصادية.

11. اختر الإجابة الصحيحة بعد النظر إلى خريطة جمهورية إريتريا:

ماذا يحدُّ جمهورية إريتريا من الشمال؟



- اليمنُ.
- أثيوبيا
- جيبوتي
- السودانُ.

12. اختر الإجابة الصحيحة بعد النظر إلى خريطة أثيوبيا:

ماذا يحدُّ جمهورية أثيوبيا من الجنوب؟



- السودانُ
- اليمنُ
- الصومالُ
- كينيا

13. اقرأ الجُملة الآتية، ثم اختر الإجابة الصحيحة:

"تمكّنت قيادتنا الرّشيّدة بسياستها الحكيمة من إنهاء وحسم الصّراع المُزمن بين جُموريتي أثيوبيا وإريتريا".

كيف تدخلت دولة الإمارات العربيّة المتّحدة لحلّ الصّراع الأثيوبيّ - الإريتريّ؟

- تأهيل الكوادر البشريّة للتّعامل في كافّة الطّروف.
- توقيع "إعلان أسمرا" للسلام والصّداقة بين الجُمهوريتين.
- تطوير القطاع الاقتصاديّ في كلّ من الجُمهوريتين.
- إعداد برامج ترفيهيّة لجذب السّياح لزيارة كلّ من الجُمهوريتين.

14. اقرأ الجُملة الآتية، ثمّ اختر الإجابة الصحيحة:

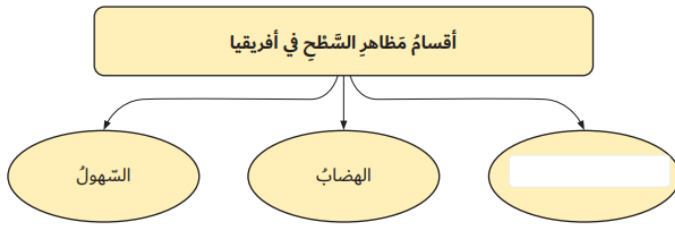
"تشتمل المنطقة الصّحراويّة على صحراء الكُثبان الرّمليّة الغربيّة والجنوبيّة والصحراء الوُسطى، وهذه الكُثبان متحرّكة وتربّتها رملية مُفكّكة كثيرة المسامات الهوائيّة".

- استنتج من خلال الجُملة السابقة العامل الرّئيس المُسبّب لظاهرة تكوّن الكُثبان الرّمليّة:
- الأمطار.
- التُّربة.
- الشَّمس.
- الرّياح.

15. اقرأ الجُملة الآتية، ثم اختر الإجابة الصحيحة:
 "تعدُّ قارة أفريقيا هي القارة الوحيدة التي ليس فيها مكانٌ تنخفض فيه درجة الحرارة عن 10 درجات مئوية لشهرٍ من شهور السنة".
 إلام تُشير الجُملة السابقة؟

- أن قارة أفريقيا من أشد القارات حرارة.
- أن قارة أفريقيا من أشد القارات ضبابية.
- أن قارة أفريقيا من أشد القارات غبارًا.
- أن قارة أفريقيا من أشد القارات برودة.

16. اختر الإجابة الصحيحة في مكانها المناسب على الخريطة المفاهيمية الآتية:



- الجبال
- الجليد
- الصحارى
- التلال

17. اقرأ الجُملة الآتية، اختر الإجابة الصحيحة:
 "تنمو النباتات الشوكية أو الصبار في الإقليم الصحراوي الحار".
 السبب في نمو تلك النباتات في الإقليم الصحراوي الحار هو:

- اعتمادها على الغابات.
- تحملها للجفاف.
- تحملها للبرودة.
- حبها للأمطار.

18. اقرأ الجُملة الآتية، ثم اختر الإجابة الصحيحة:
 "بلغ عدد سُكَّانِ اليابانِ (127.7) عامَ 2008م، بينما بلغَ عددهم (124.488) عامَ 2020م".

إلامَ تشيرُ الجُملةُ السابقةُ؟

- زيادةُ عددِ الوفياتِ.
- قلَّةُ عددِ الوفياتِ.
- قلَّةُ عددِ المواليدِ.
- زيادةُ عددِ المواليدِ.

19. اختر الإجابة الصحيحة:
 أيُّ الآتية تعدُّ من أهمِّ أهدافِ الزيارةِ الثانيةِ لصاحبِ السُّموِّ الشَّيخِ مُحَمَّدِ بْنِ زَايِدٍ آلِ نَهْيَانَ - حفظه اللهُ - إلى دولةِ اليابانِ عامَ 2014م؟

- تطويرُ اقتصادِ الإماراتِ القائمِ على المعرفةِ.
- تطويرُ العملِ في قمرِ دُبِّيِّ ساتِ .
- المُساهمةُ في رُؤيةِ الإماراتِ 2021.
- تعزيزُ التَّبادُلِ الزراعيِّ بينَ البلديينِ.

20. اقرأ الجُملة الآتية، اختر الإجابة الصَّحيحة:
 "عالجتُ دولة اليابان مُشكلة أراضيها الصالحة للمشروعات الاقتصادية بواسطة
 بناء ناطحات السحاب والأبنية المُرتفعة".
 الهدف من بناء ناطحات السحاب والأبنية المُرتفعة هو:

- استصلاح وزراعة الجبال.
- استيعاب الاكتظاظ السكاني.
- زيادة صادرات الدولة.
- تمركز المنشآت في المدن.

21. اقرأ الجُملة الآتية، ثمَّ اختر الإجابة الصَّحيحة:
 "تُسمى قارة أفريقيا أيضًا بـ (القارة السمراء)".
 ما سببُ تسميتها بذلك؟

- لأنَّ أغلب سُكَّانها يتميَّزون بلون بشرية داكن.
- لأنَّ أغلب سُكَّانها يتحدثون بلُغة واحدة.
- لأنَّ جميع سُكَّانها يتميَّزون بلون بشرية فاتح.
- لأنَّ جميع سُكَّانها يعتنقون ديانةً واحدةً.

22. اقرأ الجُملة الآتية، ثم اختر الإجابة الصحيحة:
 "بعض النباتات استُخدمت في العلاجات الطَّبَّية التَّقليديَّة مثل نبتة "خنصر"
 و"ليعدة"، علماً أنَّ هذه النباتات تنمو في المناطق المُرتفعة".
 ما طبيعة المناطق التي تشير إليها الجُملة السابقة؟

- القُطبيَّة.
- الساحليَّة.
- الجبليَّة.
- الصَّحراويَّة.

23. اقرأ الجُملة الآتية، ثم اختر الإجابة الصحيحة:
 "تُمثِّل الأنواع النَّباتيَّة ما نسبته 70% من مجموع الأنواع النَّباتيَّة المُنتشرة في
 دولة الإمارات العربيَّة المُتحدة، وحوالي 60% من هذه النَّبات الحوليَّة".
 استنتج من خلال الجُملة السابقة نسبة النَّبات المُعمَّرة المُنتشرة في دولة
 الإمارات العربيَّة المُتحدة.

- 30%
- 10%
- 20%
- 40%

24. لاحظ الخريطة ثم اختر الإجابة الصحيحة:

أيُّ منطقةٍ من إمارة أبوظبي تُعدُّ جزءًا من الرُّبع الخالي؟



- المنطقة الغربية
- المنطقة الجنوبية
- المنطقة الشرقية
- المنطقة الشمالية

25. اقرأ ثم اختر الإجابة الصحيحة:

قال الشيخ زايد بن سلطان آل نهيان - رحمه الله -: "الشعب الذي يجهل ماضيه لا يمكن أن يكون له حاضرٌ ومستقبلٌ".

على أيِّ صفةٍ من صفات الشيخ زايد - رحمه الله - تدلُّ هذه المقولة؟

- الكرم
- الشورى
- الإباء
- الأصالة العربية

26. لاحظ الخريطة ثم اختر الإجابة الصحيحة:



لماذا تُعدُّ أثيوبيا دولةً داخليةً؟

- لعدم إشرافها على مسطحات مائية
- لأنها دولة جبلية فيها قمم كثيرة.
- لأنها تقع في المنطقة الصحراوية.
- لأن مساحتها الداخلية شاسعة.

27. لاحظ الخريطة، ثم اختر الإجابة الصحيحة:

ما اسم الدولة التي تحدُّ جمهورية مصر العربية من جهة الغرب؟



- الأردن.
- ليبيا.
- فلسطين.
- السودان.

28. ما الظاهرة الطبيعية التي تشير إليها الصورة؟



- الاحتباس الحراري.
- التصحر.
- التربة الجيرية.
- التربة الكلسية.

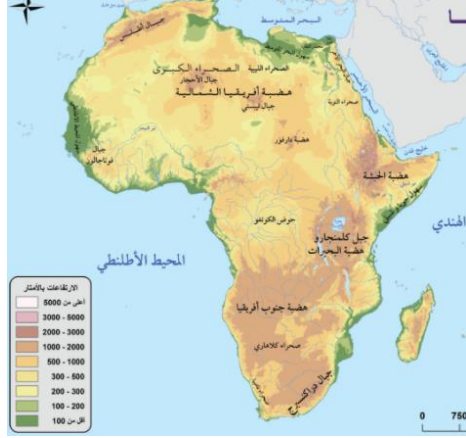
29. اختر الإجابة الصحيحة:

لأي نوع من أنواع النباتات الطبيعية تنتمي الشجرة الموجودة في الصورة؟



- النباتات المعمرة.
- النباتات المائية.
- النباتات الحولية.
- النباتات الجذرية.

30. لاحظ الخريطة، ثم اختر الإجابة الصحيحة:
ما اسم الجبل الذي يقع شرق القارة الأفريقية، بالقرب من هضبة البحيرات؟



جبال دراكنسبرج.

جبل كليمنجارو.

جبال أطلس.

جبال فوتاجالون.

31. اقرأ النَّصَّ الآتي، ثم استنتج الإجابة الصحيحة:
" يُعَدُّ (بريكليس) أعظم الساسة في اليونان القديمة، وكان رجلاً محبوباً جداً، واشتهر بحزمه، وشجاعته في القتال، وسماحته في النصر".
ما صفات القائد الناجح المُستفاد من شخصية الجنرال "بريكليس"؟

اختر 2 اختيارات

- القُوَّة والحزم.
- عدم الأخذ برأي الآخرين.
- التَّقَرُّب إلى النَّاسِ بالمحَبَّة.
- الشَّدَّة على العَدُوِّ عند النَّصرِ.
- حُبِّ العملِ الفرديِّ.
- التَّكَبُّرُ على النَّاسِ.

32. اختر الإجابة الصحيحة:

ما اسمُ النَّبَاتِ الموجودِ في الصورة؟



- الخبيزة.
- العريون.
- الحمّاض.
- الطّرشوث.

33. اختر الإجابة الصحيحة

أعلن الشيخ محمد بن راشد آل مكتوم - رعاه الله - استراتيجية الإمارات كأول مشروع ضخم ضمن
 مئوية الإمارات 2071م والمتمثلة في استراتيجية:



34. نشأت في أفريقيا العديد من الحضارات القديمة منها الحضارة:

- - السومرية
- - مصر القديمة " الفرعونية "
- - الصينية
- - الأغريقية

35. تعد اليابان من أولى دول العالم في صيد الأسماك بسبب :

- عدم توافر الخلجان الهادئة - لعدم امتلاكها إسطولا لصيد الأسماك
 - لاستخدام وسائل صيد تقليدية - التقاء التيارات البحرية الدافئة والتيارات البحرية الباردة

36. مارس الشيخ زايد بن سلطان آل نهيان - رحمه الله - رياضات مرتبطة ببيئته البدوية منها :

- سباق قوارب التجديف - السباحة - ركوب الخيل - سباق القوارب الشراعية

37. عقد أول مؤتمر لقادة دول مجلس التعاون الخليجي عام 1981م في مدينة :

- أبوظبي - الرياض - الكويت - المنامة

38. الشجرة التي تزرع وتستعمل لتغذية دودة القز هي شجرة :

- التوت - المانجو - التين - الزيتون

39. مرور معظم دوائر العرض الرئيسة في قارة أفريقيا أدى وقوع معظم أراضيها في العروض:

- المدارية المعتدلة - المعتدلة الباردة - المعتدلة الدافئة - المدارية الحارة

40. دولة أطلق عليها الصينيون اسم (أرض مشرق الشمس) بسبب وقوعها في أقصى العالم هي :

- أندونيسيا - اليابان - الفلبين - تايوان

انتهت الأسئلة

مع تمنياتي للجميع بالتوفيق والتفوق