



سؤال 1

اسحب كل إجابة إلى مكانها الصحيح في الجدول لثني عوامل ومقومات قيام الدول

عوامل ومقومات قيام الدول	
السكان	الموقع الجغرافي
الموارد الاقتصادية	المساحة والتضاريس

العوامل المركبة
العوامل البشرية
العوامل الطبيعية
العوامل البسيطة

سؤال 2

اقرأ، ثم اختر الإجابات الصحيحة

تتعدد مسميات الدول بين دولة، وسلطنة، ومملكة، وإمارة، وجمهورية، كما تختلف أشكال الحكم في الدول

ما أشكال الحكم في الدول ؟

- الدولة النموذجية
- الدولة المنفصلة
- الدولة الموحدة
- الدولة المركبة

□
الدولة البسيطة

سؤال 3

اقرأ الفقرة التالية، ثم اختر الإجابة الصحيحة

تعدُّ قارة أمريكا اللاتينية من أكبر قارات العالم مساحةً، لكنّها واحدة من القارات الأقلّ سكّاناً، غير أنّ السكّان يتوزّعون توزيعاً غير متوازن، فمعظم أرضها يصعب العيش عليها؛ لذلك الكثافة السكانية قليلة، ومعظم الأفراد يعيشون في المدن، ويعتق معظمهم الديانة الكاثوليكية الرومانية، إلا أنّ الاستعمار الأوروبي حول السكّان الأصليين إلى الديانة المسيحية، غير أنّه ما زالت آثار الديانات القديمة ظاهرة في العادات والطقوس المحلية، ويسكنها نحو 6% من مجموع سكّان العالم تقريباً، ويُقدّر عدد سكّانها بحوالي 623 مليون نسمة.

في ضوء الفقرة السابقة، ماذا ترتب على صعوبة العيش على أرض قارة أمريكا الشمالية؟

قلّة الكثافة السكانية

انخفاض مستوى المعيشة

ارتفاع نسبة البطالة

تزايد عدد السكّان

سؤال 4

اقرأ، ثمّ اختر الإجابة الصحيحة

(السلاسل الجبلية والأنهار والبحيرات والصحاري)

ما نوع الحدود التي تشير إليه الجملة السابقة؟

الحدود التي تُساير الظواهر الطبيعية

الحدود التي تُساير الظواهر البشرية

الحدودُ البحريَّةُ والمياهُ الإقليمِيَّةُ

الحدودُ الهندسيَّةُ والمعماريَّةُ

سؤال 5

اختر الإجابة الصَّحيحة

ما أبرزُ الظواهرِ البشريَّةِ التي يُستندُ إليها في تعيينِ الحدودِ ورسمِها بينَ الدُّولِ؟

المساحةُ

التضاريسُ

الموقعُ الجغرافيُّ

التَّركيبُ اللُّغويُّ

سؤال 6

اختر الإجابة الصَّحيحة

لماذا يجبُ مُراعاةُ الظواهرِ البشريَّةِ بِدقَّةٍ وعنايةٍ عندَ رسمِ الحدودِ السِّياسِيَّةِ بينَ الدُّولِ؟

لِتجنَّبَ اختلافُ التَّركيبِ اللُّغويِّ والعِرقِيِّ بينَ الدُّولِ

لِتجنَّبَ نقضُ المُعاهداتِ السِّياسِيَّةِ لترسيمِ الحدودِ بينَ الدُّولِ

لِتجنَّبَ الانبعاثاتِ الكربونيَّةِ الناتجةَ عنَ أنشطةِ كُلِّ دولةٍ

لِتجنَّبَ النزاعاتِ التي يُمكنُ أن تُهدِّدَ أمنَ الدُّولِ المَعنِيَّةِ

سؤال 7

اسحبْ كُلَّ إجابةٍ إلى مكانِها الصَّحيحِ في الجدولِ التَّالي لِتُصنَّفِ الدُّولُ

حسبَ شكلِ الحُكمِ فيها

أشكال الدول

جمهورية الجزائر	دولة الإمارات العربية المتحدة
جمهورية مصر العربية	الولايات المتحدة الأمريكية
سلطنة عُمان	أستراليا

الدولة المزدحمة
الدولة المركبة
الدولة البسيطة
الدولة المعقدة

سؤال 8

اقرأ، ثم اختر الإجابة الصحيحة

إن تأسيس اتحاد دولة الإمارات العربية المتحدة كان من أبرز إنجازات الشيخ زايد بن سلطان آل نهيان -رحمه الله-. فاليوم، ينعم شعب دولة الإمارات بالاتحاد، بفضل جهوده وحرصه على بناء دولة الاتحاد الذي كان له -رحمه الله- رؤية شاملة تمثلت بقوله: «إن الاتحاد ما قام إلا تجسيدا عمليا لرغبات وأمني وتطلعات شعب الإمارات الواحد في بناء مجتمع حر كريم، يتمتع بالمنعة والعزة وبناء مستقبل مشرق وضاح، تُرفرف فوقه راية العدالة والحق، وليكون رائدا ونواة لوحدة عربية شاملة».

ما القيمة المستخلصة من المقولة السابقة؟

الصبر.

الاتحاد.

التسامح.

الحوار.

سؤال 9

اقرأ الفقرة، ثم اختر الإجابة الصحيحة

رؤية المدرسة: شخصية قيادية مدعة لجيل واع يسمو لتطوير ذاته ووطنه وأتمته
رسالة المدرسة: مدرسة براعم العين الخاصة تهدف إلى تعليم متميز لإعداد جيل واع يستفيد من قدراته ويواجه تحديات العصر طبقاً للمنظومة التربوية

يحقُّ لسُكَّانِ دولةِ الإماراتِ العربيَّةِ المُتَّحِدةِ وسُكَّانِ دولةِ البرازيلِ الدُّخولُ إلى البُلدينِ دونَ تأشيرةٍ مُسبقةٍ لحامليِ الجوازاتِ العاديَّةِ، وحامليِ الجوازاتِ الدُّبُلوماسيَّةِ والخاصَّةِ والرَّسميَّةِ .

ما الاتفاقيَّةُ بينَ دولةِ الإماراتِ العربيَّةِ المُتَّحِدةِ ودولةِ البرازيلِ التي تشيرُ إليها الفقرةُ السَّابِقةُ؟

اتِّفاقيَّةُ التَّعاونِ العسكريِّ .

اتِّفاقيَّةُ خدماتِ النَّقلِ الجويِّ .

اتِّفاقيَّةُ خدماتِ النَّقلِ البحريِّ .

اتِّفاقيَّةُ الاعفاءِ المُتبادلِ مِنْ تأشيرةِ الدُّخولِ .

سؤال 10

لاحظْ خريطةَ قارَّةِ أمريكا اللاتينيَّةِ، ثمَّ اخترِ الإجابةَ الصَّحيحةَ



رؤية المدرسة: شخصية قيادية مدعة لجيل واع يسمو لتطوير ذاته ووطنه وأمتة
رسالة المدرسة: مدرسة براعم العين الخاصة تهدف إلى تعليم متميز لإعداد جيل واع يستفيد من قدراته ويواجه تحديات العصر طبقاً للمنظومة التربوية

حدِّدِ الجهةَ التي تقعُ فيها مُرتفعاتُ البرازيلِ

.الشَّمَالُ

.الشَّرْقُ

.الجنوبُ

.الغربُ

سؤال 11

:اقرأ، ثمَّ اخترِ الإجاباتِ الصَّحيحةَ

إنَّ حمايةَ البيئةِ يجبُ ألا تكونَ وألا يُنظَرَ إليها كقضيَّةٍ خاصَّةٍ بالحُكومةِ والسُّلطاتِ «
الرَّسميَّةِ فقط، بلْ هي مسألةٌ تهمُّنا جميعًا... إنَّها مسؤوليَّةُ الجميعِ ومسؤوليَّةُ كُلِّ فردٍ في
«مُجتمعنا، مُواطنينَ ومُقيمينَ
-الشيخُ زايدُ بنُ سلطانَ آلِ نهيانَ -طيَّبَ اللهُ ثراهُ

ما القيمُ المُستخلصةُ منَ المقولةِ السابقةِ؟

.التَّحدِّي والابتكارُ

.الاعتزازُ بالإرثِ

.اتِّخاذُ القرارِ

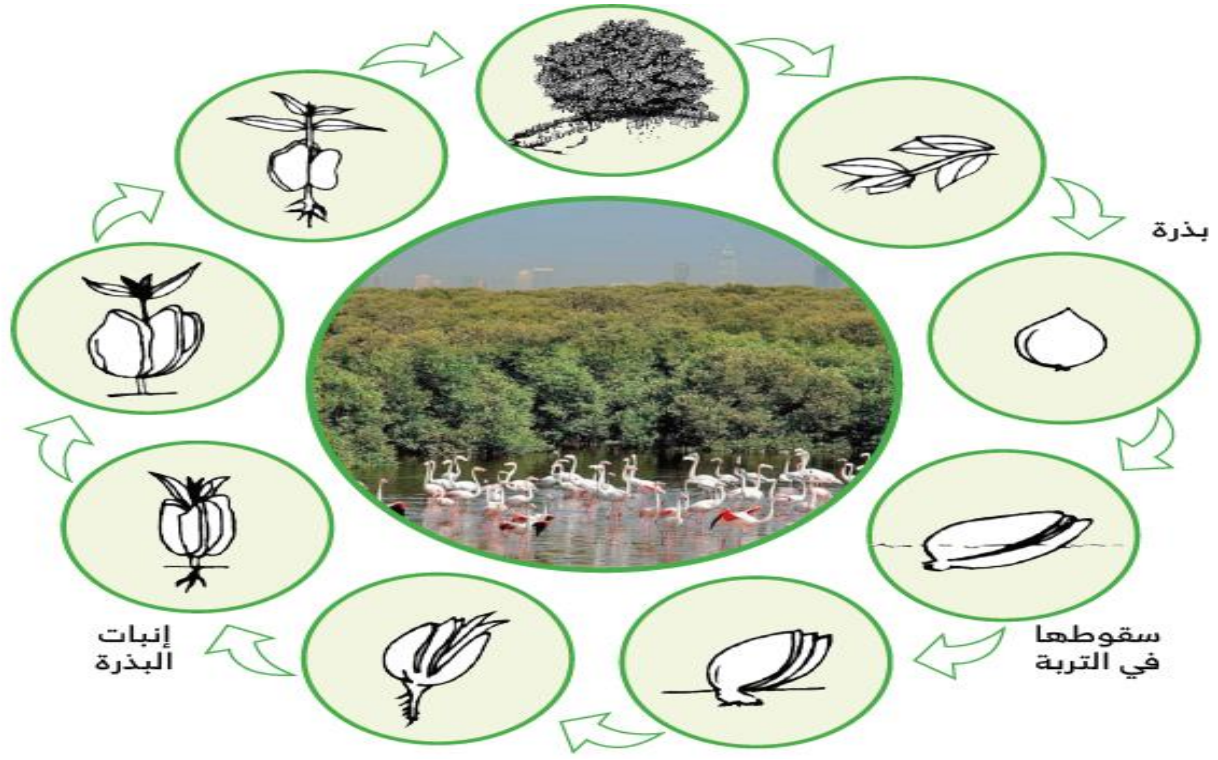
.تحمُّلُ المسؤوليَّةِ

.حمايةُ البيئةِ

سؤال 12

:اسحبِ العُنوانَ المُناسبَ للصَّورةِ التَّاليةِ

دورةُ حياةِ شجرةِ القرمِ



دورة حياة شجرة الشّوع

دورة حياة شجرة السّمّر

دورة حياة شجرة العسبج

سؤال 13

اقرأ الفقرة، ثم اختر الإجابة الصحيحة

قبل احتلال أمريكا اللاتينية في القرن السادس عشر على يد البرتغاليين والإسبان، كانت القارة موطنًا للشعوب الأصلية من الزنوج، والهنود الحمر الذين يُعدون أقدم عنصر بشري في القارة بما فيهم شعب الإنكا، بالإضافة إلى الهجرة القسرية للعناصر الزنجية من القارة الأفريقية، إلى جانب أعداد قليلة من العرب واليابانيين والصينيين والهنود، وهم من أجناس مختلطة، ويتحدث معظم السكان اللغة الإسبانية أو البرتغالية مع استخدام اللغات الأصلية.

في ضوء الفقرة السابقة، ما أكثر اللغات انتشارًا بين سكان قارة أمريكا اللاتينية؟

الصينية أو الألمانية

الإسبانية أو البرتغالية

الهندية أو الأمازيغية

رؤية المدرسة: شخصية قيادية مبدعة لجيل واع يسمو لتطوير ذاته ووطنه وأمتة
رسالة المدرسة: مدرسة براعم العين الخاصة تهدف إلى تعليم متميز لإعداد جيل واع يستفيد من قدراته ويواجه تحديات العصر طبقاً للمنظومة التربوية

الإنجليزية أو الفرنسية

سؤال 14

اختر الإجابة الصحيحة

ما أهم الإجراءات التي اتخذتها دولة الإمارات العربية المتحدة للمحافظة على النباتات الطبيعية؟

إنشاء عددٍ من الهيئات الحكومية، مثل هيئة البيئة في أبوظبي

تفعيل المبادرات لتعزيز قدرات البحث والتطوير في مجال الغذاء

تطوير نظام إمدادٍ مائيٍ يحافظ على سعة التخزين لمدة يومين

(21%) خفض إجمالي الطلب على الموارد المائية للدولة إلى

سؤال 15

اسحب إلى الصورة التالية العنوان المناسب

فوائد بيئية واقتصادية لنبات الشوع



روية المدرسة: شخصية قيادية مدعة لجيل واع يسمو لتطوير ذاته ووطنه وأمتة
رسالة المدرسة: مدرسة براعم العين الخاصة تهدف إلى تعليم متميز لإعداد جيل واع يستفيد من قدراته ويواجه تحديات العصر طبقاً للمنظومة التربوية

فوائد بيئية واقتصادية لنبات العسج
فوائد بيئية واقتصادية لنبات الهرم
فوائد بيئية واقتصادية لأشجار السمر

سؤال 16

اقرأ، ثم اختر الإجابة الصحيحة

تتعدّد مجالات استخدام النباتات الطبيعيّة، ومنها: تحضير الأدوية؛ لتسكين الآلام،
والالتهابات، وارتفاع ضغط الدّم، وتصلّب الشرايين.

ما المجال المشار إليه في الفقرة السابقة؟

مجال الطاقة

مجال التعدين

المجال الزراعي

المجال الطبي

سؤال 17

اختر الإجابة الصحيحة

أيّ من الصّور الآتية تُعبّر عن النباتات الساحليّة في دولة الإمارات العربيّة المتّحدة؟





سؤال 18

:لاحظ الصورة، ثم اختر الإجابة الصحيحة

رؤية المدرسة: شخصية قيادية مبدعة لجيل واع يسمو لتطوير ذاته ووطنه وأمته
رسالة المدرسة: مدرسة براعم العين الخاصة تهدف إلى تعليم متميز لإعداد جيل واع يستفيد من قدراته ويواجه تحديات العصر طبقاً للمنظومة التربوية



ما اسمُ النَّبَاتِ الَّذِي تُعَبِّرُ عَنْهُ الصُّورَةُ السَّابِقَةُ؟

شجرةُ الشَّوْعِ

شجرةُ السَّمْرِ

شجرةُ الصَّنَوْبِرِ

شجرةُ البَلُوْطِ

سؤال 19

اختر الإجابة الصحيحة

، لأنها كثيفة الأوراق والأشواك؟ " **المظلة الشائكة** " ما الشجرة التي تُوصفُ بشجرة

شجرةُ السَّمْرِ

شجرةُ الشَّوْعِ

شجرةُ القَرَمِ

شجرةُ المَاهُوْجَنِ

سؤال 20

اسحب اسم كل نبات إلى الصورة التي تُعبّر عنه في الجدول التالي:

نبات العسبج	نبات عكرش	نبات نجم	نبات الهرم
			

سؤال 21

اسحب إلى الصورة التالية العنوان المناسب:

فوائد بيئية واقتصادية لأشجار السمر



فوائد بيئية واقتصادية لنبات العسبج
فوائد بيئية واقتصادية لنبات الشوع
فوائد بيئية واقتصادية لنبات الهرم

لاحظ الخريطة، ثم اختر الإجابة الصحيحة:



ما اسم القارة المشار إليها باللون الأخضر في خريطة العالم السابقة؟

أمريكا الشماليّة.

آسيا.

أفريقيا.

أمريكا اللاتينيّة.

سؤال 23

اسحب إلى خريطة أمريكا اللاتينيّة اسم المسطح المائيّ الذي تُشرف عليه من جهة الشمال.
المحيط الأطلنطيّ.



المحيط القطبي الشمالي
المحيط الهندي
المحيط الهادي

سؤال 24

رؤية المدرسة: شخصية قيادية مدعة لجيل واع يسمو لتطوير ذاته ووطنه وأمته
رسالة المدرسة: مدرسة براعم العين الخاصة تهدف إلى تعليم متميز لإعداد جيل واع يستفيد من قدراته ويواجه تحديات العصر طبقاً للمنظومة التربوية

لاحظ الخريطة، ثم اختر الإجابة الصحيحة:



ما أهم جبال قارة أمريكا اللاتينية؟

جبال أطلس

جبال الألب

جبال روكي

جبال الإنديز

سؤال 25

رؤية المدرسة: شخصية قيادية مبدعة لجيل واع يسمو لتطوير ذاته ووطنه وأمتة
رسالة المدرسة: مدرسة براعم العين الخاصة تهدف إلى تعليم متميز لإعداد جيل واع يستفيد من قدراته ويواجه تحديات العصر طبقاً للمنظومة التربوية

اسحب أهم هضاب قارة أمريكا اللاتينية إلى مكانها الصحيح على الخريطة.
هضبة جيانا



هضبة التبت.
هضبة كيمبرلي.
هضبة كولورادو.

رؤية المدرسة: شخصية قيادية مدعة لجيل واع يسمو لتطوير ذاته ووطنه وأمته
رسالة المدرسة: مدرسة براعم العين الخاصة تهدف إلى تعليم متميز لإعداد جيل واع يستفيد من قدراته ويواجه تحديات العصر طبقاً للمنظومة التربوية

سؤال 26

اسحب العنوان المناسب إلى المخطط التالي:
عوامل أدت إلى تواضع استغلال الثروة المعدنية في أمريكا اللاتينية



عوامل أدت إلى تصدير الثروة المعدنية في أمريكا اللاتينية
عوامل أدت إلى ازدهار الثروة المعدنية في أمريكا اللاتينية
عوامل أدت إلى انتشار الثروة المعدنية في أمريكا اللاتينية

سؤال 27

اقرأ، ثم اختر الإجابات الصحيحة

يقصد بالدولة: مجموعة منظمة من الأفراد تعيش على مساحة محددة من الأرض، تجمعها سلطة حاكمة واحدة تتولى إدارة شؤونها

ما أهم أسس قيام الدولة؟

- الأرض.
- الشعب.
- التنمية.
- التقدم.

رؤية المدرسة: شخصية قيادية مبدعة لجيل واع يسمو لتطوير ذاته ووطنه وأمته
رسالة المدرسة: مدرسة براعم العين الخاصة تهدف إلى تعليم متميز لإعداد جيل واع يستفيد من قدراته ويواجه تحديات العصر طبقاً للمنظومة التربوية

انظر إلى الخريطة، ثم اختر الإجابات الصحيحة



حدّد دوائر العرض الرئيسة التي تمرّ بقرّة أمريكا اللاتينية

الدائرة القطبية الشماليّة

خطّ الاستواء

خطّ جرينتش

مدار الجدي

مدار السرطان

اسحب إلى الخريطة التي أمامك اسم المدينة التي تنتشر فيها شجرة السمر العين



حنا
العين
شعم
مسافي

اقرأ، ثم اختر الإجابة الصحيحة

السّهول الساحليّة لقارة أمريكا اللّاتينيّة

تتميّز السّهول الساحليّة الشرقيّة التي تُطلُّ على المحيط الأطلنطي بالاتّساع وبخاصّة قرب مصبّات الأنهار، بينما السّهول الساحليّة الغربيّة تتّصف بالضيق وذلك لاقتراب جبال الانديز من المحيط الهادي. أمّا سواحل خليج المكسيك فتغطّيها الغابات الكثيفة، ويمرّ فيها نهر «ريوجراندي» الذي يفصل أمريكا اللّاتينيّة عن الولايات المتّحدة الأمريكيّة.

ما أهمّ مميزات السّهول الساحليّة لقارة أمريكا اللّاتينيّة؟

كثرة الصخور البركانيّة

كثرة الموانئ الطبيعيّة

كثرة الخلجان

كثرة التعاريف

سؤال 31

اقرأ، ثم اختر الإجابة الصحيحة

وجّه صاحب السّموّ الشّيخ خليفة بن زايد آل نهيان رئيس الدولة - حفظه الله - بتخصيص عامٍ لـ (الابتكار) في الدولة ضمن توجهات الحكومة عامّة لخلق بيئة إبداعية، وجيلٍ مُبتكرٍ وخلاقٍ، فيما عززَ صاحب السّموّ الشّيخ محمد بن راشد آل مكتوم نائب رئيس الدولة رئيس مجلس الوزراء حاكم دبي - رعاه الله - هذه السياسة، عملياً من خلال إطلاق خطة استراتيجية خاصة بالابتكار، و(مركز محمد بن راشد للابتكار) لتحويل كل ذلك إلى واقع ملموس وتطبيق عملي يومي.

ما القيمة المُستخلصة من الفقرة السابقة؟

السلم العالمي

الولاء والانتماء

الاعتزاز بالإرث

حب العلم

سؤال 32

اختر الإجابة الصحيحة

ما أهم النتائج الدينية لحركة الكشوف الجغرافية الأوروبية في القرن الخامس عشر الميلادي؟

أفرزت مفهومي الاستعمار والاستيطان في التاريخ الحديث والمعاصر

المساعدة في زيادة المعرفة العلمية بالمحيطات والبحار

رؤية المدرسة: شخصية قيادية مدعة لجيل واع يسمو لتطوير ذاته ووطنه وأمتة
رسالة المدرسة: مدرسة براعم العين الخاصة تهدف إلى تعليم متميز لإعداد جيل واع يستفيد من قدراته ويواجه تحديات العصر طبقاً للمنظومة التربوية

نشرُ الدين المسيحيّ الكاثوليكيّ في الأمريكيتين والبلاد التي وصلوا لها .
انتقال بعض المحاصيل الزراعيّة إلى أوروبا، كالذرة والبطاطس والكاكاو .

سؤال 33

اسحبْ كُلَّ إجابةٍ إلى مكانها الصّحيح في الجدول التالي

الثّورات الصناعيّة

الثّورة الصناعيّة الأولى	الثّورة الصناعيّة الثّانية	الثّورة الصناعيّة الثّالثة	الثّورة الصناعيّة الرّابعة
في القرن ال 18 التّوصّل إلى استخدام الطّاقة البخاريّة	في أواخر القرن ال 19 وصول الطّاقة الكهربائيّة، والقدرة على الإنتاج	في أواخر القرن ال 20 اختراع الطّاقة الحاسوبيّة، والقدرة على التّشغيل	جمعُ تكنولوجيا الجيل القادم، والتقاء العالم الحسيّ بالعالم الرّقميّ

سؤال 34

اسحبْ كُلَّ إجابةٍ إلى مكانها الصّحيح حول الثّورات الصناعيّة

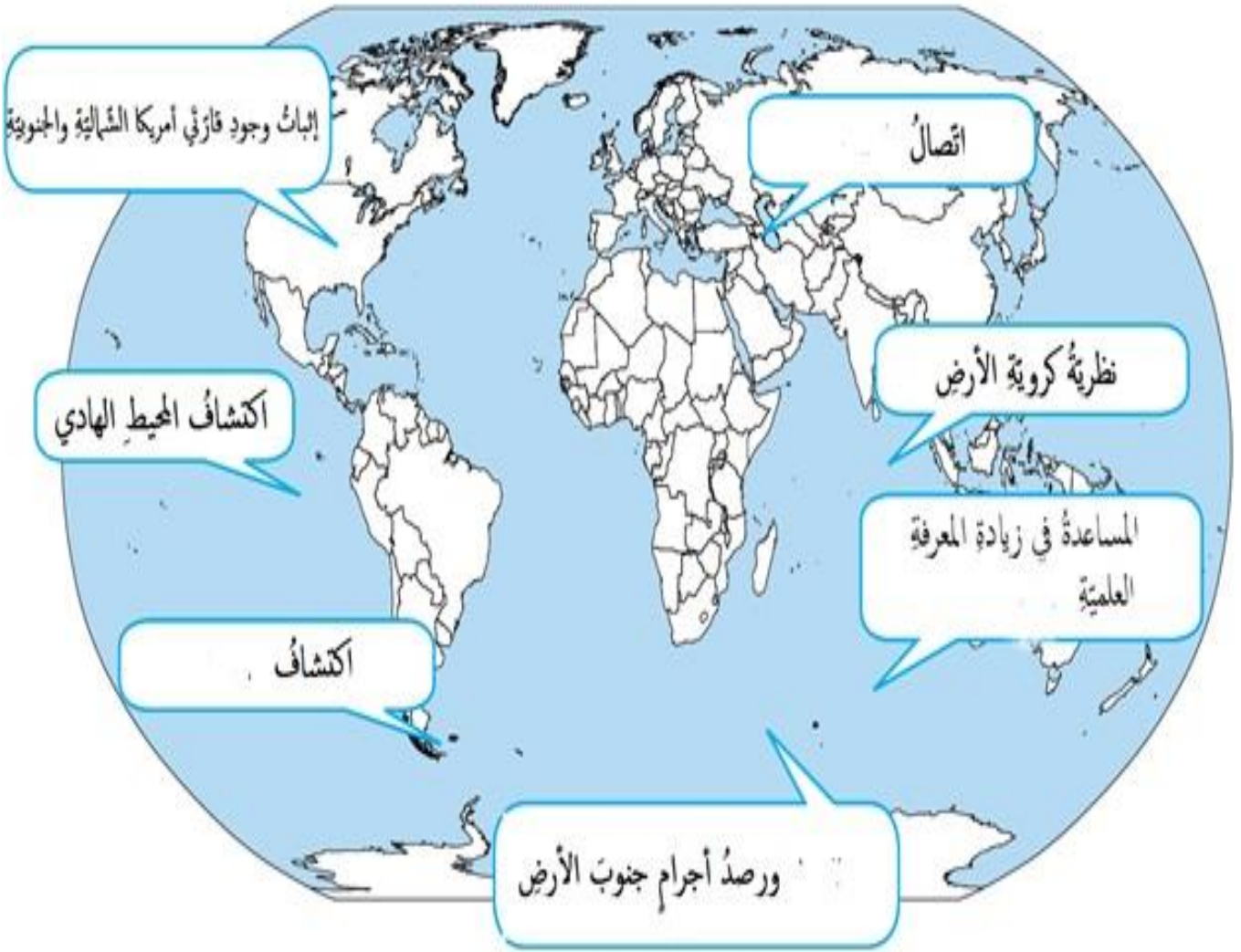
استندت الثّورة الصناعيّة الأولى إلى طاقة الماء والمُحرّكات البخاريّة لـ إنتاج الميكانيكا
أما الثّورة الصناعيّة الثّانية فاستندت إلى الطّاقة الكهربائيّة لخلق الإنتاج الضّخم
، وكان ذلك أهمّ سماتها، وقد بدأت في أوائل القرن العشرين
إنتاج طاقة الرّيح
إنتاج الطّاقة الشمسيّة

سؤال 35

اسحبْ كُلَّ إجابةٍ حول النّائج العلميّة للكشوف الجغرافيّة إلى مكانها الصّحيح في الشّكل التالي .

روية المدرسة: شخصية قيادية مدعة لجيل واع يسمو لتطوير ذاته ووطنه وأمتة
رسالة المدرسة: مدرسة براعم العين الخاصة تهدف إلى تعليم متميز لإعداد جيل واع يستفيد من قدراته ويواجه تحديات العصر طبقاً للمنظومة التربوية

تَطَوَّرُ الْفَلَكِ
الشَّرْقِ بِالْغَرْبِ
بِالْمُحِيطَاتِ وَالْبَحَارِ
مَضِيقَ مَاجِلَانِ



سؤال 36

اسحب إلى خريطة العالم المُسطَّحِ المائيِّ الَّذِي تَمَّ اكْتِشَافُهُ وَلَمْ يَكُنْ مَعْرُوفًا قَبْلَ الْكُشُوفِ
الْجُغْرَافِيَّةِ الْأُورُوبِيَّةِ.

رؤية المدرسة: شخصية قيادية مدعة لجيل واع يسمو لتطوير ذاته ووطنه وأمتة
رسالة المدرسة: مدرسة براعم العين الخاصة تهدف إلى تعليم متميز لإعداد جيل واع يستفيد من قدراته ويواجه تحديات العصر طبقاً للمنظومة التربوية



البحر المتوسط
المحيط الهادي
المحيط القطبي الشمالي
البحر الأحمر

سؤال 37

اسحب العنوان المناسب للفقرة التالية

ثورة صناعية تتميز بثلاثة عوامل رئيسية، وهي

أولاً: السرعة ومستوى التعقيد

ثانياً: التأثير الممتد والشامل لجميع نواحي الحياة

ثالثاً: تعددية النظام، حيث يمكن لهذه الثورة إحداث تغيير جذري في العلاقات بين الدول

والشركات والمجتمعات داخل كل منها وفيما بينها

مميزات الثورة الصناعية الثانية

مميزات الثورة الصناعية الأولى

مميزات الثورة الصناعية الثالثة

مميزات الثورة الصناعية الرابعة

سؤال 38

رؤية المدرسة: شخصية قيادية مدعة لجيل واع يسمو لتطوير ذاته ووطنه وأمنه
رسالة المدرسة: مدرسة براعم العيون الخاصة تهدف إلى تعليم متميز لإعداد جيل واع يستفيد من قدراته ويواجه تحديات العصر طبقاً للمنظومة التربوية

اختر الإجابة الصحيحة:
حدّد من الخيارات الآتية ما له علاقة بالنتائج السياسيّة لحركة الكُشوف الجغرافيّة الأوروبّيّة.

المُساعدة في زيادة المعرفة العلميّة بالمحيطات والبحار.

بسّط نفوذ الكنيسة في معظم أقطار العالم الجديد.

انتقال المركز التجاريّ من مصرَ والبلاد الإسلاميّة إلى غرب أوروبا.

ظهور قومياتٍ ودولٍ جديدةٍ غيرت وجه العالم والتاريخ.

سؤال 39

اقرأ الفقرة، ثمّ اختر الإجابة الصحيحة:

وضع صاحب السُّموّ الشَّيخُ مُحَمَّدُ بْنُ راشدِ آلِ مكتومٍ نائبُ رئيسِ الدَّولةِ رئيسُ مجلسِ الوزراءِ حاكمِ دُبَيِّ - رعاهُ اللهُ - في تقديمه لكتابِ «الثَّورةُ الصِّناعيَّةُ الرَّابِعةُ»، رؤاهُ لمُستقبلِ العالمِ في ظلِّ الثَّورةِ الصِّناعيَّةِ الرَّابِعةِ، مُؤكِّداً أنَّ شِغفَ الإنسانِ بالمُستقبلِ هُوَ ما يدفعُ مسيرةَ التَّطوُّرِ. وأوضحَ سَمُوهُ في تقديمه للكتابِ: «لقد كُنَّا وما زلنا كبشريّةٍ مُغرَمينَ بالمُستقبلِ واستكشافِ حُدودهِ والتَّعرُّفِ على مُتغيِّراتِهِ، يدفعنا فُضولنا وشِغفنا بالمعرفةِ لاستكشافِ المساحاتِ الغامضةِ في المُستقبلِ المنظورِ وأثر ذلكَ على أسلوبِ حياتنا وعلى طريقتنا في أداءِ أعمالنا». وأضافَ سَمُوهُ: «إنَّ موجاتِ التَّطوُّراتِ التَّكنولوجيَّةِ المُتسارعةِ تُعدُّ بتغييرِ جوهرِيٍّ تلمسهُ البشريّةُ كافَّةً بدءاً من مُستقبلِ الصِّناعاتِ وإنترنتِ الأشياءِ، مُروراً بالقدرةِ على استرجاعِ وترميمِ الأنسجةِ التَّالفةِ باستخدامِ الخلاياِ الجذعيَّةِ، وانتهاءً بالنَّظرِ في الفجواتِ التَّكنولوجيَّةِ بينَ الأجيالِ وأثرها في التَّعليمِ واكتسابِ المعرفةِ

ما القيمةُ المُستخلصةُ من الفقرةِ السابقة؟

حمايةُ البيئةِ.

المُواطنَةُ الصَّالحةُ.

استشرافُ المُستقبلِ.

المسؤوليَّةُ الوطنيَّةُ.

سؤال 40

اسحب العنوان المناسب للفقرة التالية

انتشار البطالة على نطاق واسع، حيث تؤكد تقديرات خبراء الاقتصاد أن أتممة الصناعة من شأنها أن تقلص فرص العمل إلى 50 %.

اضمحلال دور الشركات المتوسطة والصغيرة في العملية الإنتاجية، وهيمنة الشركات الكبرى.

عدم المساواة واتساع الفجوة بين الأغنياء والفقراء بسبب اكتشاف الأدوات الحديثة.

إيجابيات الثورة الصناعية الرابعة

شروط الثورة الصناعية الرابعة

تحديات الثورة الصناعية الرابعة

سلبات الثورة الصناعية الرابعة

سؤال 41

أقرأ، ثم اختر الإجابة الصحيحة

علمي زايد:



- العلم أساس تقدم الأمة وأساس الحضارة وحجر الأساس في بناء الأمم.
- علينا أن نسابق الزمن وأن تكون خطواتنا نحو تحصيل العلم والتزود بالمعرفة أسرع من خطانا في أي مجال آخر.

ما القيمة المستخلصة من الفقرة السابقة؟

الشراكة والتعاون

المحافظة على الموارد

طلب العلم

حماية البيئة

سؤال 42

اسحب كل إجابة إلى مكانها الصحيح في الجدول التالي

روية المدرسة: شخصية قيادية مبدعة لجيل واع يسمو لتطوير ذاته ووطنه وأتمته
رسالة المدرسة: مدرسة براعم العين الخاصة تهدف إلى تعليم متميز لإعداد جيل واع يستفيد من قدراته ويواجه تحديات العصر طبقاً للمنظومة التربوية

علم الروبوت	الروبوت	برنامج الثورة الصناعية X	الذكاء الاصطناعي
هو علم هندسة وتصميم وصناعة وتطبيقات وهيكلة للروبوت.	هو آلة تتحرك أوتوماتيكياً بأوامر بشرية لتنفيذ مهمة معينة.	هو برنامج تعليمي وتدريبى يستثمر في تطوير قدرات ومهارات النخبة من الطلبة الإماراتيين المتميزين في المجالات العلمية.	هو سلوك وخصائص معينة تتسم بها البرامج الحاسوبية تجعلها تحاكي القدرات الذهنية البشرية وأنماط عملها. من أهم هذه الخصائص القدرة على التعلم والاستنتاج ورد الفعل على أوضاع لم تُبرمج في الآلة.

سؤال 43

اقرأ الفقرة، ثم اختر الإجابة الصحيحة:

تتميز الثورة الصناعية الرابعة بجمع تكنولوجيا الجيل القادم، والتقاء العالم الحسيّ بالعالم الرقميّ. تركت هذه الثورة آثاراً عديدة على مختلف نواحي الحياة، نذكر منها هيمنة الشركات الكبرى على العملية الإنتاجية، وتأمين رعاية صحيّة أفضل للإنسان، كذلك اشترطت هذه الثورة إعادة هيكلة اقتصادية شاملة، تلحق بها بالضرورة هيكلة اجتماعية وسياسية.

في ضوء الفقرة السابقة، ما أهم سلبيات الثورة الصناعية الرابعة؟

هيمنة الشركات الكبرى على العملية الإنتاجية.

التقاء العالم الحسيّ بالعالم الرقميّ.

إعادة هيكلة اقتصادية شاملة.

تأمين رعاية صحيّة أفضل للإنسان.

روية المدرسة: شخصية قيادية مدعة لجيل واع يسمو لتطوير ذاته ووطنه وأمتة
رسالة المدرسة: مدرسة براعم العين الخاصة تهدف إلى تعليم متميز لإعداد جيل واع يستفيد من قدراته ويواجه تحديات العصر طبقاً للمنظومة التربوية

اقرأ، ثم اختر الإجابة الصحيحة

بدأت محاولات الدول الأوروبية في القرن الخامس عشر لاكتشاف مناطق جديدة لم تكن معروفة بالنسبة لهم من قبل، إذ كانت معرفة الأوروبيين بالعالم الخارجي لا تتجاوز معرفة السواحل الشمالية من قارة أفريقيا، وعلى الرغم من أن ظاهر هذه المحاولات كان الكشف الجغرافي، إلا أن في واقع الحال كان لها أهداف أخرى، فقد أسهمت في زيادة حدة التنافس الاستعماري بين هذه الدول لاستيطان واستعمار الأراضي المكتشفة.

ما الدول التي تزعمت حركة الكشوف الجغرافية في القرن الخامس عشر؟

إسبانيا والبرتغال.

فرنسا وإنجلترا.

هولندا والنرويج.

إيطاليا والدنمارك.

اقرأ، ثم اختر الإجابة الصحيحة

نتج عن حركة الكشوف الجغرافية نتائج عديدة في المجالات كافة، ومنها: إثبات كروية الأرض.

ما نوع النتائج الذي تُشير إليه الفقرة السابقة؟

النتائج السياسية.

النتائج الاقتصادية.

النتائج العلمية.

النتائج الدينية.

سؤال 46

اقرأ، ثم اختر الإجابة الصحيحة

هو برنامج تعليمي وتدريبى يستثمر في تطوير قدرات ومهارات X برنامج الثورة الصناعيّة النخبة من الطلبة الإماراتيين المتميزين في المجالات العلميّة

X ما هدف دولة الإمارات العربيّة المتّحدة من تصميم برنامج الثورة الصناعيّة

تشغيل الشركات الكبرى كمؤسّسات ذات قدرات استثماريّة

إعادة الهيكلة الاقتصاديّة للدولة بشكلٍ شاملٍ

تحويل كلّ الأنظمة في الدولة إلى الأنظمة الرقميّة

تمكين مواطني الدولة بالمعرفة والمهارات والخبرات العمليّة

سؤال 47

اقرأ، ثم اختر الإجابة الصحيحة

نتج عن حركة الكُشوف الجُغرافيّة نتائج عديدة في المجالات كافة، ومنها: انتشار تجارة الرقيق من سگان البلاد التي استعمرها الأوروبيون

ما نوع النتائج الذي تُشير إليه الفقرة السابقة؟

النتائج العلميّة

النتائج السياسيّة

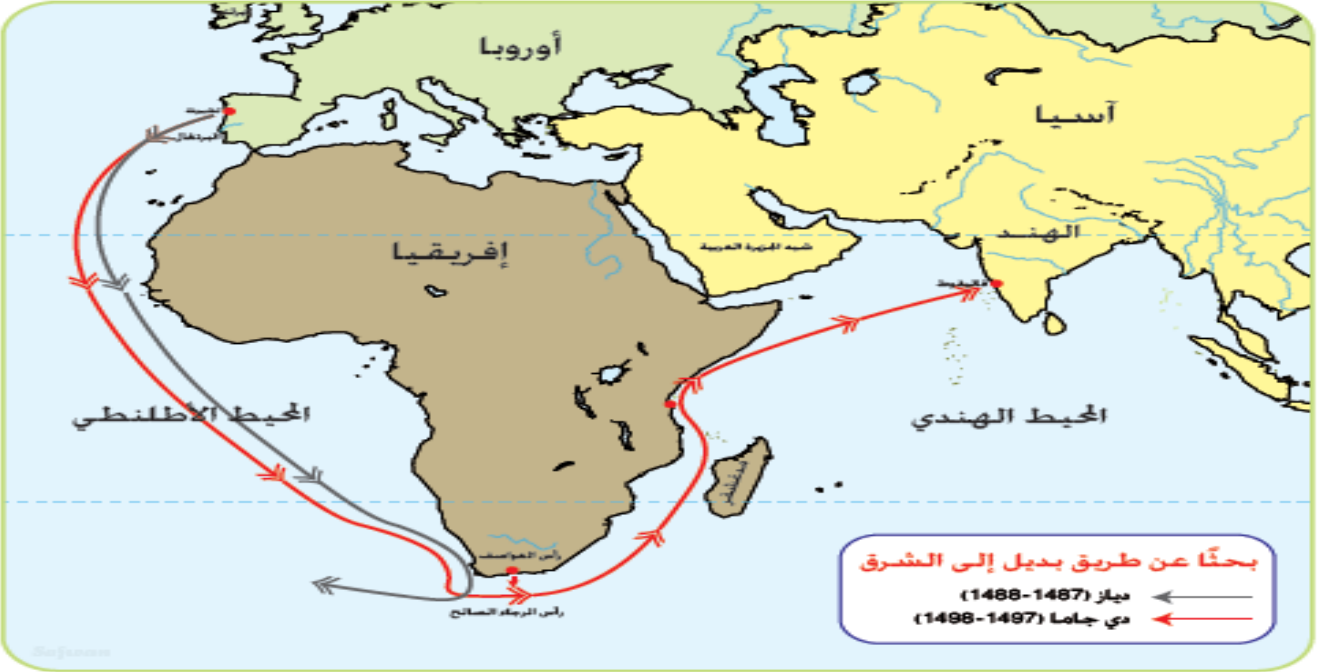
النتائج الاقتصاديّة

النتائج الدينيّة

سؤال 48

لاحظ خريطة طريق رأس الرّجاء الصّالح، ثمّ اختر الإجابة الصحيحة

رؤية المدرسة: شخصية قيادية مدعة لجيل واع يسمو لتطوير ذاته ووطنه وأمته
رسالة المدرسة: مدرسة براعم العين الخاصة تهدف إلى تعليم متميز لإعداد جيل واع يستفيد من قدراته ويواجه تحديات العصر طبقاً للمنظومة التربوية



مَنْ أَوَّلُ مَنْ اسْتَعْدَمَ "طَرِيقَ رَأْسِ الرِّجَاءِ الصَّالِحِ" لِلوَصُولِ إِلَى الْهِنْدِ؟

.أَمْرِيكو فيسبوتشي

.بارتلميو دياز

.فاسكو دي جاما

.كريستوفر كولمبس

سؤال 49

:لَا حِظَّ خَرِيطَةَ قَارَّةِ أَوْرُوبَا، ثُمَّ اخْتَرِ الْإِجَابَاتِ الصَّحِيحَةَ



رؤية المدرسة: شخصية قيادية مبدعة لجيل واع يسمو لتطوير ذاته ووطنه وأمته
رسالة المدرسة: مدرسة براعم العين الخاصة تهدف إلى تعليم متميز لإعداد جيل واع يستفيد من قدراته ويواجه تحديات العصر طبقاً للمنظومة التربوية

حدِّدِ المُسَطَّحاتِ المائيَّةِ الَّتِي تطلُّ عليها قارَّةُ أوروبَّا

المُحيطُ المُتجمِّدُ الشَّماليُّ

البَحْرُ الأَحْمَرُ

المُحيطُ الأَطْلانْطِيُّ

البَحْرُ الكارِيبِيُّ

المُحيطُ الهِنْدِيُّ

البَحْرُ المُتوسِّطُ

سؤال 50

اقرأ، ثُمَّ اختَرِ الإجابةَ الصَّحيحةَ

تعدُّ حركةُ الكُشوفِ الجُغرافيَّةِ الأوروبِّيَّةِ مِنْ أهمِّ ملامحِ القرنِ الخامسِ عَشَرَ المِيلاديِّ، حيثُ إنَّها غيَّرتْ خريطةَ العالمِ، وقدَّ قامتْ بها مجموعةٌ مِنَ الدُّولِ الاستعماريَّةِ وعلى رأسِها البرتغالُ وإسبانيا.

أينَ انتقلَ مركزُ التِّجارةِ بعدَ حركةِ الكُشوفِ الجُغرافيَّةِ الأوروبِّيَّةِ؟

انتقلَ مركزُ التِّجارةِ إلى غربِ الأمريكيتين

انتقلَ مركزُ التِّجارةِ إلى غربِ أوروبَّا

انتقلَ مركزُ التِّجارةِ إلى غربِ أُستراليا

انتقلَ مركزُ التِّجارةِ إلى غربِ آسيا

سؤال 51

اقرأ، ثُمَّ اختَرِ الإجابةَ الصَّحيحةَ

من النتائج السياسية لحركة الكشوف الجغرافية الأوروبية بناء الأساطيل الضخمة الحديثة

ما الهدف من بناء تلك الأساطيل الضخمة الحديثة؟

نقل السياح الأوروبيين للقيام بجولات سياحية في العالم الجديد

نقل الرقيق الأفارقة إلى مستعمرات العالم الجديد

نقل التجارة الأوروبية ومبادلتها بتجارة أخرى من العالم الجديد

بسط السيطرة على ممتلكات الدول المستعمرة في العالم الجديد

سؤال 52

اسحب كل مصطلح مرتبط بعصر النهضة الأوروبية إلى مكانه الصحيح في الجدول

عصر النهضة الأوروبية			
أوروبًا	عصر النهضة	الهرطقة	النهضة
البدعة أو الخروج على العقيدة المُعترف بها من قبل الكنيسة أو على جزء منها	الترجمة الحرفية لكلمة Renaissance اللاتينية، أي البعث والإحياء	المرحلة الانتقالية ما بين العصور الوسطى والعصور الحديثة في أوروبا	ابنة العنقاء أو غروب الشمس

سؤال 53

اقرأ، ثم اختر الإجابة الصحيحة

مايكل أنجلو رسّام، ونحات، ومهندس، وشاعر إيطالي، صمّم بعد عام 1538 م تخطيطاً لميدان المركز المدني لروما والمبنى المُواجه له، وكانت آخر أعماله التي أنجزها لوحات جصية في كنيسة "القديس بول" في الفاتيكان، كما كتب أنجلو العديد من القصائد الشعرية ورسم لوحات جدارية عملاقة، أثرت بصورة كبيرة على منحى الفن التشكيلي الأوروبي، مثل لوحة يوم القيامة

كيف أثرت أعمال مايكل أنجلو على أوروبا؟

أثرت على الحياة الاجتماعية الأوروبية.

أثرت على منحى الفن التشكيلي الأوروبي.

أثرت على الحياة السياسية الأوروبية.


أثرت على جوانب الاقتصاد الأوروبي.

سؤال 54

لاحظ صورة "الموناليزا"، ثم اختر الإجابة الصحيحة:



حدد من صور رواد عصر النهضة الآتية من يرتبط اسمه بصورة الموناليزا :



مايكل أنجلو

روية المدرسة: شخصية قيادية مدعة لجيل واع يسمو لتطوير ذاته ووطنه وأمتة
رسالة المدرسة: مدرسة براعم العين الخاصة تهدف إلى تعليم متميز لإعداد جيل واع يستفيد من قدراته ويواجه تحديات العصر طبقاً للمنظومة التربوية



أراسموس الروترdami



ليوناردو دافينشي



مكيافيلي

سؤال 55

اسحب كَلَّ عملٍ مِنْ أعمالِ رُوَادِ عصرِ النَّهضةِ الأوروبيَّةِ إلى مكانِهِ الصَّحِيحِ في الجدول.

روية المدرسة: شخصية قيادية مدعة لجيل واع يسمو لتطوير ذاته ووطنه وأمتة
رسالة المدرسة: مدرسة براعم العين الخاصة تهدف إلى تعليم متميز لإعداد جيل واع يستفيد من قدراته ويواجه تحديات العصر طبقاً للمنظومة التربوية

الأعمال	زوّادُ عصر النهضة
"كتابُ" الكوميديا الإلهية	مايكل أنجلو
لوحةُ يوم القيامة	دانتي
"كتابُ" مدحُ الجنون	جون كالفن
" كتابُ " الأمير	أراسموس
"كتابُ" تأسيس الديانة المسيحية	ميكافيلي

سؤال 56

اقرأ، ثم اختر الإجابة الصحيحة

كان أراسموس الروترdami يسخرُ من العصور الوسطى ويرى أنها عصورٌ جهلٍ وتخلفٍ، ودعا إلى إصلاح العقيدة. نشر النسخة الإغريقية الأصلية للإنجيل، وأرفقها بالترجمة اللاتينية على أمل وضع حدٍ للخلافات الدينية. من أشهر كتبه (مدح الجنون)

ما هدف أراسموس الروترdami من تأليف كتاب (مدح الجنون)؟

ليشرح فيه قواعد اللغة اللاتينية

لينتقد فيه انحطاط عصره وفساده

ليوضح فيه الاختلافات الدينية بين الأديان

لِيُبْرَزَ فِيهِ مَزَايَا عَصْرِهِ وَإِجَابِيَّاتِهِ

سؤال 57

اقرأ، ثم اختر الإجابة الصحيحة

وُلِدَ "ميكافيلي" في "فلورنسا" وقد تلقى قسطاً مناسباً من التعليم، وكتب كتاباً سياسياً أسماه "ب" الأمير"، والذي كان سبباً في شهرته، وهو رسالة في نظم الحكم من وجهة نظره

ما هدف ميكافيلي من تأليف كتاب "الأمير"؟

تحقيق الوحدة الثقافية الفرنسية بدلاً من تفككها

تحقيق الوحدة الاجتماعية الإنجليزية بدلاً من تفككها

تحقيق الوحدة السياسية الإيطالية بدلاً من تفككها

تحقيق الوحدة الاقتصادية الأوروبية بدلاً من تفككها

سؤال 58

الإجابة الصحيحة اقرأ، ثم اختر

كوبرنيكوس عالم بولندي خالف آراء العالم اليوناني بطليموس التي تبنتها الكنيسة، والقائلة بأن الأرض ساكنة وموقعها في مركز الكون الدائر حولها، فبادر كوبرنيكس بنقد تلك الآراء وأثبت أن الأرض وجميع الكواكب تدور حول الشمس كما تدور الأرض حول نفسها مرة كل 24 ساعة، ولقد أثبتت النظريات الحديثة صدق نظرية كوبرنيكوس في حركة الأرض

في ضوء الفقرة السابقة، ما المجال الذي خالف فيه العالم كوبرنيكوس آراء العالم اليوناني بطليموس؟

المجال الديني

المجال العلمي

المجال الاقتصادي

المجال السياسي

اقرأ، ثم اختر الإجابة الصحيحة

يُعتبرُ كتابُ الكوميديا الإلهية لـ (دانتي) دائرةَ معارفٍ، حيثُ إنَّهُ جمعَ العديدَ منَ الثقافاتِ، وظهرَ بوضوحٍ تأثيرُهُ بالثقافةَ العربيَّةِ.

ما الهدفُ منَ تأليفِ دانتي لكتابِ الكوميديا الإلهيةِ؟

ليشرحَ فيه بعضَ النظرياتِ العلميَّةِ الأوروبيَّةِ

ليُعطيَ عبرةً لأبناءِ عصرِهِ الذينَ انغمَسوا في ملذَّاتِ الحياةِ

ليُعيِّدَ فيه الجوانبَ الإيجابيةَ للثقافةِ الغربيَّةِ

ليُوضِّحَ فيه تأثيرَ الثقافاتِ المُختلفةِ على المُجتمعِ

لاحظِ الصورة، ثمَّ اختر الإجابةَ الصحيحةَ

الأهداف العلمية لمشروع الإمارات لاستكشاف المريخ

1000 جيجابايتس من البيانات الجديدة المرسلة عن المريخ خلال عامين

متابعة حالة الطقس باستمرار
كيفية تفاعل عناصر الجو مع بعضها ومع جغرافيا الكوكب

فهم التغيرات المناخية على سطح الكوكب الأحمر
بناء نموذج متكامل للتغيرات اليومية والموسمية

فهم العلاقة والتفاعلات بين طبقات الغلاف الجوي
كيف يؤثر ما يحدث في الطبقة السفلى من الغلاف الجوي في كوكب المريخ على الطبقة العليا

اكتشاف أسباب تآكل الغلاف الجوي لكوكب المريخ
فما أدى إلى انعدام البيئة المناسبة للحياة على الكوكب

أول صورة متكاملة للغلاف الجوي للمريخ
يهدف مشروع الإمارات لاستكشاف المريخ إلى فهم أعمق وأوسع للغلاف الجوي من خلال رسم علاقات واضحة بين طبقاته وتأثير مكوناتها على طقسه ومناخه.

الهروب الأكسجين والهيدروجين

الهروب الأكسجين والهيدروجين

بخار ماء

غيوم من ثاني أكسيد الكربون

غيوم جليدية

عواصف غبار

رؤية المدرسة: شخصية قيادية مبدعة لجيل واع يسمو لتطوير ذاته ووطنه وأمتة
رسالة المدرسة: مدرسة براعم العيون الخاصة تهدف إلى تعليم متميز لإعداد جيل واع يستفيد من قدراته ويواجه تحديات العصر طبقاً للمنظومة التربوية

